



**REGISTRATION NUMBER : 2201352108**  
**CANDIDATES NAME: MOCKTIME.COM**  
**EXAM NAME : SSC CHSL**  
**EXAM DURATION : 01:00 Hrs**  
**TOTAL MARKS : 200**  
**TOTAL NO OF QUESTIONS : 100**

**QID : 1 -**

In the following question, select the number which can be placed at the sign of question mark (?) from the given alternatives.

निम्नलिखित प्रश्न में दिए गए विकल्पों में से प्रश्न चिह्न (?) के स्थान पर आने वाली संख्या को चुनिए।

3	1	8
4	6	9
2	5	2
24	30	?

**Options:**


- 1) 36
- 2) 72
- 3) 144
- 4) 288

**Correct Answer: 144**

**QID : 2 -**

How many triangles are there in the given figure?

दी गई आकृति में कितने त्रिभुज हैं?



**Options:**

- 1) 4
- 2) 6
- 3) 7
- 4) 8

**Correct Answer: 8**

**QID : 3 -**

A word is represented by only one set of numbers as given in any one of the alternatives. The sets of numbers given in the alternatives are represented by two classes of alphabets as shown in the given two matrices. The columns and rows of **Matrix-I** are numbered from 0 to 4 and that of **Matrix-II** are numbered from 5 to 9. A letter from these matrices can be represented first by its row and next by its column, for example, 'A' can be represented by 24, 95, etc., and 'M' can be represented by 11, 66, etc. Similarly, you have to identify the set for the word "CALF".

एक शब्द केवल एक संख्या-समूह द्वारा दर्शाया गया है, जैसा कि विकल्पों में से किसी एक में दिया गया है। विकल्पों में दिए गए संख्या-समूह अक्षरों के दो वर्गों द्वारा दर्शाए गए हैं, जैसा कि दिए गए दो आव्यूहों में है। आव्यूह-I के स्तम्भ और पंक्ति की संख्या 0 से 4 है और आव्यूह-II की 5 से 9। इन आव्यूहों से एक अक्षर को पहले उसकी पंक्ति और बाद में स्तम्भ संख्या द्वारा दर्शाया जा सकता है। उदाहरण के लिए 'A' को 24, 95, आदि द्वारा दर्शाया जा सकता है तथा 'M' को 11, 66, आदि द्वारा दर्शाया जा सकता है। इसी तरह से आपको प्रश्न में दिए शब्द "CALF" के लिए समूह को पहचानना है।

Matrix-I आव्यूह-I					Matrix-II आव्यूह-II						
	0	1	2	3	4		5	6	7	8	9
0	A	C	E	G	I	5	I	K	D	F	X
1	K	M	O	Q	S	6	G	M	B	H	V
2	U	W	Y	B	A	7	E	O	Y	J	T
3	F	H	J	L	N	8	C	F	W	L	R
4	P	R	T	V	X	9	A	S	U	N	P

**Options:**

- 1) 85, 01, 33, 31
- 2) 02, 00, 88, 30
- 3) 01, 95, 88, 58
- 4) 85, 00, 89, 87

**Correct Answer: 01, 95, 88, 58**

**QID : 4 -**

From the given answer figures, select the one in which the question figure is hidden/embedded.

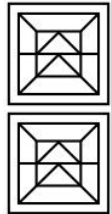
दी गई उत्तर आकृतियों में से उस उत्तर आकृति को चुनिए जिस में प्रश्न आकृति निहित है।



**Options:**

- 1)
- 2)
- 3)
- 4)

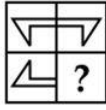
**Correct Answer:**



**QID : 5 -**

Which answer figure will complete the pattern in the question figure?

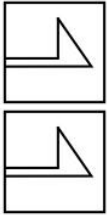
कौन सी उत्तर आकृति प्रश्न आकृति के प्रतिरूप को पूरा करेगी?



**Options:**

- 1)
- 2)
- 3)
- 4)

**Correct Answer:**



**QID : 6 -**

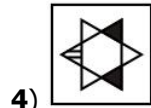
If a mirror is placed on the line AB, then which of the answer figures is the right image of the given figure?

यदि एक दर्पण को AB रेखा पर रखा जाए, तो दी गई उत्तर आकृतियों में से कौन सी आकृति प्रश्न आकृति की सही प्रतिबिम्ब होगी?

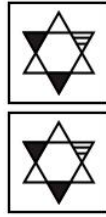


**Options:**

- 1)
- 2)
- 3)




**4) Correct Answer:**



**QID : 7 -**

A piece of paper is folded and punched as shown below in the question figures. From the given answer figures, indicate how it will appear when opened?

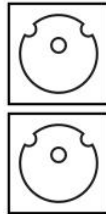
नीचे के प्रश्न आकृतियों में दिखाए अनुसार कागज को मोड़कर छेदने तथा खोलने के बाद वह किस उत्तर आकृति जैसा दिखाई देगा?



**Options:**

- 1)
- 2)
- 3)
- 4)

**Correct Answer:**



**QID : 8 -** If '+' means '-', '-' means 'x', 'x' means '÷' and '÷' means '+', then

**12 x 6 ÷ 4 = ?**

यदि '+' का अर्थ '-', '-' का अर्थ 'x', 'x' का अर्थ '÷' तथा '÷' का अर्थ '+' हो, तो

**12 x 6 ÷ 4 = ?**

**Options:**

- 1) 4
- 2) 8
- 3) 6
- 4) 2

**Correct Answer: 6**

**QID : 9** - If  $48 + 18 = 30$  and  $27 + 15 = 12$ , then  $55 + 20 = ?$

यदि  $48 + 18 = 30$  तथा  $27 + 15 = 12$  हो, तो  $55 + 20 = ?$

**Options:**

- 1) 77
- 2) 35
- 3) 27
- 4) 50

**Correct Answer:** 35

**QID : 10** - Arrange the given words in the sequence in which they occur in the dictionary.

1. Nasty
2. Niggle
3. Nine
4. Normal
5. Normandy

निम्नलिखित शब्दों को शब्दकोश में आने वाले क्रम के अनुसार लिखें।

1. Nasty
2. Niggle
3. Nine
4. Normal
5. Normandy

**Options:**

- 1) 13254
- 2) 13245
- 3) 12345
- 4) 12354

**Correct Answer:** 12345

**QID : 11** - In the following question, select the missing number from the given alternatives.

**36, 41, 47, ?, 62, 71**

निम्नलिखित प्रश्न में दिए गए विकल्पों में से लुप्त अंक ज्ञात कीजिए।

**36, 41, 47, ?, 62, 71**

**Options:**

- 1) 52
- 2) 54
- 3) 53
- 4) 55

**Correct Answer:** 54

**QID : 12** - A series is given with one term missing. Select the correct alternative from the given ones that will complete the series.

**EGF, HJI, KML, ?**

एक अनुक्रम दिया गया है, जिसमें से एक पद लुप्त है। दिए गए विकल्पों में से वह सही विकल्प चुनिए, जो अनुक्रम को पूरा करे।

**EGF, HJI, KML, ?**

**Options:**

- 1) OPN
- 2) ONP
- 3) NOP
- 4) NPO

**Correct Answer:** NPO

**QID : 13** - In the following question, select the odd word from the given alternatives.

निम्नलिखित प्रश्न में दिए गए विकल्पों में से विषम शब्द को चुनिए।

**Options:**

- 1) Book

पुस्तक

- 2) Pen

कलम

- 3) Pencil

पेंसिल

- 4) Marker

मारकर

**Correct Answer:** Book

पुस्तक

पुस्तक

**QID : 14** - In the following question, select the odd number pair from the given alternatives.

निम्नलिखित प्रश्न में दिए गए विकल्पों में से विषम संख्या युग्म को चुनिए।

**Options:**

- 1) 49 : 13
- 2) 58 : 15
- 3) 69 : 15
- 4) 74 : 11

**Correct Answer:** 58 : 15

**QID : 15** - In the following question, select the odd letters from the given alternatives.

निम्नलिखित प्रश्न में दिए गए विकल्पों में से विषम अक्षरों को चुनिए।

**Options:**

- 1) UW
- 2) OQ
- 3) IK
- 4) AD

**Correct Answer:** AD

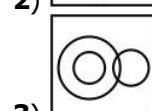
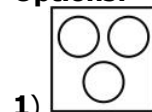
**QID : 16** - Identify the diagram that best represents the relationship among the given classes.

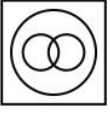
**Male, Female, Humans**

वह आरेख चुनिए जो नीचे दिए गए वर्गों के बीच के संबंध का सही निरूपण करता है।

**पुरुष, महिला, मनुष्य**

**Options:**





4)

**Correct Answer:****QID : 17** - In the following question, select the related word pair from the given alternatives.**Pen : Write :: Knife : ?**

निम्नलिखित प्रश्न में दिए गए विकल्पों में से संबंधित शब्द युग्म को चुनिए।

**कलम : लिखना :: चाकू : ?****Options:**

1) Join

जोड़ना

2) Erase

मिटाना

3) Cut

काटना

4) Wood

लकड़ी

**Correct Answer:** Cut

काटना

काटना

**QID : 18** - In the following question, select the related number from the given alternatives.**43 : 12 :: 39 : ?**

निम्नलिखित प्रश्न में दिए गए विकल्पों में से संबंधित संख्या को चुनिए।

**43 : 12 :: 39 : ?****Options:**

1) 62

2) 27

3) 14

4) 10

**Correct Answer:** 27**QID : 19** - In the following question, select the related letters from the given alternatives.**AD : EI :: KX : ?**

निम्नलिखित प्रश्न में दिए गए विकल्पों में से संबंधित अक्षरों को चुनिए।

**AD : EI :: KX : ?****Options:**

1) OC

2) ND

3) PC

4) PD

**Correct Answer:** OC**QID : 20** - In the following question, select the word which cannot be formed using the letters of the given word.**PROJECTIONS**

निम्नलिखित विकल्पों में से वह शब्द चुनिए जो दिए गए शब्द के अक्षरों का प्रयोग करके नहीं बनाया जा सकता।

**PROJECTIONS****Options:**

1) POISON

2) INJECTION

3) PROJECT

4) SECTION

**Correct Answer:** INJECTION**QID : 21** - The ratio of present ages of Raj and Aman is 4 : 3. After 5 years age of Aman will be 23 years. What is the present age (in years) of Raj?

राज तथा अमन की वर्तमान आयु का अनुपात 4 : 3 है। 5 वर्ष पश्चात, अमन की आयु 23 वर्ष हो जाएगी। राज की वर्तमान आयु (वर्षों में) क्या है?

**Options:**

1) 26

2) 28

3) 24

4) 20

**Correct Answer:** 24**QID : 22** - Kamal is 13<sup>th</sup> from left end of a row and 14<sup>th</sup> from right end of the row. How many total people are there in the row?

कमल एक पंक्ति के बायें छोर से 13-वाँ तथा दायें छोर से 14-वाँ है। पंक्ति में कुल कितने लोग हैं?

**Options:**

1) 26

2) 27

3) 25

4) 28

**Correct Answer:** 26**QID : 23** - In the following question below are given some statements followed by some conclusions. Taking the given statements to be true even if they seem to be at variance from commonly known facts, read all the conclusions and then decide which of the given conclusion logically follows the given statements.**Statements:**

I. All chairs are tables.

II. Some chairs are pencils.

**Conclusions:**

I. All tables are chairs.

II. Some pencils are chairs.

नीचे दिए गए प्रश्न में कुछ कथन और उनके बाद उन कथनों पर आधारित कुछ निष्कर्ष दिए गए हैं, हालांकि उनमें सामान्य ज्ञात तथ्यों से भिन्नता हो सकती है। सभी निष्कर्ष पढ़ें और फिर निर्धारित करें कि दिए गए कौन से निष्कर्ष, दिए गए कथनों के आधार पर युक्तिसंगत हैं।

**कथन:**

I. सभी कुर्सियाँ मेज़ हैं।

II. कुछ कुर्सियाँ पेंसिल हैं।

**निष्कर्ष:**

I. सभी मेज़ कुर्सियाँ हैं।

II. कुछ पेंसिल कुर्सियाँ हैं।

**Options:**

1) Only conclusion (I) follows.

केवल निष्कर्ष (I) सही है।

2) Only conclusion (II) follows.

केवल निष्कर्ष (II) सही है।

3) Both conclusion follow.

दोनों ही निष्कर्ष सही हैं।

4) Neither conclusion (I) nor conclusion (II) follows.

न तो निष्कर्ष (I) न ही निष्कर्ष (II) सही है।

**Correct Answer:** Only conclusion (II) follows.

केवल निष्कर्ष (II) सही है।

केवल निष्कर्ष (II) सही है।

**QID : 24** - In a certain code language, "VERBAL" is written as "ZIVFEP". How is "REASONING" written in that code language?

एक विशिष्ट कोड भाषा में, "VERBAL" को "ZIVFEP" लिखा जाता है। इस कोड भाषा में "REASONING" को किस प्रकार लिखा जाएगा?

**Options:**

1) VIEWSRMRK

2) VIKXSRMRK

3) VIEWSTMRK

4) VIEWSRNSM

**Correct Answer:** VIEWSRMRK

**QID : 25** - In a certain code language, "PARK" is written as "TEVO". How is "TALK" written in that code language?

एक विशिष्ट कोड भाषा में, "PARK" को "TEVO" लिखा जाता है। इस कोड भाषा में "TALK" को किस प्रकार लिखा जाएगा?

**Options:**

1) XEPO

2) XEPP

3) XEOP

4) XDPO

**Correct Answer:** XEPO

**QID : 26** - What is the value of  $1^3 + 2^3 + 3^3 + \dots + 10^3$ ?

$1^3 + 2^3 + 3^3 + \dots + 10^3$  का मान क्या है?

**Options:**

1) 5500

2) 3025

3) 6025

4) 2975

**Correct Answer:** 3025

**QID : 27** - What is the value of  $34 \div 17 \times 2 + 4$ ?

$34 \div 17 \times 2 + 4$  का मान क्या है?

**Options:**

1) 8

2) 16

3) 5

4) 6

**Correct Answer:** 8

**QID : 28** - What is the LCM of  $18/5$  and  $20/9$ ?

$18/5$  तथा  $20/9$  का लघुत्तम समापवर्त्य क्या है?

**Options:**

1) 60

2) 12

3) 30

4) 180

**Correct Answer:** 180

**QID : 29** - If  $34P7$  is divisible by 11, then what is the value of P?

यदि  $34P7$ , 11 से विभाजित है, तो P का मान क्या है?

**Options:**

1) 2

2) 4

3) 6

4) 8

**Correct Answer:** 8

**QID : 30** - What is the value of  $(37 + 23)^2 + (37 - 23)^2$ ?  
 $(37 + 23)^2 + (37 - 23)^2$  का मान क्या है?

**Options:**

1) 1898

2) 3796

3) 2838

4) 2427

**Correct Answer:** 3796

**QID : 31** - Which fraction among  $3/7$ ,  $4/11$  and  $5/8$  is the smallest?

$3/7$ ,  $4/11$  तथा  $5/8$  में कौन सा भिन्न छोटा है?

**Options:**

1)  $3/7$

2)  $4/11$

3)  $5/8$

4) All are equal

सभी बराबर हैं

**Correct Answer:**  $4/11$

**QID : 32** - Three taps P, Q and R together can completely fill a tank in 40 minutes. Q and R together can fill the same tank in 80 minutes. In how much time (in minutes) P alone can fill the tank?

P, Q तथा R मिलकर एक टंकी को 40 मिनट में पूरी तरह भर सकते हैं। Q तथा R मिलकर उस टंकी को 80 मिनट में भर सकते हैं। P अकेला कितने समय (मिनट में) में टंकी को भर सकता है?

**Options:**

1) 40

2) 60

3) 80

4) 120

**Correct Answer:** 80

**QID : 33** - Two taps X and Y together can fill a tank in 36 hours, Y and Z in 48 hours and X and Z in 72 hours. If

all the three taps are opened, then in how much time (in hours) the tank will be completely filled?

दो नल X तथा Y, एक टंकी को 36 घंटे में भर सकते हैं, Y तथा Z, 48 घंटे में तथा X तथा Z, 72 घंटे में भर सकते हैं। यदि तीनों नल खुले हों, तो कितने समय में (घंटों में) टंकी पूरी तरह भर जाएगी?

**Options:**

- 1) 16
- 2) 32
- 3) 22
- 4) 36

**Correct Answer:** 32

**QID : 34** - The side of an equilateral triangle is equal to the diagonal of the square. If the side of the square is 12 cm, then what is the area of the equilateral triangle?

एक समबाहु त्रिभुज की भुजा वर्ग के विकर्ण के बराबर है। यदि वर्ग की भुजा 12 से.मी. है, तो समबाहु त्रिभुज का क्षेत्रफल क्या है?

**Options:**

- 1)  $50\sqrt{2}$
- 2)  $50\sqrt{3}$
- 3)  $72\sqrt{3}$
- 4)  $100\sqrt{3}$

**Correct Answer:**  $72\sqrt{3}$

**QID : 35** - After giving a discount of 35%, there is a loss of 7.14%. If only 20% discount is given, then what will be the profit percentage?

35% की छूट देने के बाद, 7.14% की हानि होती है। यदि केवल 20% छूट दी जाए, तो लाभ का प्रतिशत क्या होगा?

**Options:**

- 1) 11.11
- 2) 12.5
- 3) 14.28
- 4) 16.66

**Correct Answer:** 14.28

**QID : 36** - Marked price of an article is Rs 5000. It is purchased at a discount of 20%. If Rs 200 are spent on its repairs, then to gain 15% profit, what should be the selling price (in Rs)?

एक वस्तु का अंकित मूल्य 5000 रु है। उसको 20% की छूट पर खरीदा जाता है। यदि 200 रु उसकी मरम्मत पर लगाए जाए, तो 15% का लाभ कमाने के लिए विक्रय मूल्य (रु में) क्या होना चाहिए?

**Options:**

- 1) 4830
- 2) 4600
- 3) 5570
- 4) 5200

**Correct Answer:** 4830

**QID : 37** - 120 is divided into two parts in such a way that the seventh part of first and the fifth part of second are in the ratio 5 : 17 what will be the value of second part?

120 को दो भागों में इस प्रकार विभाजित किया गया की पहले का साँतवा हिस्सा तथा दूसरे का पाँचवा हिस्सा 5 : 17 के अनुपात में है। दूसरे भाग का मान क्या होगा?

**Options:**

- 1) 85
- 2) 68
- 3) 51
- 4) 35

**Correct Answer:** 85

**QID : 38** - Two numbers are in the ratio of 5 : 7. If 15 is subtracted from both the numbers then ratio becomes 2 : 3. What will be the sum of two numbers?

दो संख्याओं का अनुपात 5 : 7 है। यदि दोनों संख्याओं में से 15 घटा दिया जाए, तो अनुपात 2 : 3 हो जाता है। दोनों संख्याओं का योग क्या होगा?

**Options:**

- 1) 120
- 2) 150
- 3) 180
- 4) 140

**Correct Answer:** 180

**QID : 39** - Average of 15 consecutive numbers is 18. If each number is divided by 2, then what will be the new average?

15 क्रमागत संख्याओं का औसत 18 है। यदि सभी संख्या को 2 से विभाजित किया जाए, तो नया औसत क्या होगा?

**Options:**

- 1) 15
- 2) 9
- 3) 12
- 4) 18

**Correct Answer:** 9

**QID : 40** - An article is purchased for Rs 7500 and sold for Rs 9375. What is the profit%?

एक वस्तु को 7500 रु में खरीदा जाता है तथा 9375 रु में बेचा जाता है। लाभ% क्या है?

**Options:**

- 1) 20
- 2) 18
- 3) 25
- 4) 27

**Correct Answer:** 25

**QID : 41** - An article is sold for Rs 8400 at a loss of 25%, what is the cost price (in Rs) of the article?

एक वस्तु को 25% की हानि पर 8400 रु में बेचा जाता है। वस्तु का क्रय मूल्य (रु में) क्या है?

**Options:**

- 1) 14400
- 2) 12400
- 3) 11200
- 4) 10800

**Correct Answer:** 11200

**QID : 42** -

What is the value of  $\frac{(20\% \text{ of } 120) + (25\% \text{ of } 48)}{4\% \text{ of } 25}$  ?

$\frac{(20\% \text{ of } 120) + (25\% \text{ of } 48)}{4\% \text{ of } 25}$  का मान क्या है?

**Options:**

- 1) 12
- 2) 48
- 3) 36
- 4) 24

**Correct Answer:** 36

**QID : 43 -**

What is the value of  $\frac{(30\% \text{ of } 360) + (11\% \text{ of } 200)}{2\% \text{ of } 400}$  ?

$\frac{(30\% \text{ of } 360) + (11\% \text{ of } 200)}{2\% \text{ of } 400}$  का मान क्या है?

**Options:**

- 1) 16.5
- 2) 15.25
- 3) 14.75
- 4) 16.25

**Correct Answer:** 16.25

**QID : 44 -** A train is moving at a speed of 72 km/h and covers a certain distance in 6 hours. If the same distance is to be covered in 8 hours, then what will be the speed (in km/h) of the train?

एक रेलगाड़ी 72 कि.मी./घंटा की गति से चलते हुए एक निश्चित दूरी को 6 घंटों में तय करती है। यदि वही दूरी 8 घंटों में तय करनी हो, तो रेलगाड़ी की गति (कि.मी./घंटा में) क्या होगी?

**Options:**

- 1) 45
- 2) 54
- 3) 63
- 4) 64

**Correct Answer:** 54

**QID : 45 -** Speed of a boat is 4 km per hour in still water and the speed of the stream is 2 km per hour. If the boat takes 8 hours to go to a place and come back, then what is the distance of the place?

शांत जल में नाव की गति 4 कि.मी./घंटा है तथा धारा की गति 2 कि.मी./घंटा है। यदि नाव 8 घंटे में किसी दूरी तक जाकर वापस आ जाती है, तो दूरी (कि.मी. में) है?

**Options:**

- 1) 12
- 2) 9
- 3) 15
- 4) 18

**Correct Answer:** 12

**QID : 46 -** An amount invested at simple interest gives Rs 800 interest at 16% in 2 years. What is the principal (in Rs)?

एक राशि को 16% की दर से 2 वर्ष के लिए साधारण ब्याज पर निवेश करने से 800 रु ब्याज प्राप्त होता है। मूलधन (रु में) क्या है?

**Options:**

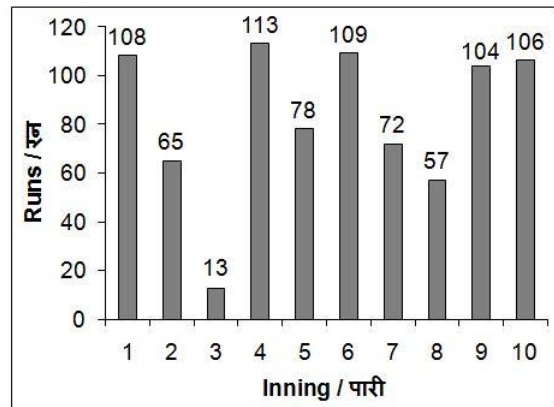
- 1) 4000
- 2) 3500
- 3) 5000
- 4) 2500

**Correct Answer:** 2500

**QID : 47 -**

The bar chart given below shows the runs scored by a batsman in 10 different innings.

नीचे दिए गए दण्ड चित्र में एक बल्लेबाज द्वारा 10 भिन्न पारियों में बनाए गए रनों को दर्शाया है।



In how many innings has the batsman scored more than the average runs?

कितनी पारियों में बल्लेबाज ने औसत रनों से अधिक रन बनाए हैं?

**Options:**

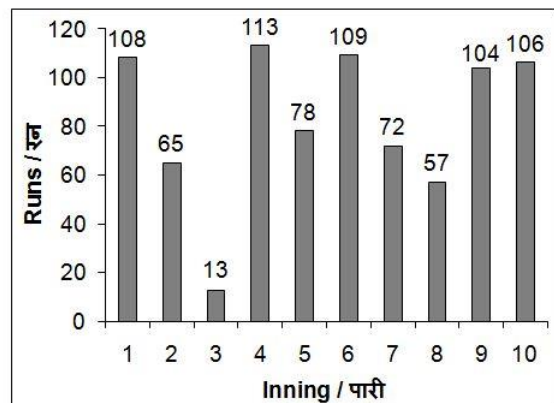
- 1) 5
- 2) 7
- 3) 6
- 4) 8

**Correct Answer:** 5

**QID : 48 -**

The bar chart given below shows the runs scored by a batsman in 10 different innings.

नीचे दिए गए दण्ड चित्र में एक बल्लेबाज द्वारा 10 भिन्न पारियों में बनाए गए रनों को दर्शाया है।





Runs scored in inning 1 is what percent of runs scored in inning 5?

पारी 1 में बनाए गए रन, पारी 5 में बनाए गए रनों का कितना प्रतिशत है?

**Options:**

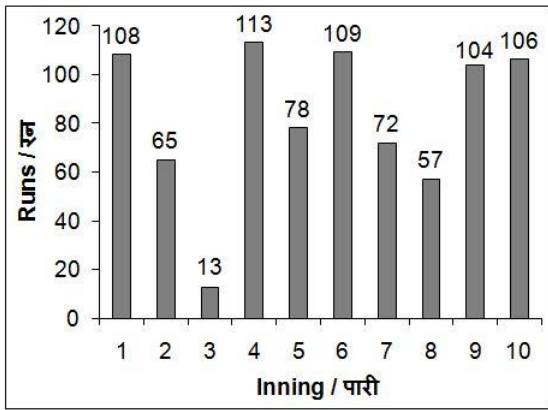
- 1) 131.29%
- 2) 138.46%
- 3) 126.17%
- 4) 142.93%

**Correct Answer:** 138.46%

**QID : 49 -**

The bar chart given below shows the runs scored by a batsman in 10 different innings.

नीचे दिए गए दण्ड चित्र में एक बल्लेबाज द्वारा 10 भिन्न पारियों में बनाए गए रनों को दर्शाया है।



What are the average runs per innings?  
प्रति पारी औसतन रन कितने हैं?

**Options:**

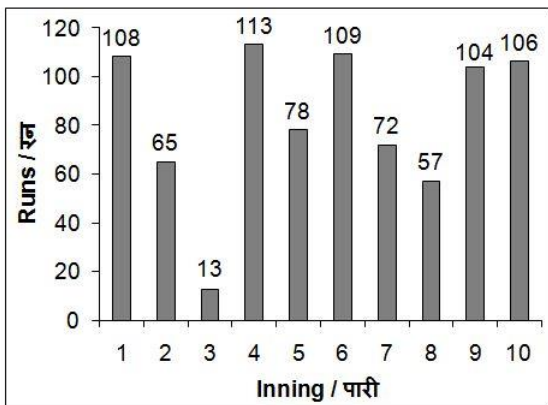
- 1) 78.5
- 2) 82.5
- 3) 80.6
- 4) 85

**Correct Answer:** 82.5

**QID : 50 -**

The bar chart given below shows the runs scored by a batsman in 10 different innings.

नीचे दिए गए दण्ड चित्र में एक बल्लेबाज द्वारा 10 भिन्न पारियों में बनाए गए रनों को दर्शाया है।



The runs of first 5 innings are added and the value is called S1. The runs of last 5 innings are added and the value is called S2. What is the value of S2-S1?

पहली 5 पारियों के रनों को जोड़ा जाता है तथा उस संख्या को S1 कहा जाता है। आखरी 5 पारियों के रनों को जोड़ा जाता है तथा उस संख्या को S2 कहा जाता है। S2-S1 का मान क्या है?

**Options:**

- 1) 67
- 2) 68
- 3) 73
- 4) 71

**Correct Answer:** 71

**QID : 51 -** In the following question, some part of the sentence may have errors. Find out which part of the sentence has an error and select the appropriate option. If a sentence is free from error, select 'No Error'.

You hereby are requested (1)/ to ensure that any such link is (2)/ immediately removed from your Platforms. (3)/ No Error (4)

**Options:**

- 1) 1
- 2) 2
- 3) 3
- 4) 4

**Correct Answer:** 1

**QID : 52 -** In the following question, some part of the sentence may have errors. Find out which part of the sentence has an error and select the appropriate option. If a sentence is free from error, select 'No Error'.

Power corrupts; (1)/ absolute power (2)/ corrupts absolutely. (3)/ No Error (4)

**Options:**

- 1) 1
- 2) 2
- 3) 3
- 4) 4

**Correct Answer:** 4

**QID : 53 -** In the following question, the sentence given with blank to be filled in with an appropriate word. Select the correct alternative out of the four and indicate it by selecting the appropriate option.

**Kalpna is endowed \_\_\_\_\_ many great qualities.**

**Options:**

- 1) from
- 2) to
- 3) with
- 4) in

**Correct Answer:** with

**QID : 54 -** In the following question, the sentence given with blank to be filled in with an appropriate word. Select the correct alternative out of the four and indicate it by selecting the appropriate option.

**Kashish is a very unhappy person, she \_\_\_\_\_ about almost everything.**

**Options:**

- 1) grumbles
- 2) likes
- 3) enjoys



4) loves

**Correct Answer:** grumbles

**QID : 55** - In the following question, out of the given four alternatives, select the one which best expresses the meaning of the given word.

**Eventual**

**Options:**

- 1) Intermediate
- 2) Preliminary
- 3) Ultimate
- 4) Prior

**Correct Answer:** Ultimate

**QID : 56** - In the following question, out of the given four alternatives, select the one which best expresses the meaning of the given word.

**Forbid**

**Options:**

- 1) Ban
- 2) Grant
- 3) Permit
- 4) Allow

**Correct Answer:** Ban

**QID : 57** - In the following question, out of the given four alternatives, select the one which best expresses the meaning of the given word.

**Fragile**

**Options:**

- 1) Tough
- 2) Sturdy
- 3) Brittle
- 4) Hary

**Correct Answer:** Brittle

**QID : 58** - In the following question, out of the given four alternatives, select the one which is opposite in meaning of the given word.

**Tranquil**

**Options:**

- 1) Violent
- 2) Quiet
- 3) Calm
- 4) Easy

**Correct Answer:** Violent

**QID : 59** - In the following question, out of the given four alternatives, select the one which is opposite in meaning of the given word.

**Shrewd**

**Options:**

- 1) Clever
- 2) Naive
- 3) Brainy
- 4) Artful

**Correct Answer:** Naive

**QID : 60** - In the following question, out of the given four alternatives, select the one which is opposite in meaning of the given word.

**Suspicious**

**Options:**

- 1) Doubtful
- 2) Jealous
- 3) Wondering
- 4) Trustworthy

**Correct Answer:** Trustworthy

**QID : 61** - In the following question, out of the given four alternatives, select the alternative which best expresses the meaning of the Idiom/Phrase.

**At the eleventh hour.**

**Options:**

- 1) The initial moment
- 2) At the last possible moment
- 3) At its usual time
- 4) At the earliest possible time

**Correct Answer:** At the last possible moment

**QID : 62** - In the following question, out of the given four alternatives, select the alternative which best expresses the meaning of the Idiom/Phrase.

**A red letter day.**

**Options:**

- 1) A day when one feels lazy
- 2) A day that is pleasantly noteworthy or memorable
- 3) A sorrowful day
- 4) Most dangerous day of one's life

**Correct Answer:** A day that is pleasantly noteworthy or memorable

**QID : 63** - In the following question, out of the four alternatives, select the alternative which will improve the bracketed part of the sentence. In case no improvement is needed, select "no improvement".

I spoke to **(my all)** friends and finalised the plan.

**Options:**

- 1) my every
- 2) every my
- 3) all my
- 4) No improvement

**Correct Answer:** all my

**QID : 64** - In the following question, out of the four alternatives, select the alternative which will improve the bracketed part of the sentence. In case no improvement is needed, select "no improvement".

The higher the demand, **(the more)** the prices.

**Options:**

- 1) great
- 2) the greater
- 3) high
- 4) No improvement

**Correct Answer:** the greater

**QID : 65** - In the following question, out of the four alternatives, select the alternative which is the best substitute of the phrase.

**The killing of human beings.**

**Options:**

- 1) Homicide
- 2) Patricide
- 3) Suicide
- 4) Infanticide

**Correct Answer:** Homicide

**QID : 66** - In the following question, out of the four alternatives, select the alternative which is the best substitute of the phrase.

**Something which is out of use.**

**Options:**

- 1) Catastrophe
- 2) Obsolete
- 3) Common
- 4) Disaster

**Correct Answer:** Obsolete

**QID : 67** - In the following question, a word has been written in four different ways out of which only one is correctly spelt. Select the correctly spelt word.

**Options:**

- 1) Heihgt
- 2) Hite
- 3) Height
- 4) Hieght

**Correct Answer:** Height

**QID : 68** - In the following question, a word has been written in four different ways out of which only one is correctly spelt. Select the correctly spelt word.

**Options:**

- 1) Guidence
- 2) Giuance
- 3) Giudence
- 4) Guidance

**Correct Answer:** Guidance

**QID : 69** - The question below consists of a set of labelled sentences. Out of the four options given, select the most logical order of the sentences to form a coherent paragraph.

Management is a set of

**P:** technology running smoothly

**Q:** system of people and

**R:** processes that can keep a complicated

**Options:**

- 1) RQP
- 2) QPR
- 3) PQR
- 4) RPQ

**Correct Answer:** RQP

**QID : 70** - The question below consists of a set of labelled sentences. Out of the four options given, select the most logical order of the sentences to form a coherent paragraph.

India is a country

**P:** which respects spiritualism

**Q:** much more

**R:** than materialism

**Options:**

- 1) PRQ
- 2) QPR
- 3) PQR
- 4) QPR

**Correct Answer:** PQR

**QID : 71** - In the following passage some of the words have been left out. Read the passage carefully and select the correct answer for the given blank out of the four alternatives.

The benefits of Internet are \_\_\_\_\_ for lay people.

The most significant advantage Internet can purvey is that it becomes a library that, perhaps. The most \_\_\_\_\_,

the cheapest, and the quickest people can afford. For example, people can use the Internet for any kind of information and knowledge they need such as gender relations in an \_\_\_\_\_ country like Iran without going there physically. Another instance is that a student living in Amazon jungle can learn how to make American cupcake at a push of a button on YouTube, which would save him \_\_\_\_\_ of dollars without a need to visit the USA, with it costing US\$ 1 for internet use at \_\_\_\_\_ cafe.

The most \_\_\_\_\_ of Internet are \_\_\_\_\_ for lay

**Options:**

- 1) unstoppable
- 2) Unachievable
- 3) uncomprehendable
- 4) unthinkable

**Correct Answer:** unthinkable

**QID : 72** - In the following passage some of the words have been left out. Read the passage carefully and select the correct answer for the given blank out of the four alternatives.

The benefits of Internet are \_\_\_\_\_ for lay people.

The most significant advantage Internet can purvey is that it becomes a library that, perhaps. The most \_\_\_\_\_,

the cheapest, and the quickest people can afford. For example, people can use the Internet for any kind of information and knowledge they need such as

gender relations in an \_\_\_\_\_ country like Iran without going there physically. Another instance is that a student living in Amazon jungle can learn how to make

American cupcake at a push of a button on YouTube, which would save him \_\_\_\_\_ of dollars without a need to visit the USA, with it costing US\$ 1 for internet use at \_\_\_\_\_ cafe.

The most \_\_\_\_\_, the cheapest,

\_\_\_\_\_ of Internet are \_\_\_\_\_ for lay

\_\_\_\_\_ of Internet are \_\_\_\_\_ for lay

**Options:**

- 1) unthinkable
- 2) extensive
- 3) limited
- 4) restricted

**Correct Answer:** extensive

**QID : 73** - In the following passage some of the words have been left out. Read the passage carefully and select the correct answer for the given blank out of the four alternatives.

The benefits of Internet are \_\_\_\_\_ for lay people.

The most significant advantage Internet can purvey is that it becomes a library that, perhaps. The most \_\_\_\_\_,

the cheapest, and the quickest people can afford. For example, people can use the Internet for any kind of information and knowledge they need such as

gender relations in an \_\_\_\_\_ country like Iran without going there physically. Another instance is that a student living in Amazon jungle can learn how to make

American cupcake at a push of a button on YouTube, which would save him \_\_\_\_\_ of dollars without a need to visit the USA, with it costing US\$ 1 for internet use at \_\_\_\_\_ cafe.

American cupcake at a push of a button on YouTube, which would save him \_\_\_\_\_ of dollars without a need to visit the USA, with it costing US\$ 1 for internet use at \_\_\_\_\_ cafe.  
\_\_\_\_\_ country like Iran without going

**Options:**

- 1) secluded
- 2) loving
- 3) sacred
- 4) amazing

**Correct Answer:** secluded

**QID : 74** - In the following passage some of the words have been left out. Read the passage carefully and select the correct answer for the given blank out of the four alternatives.

The benefits of Internet are \_\_\_\_\_ for lay people. The most significant advantage Internet can purvey is that it becomes a library that, perhaps. The most \_\_\_\_\_, the cheapest, and the quickest people can afford. For example, people can use the Internet for any kind of information and knowledge they need such as gender relations in an \_\_\_\_\_ country like Iran without going there physically. Another instance is that a student living in Amazon jungle can learn how to make American cupcake at a push of a button on YouTube, which would save him \_\_\_\_\_ of dollars without a need to visit the USA, with it costing US\$ 1 for internet use at \_\_\_\_\_ cafe.

YouTube, which would save him \_\_\_\_\_

**Options:**

- 1) few
- 2) hundreds
- 3) less
- 4) more

**Correct Answer:** hundreds

**QID : 75** - In the following passage some of the words have been left out. Read the passage carefully and select the correct answer for the given blank out of the four alternatives.

The benefits of Internet are \_\_\_\_\_ for lay people. The most significant advantage Internet can purvey is that it becomes a library that, perhaps. The most \_\_\_\_\_, the cheapest, and the quickest people can afford. For example, people can use the Internet for any kind of information and knowledge they need such as gender relations in an \_\_\_\_\_ country like Iran without going there physically. Another instance is that a student living in Amazon jungle can learn how to make American cupcake at a push of a button on YouTube, which would save him \_\_\_\_\_ of dollars without a need to visit the USA, with it costing US\$ 1 for internet use at \_\_\_\_\_ cafe.

US\$ 1 for internet use at \_\_\_\_\_ cafe.

**Options:**

- 1) pizza
- 2) bakery and
- 3) internet
- 4) food and

**Correct Answer:** internet

**QID : 76** - Which of the following economic activities comes under primary sector?

- I. Banking
- II. Dairy
- III. Transport

निम्नलिखित में से कौन से आर्थिक गतिविधियाँ प्राथमिक क्षेत्रक के अंतर्गत आती हैं?

I. बैंक सेवाएँ

II. डेरी

III. परिवहन

**Options:**

- 1) Only I  
केवल I
- 2) Only II  
केवल II
- 3) Only III  
केवल III
- 4) Both I & II  
I तथा II दोनों

**Correct Answer:** Only II

केवल II

केवल I

**QID : 77** - Which of the following sectors is also called a service sector?

निम्नलिखित में से किस क्षेत्रक को सेवा क्षेत्रक भी कहा जाता है?

**Options:**

- 1) Primary sector  
प्राथमिक क्षेत्रक
- 2) Secondary sector  
द्वितीयक क्षेत्रक
- 3) Tertiary sector  
तृतीयक क्षेत्रक
- 4) Quaternary sector  
चतुर्मागात्मक क्षेत्रक

**Correct Answer:** Tertiary sector

तृतीयक क्षेत्रक

प्राथमिक क्षेत्रक

**QID : 78** - The Panchayati Raj System is divided into how many levels of governance?

पंचायती राज व्यवस्था शासन के कितने स्तरों में विभाजित है?

**Options:**

- 1) 1
- 2) 2
- 3) 3
- 4) 4

**Correct Answer:** 3

**QID : 79** - Name the fundamental right in which

"Freedom of speech" is practised.

"अभिव्यक्ति की स्वतंत्रता" किस मौलिक अधिकार के अंतर्गत आती है?

**Options:**

1) Right to Equality

समानता का अधिकार

2) Right to Freedom

स्वतंत्रता का अधिकार

3) Cultural and Educational Rights

सांस्कृतिक और शैक्षणिक अधिकार

4) Rights to constitutional Remedies

संवैधानिक उपचार का अधिकार

**Correct Answer:** Right to Freedom

स्वतंत्रता का अधिकार

संवैधानिक उपचार का अधिकार

**QID : 80** - Who was the son of Bindusara?

बिंदुसार का पुत्र कौन था?

**Options:**

1) Ashoka

अशोक

2) Chandragupta

चन्द्रगुप्त

3) Bimbisara

बिंबिसार

4) Azaat Shatru

आजात शत्रु

**Correct Answer:** Ashoka

अशोक

आजात शत्रु

**QID : 81** - Where did Salt March end?

नमक सत्याग्रह कहाँ पर समाप्त हुआ था?

**Options:**

1) Dandi

दांडी

2) Surat

सूरत

3) Ahmedabad

अहमदाबाद

4) Sabarmati

साबरमती

**Correct Answer:** Dandi

दांडी

दांडी

**QID : 82** - Which is the nearest star to Earth?

पृथ्वी के सबसे निकट कौन सा तारा है?

**Options:**

1) Pole star

ध्रुव तारा

2) Sun

सूर्य

3) Dog star

डॉग स्टार

4) Sirius

सिरियस

**Correct Answer:** Sun

सूर्य

सूर्य

**QID : 83** -

Match the following.

निम्नलिखित का मिलान कीजिए।

Drawing / आरेख	Characteristic / विशेषताएँ
A. Large Scale map बड़े पैमाने वाला मानचित्र	1. Drawing drawn to scale पैमाने की सहायता से खींचा गया
B. Sketch रेखाचित्र	2. Gives more information अधिक जानकारी प्रदान करता है
C. Plan खाका	3. Drawing drawn without scale बिना पैमाने की सहायता से खींचा गया

**Options:**

1) B-2, C-3, A-2

2) A-2, B-3, C-1

3) C-2, B-3, A-1

4) C-2, B-1, A-3

**Correct Answer:** A-2, B-3, C-1

**QID : 84** - What is pollination?

परागण क्या होता है?

**Options:**

1) The transfer of pollen grains from an anther to the stigma of a plant

परागकोशों से वल्लिकाग्र की ओर परागकणों का स्थानान्तरण

2) The germination of pollen grains

परागकणों का अंकुरण

3) Visiting of flowers by ants

पुष्पों का चींटियों द्वारा भ्रमण

4) The growth of pollen tube in the ovule

अण्डाणु में पराग नली की वृद्धि

**Correct Answer:** The transfer of pollen grains from an anther to the stigma of a plant

परागकोशों से वल्लिकाग्र की ओर परागकणों का स्थानान्तरण

**QID : 85** - Name the blood cell which is found in abundance in the human body.

रक्त का कौन सा घटक रक्त में सबसे अधिक मात्रा में पाया जाता है?

**Options:**

1) Red blood cells

लाल रक्त कोशिकाएँ

2) Plasma

प्लाज्मा

3) Blood proteins

रक्त प्रोटीन

4) White blood cells

श्वेत रक्त कोशिका

**Correct Answer:** Plasma

प्लाज्मा

लाल रक्त कोशिकाएँ

**QID : 86** - Which part of the plant prepares food?

पौधे का कौन सा भाग भोजन संश्लेषित करता है?

**Options:**

1) Leaves

पत्तियाँ

2) Roots

जड़े

3) Stem

तना

4) Flowers

फूल

**Correct Answer:** Leaves

पत्तियाँ

फूल

**QID : 87** - Sound is produced by a body only if it

\_\_\_\_\_.

एक पिण्ड तभी ध्वनि उत्पन्न करता है जब वह \_\_\_\_\_।

**Options:**

1) made of steel

इस्पात से बना हो

2) made of hollow wood

खोखली लकड़ी से बना हो

3) made of strings

तार से बना हो

4) vibrating

कम्पन करता हो

**Correct Answer:** vibrating

कम्पन करता हो

**QID : 88** - What constitutes current in a metal wire?

धातु के तार में बिजली का प्रवाह किस से बना है?

**Options:**

1) Electrons

इलेक्ट्रॉन

2) Protons

प्रोटॉन

3) Neutrons

न्यूट्रॉन

4) None of these

इनमें से कोई नहीं

**Correct Answer:** Electrons

इलेक्ट्रॉन

इलेक्ट्रॉन

**QID : 89** - Which of the following is NOT a format of storing the image in computer?

निम्नलिखित में से कौन सा कंप्यूटर में छवि को संगृहीत करने का एक प्रारूप नहीं है?

**Options:**

1) .bmp

2) .png

3) .jpg

4) All are image formats

सभी छवि के प्रारूप हैं

**Correct Answer:** All are image formats

सभी छवि के प्रारूप हैं

**QID : 90** - Name the reducing agent used in the reaction to join railway tracks?

रेलवे पटरियों को जोड़ने के लिए प्रयुक्त होने वाली अभिक्रिया में कौन सा अवकारक शामिल होता है?

**Options:**

1) Aluminum

एल्युमिनियम

2) Nitrogen

नाइट्रोजन

3) Carbon

कार्बन

4) Carbon dioxide

कार्बन डाईऑक्साइड

**Correct Answer:** Aluminum

एल्युमिनियम

**QID : 91** - Which is the most abundant element in the universe?

ब्रह्मांड में सबसे प्रचुर तत्व कौन सा है?

**Options:**

1) Gold

सोना

2) Oxygen

ऑक्सीजन

3) Carbon

कार्बन

4) Hydrogen

हाइड्रोजन

**Correct Answer:** Hydrogen

हाइड्रोजन

हाइड्रोजन

**QID : 92** - Which of the following is a part of organic impurities of sewage?

निम्नलिखित में से कौन सी मलजल की जैविक अशुद्धियों का एक हिस्सा है?

**Options:**

1) Phosphate

फॉस्फेट

2) Urea

यूरिया

3) Carbohydrate

कार्बोहाइड्रेट

4) None of these  
इनमें में से कोई नहीं

**Correct Answer:** Urea  
यूरिया && Carbohydrate  
कार्बोहाइड्रेट

**QID : 93** - Pradhan Mantri Mudra Yojana provides Mudra loan, upto Rs \_\_\_\_\_ lakh.

प्रधानमंत्री मुद्रा योजना \_\_\_\_\_ लाख रु तक का मुद्रा ऋण प्रदान करता है।

**Options:**

1) 10

दस

2) 5

पांच

3) 20

बीस

4) 50

पचास

**Correct Answer:** 10

दस

**QID : 94** - Who gave the 'Raman's Effect'?

रमन प्रभाव' किसने दिया?

**Options:**

1) Galileo Galilei

गैलीलियो गैलिली

2) C V Raman

सी वी रमण

3) Marie Curie

मेरी क्युरी

4) None of these

इनमें से कोई नहीं

**Correct Answer:** C V Raman

सी वी रमण

**QID : 95** - How many players are there in a basketball team?

बास्केटबॉल टीम में कितने खिलाड़ी होते हैं?

**Options:**

1) 3

तीन

2) 4

चार

3) 5

पांच

4) 6

छह

**Correct Answer:** 5

पांच

छह

**QID : 96** - 'Gitanjali' by Rabindranath Tagore is a collection of \_\_\_\_\_.

रवींद्रनाथ टैगोर की 'गीतांजलि' \_\_\_\_\_ का संग्रह है।

**Options:**

1) Novels

उपन्यास

2) Plays

नाटकों

3) Poems

कविताओं

4) Short stories

छोटी कहानियाँ

**Correct Answer:** Poems

कविताओं

**QID : 97** - Who among the following is NOT a recipient of 'Bharat Ratna Award'?

निम्नलिखित में से कौन 'भारत रत्न पुरस्कार' के

प्राप्तकर्ता नहीं है?

**Options:**

1) Nelson Mandela

नेल्सन मंडेला

2) Rajiv Gandhi

राजीव गांधी

3) Sachin Tendulkar

सचिन तेंदुलकर

4) Major Dhyhan Chand

मेजर ध्यानचंद

**Correct Answer:** Major Dhyhan Chand

मेजर ध्यानचंद

नेल्सन मंडेला

**QID : 98** - Name the author of the book named 'Neither a Hawk nor a Dove'?

निदर आ हॉक नार आ डाव' नामक पुस्तक के लेखक कौन हैं?

**Options:**

1) Brian May

ब्रायन मे

2) David J Eicher

डेविड जे आयशर

3) Khurshid Mahmud Kasuri

खुरशीद महमूद कसूरी

4) Kapil Ishapuri

कपिल इषापूरी

**Correct Answer:** Khurshid Mahmud Kasuri

खुरशीद महमूद कसूरी

**QID : 99** - How many countries of South Asia and South East Asia are members of BIMSTEC?

बिम्सटेक दक्षिण एशिया तथा दक्षिण पूर्व एशिया के कितने

देशों से निर्मित एक उप-क्षेत्रीय संगठन है?

**Options:**

1) 5

पांच

2) 7

सात

3) 11

ग्यारह

4) 15

पंद्रह

**Correct Answer:** 7

सात

**QID : 100** - Which neighbouring country of India has become the first fully organic country of the world?

भारत का कौन सा पड़ोसी देश दुनिया का पहला पूर्णतः

कार्बनिक देश है?

**Options:**

1) Sri Lanka

श्रीलंका

2) Bhutan

भूटान

3) Myanmar

म्यान्मार

4) Maldives

मालदीव

**Correct Answer:** Bhutan

भूटान

म्यान्मार