



Staff Selection Commission
(Government Of India)

REGISTRATION NUMBER : 2201389081
CANDIDATES NAME: MOCKTIME.COM
EXAM NAME : SSC CHSL
EXAM DURATION : 01:00 Hrs
TOTAL MARKS : 200
TOTAL NO OF QUESTIONS : 100

QID : 201 -

In the following question, select the number which can be placed at the sign of question mark (?) from the given alternatives.

निम्नलिखित प्रश्न में दिए गए विकल्पों में से प्रश्न चिह्न (?) के स्थान पर आने वाली संख्या को चुनिए।

9	2	6	7
4	8	3	3
1	5	7	2
14	15	16	?

Options:

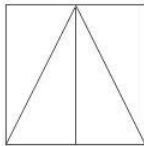
- 1) 10
- 2) 12
- 3) 14
- 4) 16

Correct Answer: 12

QID : 202 -

How many quadrilaterals are there in the given figure?

दी गई आकृति में कितने चतुर्भुज हैं?



Options:

- 1) 3
- 2) 4
- 3) 5
- 4) 6

Correct Answer: 5

QID : 203 -

A word is represented by only one set of numbers as given in any one of the alternatives. The sets of numbers given in the alternatives are represented by two classes of alphabets as shown in the given two matrices. The columns and rows of **Matrix-I** are numbered from 0 to 4 and that of **Matrix-II** are numbered from 5 to 9. A letter from these matrices can be represented first by its row and next by its column, for example, 'O' can be represented by 21, 56, etc., and 'C' can be represented by 44, 68, etc. Similarly, you have to identify the set for the word "JACK".

एक शब्द केवल एक संख्या-समूह द्वारा दर्शाया गया है, जैसा कि विकल्पों में से किसी एक में दिया गया है। विकल्पों में दिए गए संख्या-समूह अक्षरों के दो वर्गों द्वारा दर्शाए गए हैं, जैसा कि दिए गए दो आव्यूहों में है। आव्यूह-I के स्तम्भ और पंक्ति की संख्या 0 से 4 है और आव्यूह-II की 5 से 9। इन आव्यूहों से एक अक्षर को पहले उसकी पंक्ति और बाद में स्तम्भ संख्या द्वारा दर्शाया जा सकता है। उदाहरण के लिए 'O' को 21, 56, आदि द्वारा दर्शाया जा सकता है तथा 'C' को 44, 68, आदि द्वारा दर्शाया जा सकता है। इसी तरह से आपको प्रश्न में दिए शब्द "JACK" के लिए समूह को पहचानना है।

Matrix-I
आव्यूह-I

	0	1	2	3	4
0	A	N	W	C	F
1	H	U	D	Q	G
2	L	O	P	N	V
3	K	E	G	A	W
4	F	M	L	W	C

Matrix-II
आव्यूह-II

	5	6	7	8	9
5	S	O	Q	A	U
6	H	B	G	C	E
7	P	J	B	L	T
8	M	P	I	S	Q
9	X	T	V	J	K

Options:

- 1) 76, 00, 44, 99
- 2) 76, 33, 42, 31
- 3) 98, 58, 04, 99
- 4) 98, 00, 69, 98

Correct Answer: 76, 00, 44, 99

QID : 204 -

From the given answer figures, select the one in which the question figure is hidden/embedded.

दी गई उत्तर आकृतियों में से उस उत्तर आकृति को चुनिए जिस में प्रश्न आकृति निहित है।



Options:

- 1)
- 2)
- 3)
- 4)


Correct Answer:



QID : 205 -

Which answer figure will complete the pattern in the question figure?

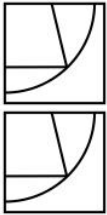
कौन सी उत्तर आकृति प्रश्न आकृति के प्रतिरूप को पूरा करेगी?



Options:

- 1)
- 2)
- 3)
- 4)

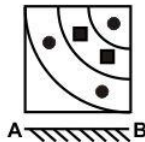
Correct Answer:



QID : 206 -

If a mirror is placed on the line AB, then which of the answer figures is the right image of the given figure?

यदि एक दर्पण को AB रेखा पर रखा जाए, तो दी गई उत्तर आकृतियों में से कौन सी आकृति प्रश्न आकृति की सही प्रतिबिम्ब होगी?



Options:

- 1)
- 2)
- 3)



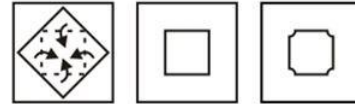
4) Correct Answer:



QID : 207 -

A piece of paper is folded and cut as shown below in the question figures. From the given answer figures, indicate how it will appear when opened?

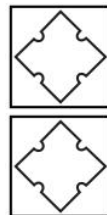
नीचे के प्रश्न आकृतियों में दिखाए अनुसार कागज को मोड़कर काटने तथा खोलने के बाद वह किस उत्तर आकृति जैसा दिखाई देगा?



Options:

- 1)
- 2)
- 3)
- 4)

Correct Answer:



QID : 208 - What will come in place of question mark (?) in the given equation?

$$36 \ ? \ 9 \ ? \ 12 \ ? \ 24 = 2$$

दिए गए समीकरण में प्रश्न चिह्न (?) के स्थान पर क्या आएगा?

$$36 \ ? \ 9 \ ? \ 12 \ ? \ 24 = 2$$

Options:

- 1) x, ÷ and +
x, ÷ तथा +
- 2) +, ÷ and x
+, ÷ तथा x

3) \div , x and \div
 \div , x तथा \div

4) +, x and \div
+, x तथा \div

Correct Answer: \div , x and \div
 \div , x तथा \div

QID : 209 - If $19 \times 7 \div 2 = 24$ and $21 \div 14 \times 2 = 9$, then

$11 \times 2 \div 13 = ?$

यदि $19 \times 7 \div 2 = 24$ तथा $21 \div 14 \times 2 = 9$ हो, तो

$11 \times 2 \div 13 = ?$

Options:

- 1) 4
- 2) 1
- 3) 0
- 4) 6

Correct Answer: 0

QID : 210 - Arrange the given words in the sequence in which they occur in the dictionary.

1. Plant
2. Prime
3. Photo
4. Pet
5. Place

निम्नलिखित शब्दों को शब्दकोश में आने वाले क्रम के अनुसार लिखें।

1. Plant
2. Prime
3. Photo
4. Pet
5. Place

Options:

- 1) 12354
- 2) 43512
- 3) 45123
- 4) 53412

Correct Answer: 43512

QID : 211 - In the following question, select the missing number from the given alternatives.

12, 22, 42, 52, 72, 82, 102, ?

निम्नलिखित प्रश्न में दिए गए विकल्पों में से लुप्त अंक ज्ञात कीजिए।

12, 22, 42, 52, 72, 82, 102, ?

Options:

- 1) 112
- 2) 122
- 3) 132
- 4) 142

Correct Answer: 112

QID : 212 - A series is given with one term missing. Select the correct alternative from the given ones that will complete the series.

ACD, EGH, IKL, ?

एक अनुक्रम दिया गया है, जिसमें से एक पद लुप्त है। दिए गए विकल्पों में से वह सही विकल्प चुनिए, जो अनुक्रम को पूरा करे।

ACD, EGH, IKL, ?

Options:

- 1) MOP
- 2) NPO
- 3) MPO
- 4) NOP

Correct Answer: MOP

QID : 213 - In the following question, select the odd word from the given alternatives.

निम्नलिखित प्रश्न में दिए गए विकल्पों में से विषम शब्द को चुनिए।

Options:

- 1) Wool
ऊन
- 2) Rubber
रबड़
- 3) Coconut
नारियल
- 4) Apple
सेब

Correct Answer: Wool

ऊन

ऊन

QID : 214 - In the following question, select the odd number pair from the given alternatives.

निम्नलिखित प्रश्न में दिए गए विकल्पों में से विषम संख्या युग्म को चुनिए।

Options:

- 1) 5, 7
- 2) 3, 5
- 3) 11, 13
- 4) 19, 29

Correct Answer: 19, 29

QID : 215 - In the following question, select the odd letters from the given alternatives.

निम्नलिखित प्रश्न में दिए गए विकल्पों में से विषम अक्षरों को चुनिए।

Options:

- 1) DFG
- 2) IKL
- 3) PRS
- 4) TVX

Correct Answer: TVX


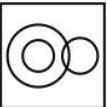


QID : 216 - Identify the diagram that best represents the relationship among the given classes.

Earth, Venus, Planet


वह आरेख चुनिए जो नीचे दिए गए वर्गों के बीच के संबंध का सही निरूपण करता है।

पृथ्वी, शुक्र, ग्रह

Options:

- 1) 
- 2) 
- 3) 
- 4) 

Correct Answer:



QID : 217 - In the following question, select the related word from the given alternatives.

Axe : Cut :: Needle : ?

निम्नलिखित प्रश्न में दिए गए विकल्पों में से संबंधित शब्द को चुनिए।

कुल्हाड़ी : काटना :: सुई : ?

Options:

- 1) Cut
काटना
- 2) Sew
सिलना
- 3) Dig
खोदना
- 4) Magnify
बड़ा करना

Correct Answer: Sew

सिलना

सिलना

QID : 218 - In the following question, select the related number from the given alternatives.

32 : 9 :: 53 : ?

निम्नलिखित प्रश्न में दिए गए विकल्पों में से संबंधित संख्या को चुनिए।

32 : 9 :: 53 : ?

Options:

- 1) 8
- 2) 27
- 3) 125
- 4) 64

Correct Answer: 125

QID : 219 - In the following question, select the related letters from the given alternatives.

ZK : UF :: TO : ?

निम्नलिखित प्रश्न में दिए गए विकल्पों में से संबंधित अक्षरों को चुनिए।

ZK : UF :: TO : ?

Options:

- 1) OI
- 2) PI
- 3) OJ
- 4) PK

Correct Answer: OJ

QID : 220 - In the following question, select the word which cannot be formed using the letters of the given word.

FRAGRANCES

निम्नलिखित विकल्पों में से वह शब्द चुनिए जो दिए गए शब्द के अक्षरों का प्रयोग करके नहीं बनाया जा सकता।

FRAGRANCES

Options:

- 1) PACES
- 2) FARE
- 3) GRANS
- 4) ACES

Correct Answer: PACES

QID : 221 - The ratio of the present ages of P and Q is 3 : 5. If after 12 years the ratio of ages of P and Q will be 9 : 13, then what is the present age (in years) of Q?

P तथा Q की वर्तमान आयु का अनुपात 3 : 5 है। यदि 12 वर्षों पश्चात P तथा Q की आयु का अनुपात 9 : 13 हो जाएगा, तो Q की वर्तमान आयु (वर्षों में) क्या है?

Options:

- 1) 24
- 2) 40
- 3) 52
- 4) 36

Correct Answer: 40

QID : 222 - Pointing to a lady, Anuj said, "She is the only daughter of my mother's husband". How is the lady related to Anuj?

एक महिला की ओर संकेत करते हुए, अनुज ने कहा, "वह मेरी माता के पति की एकमात्र पुत्री है।" वह महिला अनुज से किस प्रकार संबंधित है?

Options:

- 1) Mother
माता
- 2) Grandmother
दादी
- 3) Wife
पत्नी
- 4) Sister
बहन

Correct Answer: Sister

बहन

बहन

QID : 223 - In the following question below are given some statements followed by some conclusions. Taking the given statements to be true even if they seem to be at variance from commonly known facts, read all the conclusions and then decide which of the given conclusion logically follows the given statements.

Statements:

- I. All red are white.
- II. No red is green.

Conclusions:

- I. Some white are green.
- II. Some white are not green.

नीचे दिए गए प्रश्न में कुछ कथन और उनके बाद उन कथनों पर आधारित कुछ निष्कर्ष दिए गए हैं, हालांकि उनमें सामान्य ज्ञात तथ्यों से भिन्नता हो सकती है। सभी निष्कर्ष पढ़ें और फिर निर्धारित करें कि दिए गए कौन से निष्कर्ष, दिए गए कथनों के आधार पर युक्तिसंगत हैं।

कथन:

- I. सभी लाल सफेद हैं।
- II. कोई लाल हरा नहीं है।

निष्कर्ष:

- I. कुछ सफेद हरे हैं।
- II. कुछ सफेद हरे नहीं हैं।

Options:

- 1) Only conclusion (I) follows.
केवल निष्कर्ष (I) सही है।
- 2) Only conclusion (II) follows.
केवल निष्कर्ष (II) सही है।
- 3) Both conclusion follow.
दोनों ही निष्कर्ष सही हैं।
- 4) Neither conclusion (I) nor conclusion (II) follows.
न तो निष्कर्ष (I) न ही निष्कर्ष (II) सही है।

Correct Answer: Only conclusion (II) follows.
केवल निष्कर्ष (II) सही है।

न तो निष्कर्ष (I) न ही निष्कर्ष (II) सही है।

QID : 224 - In a certain code language, "RAG" is written as "52" and "MUG" is written as "82". How is "JUG" written in that code language?

एक विशिष्ट कोड भाषा

में, "RAG" को "52" तथा "MUG" को "82" लिखा जाता है।

इस कोड भाषा में "JUG" को किस प्रकार लिखा जाएगा?

Options:

- 1) 76
- 2) 75
- 3) 74
- 4) 78

Correct Answer: 76

QID : 225 - In a certain code language, "SUN" is written as "TVO". How is "ARC" written in that code language?

एक विशिष्ट कोड भाषा में, "SUN" को "TVO" लिखा जाता है।

इस कोड भाषा में "ARC" को किस प्रकार लिखा जाएगा?

Options:

- 1) BSD
- 2) BSE
- 3) BTD
- 4) DSC

Correct Answer: BSD

QID : 226 - How many multiples of 2 are there from 1 to 100 which are not multiples of 3?

1 से 100 के मध्य 2 के ऐसे कितने गुणज हैं जो 3 के गुणज नहीं हैं?

Options:

- 1) 50
- 2) 34
- 3) 18
- 4) 22

Correct Answer: 34

QID : 227 -

What is the value of $\sqrt{13-4\sqrt{10}}$?

$\sqrt{13-4\sqrt{10}}$ का मान क्या है?

Options:

- 1) $\sqrt{8} - \sqrt{5}$
- 2) $\sqrt{8} + \sqrt{5}$
- 3) $\sqrt{6} - \sqrt{3}$
- 4) $\sqrt{6} + \sqrt{3}$

Correct Answer: $\sqrt{8} - \sqrt{5}$

QID : 228 - The product of two number is 145. If one of the number is 5, then what is the another number?

दो संख्याओं का गुणनखंड 145 है। यदि एक संख्या 5 है, तो दूसरी संख्या क्या होगी?

Options:

- 1) 39
- 2) 27
- 3) 29
- 4) 31

Correct Answer: 29

QID : 229 - Which of the following statement is true?

I. Odd x Odd x Odd = Even

II. Odd x Odd = Even

निम्नलिखित में से कौन सा कथन सत्य है?

I. विषम x विषम x विषम = सम

II. विषम x विषम = सम

Options:

- 1) Only I
केवल I
- 2) Only II
केवल II
- 3) Both I and II
I तथा II दोनों
- 4) Neither I nor II
न तो I न ही II

Correct Answer: Neither I nor II

न तो I न ही II

Correct Answer: Neither I nor II

न तो I न ही II

केवल II

QID : 230 - Which of the fraction is greatest among $4/5$, $7/8$ and $6/7$?

$4/5$, $7/8$ तथा $6/7$ में से कौन सी भिन्न सबसे बड़ी है?

Options:

- 1) $4/5$
 - 2) $7/8$
 - 3) $6/7$
 - 4) All are equal
- सभी बराबर हैं

Correct Answer: $7/8$

सभी बराबर हैं

QID : 231 - If x is an integer, then $(x^3 - x)$ is always divisible by which number?

यदि x एक पूर्णांक है, तो $(x^3 - x)$ किस संख्या से सदैव विभाजित होगी?

Options:

- 1) 4
- 2) 6
- 3) 8
- 4) 9

Correct Answer: 6

QID : 232 - Working 12 hours a day, Yash can complete a piece of work in 35 days. How many hours a day he should work so as to finish the work in 28 days?

प्रतिदिन 12 घंटे कार्य करके, यश किसी कार्य को 35 दिनों में पूरा कर सकता है। कार्य को 28 दिनों में समाप्त करने के लिए उसे प्रतिदिन कितने घंटे कार्य करना होगा?

Options:

- 1) 12
- 2) 15
- 3) 18
- 4) 24

Correct Answer: 15

QID : 233 - A can do a piece of work in 96 days. If B is 50% more efficient than A, then in how many days can B do the same work?

A किसी कार्य को 96 दिनों में कर सकता है। यदि B की कार्य क्षमता A से 50% अधिक है, तो उसी कार्य को B कितने दिनों में करेगा?

Options:

- 1) 48
- 2) 32
- 3) 24
- 4) 64

Correct Answer: 64

QID : 234 - If the volume of two cubes are in the ratio $64 : 1$, then what is the ratio of their edges?

दो घनों के आयतनों का अनुपात $64 : 1$ है, तो उनकी भुजाओं का अनुपात क्या है?

Options:

- 1) $4 : 1$
- 2) $2 : 1$
- 3) $8 : 1$

4) $64 : 1$

Correct Answer: $4 : 1$

QID : 235 - The marked price of an article is Rs 480 and is sold at a discount of Rs 72. What is the discount percentage?

एक वस्तु का अंकित मूल्य 480 रु है तथा उसे 72 रु की छूट पर बेचा जाता है। छूट का प्रतिशत क्या है?

Options:

- 1) 5
- 2) 15
- 3) 10
- 4) 12

Correct Answer: 15

QID : 236 - What is the net discount for successive discounts of 30% and 40%?

30% तथा 40% के दो क्रमागत छूट किस निवल (नेट) छूट के बराबर है?

Options:

- 1) 58
- 2) 42
- 3) 48
- 4) 40

Correct Answer: 58

QID : 237 - Two numbers are in the ratio of $4 : 7$. If 12 is subtracted from each, then the new ratio becomes $14 : 29$. What are the two numbers?

दो संख्याएँ $4 : 7$ अनुपात में हैं। यदि प्रत्येक में से 12 घटाया जाए तो नया अनुपात $14 : 29$ हो जाता है। दोनों संख्याएँ क्या हैं?

Options:

- 1) 40 and 70
40 तथा 70
- 2) 20 and 35
20 तथा 35
- 3) 120 and 210
120 तथा 210
- 4) 60 and 105
60 तथा 105

Correct Answer: 40 and 70

40 तथा 70

QID : 238 - If $A/3 = B/5 = C/15$, then what is $A : B : C$? यदि $A/3 = B/5 = C/15$ हो, तो $A : B : C$ क्या है?

Options:

- 1) $3 : 5 : 15$
- 2) $15 : 3 : 5$
- 3) $5 : 3 : 15$
- 4) $3 : 5 : 8$

Correct Answer: $3 : 5 : 15$

QID : 239 - The average of 30 numbers is 40 and that of other 70 numbers is 60. What is the average of all the numbers?

30 संख्याओं का औसत 40 तथा अन्य 70 संख्याओं का औसत 60 है। सभी संख्याओं का औसत क्या है?

Options:

- 1) 54
- 2) 59
- 3) 61
- 4) 63

Correct Answer: 54

QID : 240 - A man gains 70% by selling an article for a certain price. If he sells it at half the price, then what will be the loss percentage?

एक वस्तु को किसी निश्चित मूल्य पर बेचकर एक व्यक्ति 70% लाभ कमाता है। यदि वह उस वस्तु को आधी कीमत पर बेचे, तो हानि का प्रतिशत क्या होगा?

Options:

- 1) 10
- 2) 12
- 3) 15
- 4) 8

Correct Answer: 15

QID : 241 - If the cost price of 6 articles is equal to the selling price of 8 articles, then what is the loss percentage?

यदि 6 वस्तुओं का क्रय मूल्य 8 वस्तुओं के विक्रय मूल्य के बराबर है, तो हानि प्रतिशत क्या होगा?

Options:

- 1) 20%
- 2) 25%
- 3) 10%
- 4) 15%

Correct Answer: 25%

QID : 242 - If income of Kamal is 40% more than the income of Raman and the income of Raman is 20% more than the income of Aman, then the income of Kamal is how much percent more than the income of Aman?

यदि कमल की आय, रमन की आय से 40% अधिक है तथा रमन की आय, अमन की आय से 20% अधिक है, तो कमल की आय, अमन की आय से कितने प्रतिशत अधिक होगी?

Options:

- 1) 20
- 2) 60
- 3) 68
- 4) 66

Correct Answer: 68

QID : 243 - In a school 45% of the students are girls. If number of boys is 660, then what is the total number of students in the school?

एक विद्यालय में 45% विद्यार्थी लड़कियाँ हैं। यदि लड़कों की संख्या 660 है, तो स्कूल में कुल कितने विद्यार्थी हैं?

Options:

- 1) 1080
- 2) 1200
- 3) 1320
- 4) 1440

Correct Answer: 1200

QID : 244 - Speeds of a boat along the current and against the current are 12 km/hr and 6 km/hr respectively. What is the speed (in km/hr) of the current?

एक नाव की गति धारा के अनुकूल तथा धारा के प्रतिकूल दिशा में क्रमशः 12 कि.मी./घंटा तथा 6 कि.मी./घंटा है। धारा की गति (कि.मी./घंटा में) क्या है?

Options:

- 1) 2
- 2) 3
- 3) 4
- 4) 9

Correct Answer: 3

QID : 245 - Aman can cover a certain distance in 30 hours if he walks at the rate of 5 km/hr. If he covers the same distance on a scooter at the rate of 10 km/hr, then what is the time (in hours) taken by him?

अमन यदि 5 कि.मी./घंटा की गति से चले तो वह एक निश्चित दूरी 30 घंटे में तय कर लेता है। यदि वह वही दूरी स्कूटर पर 10 कि.मी./घंटा की गति से तय करे तो उसे कितना समय (घंटों में) लगेगा?

Options:

- 1) 12
- 2) 15
- 3) 20
- 4) 25

Correct Answer: 15

QID : 246 - A amount becomes 9 times in 32 years when kept in a scheme of simple interest. In how many years will it become 19 times?

एक धनराशि साधारण ब्याज वाली योजना में निवेश करने पर 32 वर्ष में 9 गुना हो जाती है। वह 19 गुना कितने वर्षों में हो जाएगी?

Options:

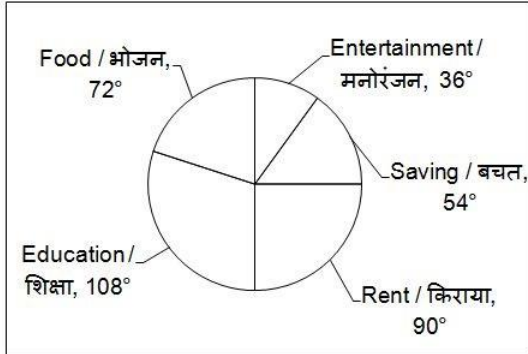
- 1) 72
- 2) 64
- 3) 78
- 4) 84

Correct Answer: 72

QID : 247 -

The pie chart given below shows the expenditure made by Sulekha per month. Monthly salary of Sulekha is Rs 50000.

नीचे दिए गए वृत्त चित्र में सुलेखा द्वारा प्रत्येक माह किये गए व्यय को दर्शाया गया है। सुलेखा की मासिक आय 50000 रुपये है।



What amount (in Rs) does Sulekha spent on food per month?

सुलेखा ने भोजन पर प्रत्येक माह कितनी राशि (रुपये में) व्यय की है?

Options:

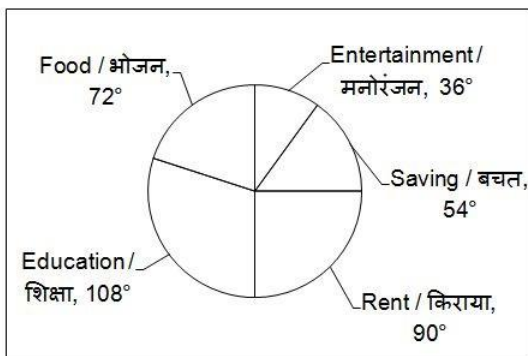
- 1) 10000
- 2) 5000
- 3) 1000
- 4) 60000

Correct Answer: 10000

QID : 248 -

The pie chart given below shows the expenditure made by Sulekha per month. Monthly salary of Sulekha is Rs 50000.

नीचे दिए गए वृत्त चित्र में सुलेखा द्वारा प्रत्येक माह किये गए व्यय को दर्शाया गया है। सुलेखा की मासिक आय 50000 रुपये है।



What is the difference in the amount (in Rs) spent by Sulekha on food and on rent?

सुलेखा द्वारा भोजन तथा किराये पर व्यय की गई राशि (रुपये में) का अंतर क्या है?

Options:

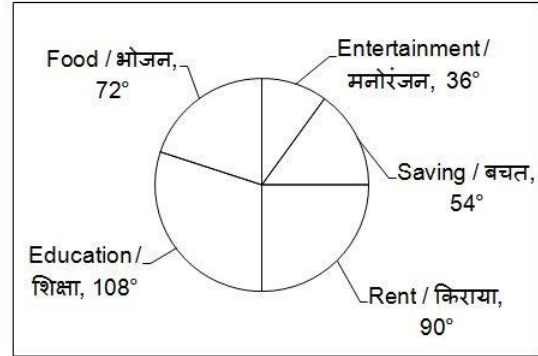
- 1) 25000
- 2) 2000
- 3) 2500
- 4) 1500

Correct Answer: 2500

QID : 249 -

The pie chart given below shows the expenditure made by Sulekha per month. Monthly salary of Sulekha is Rs 50000.

नीचे दिए गए वृत्त चित्र में सुलेखा द्वारा प्रत्येक माह किये गए व्यय को दर्शाया गया है। सुलेखा की मासिक आय 50000 रुपये है।



What is the monthly expenditure (in Rs) of Sulekha on education?

सुलेखा का शिक्षा पर मासिक व्यय (रुपये में) क्या है?

Options:

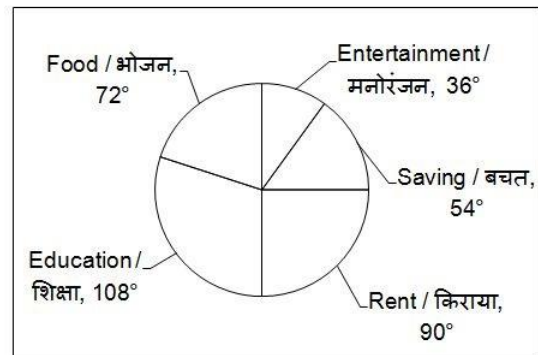
- 1) 1550
- 2) 20000
- 3) 15000
- 4) 1500

Correct Answer: 15000

QID : 250 -

The pie chart given below shows the expenditure made by Sulekha per month. Monthly salary of Sulekha is Rs 50000.

नीचे दिए गए वृत्त चित्र में सुलेखा द्वारा प्रत्येक माह किये गए व्यय को दर्शाया गया है। सुलेखा की मासिक आय 50000 रुपये है।



What is the total amount (in Rs) spent by Sulekha in food and entertainment per month?

सुलेखा ने भोजन तथा मनोरंजन पर प्रत्येक माह कुल कितनी राशि (रुपये में) व्यय की है?

Options:

- 1) 2000
- 2) 20000

3) 15750

4) 15000

Correct Answer: 15000

QID : 251 - In the following question, some part of the sentence may have errors. Find out which part of the sentence has an error and select the appropriate option. If a sentence is free from error, select 'No Error'.

Having conquering this (1)/ space, it now plans to foray (2)/ into new one. (3)/ No Error (4)/

Options:

1) 1

2) 2

3) 3

4) 4

Correct Answer: 1

QID : 252 - In the following question, some part of the sentence may have errors. Find out which part of the sentence has an error and select the appropriate option. If a sentence is free from error, select 'No Error'.

You should submit duly approved (1)/ invoices well (2)/ at time. (3)/ No Error (4)/

Options:

1) 1

2) 2

3) 3

4) 4

Correct Answer: 3

QID : 253 - In the following question, the sentence given with blank to be filled in with an appropriate word. Select the correct alternative out of the four and indicate it by selecting the appropriate option.

This building comprises _____ forty rooms.

Options:

1) to

2) of

3) off

4) with

Correct Answer: of

QID : 254 - In the following question, the sentence given with blank to be filled in with an appropriate word. Select the correct alternative out of the four and indicate it by selecting the appropriate option.

Niharika _____ her matriculation examination in 2008.

Options:

1) completed

2) passed

3) performed

4) obtained

Correct Answer: passed

QID : 255 - In the following question, out of the given four alternatives, select the one which best expresses the meaning of the given word.

Rumour

Options:

1) Proof

2) Hearsay

3) Truth

4) Reality

Correct Answer: Hearsay

QID : 256 - In the following question, out of the given four alternatives, select the one which best expresses the meaning of the given word.

Vicious

Options:

1) Nice

2) Pleasant

3) Cruel

4) Gentle

Correct Answer: Cruel

QID : 257 - In the following question, out of the given four alternatives, select the one which best expresses the meaning of the given word.

Exempt

Options:

1) Answerable

2) Liable

3) Immune

4) Responsible

Correct Answer: Immune

QID : 258 - In the following question, out of the given four alternatives, select the one which is opposite in meaning of the given word.

Marginal

Options:

1) Core

2) Minor

3) Negligible

4) Small

Correct Answer: Core

QID : 259 - In the following question, out of the given four alternatives, select the one which is opposite in meaning of the given word.

Shabby

Options:

1) Dingy

2) Faded

3) Mean

4) Nice

Correct Answer: Nice

QID : 260 - In the following question, out of the given four alternatives, select the one which is opposite in meaning of the given word.

Provisional

Options:

1) Limited

2) Temporary

3) Definite

4) Conditional

Correct Answer: Definite

QID : 261 - In the following question, out of the four given alternatives, select the alternative which best expresses the meaning of the Idiom/Phrase.

Vis-a-Vis

Options:

- 1) The other way around
- 2) In relation to
- 3) To complete
- 4) Contrary to

Correct Answer: In relation to

QID : 262 - In the following question, out of the four given alternatives, select the alternative which best expresses the meaning of the Idiom/Phrase.

Wheels within wheels

Options:

- 1) Hidden enemy
- 2) Side by side
- 3) Course of time
- 4) Complication

Correct Answer: Complication

QID : 263 - Improve the bracketed part of the sentence.

I (**was lived**) there five year ago.

Options:

- 1) had lived
- 2) live
- 3) has lived
- 4) No improvement

Correct Answer: had lived

QID : 264 - Improve the bracketed part of the sentence.

The criminal had (**ran away**) from the crime site

Options:

- 1) run
- 2) fled
- 3) escape
- 4) No improvement

Correct Answer: fled

QID : 265 - In the following question, out of the four given alternatives, select the alternative which is the best substitute of the phrase.

Any soft drink except water

Options:

- 1) Cocktail
- 2) Gourmet
- 3) Beverage
- 4) Usury

Correct Answer: Beverage

QID : 266 - In the following question, out of the four given alternatives, select the alternative which is the best substitute of the phrase.

Belief not based on reason or knowledge

Options:

- 1) Concept
- 2) Fact
- 3) Ritual
- 4) Superstition

Correct Answer: Superstition

QID : 267 - In the following question, a word has been written in four different ways out of which only one is correctly spelt. Select the correctly spelt word.

Options:

- 1) Muntenance
- 2) Maintenance
- 3) Maintinance
- 4) Maintenance

Correct Answer: Maintenance

QID : 268 - In the following question, a word has been written in four different ways out of which only one is correctly spelt. Select the correctly spelt word.

Options:

- 1) Manufacture
- 2) Manofacture
- 3) Manufacure
- 4) Manufacture

Correct Answer: Manufacture

QID : 269 - Rearrange the parts of the sentence in correct order.

India wants

P: nations and is

Q: hostile towards none

R: goodwill of all

Options:

- 1) QPR
- 2) RPQ
- 3) PRQ
- 4) RQP

Correct Answer: RPQ

QID : 270 - Rearrange the parts of the sentence in correct order.

Arteries are

P: which blood is going

Q: blood vessels in

R: away from the heart

Options:

- 1) RPQ
- 2) RQP
- 3) PRQ
- 4) QPR

Correct Answer: QPR

QID : 271 - In the following passage some of the words have been left out. Read the passage carefully and select the correct answer for the given blank out of the four alternatives.

Last weekend I _____ to the beach with my parents. There were many vendors on the beach. I could see a few children making a _____ castle. The waves destroyed it. The kids were sad for a moment _____ the next moment _____ decided to make a new one further away from the waters. Far away in the sea, I could see a ship. A soothsayer came to me saying that it was a bad day for her and started _____ my palm.

Last weekend I _____ to beach with

Options:

- 1) go
- 2) went
- 3) gone
- 4) going

Correct Answer: went

QID : 272 - In the following passage some of the words have been left out. Read the passage carefully and select the correct answer for the given blank out of the four alternatives.

Last weekend I _____ to the beach with my parents. There were many vendors on the beach. I could see a few children making a _____ castle. The waves destroyed it. The kids were sad for a moment _____ the next moment _____ decided to make a new one further away from the waters. Far away in the sea, I could see a ship. A soothsayer came to me saying that it was a bad day for her and started _____ my palm.

children making a _____ castle.

Options:

- 1) sand
- 2) mud
- 3) air
- 4) water

Correct Answer: sand

QID : 273 - In the following passage some of the words have been left out. Read the passage carefully and select the correct answer for the given blank out of the four alternatives.

Last weekend I _____ to the beach with my parents. There were many vendors on the beach. I could see a few children making a _____ castle. The waves destroyed it. The kids were sad for a moment _____ the next moment _____ decided to make a new one further away from the waters. Far away in the sea, I could see a ship. A soothsayer came to me saying that it was a bad day for her and started _____ my palm.

moment _____ the next moment

Options:

- 1) and
- 2) for
- 3) but
- 4) since

Correct Answer: but

QID : 274 - In the following passage some of the words have been left out. Read the passage carefully and select the correct answer for the given blank out of the four alternatives.

Last weekend I _____ to the beach with my parents. There were many vendors on the beach. I could see a few children making a _____ castle. The waves destroyed it. The kids were sad for a moment _____ the next moment _____ decided to make a new one further away from the waters. Far away in the sea, I could see a ship. A soothsayer came to me saying that it was a bad day for her and started _____ my palm.

_____ decided to make a new

Options:

- 1) them
- 2) they
- 3) we
- 4) us

Correct Answer: they

QID : 275 - In the following passage some of the words have been left out. Read the passage carefully and select

the correct answer for the given blank out of the four alternatives.

Last weekend I _____ to the beach with my parents. There were many vendors on the beach. I could see a few children making a _____ castle. The waves destroyed it. The kids were sad for a moment _____ the next moment _____ decided to make a new one further away from the waters. Far away in the sea, I could see a ship. A soothsayer came to me saying that it was a bad day for her and started _____ my palm.

her and started _____ my palm.

Options:

- 1) eating
- 2) beating
- 3) hating
- 4) reading

Correct Answer: reading

QID : 276 - What is the full form of NNP?

एनएनपी का असंक्षिप्त रूप क्या है?

Options:

- 1) Normal National Product
नोर्मल नेशनल प्रोडक्ट
- 2) Normal Net Product
नोर्मल नेट प्रोडक्ट
- 3) Net National Product
नेट नेशनल प्रोडक्ट
- 4) Net Normal Product
नेट नोर्मल प्रोडक्ट

Correct Answer: Net National Product

नेट नेशनल प्रोडक्ट

नेट नेशनल प्रोडक्ट

QID : 277 - A country with high per capita income is _____ developed than others with less per capita income?

एक अधिक प्रति व्यक्ति आय वाला देश अन्य कम प्रति

व्यक्ति आय वाले देशों से _____ विकसित होता है?

Options:

- 1) More
अधिक
- 2) Less
कम
- 3) Equally
बराबर
- 4) Evenly
समान

Correct Answer: More

अधिक

अधिक

QID : 278 - Which part of Indian constitution deals with 'citizens'?

भारतीय संविधान का कौन सा भाग 'नागरिकता' के बारे में बताता है?

Options:

- 1) Part I

भाग I

2) Part II

भाग II

3) Part III

भाग III

4) Part IV

भाग IV

Correct Answer: Part II

भाग II

भाग I

QID : 279 - Out of 245 members of Rajya Sabha how many member are nominated by president?

राज्य सभा के 245 सदस्यों में से कुल कितने राष्ट्रपति द्वारा मनोनित किए जाते हैं?

Options:

1) 10

2) 12

3) 14

4) 16

Correct Answer: 12

QID : 280 - Which Varna was at the first place among the four known varnas?

चार जाने माने वर्णों में से पहले स्थान पर कौन सा वर्ण था?

Options:

1) Brahmin

ब्राह्मण

2) Kshatriya

क्षत्रिय

3) Vaishya

वैश्य

4) Shudra

शूद्र

Correct Answer: Brahmin

ब्राह्मण

ब्राह्मण

QID : 281 - In which year English East India Company made its first appearance in India?

किस वर्ष अंग्रेजी ईस्ट इंडिया कंपनी, भारत में पहली बार

उपस्थित हुई थी?

Options:

1) 1498

2) 1615

3) 1608

4) 1650

Correct Answer: 1608

QID : 282 - What is the position of Venus from the Sun among the eight planets?

आठ ग्रहों में शुक्र सूर्य से कौन से स्थान पर स्थित है?

Options:

1) First

पहला

2) Second

दूसरा

3) Third

तीसरा

4) Fourth

चौथा

Correct Answer: Second

दूसरा

पहला

QID : 283 - 23½ degrees south latitude marks what? 23½ अंश दक्षिणी अक्षांश क्या दर्शाता है?

Options:

1) Tropic of Cancer

कर्क रेखा

2) Tropic of Capricorn

मकर रेखा

3) Arctic Circle

उत्तर ध्रुव (आर्कटिक) वृत्त

4) Antarctic Circle

दक्षिण ध्रुव (अंटार्कटिक) वृत्त

Correct Answer: Tropic of Capricorn

मकर रेखा

QID : 284 - Which body part helps fishes to use oxygen dissolved in water?

मछलियों के शरीर का कौन सा भाग उन्हें जल में श्वास लेने

में सहायता करता है?

Options:

1) Fins

पंख

2) Tails

पूँछ

3) Gills

गिल (क्लोम)

4) Scales

शल्लक

Correct Answer: Gills

गिल (क्लोम)

गिल (क्लोम)

QID : 285 - Where do the energy-capturing reactions of photosynthesis occur?

प्रकाश संश्लेषण की ऊर्जा अधिग्रहण अभिक्रियाएँ कहाँ सम्पन्न

होती हैं?

Options:

1) Cell wall

कोशिका भिन्न

2) Cytoplasm

कोशिका द्रव्य

3) Stroma

स्ट्रोमा

4) Thylakoids

थाइलैकोइड

Correct Answer: Stroma
स्ट्रोमा

QID : 286 - Which one of following is called pace maker of the heart?
हृदय का पेसमेकर कहलाता है?

Options:

1) SA node

एस ए नोड

2) A V node

ए वी नोड

3) Chordate tendinae

कॉर्डिटेन्डेनी

4) A V septum

ए वी सेप्टम

Correct Answer: SA node

एस ए नोड

QID : 287 - What is the to and fro or back and forth motion of an object called?

किसी वस्तु के इधर-उधर या आगे पीछे होने वाली गति को क्या कहते हैं?

Options:

1) Friction

घर्षण

2) Vibration

कंपन

3) Amplitude

आयाम

4) Frequency

आवृत्ति

Correct Answer: Vibration

कंपन

घर्षण

QID : 288 - The image formed by a concave mirror _____.

अवतल दर्पण द्वारा बना प्रतिबिंब _____ है।

Options:

1) is always real

सदैव वास्तविक होता है

2) is always virtual

सदैव आभासी होता है

3) may also be real or virtual

वास्तविक अथवा आभासी भी हो सकता है

4) is neither real nor virtual

न तो वास्तविक न ही आभासी होता है

Correct Answer: may also be real or virtual

वास्तविक अथवा आभासी भी हो सकता है

QID : 289 - Which of the following is **NOT** an application software?
इनमें से कौन सा एक अनुप्रयोग सॉफ्टवेयर नहीं है?

Options:

1) MS Word

एम एस वर्ड

2) Adobe Acrobat

एडोब एक्रोबेट

3) Linux

लइनेक्स

4) Java

जावा

Correct Answer: Java

जावा

एडोब एक्रोबेट

QID : 290 - A metal which is a poor conduction of heat is _____.

ऊष्मा का एक कुचालक धातु _____ है।

Options:

1) lead

सीसा

2) gold

सोना

3) zinc

जिंक

4) Iron

लोहा

Correct Answer: lead

सीसा

लोहा

QID : 291 - Bleaching powder is _____.

ब्लीचिंग पाउडर _____ होता है।

Options:

1) Ca_2OCl

2) CaOCl_2

3) CaClO_2

4) CaCl_2

Correct Answer: CaOCl_2

QID : 292 - In which of the following processes oxygen from the atmosphere is not used up?

निम्नलिखित में से कौन सी प्रक्रिया में ऑक्सीजन का उपयोग नहीं होता?

Options:

1) Combustion

दहन

2) Respiration

श्वसन

3) Formation of oxides of nitrogen

नाइट्रोजन का ऑक्साइड निर्माण

4) Photosynthesis

प्रकाश संश्लेषण

Correct Answer: Photosynthesis

प्रकाश संश्लेषण

दहन

QID : 293 - What is the name of the app launched by the Government to track Rural Household Electrification?

ग्रामीण घरेलू विद्युतीकरण को ट्रैक करने के लिए सरकार द्वारा शुरू किए गए ऐप का क्या नाम है?

Options:

1) BHIM

भीम

2) GARV-II

गर्व द्वितीय

3) URJA

ऊर्जा

4) UJALA

उजाला

Correct Answer: GARV-II

गर्व द्वितीय

ऊर्जा

QID : 294 - Who discovered the circulation of Blood?
रक्त के परिसंचरण की खोज किसने की?

Options:

1) Louis Braille

लुईस ब्रेल

2) George East man

जॉर्ज ईस्टमैन

3) Robert Koch

रॉबर्ट कोच

4) William Harvey

विलियम हार्वे

Correct Answer: William Harvey

विलियम हार्वे

लुईस ब्रेल

QID : 295 - Apurvi Singh Chandela is associated with which sport?

अपूर्वी सिंह चंदेला किस खेल से जुड़ी हुई हैं?

Options:

1) Badminton

बैडमिंटन

2) Wrestling

कुश्ती

3) Shooting

शूटिंग

4) Kayaking

कयाकिंग

Correct Answer: Shooting

शूटिंग

शूटिंग

QID : 296 - Which among the following is **NOT** a classical language?

निम्नलिखित में से कौन सी एक शास्त्रीय भाषा नहीं है?

Options:

1) Bhojपुरी

भोजपुरी

2) Tamil

तमिल

3) Sanskrit

संस्कृत

4) Kannada

कन्नड़

Correct Answer: Bhojपुरी

भोजपुरी

तमिल

QID : 297 - Who won the 2016 Nobel Peace Prize?
2016 नोबेल शांति पुरस्कार किसने जीता?

Options:

1) Malala Yousafzai

मलाला युसुफ़ज़ई

2) Juan Manuel Santos

जुआन मैनुअल सैंटोस

3) Kailash Satyarthi

कैलाश सत्यार्थी

4) None of these

इनमें से कोई नहीं

Correct Answer: Juan Manuel Santos

जुआन मैनुअल सैंटोस

कैलाश सत्यार्थी

QID : 298 - Who is the author of book named "Julius Ceaser"?

"जूलियस सीज़र" नामक पुस्तक के लेखक कौन हैं?

Options:

1) William Shakespeare

विलियम शेक्सपीयर

2) G.B. Shaw

जी.पी. शा

3) Salman Rushdie

सलमान रुश्दी

4) Charles Darwin

चार्ल्स डार्विन

Correct Answer: William Shakespeare

विलियम शेक्सपीयर

विलियम शेक्सपीयर

QID : 299 - India and _____ have signed Logistics Exchange and Memorandum of Agreement (LEMOA) to use each other's bases for repair and replenishment of defence supplies.

भारत तथा _____ ने रक्षा आपूर्ति की मरम्मत और पुनःपूर्ति के लिए एक दूसरे के ठिकानों का उपयोग करने हेतु रसद एक्सचेंज और समझौते (एलईएमओए) पर हस्ताक्षर किए हैं।

Options:

1) The United states of America

संयुक्त राज्य अमेरिका

2) Russia

रूस

3) France

फ्रांस

4) Britain

ब्रिटेन

Correct Answer: The United states of America

संयुक्त राज्य अमेरिका

रूस

QID : 300 - The _____ and India have been conducting a series of Coast Guard inaritime joint training exercises codename "DOSTI" since 1991.

_____ तथा भारत 1991 से "दोस्ती" नामक तटरक्षक समुद्री संयुक्त प्रशिक्षण अभ्यासों की एक श्रृंखला आयोजित कर रहे हैं।

Options:

1) Maldives

मालदीव

2) Nepal

नेपाल

3) Myanmar

म्यांमार

4) Pakistan

पाकिस्तान

Correct Answer: Maldives

मालदीव

मालदीव