



REGISTRATION NUMBER : 2201284531

CANDIDATES NAME: MOCKTIME.COM

EXAM NAME : SSC CHSL

EXAM DURATION : 01:00 Hrs

TOTAL MARKS : 200

TOTAL NO OF QUESTIONS : 100

QID : 101 -

In the following question, select the number which can be placed at the sign of question mark (?) from the given alternatives.

निम्नलिखित प्रश्न में दिए गए विकल्पों में से प्रश्न चिह्न (?) के स्थान पर आने वाली संख्या को चुनिए।

4	6	5	16
9	8	3	21
5	8	7	?

Options:

- 1) 18
- 2) 21
- 3) 23
- 4) 27

Correct Answer: 21

QID : 102 -

How many triangles are there in the given figure?

दी गई आकृति में कितने त्रिभुज हैं?



Options:

- 1) 4
- 2) 5
- 3) 6
- 4) 8

Correct Answer: 6

QID : 103 -

A word is represented by only one set of numbers as given in any one of the alternatives. The sets of numbers given in the alternatives are represented by two classes of alphabets as shown in the given two matrices. The columns and rows of **Matrix-I** are numbered from 0 to 4 and that of **Matrix-II** are numbered from 5 to 9. A letter from these matrices can be represented first by its row and next by its column, for example, 'P' can be represented by 11, 67, etc., and 'W' can be represented by 42, 79, etc. Similarly, you have to identify the set for the word "SUITE".

एक शब्द केवल एक संख्या-समूह द्वारा दर्शाया गया है, जैसा कि विकल्पों में से किसी एक में दिया गया है। विकल्पों में दिए गए संख्या-समूह अक्षरों के दो वर्गों द्वारा दर्शाए गए हैं, जैसा कि दिए गए दो आव्यूहों में है। आव्यूह-I के स्तम्भ और पंक्ति की संख्या 0 से 4 है और आव्यूह-II की 5 से 9। इन आव्यूहों से एक अक्षर को पहले उसकी पंक्ति और बाद में स्तम्भ संख्या द्वारा दर्शाया जा सकता है। उदाहरण के लिए 'P' को 11, 67, आदि द्वारा दर्शाया जा सकता है तथा 'W' को 42, 79, आदि द्वारा दर्शाया जा सकता है। इसी तरह से आपको प्रश्न में दिए शब्द "SUITE" के लिए समूह को पहचानना है।

Matrix-I

आव्यूह-I

	0	1	2	3	4
0	D	F	H	J	L
1	N	P	R	T	V
2	X	Z	B	E	C
3	I	K	M	O	Q
4	S	U	W	X	A

Matrix-II

आव्यूह-II

	5	6	7	8	9
5	L	N	G	I	A
6	J	C	P	K	Y
7	H	R	B	M	W
8	F	T	Z	O	U
9	E	V	X	Q	S

Options:

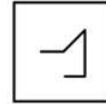
- 1) 40, 89, 31, 12, 22
- 2) 99, 41, 30, 85, 23
- 3) 40, 89, 58, 86, 95
- 4) 99, 41, 56, 88, 95

Correct Answer: 40, 89, 58, 86, 95

QID : 104 -

From the given answer figures, select the one in which the question figure is hidden/embedded.

दी गई उत्तर आकृतियों में से उस उत्तर आकृति को चुनिए जिस में प्रश्न आकृति निहित है।



Options:

- 1)
- 2)
- 3)
- 4)

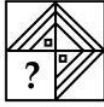
Correct Answer:



QID : 105 -

Which answer figure will complete the pattern in the question figure?

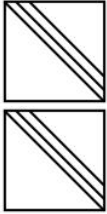
कौन सी उत्तर आकृति प्रश्न आकृति के प्रतिरूप को पूरा करेगी?



Options:

- 1)
- 2)
- 3)
- 4)

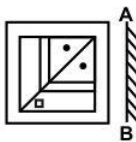
Correct Answer:



QID : 106 -

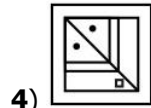
If a mirror is placed on the line AB, then which of the answer figures is the right image of the given figure?

यदि एक दर्पण को AB रेखा पर रखा जाए, तो दी गई उत्तर आकृतियों में से कौन सी आकृति प्रश्न आकृति की सही प्रतिबिम्ब होगी?

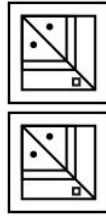


Options:

- 1)
- 2)
- 3)



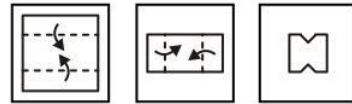
4) Correct Answer:



QID : 107 -

A piece of paper is folded and punched as shown below in the question figures. From the given answer figures, indicate how it will appear when opened?

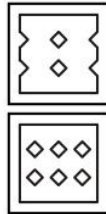
नीचे के प्रश्न आकृतियों में दिखाए अनुसार कागज को मोड़कर छेदने तथा खोलने के बाद वह किस उत्तर आकृति जैसा दिखाई देगा?



Options:

- 1)
- 2)
- 3)
- 4)

Correct Answer:



QID : 108 - What will come in place of question mark (?) in the given equation?

$14 ? 8 ? 16 ? 4 = 16$

दिए गए समीकरण में प्रश्न चिह्न (?) के स्थान पर क्या आएगा?

$14 ? 8 ? 16 ? 4 = 16$

Options:

- 1) +, ÷ and -
+, ÷ तथा -
- 2) ×, + and -
×, + तथा -

3) ÷, + and ×
÷, + तथा ×

4) +, ÷ and ×
+, ÷ तथा ×

Correct Answer: +, ÷ and ×
+, ÷ तथा ×
+, ÷ तथा -

QID : 109 - If $9 \% 11 \% 5 = 793$ and $4 \% 9 \% 7 = 275$, then $8 \% 2 \% 6 = ?$

यदि $9 \% 11 \% 5 = 793$ तथा $4 \% 9 \% 7 = 275$ हो,
तो $8 \% 2 \% 6 = ?$

Options:

- 1) 604
- 2) 377
- 3) 539
- 4) 460

Correct Answer: 604

QID : 110 - Arrange the given words in the sequence in which they occur in the dictionary.

1. Stone
2. Store
3. Single
4. Sand
5. Singer

निम्नलिखित शब्दों को शब्दकोश में आने वाले क्रम के अनुसार लिखें।

1. Stone
2. Store
3. Single
4. Sand
5. Singer

Options:

- 1) 34512
- 2) 34521
- 3) 45312
- 4) 43521

Correct Answer: 45312

QID : 111 - In the following question, select the missing number from the given alternatives.

6, 17, 10, 14, 14, 11, 18, ?

निम्नलिखित प्रश्न में दिए गए विकल्पों में से लुप्त अंक ज्ञात कीजिए।

6, 17, 10, 14, 14, 11, 18, ?

Options:

- 1) 8
- 2) 7
- 3) 6
- 4) 9

Correct Answer: 8

QID : 112 - A series is given with one term missing. Select the correct alternative from the given ones that will complete the series.

A, B, D, G, K, ?

एक अनुक्रम दिया गया है, जिसमें से एक पद लुप्त है। दिए गए विकल्पों में से वह सही विकल्प चुनिए, जो अनुक्रम को पूरा करे।

A, B, D, G, K, ?

Options:

- 1) N
- 2) M
- 3) P
- 4) O

Correct Answer: P

QID : 113 - In the following question, select the odd word from the given alternatives.

निम्नलिखित प्रश्न में दिए गए विकल्पों में से विषम शब्द को चुनिए।

Options:

- 1) Car
कार
- 2) Motorcycle
मोटर-साइकिल
- 3) Bullock cart
बैलगाड़ी
- 4) Truck
ट्रक

Correct Answer: Bullock cart

बैलगाड़ी

बैलगाड़ी

QID : 114 - In the following question, select the odd number pair from the given alternatives.

निम्नलिखित प्रश्न में दिए गए विकल्पों में से विषम संख्या युग्म को चुनिए।

Options:

- 1) 43 : 47
- 2) 61 : 67
- 3) 71 : 73
- 4) 83 : 87

Correct Answer: 83 : 87

QID : 115 - In the following question, select the odd letters from the given alternatives.

निम्नलिखित प्रश्न में दिए गए विकल्पों में से विषम अक्षरों को चुनिए।

Options:

- 1) DF
- 2) KN
- 3) GI
- 4) SU

Correct Answer: KN




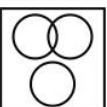
QID : 116 - Identify the diagram that best represents the relationship among the given classes.

Sky, Continent, Ocean

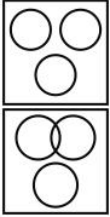
वह आरेख चुनिए जो नीचे दिए गए वर्गों के बीच के संबंध का सही निरूपण करता है।

आकाश, महाद्वीप, महासागर

Options:

- 1) 
- 2) 
- 3) 
- 4) 

Correct Answer:



QID : 117 - In the following question, select the related word from the given alternatives.

Cricket : Ball :: Badminton : ?

निम्नलिखित प्रश्न में दिए गए विकल्पों में से संबंधित शब्द को चुनिए।

क्रिकेट : गेंद :: बैडमिंटन : ?

Options:

- 1) Ball
गेंद
- 2) Shuttle
चिड़ी
- 3) Striker
स्ट्राइकर
- 4) Dice
पासा

Correct Answer: Shuttle

चिड़ी

चिड़ी

QID : 118 - In the following question, select the related number from the given alternatives.

123 : 6 :: 232 : ?

निम्नलिखित प्रश्न में दिए गए विकल्पों में से संबंधित संख्या को चुनिए।

123 : 6 :: 232 : ?

Options:

- 1) 8
- 2) 10
- 3) 12
- 4) 14

Correct Answer: 12

QID : 119 - In the following question, select the related letters from the given alternatives.

TN : YS :: JK : ?

निम्नलिखित प्रश्न में दिए गए विकल्पों में से संबंधित अक्षरों को चुनिए।

TN : YS :: JK : ?

Options:

- 1) OP
- 2) NP
- 3) NO
- 4) OO

Correct Answer: OP

QID : 120 - In the following question, select the word which cannot be formed using the letters of the given word.

COMMUNICATION

निम्नलिखित विकल्पों में से वह शब्द चुनिए जो दिए गए शब्द के अक्षरों का प्रयोग करके नहीं बनाया जा सकता।

COMMUNICATION

Options:

- 1) COMUNE
- 2) NATION
- 3) COMMON
- 4) MUNATION

Correct Answer: COMUNE

QID : 121 - Deepak remembers his examination is after 23rd December. While his mother remembers his examination is before 25rd December. On which date of December is his examination?

दीपक को याद है कि उसकी परीक्षा 23 दिसम्बर के बाद है।

जबकि उसकी माता को याद है कि उसकी परीक्षा 25 दिसम्बर से पहले है। उसकी परीक्षा दिसम्बर की किस तिथि को है?

Options:

- 1) 24
- 2) 23
- 3) 25
- 4) 26

Correct Answer: 24

QID : 122 - In a row of 40 trees, lemon tree is 23rd from the right end. What is its position from left end?

40 वृक्षों की एक पंक्ति में, नीम्बू का वृक्ष दायीं ओर से 23 वाँ है। बायीं ओर से उसका स्थान क्या है?

Options:

- 1) 19
- 2) 17
- 3) 18
- 4) 16

Correct Answer: 18

QID : 123 - In the following question below are given some statements followed by some conclusions. Taking the given statements to be true even if they seem to be at variance from commonly known facts, read all the conclusions and then decide which of the given conclusion logically follows the given statement.

Statements:

I. All pens are chairs.

II. Some chairs are tables.

Conclusions:

I. Some pens are tables.

II. Some chairs are pens.

नीचे दिए गए प्रश्न में कुछ कथन और उनके बाद उन कथनों पर आधारित कुछ निष्कर्ष दिए गए हैं, हालांकि उनमें सामान्य ज्ञात तथ्यों से भिन्नता हो सकती है। सभी निष्कर्ष पढ़ें और फिर निर्धारित करें कि दिए गए कौन से निष्कर्ष, दिए गए कथनों के आधार पर युक्तिसंगत हैं।

कथन:

I. सभी कलम कुर्सियाँ हैं।

II. कुछ कुर्सियाँ मेज़ हैं।

निष्कर्ष:

I. कुछ कलम मेज़ हैं।

II. कुछ कुर्सियाँ कलम हैं।

Options:

1) Only conclusion (II) follows.

केवल निष्कर्ष (II) सही है।

2) Only conclusion (I) follows.

केवल निष्कर्ष (I) सही है।

3) Neither conclusion (I) nor conclusion (II) follows.

न तो निष्कर्ष (I) न ही निष्कर्ष (II) सही है।

4) Both conclusion follow.

दोनों ही निष्कर्ष सही हैं।

Correct Answer: Only conclusion (II) follows.

केवल निष्कर्ष (II) सही है।

केवल निष्कर्ष (II) सही है।

QID : 124 - In a certain code language, "FROG" is written as "IURJ". How is "JUMP" written in that code language?

एक विशिष्ट कोड भाषा में, "FROG" को "IURJ" लिखा जाता है। इस कोड भाषा में "JUMP" को किस प्रकार लिखा जाएगा?

Options:

1) MXPS

2) MXPR

3) MWPS

4) MWPT

Correct Answer: MXPS

QID : 125 - In a certain code language, "CALL" is written as "84" and "ROAM" is written as "141". How is "HANG" written in that code language?

एक विशिष्ट कोड भाषा

में, "CALL" को "84" तथा "ROAM" को "141" लिखा जाता

है। इस कोड भाषा में "HANG" को किस प्रकार लिखा जाएगा?

Options:

1) 30

2) 60

3) 90

4) 120

Correct Answer: 90

QID : 126 - How many positive factors of 120 are there? 120 के कितने धनात्मक गुणनखंड होते हैं?

Options:

1) 12

2) 16

3) 24

4) 36

Correct Answer: 16

QID : 127 - How many times the digit 2 appears in the first 100 natural numbers?

प्रथम 100 प्राकृतिक संख्याओं में अंक 2 कितनी बार आता है?

Options:

1) 10

2) 19

3) 20

4) 21

Correct Answer: 20

QID : 128 -

What is the value of $\sqrt{613} + \sqrt{144}$?

$\sqrt{613} + \sqrt{144}$ का मान क्या है?

Options:

1) 25

2) 12

3) 13

4) 26

Correct Answer: 25

QID : 129 - If 727P is divisible by 8, then what is the value of P?

यदि 727P, 8 से विभाजित है, तो P का मान क्या है?

Options:

1) 2

2) 4

3) 6

4) 8

Correct Answer: 2

QID : 130 -

What is the value of $11\frac{1}{6} + 11\frac{2}{6} + 11\frac{3}{6}$?

$11\frac{1}{6} + 11\frac{2}{6} + 11\frac{3}{6}$ का मान क्या है?

Options:

1) 35

2) 33

3) 34

4) 36

Correct Answer: 34

QID : 131 - Which of the following is not a perfect square?

निम्नलिखित में से कौन एक पूर्ण वर्ग नहीं है?

Options:

1) 10000

2) 961

3) 1521

4) 776

Correct Answer: 776

QID : 132 - A and B can complete a work in 40 days, B and C in 60 days and A and C is 48 days. Who is the most efficient worker among A, B and C?

A तथा B किसी कार्य को 40 दिनों में पूरा करते हैं। B तथा C, 60 दिनों में तथा A तथा C, 48 दिनों में पूरा करते हैं। A, B तथा C में से सबसे अधिक कार्यकुशल कौन है?

Options:

- 1) A
- 2) B
- 3) C
- 4) Cannot be determined

ज्ञात नहीं किया जा सकता

Correct Answer: A

ज्ञात नहीं किया जा सकता

QID : 133 - Pipes A and B can fill a tank in 5 hours and 20 hours respectively. If both pipes are opened then, how much time (in hours) it will take to fill the tank?

पाइप A तथा B एक टंकी को क्रमशः 5 घंटे तथा 20 घंटे में भर सकते हैं। यदि दोनों पाइपों को खोल दिया जाए, तो टंकी को भरने में कितना समय (घंटों में) लगेगा?

Options:

- 1) 4.5
- 2) 3
- 3) 3.5
- 4) 4

Correct Answer: 4

QID : 134 - If the radius of sphere is reduced by 10%, then what will be the percentage change in its total surface area?

यदि किसी गोले की त्रिज्या को 10% से कम कर दी जाए, तो उस गोले के कुल पृष्ठीय क्षेत्रफल में कितने प्रतिशत की कमी होगी?

Options:

- 1) 21
- 2) 19
- 3) 20
- 4) 22

Correct Answer: 19

QID : 135 - Marked price of an article is Rs 3500. It was sold at a discount of 14.28%. If there was a loss of 20%, then what was the cost price (in Rs) of the article?

एक वस्तु का अंकित मूल्य 3500 रु है। उसे 14.28% की छूट पर दिया गया था। यदि 20% की हानि हुई थी, तो क्रय मूल्य (रु में) क्या था?

Options:

- 1) 3500
- 2) 3750
- 3) 4000
- 4) 4250

Correct Answer: 3750

QID : 136 - Cost price of an article is Rs 2500. Its price is marked up by 20%. If the article is sold at 15% discount, then what is the value of profit (in Rs)?

एक वस्तु का क्रय मूल्य 2500 रु है। उसके मूल्य को 20% से बढ़ाया जाता है। यदि वस्तु को 15% की छूट पर बेचा जाए, तो लाभ का मान (रु में) क्या होगा?

Options:

- 1) 50
- 2) 150
- 3) 250
- 4) 75

Correct Answer: 50

QID : 137 - Shopkeeper sold big, medium and small sized bulbs for Rs 150, Rs 80 and Rs 50 respectively. The total number of bulbs sold were in the ratio 2 : 7 : 11. What is the average cost of a bulb?

एक दुकानदार बड़े, मध्य तथा छोटे साइज के बल्ब क्रमशः

150 रु, 80 रु तथा 50 रु में बेचता है। कुल बेचे गए बल्ब का अनुपात 2 : 7 : 11 था। एक बल्ब की औसत कीमत क्या है?

Options:

- 1) 72.5
- 2) 70.5
- 3) 75.5
- 4) 80

Correct Answer: 70.5

QID : 138 - If $x : y : z = 3 : 4 : 9$, then what will be the value of $(2x + 3y + z) : (2z + x - 3y)$?

यदि $x : y : z = 3 : 4 : 9$ है, तो $(2x + 3y + z) : (2z + x - 3y)$ का मान क्या है।

Options:

- 1) 3 : 1
- 2) 2 : 1
- 3) 5 : 3
- 4) 7 : 2

Correct Answer: 3 : 1

QID : 139 - Average age of A and B is 20 years.

Average age of B and C is 18 years. Average age of A and C is 21 years. What is the average age (in years) of A, B and C?

A तथा B की औसत आयु 20 वर्ष है। B तथा C की औसत आयु 18 वर्ष है। A तथा C की औसत आयु 21 वर्ष है। A, B तथा C की औसत आयु (वर्षों में) क्या है?

Options:

- 1) 7.1
- 2) 19.67
- 3) 19
- 4) 29.5

Correct Answer: 29.5

QID : 140 - There would be 15% loss if a toy is sold for Rs 25.50. At what price should it be sold to earn a profit of 25%?

एक खिलौने को 25.50 रु में बेचने पर 15% की हानि होती है। 25% लाभ प्राप्त करने के लिए खिलौने को कितने रु में बेचना चाहिए?

Options:

- 1) 33.5
- 2) 35

3) 37.5

4) 36

Correct Answer: 37.5

QID : 141 - If the cost price of an article is 50% of the selling price, then what is the profit percent?

यदि एक वस्तु का क्रय मूल्य, विक्रय मूल्य का 50% है, तो लाभ प्रतिशत क्या है?

Options:

1) 100

2) 50

3) 75

4) 150

Correct Answer: 100

QID : 142 - What is the value of (36% of 4400) – (20% of 780)?

(4400 का 36%) – (780 का 20%) का मान क्या है?

Options:

1) 1378

2) 1578

3) 1428

4) 1298

Correct Answer: 1428

QID : 143 - What is the value of 20% of 2/3 of 720?

720 के 2/3 का 20% का मान क्या है?

Options:

1) 96

2) 40

3) 112

4) 114

Correct Answer: 96

QID : 144 - A man covers 3/5 of the total distance by train and the remaining 40 km by bus. What is his total journey (in km)?

एक व्यक्ति अपनी कुल यात्रा का 3/5 भाग रेलगाड़ी द्वारा तय करता है। शेष बची दूरी 40 कि.मी. वह बस द्वारा तय करता है। उसकी कुल यात्रा की लम्बाई (कि.मी. में) क्या है?

Options:

1) 50

2) 75

3) 100

4) 150

Correct Answer: 100

QID : 145 - A man can row 8 km/hr in still water. If the speed of the current is 4 km/hr, he takes 8 hours more in upstream than in the downstream. What is the distance (in km)?

शांत जल में एक व्यक्ति की गति 8 कि.मी./घंटा है। यदि धारा की गति 4 कि.मी./घंटा है, धारा के अनुकूल दिशा में कुछ दूर जाने में जितना समय लगता है, उससे 8 घंटे अधिक समय धारा के प्रतिकूल दिशा में उतनी ही दूरी तय करने में लगता है। दूरी (कि.मी. में) क्या है?

Options:

1) 24

2) 48

3) 36

4) 72

Correct Answer: 48

QID : 146 - A certain amount is invested in a scheme of simple interest. It amounts to Rs 3600 in 5 years and Rs 4560 in 8 years. What is the rate of interest (in percentage)?

एक निश्चित राशि को साधारण ब्याज वाली एक योजना में निवेश किया गया। वह 5 वर्षों में 3600 रु तथा 8 वर्षों में 4560 रु हो जाती है। ब्याज की दर (प्रतिशत में) क्या है?

Options:

1) 14

2) 24

3) 16

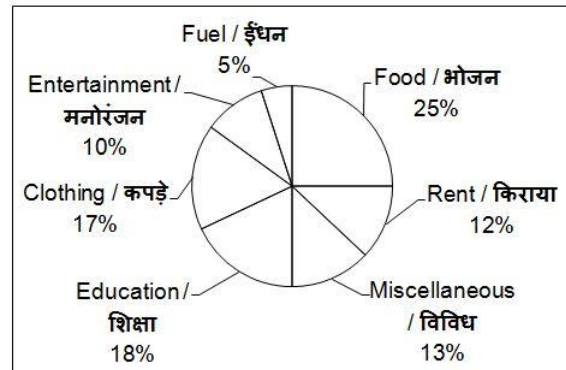
4) 20

Correct Answer: 16

QID : 147 -

The pie chart given below shows the monthly expenses on various heads of a family. The total expenditure of the family is Rs 30000.

नीचे दिए गए वृत्त चित्र में एक परिवार के विभिन्न मदों पर किये जाने वाले मासिक व्यय को दर्शाया गया है। परिवार का कुल व्यय 30000 रु है।



What is the amount (in Rs) spent on food? भोजन पर व्यय की गई राशि (रु में) क्या है?

Options:

1) 2500

2) 5000

3) 7500


4) 8000

Correct Answer: 7500

QID : 148 -

The pie chart given below shows the monthly expenses on various heads of a family. The total expenditure of the family is Rs 30000.

नीचे दिए गए वृत्त चित्र में एक परिवार के विभिन्न मदों पर किये जाने वाले मासिक व्यय को दर्शाया गया है। परिवार का कुल व्यय 30000 रु है।



What is the total amount (in Rs) spent on fuel and education?

ईंधन तथा शिक्षा पर कुल कितना व्यय (रु में) हुआ है?

Options:


- 1) 6900
- 2) 7100
- 3) 5700
- 4) 6300

Correct Answer: 6900

QID : 149 -

The pie chart given below shows the monthly expenses on various heads of a family. The total expenditure of the family is Rs 30000.

नीचे दिए गए वृत्त चित्र में एक परिवार के विभिन्न मदों पर किये जाने वाले मासिक व्यय को दर्शाया गया है। परिवार का कुल व्यय 30000 रु है।



What is the difference (in Rs) between the amount spent on entertainment and clothing?

मनोरंजन तथा कपड़ों पर किए गए व्यय का अंतर (रु में) कितना है?

Options:


- 1) 2300
- 2) 2700
- 3) 1800
- 4) 2100

Correct Answer: 2100

QID : 150 -

The pie chart given below shows the monthly expenses on various heads of a family. The total expenditure of the family is Rs 30000.

नीचे दिए गए वृत्त चित्र में एक परिवार के विभिन्न मदों पर किये जाने वाले मासिक व्यय को दर्शाया गया है। परिवार का कुल व्यय 30000 रु है।



Amount spent on fuel is what percent of amount spent on food?

ईंधन पर किया गया व्यय खाने पर किए गए व्यय का कितना प्रतिशत है?

Options:

- 1) 25
- 2) 20
- 3) 5
- 4) 40

Correct Answer: 20

QID : 151 - In the following question, some part of the sentence may have errors. Find out which part of the sentence has an error and select the appropriate option. If a sentence is free from error, select 'No Error'.

Rohan suggested to his sisters that they should (1)/ go to the school regularly and (2)/ do their homework sincerely. (3)/ No Error (4)/

Options:

- 1) 1
- 2) 2
- 3) 3
- 4) 4

Correct Answer: 4

QID : 152 - In the following question, some part of the sentence may have errors. Find out which part of the sentence has an error and select the appropriate option. If a sentence is free from error, select 'No Error'.

Your sister's in-law's friend is (1)/ seriously ill and she wants you (2)/ to see her as soon as possible. (3)/ No Error (4)/

Options:

- 1) 1
- 2) 2
- 3) 3
- 4) 4

Correct Answer: 1

QID : 153 - In the following question, the sentence given with blank to be filled in with an appropriate word. Select the correct alternative out of the four and indicate it by selecting the appropriate option.

Mahatma Gandhi's life _____ some of the greatest events of the century.

Options:

- 1) overcome
- 2) included
- 3) spanned
- 4) rumoured

Correct Answer: included

QID : 154 - In the following question, the sentence given with blank to be filled in with an appropriate word. Select the correct alternative out of the four and indicate it by selecting the appropriate option.

It _____ to me that her husband was incurable.

Options:

- 1) happened
- 2) occurred
- 3) suggested
- 4) flashed

Correct Answer: occurred

QID : 155 - In the following question, out of the given four alternatives, select the one which best expresses the meaning of the given word.

Resistant

Options:

- 1) Opposing
- 2) Obedient
- 3) Submissive
- 4) Willing

Correct Answer: Opposing

QID : 156 - In the following question, out of the given four alternatives, select the one which best expresses the meaning of the given word.

Grasp

Options:

- 1) Ignore
- 2) Misunderstand
- 3) Release
- 4) Clinch

Correct Answer: Clinch

QID : 157 - In the following question, out of the given four alternatives, select the one which best expresses the meaning of the given word.

Eternal

Options:

- 1) Ending
- 2) Ageless
- 3) Brief
- 4) Temporary

Correct Answer: Ageless

QID : 158 - In the following question, out of the given four alternatives, select the one which is opposite in meaning of the given word.

Deport

Options:

- 1) Exile
- 2) Dismiss
- 3) Permit
- 4) Transport

Correct Answer: Permit

QID : 159 - In the following question, out of the given four alternatives, select the one which is opposite in meaning of the given word.

Profound

Options:

- 1) Ignorant
- 2) Deep
- 3) Heavy
- 4) Learned

Correct Answer: Ignorant

QID : 160 - In the following question, out of the given four alternatives, select the one which is opposite in meaning of the given word.

Feeble

Options:

- 1) Delicate
- 2) Aged
- 3) Effective
- 4) Gentle

Correct Answer: Effective

QID : 161 - In the following question, out of the given four alternatives, select the alternative which best expresses the meaning of the Idiom/Phrase.

Bed of roses

Options:

- 1) A problem difficult to solve
- 2) To take part
- 3) Joy based on false hopes
- 4) A pleasant situation

Correct Answer: A pleasant situation

QID : 162 - In the following question, out of the given four alternatives, select the alternative which best expresses the meaning of the Idiom/Phrase.

Body and soul

Options:

- 1) Free and frank
- 2) With all your energy
- 3) To be an expert
- 4) Mutual cooperation

Correct Answer: With all your energy

QID : 163 - In the following question, out of the four alternatives, select the alternative which will improve the bracketed part of the sentence. In case no improvement is needed, select "no improvement".

I am (a student of the Delhi University).

Options:

- 1) the student of a Delhi University
- 2) a student of Delhi University
- 3) student of Delhi University
- 4) No improvement

Correct Answer: a student of Delhi University

QID : 164 - In the following question, out of the four alternatives, select the alternative which will improve the bracketed part of the sentence. In case no improvement is needed, select "no improvement".

I wish he (**was**) here.

Options:

- 1) has been
- 2) were
- 3) would be
- 4) No improvement

Correct Answer: were

QID : 165 - In the following question, out of the four alternatives, select the alternative which is the best substitute of the phrase.

Stream flowing into another big river

Options:

- 1) Tributary
- 2) Peninsula
- 3) Strait
- 4) Hermit

Correct Answer: Tributary

QID : 166 - In the following question, out of the four alternatives, select the alternative which is the best substitute of the phrase.

That which can be easily believed

Options:

- 1) Assurance
- 2) Credible
- 3) Obvious
- 4) Honorary

Correct Answer: Credible

QID : 167 - In the following question, a word has been written in four different ways out of which only one is correctly spelt. Select the correctly spelt word.

Options:

- 1) Accomodate
- 2) Accomodate
- 3) Acomodate
- 4) Accommodate

Correct Answer: Accommodate

QID : 168 - In the following question, a word has been written in four different ways out of which only one is correctly spelt. Select the correctly spelt word.

Options:

- 1) Bulatin
- 2) Bulletin
- 3) Bulleton
- 4) Bulleten

Correct Answer: Bulletin

QID : 169 - The question below consists of a set of labelled sentences. Out of the four options given, select the most logical order of the sentences to form a coherent paragraph.

Rural population

P: as the number is considered

Q: urban population as far

R: still dominates the

Options:

1) QPR

2) PQR

3) RPQ

4) RQP

Correct Answer: RQP

QID : 170 - The question below consists of a set of labelled sentences. Out of the four options given, select the most logical order of the sentences to form a coherent paragraph.

We can enhance development

P: women power, by giving women

Q: by improving

R: the opportunity to develop themselves

Options:

1) PRQ

2) QRP

3) QPR

4) RPQ

Correct Answer: QPR

QID : 171 - In the following passage some of the words have been left out. Read the passage carefully and select the correct answer for the given blank out of the four alternatives.

In the past, a woman's job was to stay at home _____ care of elderly people. Now many of them _____ to choose to work so they do not have time to take care of the elderly. In addition, _____ homes provide care for a large number of elderly people. This is a _____ service and nurses are trained to take care of _____. They will have frequent checkups and make sure that they always maintain good health every day.

woman's job was to stay at home _____

Options:

1) take

2) do

3) make

4) break

Correct Answer: take

QID : 172 - In the following passage some of the words have been left out. Read the passage carefully and select the correct answer for the given blank out of the four alternatives.

In the past, a woman's job was to stay at home _____ care of elderly people. Now many of them _____ to choose to work so they do not have time to take care of the elderly. In addition, _____ homes provide care for a large number of elderly people. This is a _____ service and nurses are trained to take care of _____. They will have frequent checkups and make sure that they always maintain good health every day.

Now many of them _____ to choose to work

Options:

1) spend

2) mend

3) tend

4) trend

Correct Answer: tend

QID : 173 - In the following passage some of the words have been left out. Read the passage carefully and select

the correct answer for the given blank out of the four alternatives.

In the past, a woman's job was to stay at home _____ care of elderly people. Now many of them _____ to choose to work so they do not have time to take care of the elderly. In addition, _____ homes provide care for a large number of elderly people. This is a _____ service and nurses are trained to take care of _____. They will have frequent checkups and make sure that they always maintain good health every day.

In addition, _____ homes provide

Options:

- 1) commercial
- 2) residential
- 3) retail
- 4) wholesale

Correct Answer: residential

QID : 174 - In the following passage some of the words have been left out. Read the passage carefully and select the correct answer for the given blank out of the four alternatives.

In the past, a woman's job was to stay at home _____ care of elderly people. Now many of them _____ to choose to work so they do not have time to take care of the elderly. In addition, _____ homes provide care for a large number of elderly people. This is a _____ service and nurses are trained to take care of _____. They will have frequent checkups and make sure that they always maintain good health every day.

This is a _____ service

Options:

- 1) unprofessional
- 2) door to door
- 3) lethargic
- 4) professional

Correct Answer: professional

QID : 175 - In the following passage some of the words have been left out. Read the passage carefully and select the correct answer for the given blank out of the four alternatives.

In the past, a woman's job was to stay at home _____ care of elderly people. Now many of them _____ to choose to work so they do not have time to take care of the elderly. In addition, _____ homes provide care for a large number of elderly people. This is a _____ service and nurses are trained to take care of _____. They will have frequent checkups and make sure that they always maintain good health every day.

trained to take care of _____.

Options:

- 1) senior citizens
- 2) young ones
- 3) infants
- 4) toddlers

Correct Answer: senior citizens

QID : 176 - The main watchdog of International Trade is _____.

अंतर्राष्ट्रीय व्यापार का मुख्य प्रहरी _____ है।

Options:

- 1) World Trade Organization (WTO)

विश्व व्यापार केंद्र (डब्लू टी ओ)

2) International Trade Center

अंतर्राष्ट्रीय व्यापार केंद्र

3) World Customs Organization

विश्व व्यवहार केंद्र

4) World Bank (IMF)

विश्व बैंक (आइ एम एफ)

Correct Answer: World Trade Organization (WTO)

विश्व व्यापार केंद्र (डब्लू टी ओ)

विश्व व्यापार केंद्र (डब्लू टी ओ)

QID : 177 - Which of the following economic activities comes under primary sector?

1. Cotton weaving

2. Agriculture

3. Transport

निम्नलिखित में से कौन सी आर्थिक गतिविधियाँ प्राथमिक

क्षेत्र के अंतर्गत आती हैं?

1. कपास की बुनाई

2. कृषि

3. परिवहन

Options:

1) Only I

केवल I

2) Both I & II

I तथा II दोनों

3) Both I & III

I तथा III दोनों

4) All I, II and III

I, II तथा III सभी

Correct Answer: Only I

केवल I

I तथा II दोनों

QID : 178 - Who among the following elects their Chief Minister?

निम्नलिखित में से कौन अपना मुख्यमंत्री चुनते हैं?

Options:

1) Ruling Party Member

सत्ताधारी दल के सदस्य

2) Losing Party Members

विपक्षी दल के सदस्य

3) Governor of State

राज्य के राज्यपाल

4) President of India

भारत के राष्ट्रपति

Correct Answer: Ruling Party Member

सत्ताधारी दल के सदस्य

सत्ताधारी दल के सदस्य

QID : 179 - Fundamental Rights are enumerated in which part of Indian Constitution?

भारतीय संविधान के किस भाग में मौलिक अधिकार वर्णित हैं?

Options:

1) Part I

भाग I

2) Part II

भाग II

3) Part III

भाग III

4) Part IV

भाग IV

Correct Answer: Part III

भाग III

भाग IV

QID : 180 - Who was the most famous Mauryan ruler?

मौर्य वंश के सबसे प्रसिद्ध शासक कौन थे?

Options:

1) Chandragupta Maurya

चन्द्रगुप्त मौर्य

2) Bindusara

बिंदुसार

3) Ashoka

अशोक

4) Chandrapurta-I

चन्द्रगुप्त-I

Correct Answer: Ashoka

अशोक

चन्द्रगुप्त मौर्य

QID : 181 - Khan Abdul Ghaffar was also known by which name?

खान अब्दुल गफ़्फ़ार को किस अन्य नाम से भी जाना जाता था?

Options:

1) Suleman

सुलेमान

2) Badshah Khan

बादशाह खान

3) Abdul Khan

अब्दुल खान

4) None of the these

इनमें से कोई नहीं

Correct Answer: Badshah Khan

बादशाह खान

अब्दुल खान

QID : 182 - The equator represent _____ degree Latitude?

विषुवत्त वृत्त _____ अंश अक्षांश को दर्शाती है?

Options:

1) 23

2) 90

3) 0

4) 67

Correct Answer: 0**QID : 183** - What is the solid portion of the Earth on which we live called?

पृथ्वी का ठोस भाग जिस पर हम रहते हैं उसे क्या कहा जाता है?

Options:

1) Lithosphere

भूमंडल

2) Atmosphere

वायुमंडल

3) Biosphere

जीवमंडल

4) Hydrosphere

जलमंडल

Correct Answer: Lithosphere

भूमंडल

भूमंडल

QID : 184 - Iron in haemoglobin exists as _____.

हीमोग्लोबिन में लौह _____ के रूप में मौजूद रहता है।

Options:

1) Un-ionized iron atom

अन-आयनीकृत परमाणु

2) Ferric ions only

केवल फेरिक आयन

3) Ferrous ions only

केवल फेरस आयन

4) Ferric or ferrous ions depending upon the oxygenated state

ऑक्सीजन की दशा पर निर्भर फेरिक या फेरस आयन

Correct Answer: Ferrous ions only

केवल फेरस आयन

ऑक्सीजन की दशा पर निर्भर फेरिक या फेरस आयन

QID : 185 - Menopause is the stage in human female when _____.

महिलाओं में रजोवृत्ति वह चरण होता है जब _____।

Options:

1) Menstruation starts

मासिक चक्र आरम्भ होता है

2) Puberty begins

यौवनारम्भ होता है

3) Menstruation stops and reproductive capacity is arrested

मासिक चक्र रुक जाता है और प्रजनन क्षमता क्षीण हो जाती है

4) None of the these

इनमें से कोई नहीं

Correct Answer: Menstruation stops and reproductive capacity is arrested

मासिक चक्र रुक जाता है और प्रजनन क्षमता क्षीण हो जाती है

मासिक चक्र रुक जाता है और प्रजनन क्षमता क्षीण हो जाती है

QID : 186 - Which of the following cells of pancreas produce insulin?

अग्नाशय की कौन-सी कोशिकायें इन्सुलिन का निर्माण करती हैं?

Options:

- 1) Alpha cells
अल्फा कोशिकायें
- 2) B cells
बी कोशिकायें
- 3) Beta cells
बीटा कोशिकायें
- 4) T cells
टी कोशिकायें

Correct Answer: Beta cells

बीटा कोशिकायें

बीटा कोशिकायें

QID : 187 - Sound waves are _____.

ध्वनि तरंगें _____ होती हैं।

Options:

- 1) transverse electrical waves
अनुप्रस्थ विद्युत तरंगें
- 2) longitudinal mechanical waves
अनुदैर्घ्य यांत्रिक तरंगें
- 3) surface waves
भू-पृष्ठ तरंगें
- 4) both transverse electrical waves and longitudinal mechanical waves
अनुप्रस्थ विद्युत तरंगें तथा अनुदैर्घ्य यांत्रिक तरंगें दोनों

Correct Answer: longitudinal mechanical waves

अनुदैर्घ्य यांत्रिक तरंगें

अनुदैर्घ्य यांत्रिक तरंगें

QID : 188 - Electromotive force represents _____.

विद्युतवाहक बल _____ दर्शाता है।

Options:

- 1) resistance
प्रतिरोध को
- 2) power
शक्ति को
- 3) energy per unit charge
प्रति इकाई आवेश ऊर्जा को
- 4) current
धारा को

Correct Answer: energy per unit charge

प्रति इकाई आवेश ऊर्जा को

धारा को

QID : 189 - What is the full form WAN?

डब्ल्यू. ए. एन. का असंक्षिप्त रूप क्या है?

Options:

- 1) Wide Area Network
वाइड एरिया नेटवर्क

2) Wide Access Network

वाइड एक्सेस नेटवर्क

3) Work Area Network

वर्क एरिया नेटवर्क

4) Work Access Network

वर्क एक्सेस नेटवर्क

Correct Answer: Wide Area Network

वाइड एरिया नेटवर्क

वाइड एक्सेस नेटवर्क

QID : 190 - Which of the following has an equal number of neutrons and protons?

निम्नलिखित में से किसमें न्यूट्रॉन और प्रोटोन की संख्या

बराबर होती है?

Options:

- 1) Hydrogen
हाइड्रोजन
- 2) Deuterium
ड्यूटीरियम
- 3) Iodine
आयोडीन
- 4) Chlorine
क्लोरीन

Correct Answer: Deuterium

ड्यूटीरियम

हाइड्रोजन

QID : 191 - Which is the fundamental particle not present in the nucleus of hydrogen atom?

हाइड्रोजन परमाणु के नाभिक में कौन-सा मूल कण नहीं पाया जाता?

Options:

- 1) electron
इलेक्ट्रॉन
- 2) proton
प्रोटॉन
- 3) neutron
न्यूट्रॉन
- 4) None of these
इनमें से कोई नहीं

Correct Answer: neutron

न्यूट्रॉन

इलेक्ट्रॉन

QID : 192 - Phosphorus and nitrogen are examples of which type of impurities in sewage?

फॉस्फोरस तथा नाइट्रोजन आदि वाहित मल में किस प्रकार की अशुद्धियों के उदाहरण हैं?

Options:

- 1) Organic
कार्बनिक
- 2) Inorganic
अकार्बनिक

3) Nutrients

पोषक तत्व

4) None of these

इनमें में से कोई नहीं

Correct Answer: Nutrients

पोषक तत्व

पोषक तत्व

QID : 193 - Policy holders of Pradhan Mantri Jeevan Jyoti Bima Yojana get life insurance cover of what amount?

प्रधानमंत्री जीवन ज्योति बीमा योजना के धारक कितनी राशि का जीवन बीमा रक्षण प्राप्त करते हैं?

Options:

1) Rs 1 lakh

1 लाख रु

2) Rs 2 lakh

2 लाख रु

3) Rs 3 lakh

3 लाख रु

4) Rs 5 lakh

5 लाख रु

Correct Answer: Rs 2 lakh

2 लाख रु

1 लाख रु

QID : 194 - Periodic Table was first given by whom? आवर्त सारणी सर्वप्रथम किसके द्वारा दी गई थी?

Options:

1) Otto Blathy

ओटो ब्लाथी

2) Johannes Kepler

योहानेस केप्लर

3) Dmitri Mendeleev

डेमीत्रि मेंडलीफ

4) Michael Faraday

माइकल फैराडे

Correct Answer: Dmitri Mendeleev

डेमीत्रि मेंडलीफ

डेमीत्रि मेंडलीफ

QID : 195 - With which sport is Shekhar Naik associated?

शेखर नाइक किस खेल से जुड़े हैं?

Options:

1) Hockey

हॉकी

2) Cricket

क्रिकेट

3) Football

फुटबॉल

4) Table Tennis

टेबल टेनिस

Correct Answer: Cricket

क्रिकेट

फुटबॉल

QID : 196 - Rath Yatra of Lord Jagannath is a famous festival of which state?

भगवान जगन्नाथ की रथ यात्रा किस राज्य का एक प्रसिद्ध त्योहार है?

Options:

1) Odisha

ओडिशा

2) Uttar Pradesh

उत्तर प्रदेश

3) Andhra Pradesh

आंध्र प्रदेश

4) Tamil Nadu

तमिलनाडु

Correct Answer: Odisha

ओडिशा

ओडिशा

QID : 197 - Who has won the National Bravery Award 2017?

किसने राष्ट्रीय बहादुरी पुरस्कार 2017 जीता है?

Options:

1) Tarh Peeju

तार पीजू

2) Bhagwant Singh

भगवंत सिंह

3) Rajan Tiwari

राजन तिवारी

4) Prakshit Dhandekar

प्रकाश धन्डेकर

Correct Answer: Tarh Peeju

तार पीजू

प्रकाश धन्डेकर

QID : 198 - Who is the author of the book named 'Narendra Modi: A Political Biography'?

नरेंद्र मोदी: एक राजनीतिक जीवनी' नामक पुस्तक के लेखक कौन हैं?

Options:

1) Alexander Bard

अलेक्जेंडर बार्ड

2) Neel Mukherjee

नील मुखर्जी

3) Daman Singh

दमन सिंह

4) Andy Marino

एंडी मैरिनो

Correct Answer: Andy Marino

एंडी मैरिनो

अलेक्जेंडर बार्ड

QID : 199 - Which country is not among the G4 countries?

कौन सा देश जी 4 देशों में नहीं है?

Options:

1) Brazil

ब्राज़ील

2) Germany

जर्मनी

3) Japan

जापान

4) Pakistan

पाकिस्तान

Correct Answer: Pakistan

पाकिस्तान

पाकिस्तान

QID : 200 -

Options:

1) C-1, A-3, B-2

2) A-3, B-1, C-2

3) B-2, A-3, C-1

4) C-2, A-1, B-3

Correct Answer: A-3, B-1, C-2