



REGISTRATION NUMBER : 2405113703
CANDIDATES NAME: MOCKTIME.COM
EXAM NAME : SSC CHSL
EXAM DURATION : 01:00 Hrs
TOTAL MARKS : 200
TOTAL NO OF QUESTIONS : 100

QID : 1 -

In the following question, select the number which can be placed at the sign of question mark (?) from the given alternatives.

निम्नलिखित प्रश्न में दिए गए विकल्पों में से प्रश्न चिह्न (?) के स्थान पर आने वाली संख्या को चुनिए।

4	6	9
5	8	7
6	7	8
3	7	?

Options:

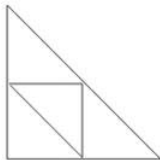
- 1) 7
- 2) 9
- 3) 8
- 4) 6

Correct Answer: 8

QID : 2 -

How many triangles are there in the given figure?

दी गई आकृति में कितने त्रिभुज हैं?



Options:

- 1) 3
- 2) 7
- 3) 5
- 4) 9

Correct Answer: 5

QID : 3 -

A word is represented by only one set of numbers as given in any one of the alternatives. The sets of numbers given in the alternatives are represented by two classes of alphabets as shown in the given two matrices. The columns and rows of **Matrix-I** are numbered from 0 to 4 and that of **Matrix-II** are numbered from 5 to 9. A letter from these matrices can be represented first by its row and next by its column, for example, 'Y' can be represented by 42, 78, etc., and 'N' can be represented by 04, 89, etc. Similarly, you have to identify the set for the word "**FACT**".

एक शब्द केवल एक संख्या-समूह द्वारा दर्शाया गया है, जैसा कि विकल्पों में से किसी एक में दिया गया है। विकल्पों में दिए गए संख्या-समूह अक्षरों के दो वर्गों द्वारा दर्शाए गए हैं, जैसा कि दिए गए दो आव्यूहों में है। **आव्यूह-I** के स्तम्भ और पंक्ति की संख्या 0 से 4 है और **आव्यूह-II** की 5 से 9। इन आव्यूहों से एक अक्षर को पहले उसकी पंक्ति और बाद में स्तम्भ संख्या द्वारा दर्शाया जा सकता है। उदाहरण के लिए 'Y' को 42, 78, आदि द्वारा दर्शाया जा सकता है तथा 'N' को 04, 89, आदि द्वारा दर्शाया जा सकता है। इसी तरह से आपको प्रश्न में दिए शब्द "**FACT**" के लिए समूह को पहचानना है।

Matrix-I आव्यूह-I						Matrix-II आव्यूह-II					
	0	1	2	3	4	5	6	7	8	9	
0	F	E	J	T	N	5	U	E	S	V	X
1	Y	M	B	C	A	6	O	K	F	C	Z
2	Z	G	W	I	Q	7	L	Q	Z	Y	D
3	D	F	A	L	R	8	A	E	I	S	N
4	U	I	Y	V	X	9	L	M	T	C	I

Options:

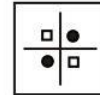
- 1) 00, 14, 13, 97
- 2) 31, 32, 02, 03
- 3) 67, 86, 97, 98
- 4) 23, 89, 68, 23

Correct Answer: 00, 14, 13, 97

QID : 4 -

From the given answer figures, select the one in which the question figure is hidden/embedded.

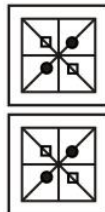
दी गई उत्तर आकृतियों में से उस उत्तर आकृति को चुनिए जिस में प्रश्न आकृति निहित है।



Options:

- 1)
- 2)
- 3)
- 4)

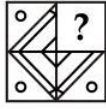
Correct Answer:



QID : 5 -

Which answer figure will complete the pattern in the question figure?

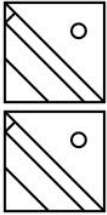
कौन सी उत्तर आकृति प्रश्न आकृति के प्रतिरूप को पूरा करेगी?



Options:

- 1)
- 2)
- 3)
- 4)

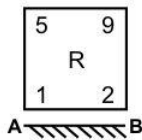
Correct Answer:



QID : 6 -

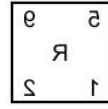
If a mirror is placed on the line AB, then which of the answer figures is the right image of the given figure?

यदि एक दर्पण को AB रेखा पर रखा जाए, तो दी गई उत्तर आकृतियों में से कौन सी आकृति प्रश्न आकृति की सही प्रतिबिम्ब होगी?

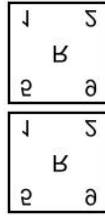


Options:

- 1)
- 2)
- 3)



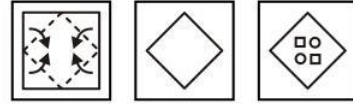
4) Correct Answer:



QID : 7 -

A piece of paper is folded and punched as shown below in the question figures. From the given answer figures, indicate how it will appear when opened?

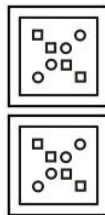
नीचे के प्रश्न आकृतियों में दिखाए अनुसार कागज को मोड़कर छेदने तथा खोलने के बाद वह किस उत्तर आकृति जैसा दिखाई देगा?



Options:

- 1)
- 2)
- 3)
- 4)

Correct Answer:



QID : 8 -

If 'Z' means 'x', 'Y' means '+', 'A' means '÷' and 'C' means '-', then

27 Y 3 Z 12 A 4 = ?

यदि 'Z' का अर्थ 'x', 'Y' का अर्थ '+', 'A' का अर्थ '÷' तथा 'C' का अर्थ '-' हो, तो

27 Y 3 Z 12 A 4 = ?

Options:

- 1) 90
- 2) 36
- 3) 42
- 4) 30

Correct Answer: 36

QID : 9 - If $4 P 3 L 6 = 2$ and $12 P 3 L 4 = 9$, then $6 L 4 P 6 = ?$

यदि $4 P 3 L 6 = 2$ तथा $12 P 3 L 4 = 9$ हो, तो

$6 L 4 P 6 = ?$

Options:

- 1) 12
- 2) 4
- 3) 11
- 4) 9

Correct Answer: 9

QID : 10 - Arrange the given words in the sequence in which they occur in the dictionary.

1. Trail
2. Trump
3. Triology
4. Tripod
5. Triangle

निम्नलिखित शब्दों को शब्दकोश में आने वाले क्रम के अनुसार लिखें।

1. Trail
2. Trump
3. Triology
4. Tripod
5. Triangle

Options:

- 1) 13524
- 2) 15324
- 3) 15342
- 4) 13542

Correct Answer: 15342

QID : 11 - In the following question, select the missing number from the given series.

2, 5, 11, 20, ?

निम्नलिखित प्रश्न में दिए गए विकल्पों में से लुप्त अंक ज्ञात कीजिए।

2, 5, 11, 20, ?

Options:

- 1) 30
- 2) 31
- 3) 32
- 4) 33

Correct Answer: 32

QID : 12 - A series is given with one term missing. Select the correct alternative from the given ones that will complete the series.

T, Q, N, K, ?, E

एक अनुक्रम दिया गया है, जिसमें से एक पद लुप्त है। दिए गए विकल्पों में से वह सही विकल्प चुनिए, जो अनुक्रम को पूरा करे।

T, Q, N, K, ?, E

Options:

- 1) J
- 2) I
- 3) H
- 4) G

Correct Answer: H

QID : 13 - In the following question, select the odd word from the given alternatives.

निम्नलिखित प्रश्न में दिए गए विकल्पों में से विषम शब्द को चुनिए।

Options:

- 1) Square
वर्ग
- 2) Equilateral Triangle
समबाहु त्रिभुज
- 3) Regular Hexagon
समषट्भुज
- 4) Rectangle
आयत

Correct Answer: Rectangle

आयत

आयत

QID : 14 - In the following question, select the odd number pair from the given alternatives.

निम्नलिखित प्रश्न में दिए गए विकल्पों में से विषम संख्या युग्म को चुनिए।

Options:

- 1) 19 - 21
- 2) 13 - 17
- 3) 18 - 20
- 4) 23 - 28

Correct Answer: 18 - 20

QID : 15 - In the following question, select the odd letters from the given alternatives.

निम्नलिखित प्रश्न में दिए गए विकल्पों में से विषम अक्षरों को चुनिए।

Options:

- 1) AD
- 2) MP
- 3) QU
- 4) WZ

Correct Answer: QU

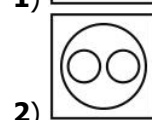
QID : 16 - Identify the diagram that best represents the relationship among the given classes.

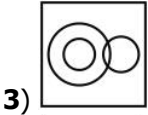
Snake, Crocodile, Reptiles

वह आरेख चुनिए जो नीचे दिए गए वर्गों के बीच के संबंध का सही निरूपण करता है।

साँप, मगरमच्छ, सरीसृप

Options:





3)



4)

Correct Answer:**QID : 17** - In the following question, select the related word from the given alternatives.**Hockey : Stick :: Badminton : ?**

निम्नलिखित प्रश्न में दिए गए विकल्पों में से संबंधित शब्द को चुनिए।

हॉकी : स्टिक :: बैडमिंटन : ?**Options:**

- 1) Bat
बल्ला
- 2) Racquet
रैकेट
- 3) Court
कोर्ट
- 4) Ball
गेंद

Correct Answer: Racquet

रैकेट

रैकेट

QID : 18 - In the following question, select the related number from the given alternatives.**9 : 728 :: 10 : ?**

निम्नलिखित प्रश्न में दिए गए विकल्पों में से संबंधित संख्या को चुनिए।

9 : 728 :: 10 : ?**Options:**

- 1) 729
- 2) 1000
- 3) 998
- 4) 999

Correct Answer: 999**QID : 19** - In the following question, select the related letters from the given alternatives.**AZ : CX :: MN : ?**

निम्नलिखित प्रश्न में दिए गए विकल्पों में से संबंधित अक्षरों को चुनिए।

AZ : CX :: MN : ?**Options:**

- 1) OP
- 2) OL
- 3) MN

4) CZ

Correct Answer: OL**QID : 20** - In the following question, select the word which cannot be formed using the letters of the given word.**RUDIMENTARY**

निम्नलिखित विकल्पों में से वह शब्द चुनिए जो दिए गए शब्द के अक्षरों का प्रयोग करके नहीं बनाया जा सकता।

RUDIMENTARY**Options:**

- 1) RUDE
- 2) MARRY
- 3) YARD
- 4) ROAD

Correct Answer: ROAD**QID : 21** - A and B starts from same point and walks 30 km in opposite directions to each other. A turns left and walks 10 km. B turns left and walks 10 km. How far (in km) are they from each other?

A तथा B एक ही बिंदु से चलना आरंभ करते हैं तथा दोनों विपरीत दिशा में 30 कि.मी. चलते हैं। A बायीं ओर मुड़कर 10 कि.मी. चलता है। B बायीं ओर मुड़कर 10 कि.मी. चलता है। वे एक दूसरे से कितनी दूरी (कि.मी. में) पर हैं?

Options:

- 1) $20\sqrt{10}$
- 2) $40\sqrt{5}$
- 3) 80
- 4) 60

Correct Answer: $20\sqrt{10}$ **QID : 22** - Mango tree is 21st from either end in a row of trees. How many trees are there in the row?

वृक्षों की एक पंक्ति में, आम का वृक्ष दोनों छोर से 21-वां है। पंक्ति में कितने वृक्ष हैं?

Options:

- 1) 40
- 2) 42
- 3) 41
- 4) 39

Correct Answer: 41**QID : 23** - In the following question below are given some statements followed by some conclusions. Taking the given statements to be true even if they seem to be at variance from commonly known facts, read all the conclusions and then decide which of the given conclusion logically follows the given statements.**Statements:**

- I. All cup are plates.
- II. Some plates are red.

Conclusions:

- I. All plates are cup.
- II. Some red are plates.

नीचे दिए गए प्रश्न में कुछ कथन और उनके बाद उन कथनों पर आधारित कुछ निष्कर्ष दिए गए हैं, हालांकि उनमें सामान्य ज्ञात तथ्यों से भिन्नता हो सकती है। सभी निष्कर्ष पढ़ें और

फिर निर्धारित करें कि दिए गए कौन से निष्कर्ष, दिए गए कथनों के आधार पर युक्तिसंगत हैं।

कथन:

- I. सभी कप प्लेट हैं।
- II. कुछ प्लेट लाल हैं।

निष्कर्ष:

- I. सभी प्लेट कप हैं।
- II. कुछ लाल प्लेट हैं।

Options:

- 1) Only conclusion (I) follows.
केवल निष्कर्ष (I) सही है।
- 2) Only conclusion (II) follows.
केवल निष्कर्ष (II) सही है।
- 3) Both conclusion follow.
दोनों ही निष्कर्ष सही हैं।
- 4) Neither conclusion (I) nor conclusion (II) follows.
न तो निष्कर्ष (I) न ही निष्कर्ष (II) सही है।

Correct Answer: Only conclusion (II) follows.

केवल निष्कर्ष (II) सही है।

केवल निष्कर्ष (II) सही है।

QID : 24 - In a certain code language, "EURO" is written as "DTQN". How is "FAKE" written in that code language?

एक विशिष्ट कोड भाषा में, "EURO" को "DTQN" लिखा जाता है। इस कोड भाषा में "FAKE" को किस प्रकार लिखा जाएगा?

Options:

- 1) EZJD
- 2) EZLD
- 3) EBJF
- 4) GBJF

Correct Answer: EZJD

QID : 25 - In a certain code language, "BUS" is written as "43" and "BUY" is written as "49". How is "CAP" written in that code language?

एक विशिष्ट कोड भाषा

में, "BUS" को "43" तथा "BUY" को "49" लिखा जाता है।

इस कोड भाषा में "CAP" को किस प्रकार लिखा जाएगा?

Options:

- 1) 22
- 2) 19
- 3) 20
- 4) 21

Correct Answer: 21

QID : 26 - If $N = \sqrt{9} + \sqrt{6}$, then what is the value of $1/N$?

यदि $N = \sqrt{9} + \sqrt{6}$ है, तो $1/N$ का मान क्या है?

Options:

- 1) $\sqrt{9} - \sqrt{6}$
- 2) $3(\sqrt{9} - \sqrt{6})$
- 3) $(\sqrt{9} - \sqrt{6})/3$
- 4) $(\sqrt{9} - \sqrt{6})/4$

Correct Answer: $(\sqrt{9} - \sqrt{6})/3$

QID : 27 - What is the value of $17 + 18 + \dots + 40$?
 $17 + 18 + \dots + 40$ का मान क्या है?

Options:

- 1) 504
- 2) 724
- 3) 684
- 4) 324

Correct Answer: 684

QID : 28 - What is the units digit of $12^{81} \times 13^{87}$?
 $12^{81} \times 13^{87}$ का इकाई अंक क्या है?

Options:

- 1) 6
- 2) 3
- 3) 4
- 4) 2

Correct Answer: 4

QID : 29 - How many numbers are there from 500 to 590 which are divisible by both 2 and 7?

500 से 590 तक ऐसी कितनी संख्याएँ हैं जो 2 तथा 7 दोनों से विभाजित होती हैं?

Options:

- 1) 6
- 2) 7
- 3) 9
- 4) 8

Correct Answer: 7

QID : 30 - Which of the following statement(s) is/are true?

I. $\sqrt{7} - \sqrt{6} > \sqrt{5} - \sqrt{3}$

II. $\sqrt{4} - \sqrt{3} > \sqrt{6} - \sqrt{5}$

निम्नलिखित में से कौन सा/से कथन सत्य है/हैं?

I. $\sqrt{7} - \sqrt{6} > \sqrt{5} - \sqrt{3}$

II. $\sqrt{4} - \sqrt{3} > \sqrt{6} - \sqrt{5}$

Options:

- 1) Only I
केवल I
- 2) Only II
केवल II
- 3) Both I and II
I तथा II दोनों
- 4) Neither I nor II
न तो I न ही II

Correct Answer: Only II

केवल II

केवल I

QID : 31 -

What is the value of $\sqrt{40 + \sqrt{9} + \sqrt{36}}$?

$\sqrt{40 + \sqrt{9} + \sqrt{36}}$ का मान क्या है?

Options:

- 1) 5
- 2) 6

- 3) 8
4) 7

Correct Answer: 7

QID : 32 - P alone can do a work in 25 days. P is 40% less efficient than Q. In how many days can Q alone do the work?

P एक कार्य को अकेला 25 दिनों में कर सकता है। P, Q से 40% कम कार्यकुशल है। Q अकेला उस कार्य को कितने दिन में कर सकता है?

Options:

- 1) 18
2) 20
3) 15
4) 16

Correct Answer: 15

QID : 33 - Pipe A can fill a tank in 10 hours and pipe B can fill the same tank in 12 hours. Pipe C can empty the same full tank in 6 hours. If all the pipes are opened together, then what portion of the tank will be filled after 12 hours?

पाइप A एक टंकी को 10 घंटे में भर सकता है तथा पाइप B उसी टंकी को 12 घंटे में भर सकता है। उस भरी हुई टंकी को पाइप C, 6 घंटे में खाली कर सकता है। यदि सभी पाइपों को एक साथ खोल दिया जाये, तो 12 घंटे बाद टंकी का कितना हिस्सा भर जायेगा?

Options:

- 1) $\frac{3}{4}$
2) $\frac{1}{5}$
3) $\frac{1}{4}$
4) $\frac{4}{5}$

Correct Answer: $\frac{1}{5}$

QID : 34 - The length of two parallel sides of a trapezium are 10 cm and 13 cm. If the area of the trapezium is 460 cm^2 , then what is the value (in cm) of its height?

एक समलम्ब की दो समांतर भुजाओं की लम्बाई 10 से.मी. तथा 13 से.मी. है। यदि समलम्ब का क्षेत्रफल 460 से.मी.^2 है, तो उसकी ऊंचाई का मान (से.मी. में) क्या है?

Options:

- 1) 42
2) 40
3) 36
4) 48

Correct Answer: 40

QID : 35 - A wholeseller offers 10% discount on pens which have been marked 60% above the cost price. Sumit bought the pen for Rs 504. What was the cost price (in Rs) of the pens?

एक थोक विक्रेता क्रय मूल्य से 60% अधिक अंकित मूल्य वाले कलमों पर 10% की छूट देता है। सुमित ने 504 रु में कलम खरीदी। उन कलमों का क्रय मूल्य (रु में) क्या था?

Options:

- 1) 220
2) 300

- 3) 350
4) 280

Correct Answer: 350

QID : 36 - A man purchases a pair of shoes for Rs 528 and fixes its marked price in such a way that after allowing a discount of 12%, he earns a profit of 40%. What is the marked price (in Rs) of the shoes?

एक व्यक्ति 528 रु में एक जोड़ी जूते खरीदता है तथा इसका अंकित मूल्य इस तरह निर्धारित करता है कि 12% की छूट देने के पश्चात भी उसे 40% का लाभ प्राप्त होता है। जूतों का अंकित मूल्य (रु में) क्या है?

Options:

- 1) 840
2) 770
3) 860
4) 700

Correct Answer: 840

QID : 37 - Divide Rs. 9180 among M, N and O so that M get $(\frac{10}{5})^{\text{th}}$ of N's share and O gets $(\frac{6}{5})^{\text{th}}$ of M's share. What is the share (in Rs) of O?

9180 रु को M, N तथा O में इस प्रकार विभाजित करें की M को N के हिस्से का $(\frac{10}{5})$ -वां भाग मिले तथा O को M के हिस्से का $(\frac{6}{5})$ -वां भाग मिले। O का हिस्सा (रु में) क्या है?

Options:

- 1) 2200
2) 2350
3) 4080
4) 4800

Correct Answer: 4080

QID : 38 - If 5.4 of a = 9.9 of b, then what is a : b? यदि a का 5.4 = b का 9.9 हो, तो a : b क्या है?

Options:

- 1) 6 : 7
2) 11 : 6
3) 9 : 11
4) 11 : 13

Correct Answer: 11 : 6

QID : 39 - The average of 11 numbers is 8. If a number 12 is removed, then what will be the new average?

11 संख्याओं का औसत 8 है। यदि एक संख्या 12 को हटाया जाये, तो नयी औसत क्या होगी?

Options:

- 1) 7.4
2) 7.6
3) 7.8
4) 8.2

Correct Answer: 7.6

QID : 40 - By selling 60 grams of rice, a person losses the cost price of 20 grams of rice. What is his loss percent?

60 ग्राम चावल बेचकर एक व्यक्ति को 20 ग्राम चावल के क्रय मूल्य के बराबर हानि होती है। उसका हानि प्रतिशत क्या है?

Options:

- 1) 33.33

- 2) 66.66
3) 50
4) 75

Correct Answer: 33.33

QID : 41 - If some books are bought at Rs 9 each and sold at Rs 15 each, then what is the profit percentage?
यदि कुछ पुस्तकें 9 रु प्रति पुस्तक की दर से खरीदकर 15 रु प्रति पुस्तक की दर से बेच दी गई है, तो लाभ प्रतिशत क्या है?

Options:

- 1) 75
2) 120
3) 80
4) 66.67

Correct Answer: 66.67

QID : 42 - Sum of two numbers is 150% of the larger number. If smaller number is 16, then what is the value of the larger number?

दो संख्याओं का योग, बड़ी संख्या का 150% है। यदि छोटी संख्या 16 है, तो बड़ी संख्या का मान क्या है?

Options:

- 1) 32
2) 48
3) 24
4) 30

Correct Answer: 32

QID : 43 - In a city 20% people are literates. If the number of literate people is 5000, then what is the total number of people?

एक शहर में 20% लोग साक्षर हैं। यदि साक्षर लोगों की संख्या 5000 है, तो लोगों की कुल संख्या क्या है?

Options:

- 1) 25000
2) 35000
3) 20000
4) 40000

Correct Answer: 25000

QID : 44 - The speed of a boat in still water is 50 km/hr. It covers a distance of 500 km upstream in 20 hours. What is the speed (in km/hr) of the stream?

शांत जल में एक नाव की गति 50 कि.मी./घंटा है। वह धारा के प्रतिकूल 500 कि.मी. की दूरी 20 घंटे में तय करती है। धारा की गति (कि.मी./घंटा में) क्या है?

Options:

- 1) 20
2) 25
3) 45
4) 30

Correct Answer: 25

QID : 45 - A train running with a speed of 9 km/hr, crosses a telephone pole. If the length of train is 360 meters, then what is the time taken (in seconds) by the train to cross the pole?

एक रेलगाड़ी 9 कि.मी./घंटा की गति से चल रही है, एक टेलीफोन के खम्बे को पार करती है। यदि रेलगाड़ी की लम्बाई 360 मीटर है, तो रेलगाड़ी खम्बे को पार करने में कितना समय (सेकण्ड में) लेती है?

Options:

- 1) 140
2) 125
3) 144
4) 150

Correct Answer: 144

QID : 46 - A sum becomes 3 times in 5 years at compound interest. In how many years the same sum will become 9 times?

एक राशि चक्रवृद्धि ब्याज की दर से 5 वर्षों में 3 गुना हो जाती है। कितने वर्षों में वही धनराशि 9 गुना हो जाएगी?

Options:

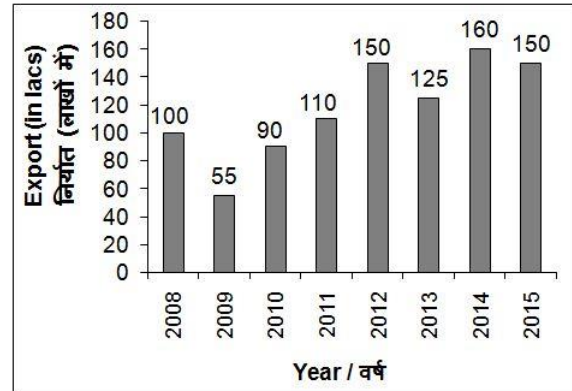
- 1) 5
2) 10
3) 15
4) 20

Correct Answer: 10

QID : 47 -

The bar chart given below shows the export (in lacs) from India from year 2008 to 2015.

नीचे दिए गए दण्ड चित्र में वर्ष 2008 से 2015 तक भारत से निर्यात (लाखों में) को दर्शाया गया है।



What is the percentage change in the exports from year 2012 to year 2013?

वर्ष 2012 से वर्ष 2013 तक निर्यात में प्रतिशत परिवर्तन क्या है?

Options:

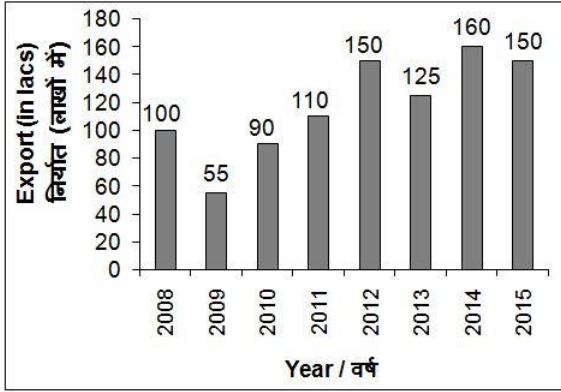
- 1) 16.66
2) 33.33
3) 25
4) 66.67

Correct Answer: 16.66

QID : 48 -

The bar chart given below shows the export (in lacs) from India from year 2008 to 2015.

नीचे दिए गए दण्ड चित्र में वर्ष 2008 से 2015 तक भारत से निर्यात (लाखों में) को दर्शाया गया है।



For how many years was the exports from India (in lacs) more than 110 lacs?

कितने वर्षों के लिये भारत से निर्यात (लाखों में) 110 लाख से अधिक था?

Options:

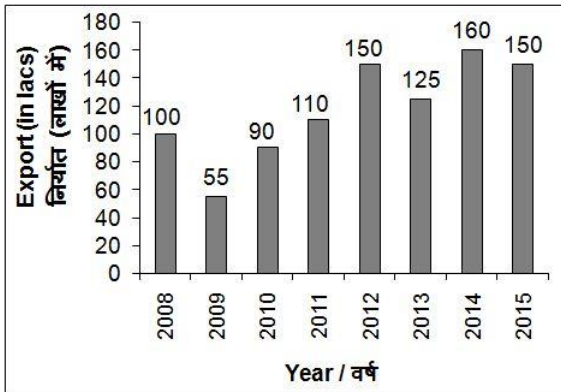
- 1) 5
- 2) 4
- 3) 6
- 4) 2

Correct Answer: 4

QID : 49 -

The bar chart given below shows the export (in lacs) from India from year 2008 to 2015.

नीचे दिए गए दण्ड चित्र में वर्ष 2008 से 2015 तक भारत से निर्यात (लाखों में) को दर्शाया गया है।



What was the difference (in lacs) between exports from India in year 2011 and year 2014?

वर्ष 2011 तथा वर्ष 2014 में भारत से निर्यात का अंतर (लाखों में) क्या था?

Options:

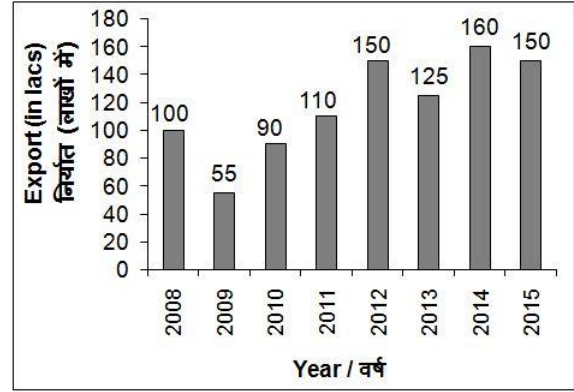
- 1) 75
- 2) 25
- 3) 50
- 4) 100

Correct Answer: 50

QID : 50 -

The bar chart given below shows the export (in lacs) from India from year 2008 to 2015.

नीचे दिए गए दण्ड चित्र में वर्ष 2008 से 2015 तक भारत से निर्यात (लाखों में) को दर्शाया गया है।



In year 2015, the export was more than that of which of the following year?

वर्ष 2015 में निर्यात निम्नलिखित में से किस वर्ष से अधिक था?

Options:

- 1) 2012
- 2) 2014
- 3) 2013
- 4) None of these

इनमें से कोई नहीं

Correct Answer: 2013

QID : 51 - In the following question, some part of the sentence may have errors. Find out which part of the sentence has an error and select the appropriate option. If a sentence is free from error, select 'No Error'.

International Mother Earth Day is celebrated (1)/ Each year to remind us that the Earth provides us with life (2)/ and we should be grudgeful for the same (3)/ No error (4)

Options:

- 1) 1
- 2) 2
- 3) 3
- 4) 4

Correct Answer: 3

QID : 52 - In the following question, some part of the sentence may have errors. Find out which part of the sentence has an error and select the appropriate option. If a sentence is free from error, select 'No Error'.

A shepherd boy (1)/ tended his masters sheep (2)/ near a dark forest not far from the village (3)/ No error (4)

Options:

- 1) 1
- 2) 2
- 3) 3
- 4) 4

Correct Answer: 2

QID : 53 - In the following question, the sentence given with blank to be filled in with an appropriate word. Select

the correct alternative out of the four and indicate it by selecting the appropriate option.

Her heart was _____ with joy.

Options:

- 1) full
- 2) fulfilled
- 3) filled
- 4) filing

Correct Answer: filled

QID : 54 - In the following question, the sentence given with blank to be filled in with an appropriate word. Select the correct alternative out of the four and indicate it by selecting the appropriate option.

Abhishek has a bad habit of _____ his car keys.

Options:

- 1) misplace
- 2) misplacing
- 3) misplaces
- 4) misplaced

Correct Answer: misplacing

QID : 55 - In the following question, out of the given four alternatives, select the one which best expresses the meaning of the given word.

Clamour

Options:

- 1) Depress
- 2) Explain
- 3) Uproar
- 4) Foresee

Correct Answer: Uproar

QID : 56 - In the following question, out of the given four alternatives, select the one which best expresses the meaning of the given word.

Quash

Options:

- 1) Secret
- 2) Permit
- 3) Shameful
- 4) Crush

Correct Answer: Crush

QID : 57 - In the following question, out of the given four alternatives, select the one which best expresses the meaning of the given word.

Abandon

Options:

- 1) Try
- 2) Join
- 3) Keep with
- 4) Forsake

Correct Answer: Forsake

QID : 58 - In the following question, out of the given four alternatives, select the one which is opposite in meaning of the given word.

Movement

Options:

- 1) Static
- 2) Rolling
- 3) Loading

4) Moving

Correct Answer: Static

QID : 59 - In the following question, out of the given four alternatives, select the one which is opposite in meaning of the given word.

Kindness

Options:

- 1) Meanness
- 2) Service
- 3) Shameful
- 4) Fatal

Correct Answer: Meanness

QID : 60 - In the following question, out of the given four alternatives, select the one which is opposite in meaning of the given word.

Recondite

Options:

- 1) Difficult
- 2) Straightforward
- 3) Hard
- 4) Occult

Correct Answer: Straightforward

QID : 61 - In the following question, out of the four given alternatives, select the alternative which best expresses the meaning of the Idiom/Phrase.

Ball is in your court

Options:

- 1) It is up to me to make the next decision or step
- 2) It is up to you to make the next decision or step
- 3) Chasing others to take decisions
- 4) Running away from taking decisions

Correct Answer: It is up to you to make the next decision or step

QID : 62 - In the following question, out of the four given alternatives, select the alternative which best expresses the meaning of the Idiom/Phrase.

Bag and baggage

Options:

- 1) All the clothing
- 2) Without any belonging
- 3) Leave
- 4) With all one's belongings

Correct Answer: With all one's belongings

QID : 63 - In the following question, out of the four alternatives, select the alternative which will improve the bracketed part of the sentence. In case no improvement is needed, select "no improvement".

One must **(be in the company)** a doctor during sickness

Options:

- 1) visit
- 2) accompany
- 3) charge
- 4) No improvement

Correct Answer: visit

QID : 64 - In the following question, out of the four alternatives, select the alternative which will improve the

bracketed part of the sentence. In case no improvement is needed, select "no improvement".

His father won't be able to leave for Mumbai until **(they have arrived)**.

Options:

- 1) until they arrive
- 2) until they will have arrived
- 3) until they will arrive
- 4) No improvement

Correct Answer: until they arrive

QID : 65 - In the following question, out of the four alternatives, select the alternative which is best substitute of the phrase.

One who hoards wealth and spends as little money as possible

Options:

- 1) Member
- 2) Macho
- 3) Miser
- 4) Militant

Correct Answer: Miser

QID : 66 - In the following question, out of the four alternatives, select the alternative which is best substitute of the phrase.

Sudden uncontrollable fear or anxiety, often causing wildly unthinking behaviour

Options:

- 1) Passive
- 2) Pity
- 3) Panic
- 4) Fun

Correct Answer: Panic

QID : 67 - In the following question, a word has been written in four different ways out of which only one is correctly spelt. Select the correctly spelt word.

Options:

- 1) Transition
- 2) Transishion
- 3) Traansition
- 4) Trasition

Correct Answer: Transition

QID : 68 - In the following question, a word has been written in four different ways out of which only one is correctly spelt. Select the correctly spelt word.

Options:

- 1) Ganitor
- 2) Janitor
- 3) Genitor
- 4) Jenitor

Correct Answer: Janitor

QID : 69 - The question below consists of a set of labelled sentences. These sentences, when properly sequenced form a coherent paragraph. Select the most logical order of sentences from among the options

Life

P: is a

Q: great

R: teacher

Options:

- 1) QRP
- 2) RPQ
- 3) PQR
- 4) QPR

Correct Answer: PQR

QID : 70 - The question below consists of a set of labelled sentences. These sentences, when properly sequenced form a coherent paragraph. Select the most logical order of sentences from among the options

Parenthood

P: so much joy

Q: gives

R: to people

Options:

- 1) QRP
- 2) RPQ
- 3) PQR
- 4) QPR

Correct Answer: QPR

QID : 71 - In the following passage, some of the words have been left out. Read the passage carefully and select the correct answer for the given blank out of the four alternatives.

From Rameswaram to the Rashtrapati Bhavan, it's been a _____ journey. Taking to Nona Walia on the eve of Teacher's Day, President Dr. A.P.J. Abdul Kalam talked about life's toughest _____ learnt and his mission _____ a teacher to the Indian youth. "A proper education would help nurture a sense of _____ and self-respect among our youth," said President Kalam. There was always a child in him though, and he was always curious about learning new things. Life was _____ mission for President Kalam.

it's been a _____ journey.

Options:

- 1) short
- 2) sharp
- 3) long
- 4) malign

Correct Answer: long

QID : 72 - In the following passage, some of the words have been left out. Read the passage carefully and select the correct answer for the given blank out of the four alternatives.

From Rameswaram to the Rashtrapati Bhavan, it's been a _____ journey. Taking to Nona Walia on the eve of Teacher's Day, President Dr. A.P.J. Abdul Kalam talked about life's toughest _____ learnt and his mission _____ a teacher to the Indian youth. "A proper education would help nurture a sense of _____ and self-respect among our youth," said President Kalam. There was always a child in him though, and he was always curious about learning new things. Life was _____ mission for President Kalam.

President Dr. A.P.J. Abdul Kalam talked about life's toughest _____ learnt

Options:

- 1) ignorance
- 2) lessons

- 3) advice
4) period

Correct Answer: lessons

QID : 73 - In the following passage, some of the words have been left out. Read the passage carefully and select the correct answer for the given blank out of the four alternatives.

From Rameswaram to the Rashtrapati Bhavan, it's been a _____ journey. Taking to Nona Walia on the eve of Teacher's Day, President Dr. A.P.J. Abdul Kalam talked about life's toughest _____ learnt and his mission _____ a teacher to the Indian youth. "A proper education would help nurture a sense of _____ and self-respect among our youth," said President Kalam. There was always a child in him though, and he was always curious about learning new things. Life was _____ mission for President Kalam.

his mission _____ a teacher to the Indian youth.

Options:

- 1) was
2) were
3) being
4) had

Correct Answer: being

QID : 74 - In the following passage, some of the words have been left out. Read the passage carefully and select the correct answer for the given blank out of the four alternatives.

From Rameswaram to the Rashtrapati Bhavan, it's been a _____ journey. Taking to Nona Walia on the eve of Teacher's Day, President Dr. A.P.J. Abdul Kalam talked about life's toughest _____ learnt and his mission _____ a teacher to the Indian youth. "A proper education would help nurture a sense of _____ and self-respect among our youth," said President Kalam. There was always a child in him though, and he was always curious about learning new things. Life was _____ mission for President Kalam.

"A proper education would help nurture a sense of _____"

Options:

- 1) dignity
2) dishonour
3) evil
4) insignificance

Correct Answer: dignity

QID : 75 - In the following passage, some of the words have been left out. Read the passage carefully and select the correct answer for the given blank out of the four alternatives.

From Rameswaram to the Rashtrapati Bhavan, it's been a _____ journey. Taking to Nona Walia on the eve of Teacher's Day, President Dr. A.P.J. Abdul Kalam talked about life's toughest _____ learnt and his mission _____ a teacher to the Indian youth. "A proper education would help nurture a sense of _____ and self-respect among our youth," said President Kalam. There was always a child in him though, and he was

always curious about learning new things. Life was _____ mission for President Kalam.

Life was _____ mission for President Kalam.

Options:

- 1) a
2) the
3) not
4) scheduled

Correct Answer: a

QID : 76 - _____ covers those enterprises or places of work where the terms of employment are regular.

_____ उन उद्यमों या कार्य के स्थानों को सम्मिलित करता है जहां रोजगार की शर्तें नियमित रूप से होती हैं।

Options:

- 1) Unorganised sector
असंगठित क्षेत्र
2) Organised sector
संगठित क्षेत्र
3) Both organised and unorganised sector
संगठित तथा असंगठित दोनों क्षेत्र
4) Neither organized nor unorganised sector
न तो संगठित तथा असंगठित क्षेत्र

Correct Answer: Organised sector

संगठित क्षेत्र

संगठित क्षेत्र

QID : 77 - What can be said about the interest rate on loans when compared to the interest rate offered on deposits?

जमा पर प्रस्तुत ब्याज दर की तुलना में ऋण पर ब्याज दर के बारे में क्या कहा जा सकता है?

Options:

- 1) It is always higher
यह हमेशा अधिक है
2) It is always lower
यह हमेशा कम होता है
3) It is always equal
यह हमेशा बराबर है
4) It may be higher or lower
यह अधिक या कम हो सकता है

Correct Answer: It is always higher

यह हमेशा अधिक है

यह हमेशा कम होता है

QID : 78 - Who is the supreme law-making institution in India?

भारत में कानून निर्माण की सर्वोच्च संस्था कौन है?

Options:

- 1) Governor
गवर्नर
2) The Prime Minister of India
भारत के प्रधानमंत्री
3) The Chief Justice of India
भारत के मुख्य न्यायाधीश

4) The Parliament of India

भारतीय संसद

Correct Answer: The Parliament of India

भारतीय संसद

भारतीय संसद

QID : 79 - When did constituent assembly adopted constitution?

संविधान सभा ने संविधान को कब अपनाया?

Options:

1) 26th November 1949

26 नवम्बर 1949

2) 15th November 1949

15 नवम्बर 1949

3) 26th January 1950

26 जनवरी 1950

4) 26th January 1949

26 जनवरी 1949

Correct Answer: 26th November 1949

26 नवम्बर 1949

26 नवम्बर 1949

QID : 80 - Who among the following wrote the biography of Harshavardhana named Harshcharita?

निम्नलिखित में से किसने हर्षवर्धन की हर्षचरित नामक

आत्मकथा लिखी थी?

Options:

1) Herishena

हरिषेण

2) Banabhatta

बाणभट्ट

3) Bhawabhuti

भावभूती

4) Chand Bardai

चंद बरदाई

Correct Answer: Banabhatta

बाणभट्ट

QID : 81 - In which year Swadeshi Movement started?

स्वदेशी आंदोलन की शुरुआत किस वर्ष में हुई थी?

Options:

1) 1900

2) 1890

3) 1905

4) 1911

Correct Answer: 1905

QID : 82 - What is the approximate distance (in km) of the moon from Earth?

चंद्रमा की पृथ्वी से दूरी लगभग (कि.मी. में) कितनी है?

Options:

1) 3,84,400

2) 2,80,500

3) 5,60,000

4) 6,00,000

Correct Answer: 3,84,400

QID : 83 - What is the approximate east-west extent (in km) of India from Arunachal Pradesh to Kuchchh?

भारत का अरुणाचल प्रदेश से कच्छ तक पूर्व-पश्चिम विस्तार

(कि.मी. में) लगभग कितना है?

Options:

1) 7500

2) 2900

3) 1200

4) 6600

Correct Answer: 2900

QID : 84 - We usually get all the minerals we need from _____.

आम तौर पर सभी खनिजों को हम _____ से प्राप्त करते हैं।

Options:

1) Only roughage

केवल चारा

2) Only mineral water

केवल खनिज पानी

3) Only mineral tablets

केवल खनिज गोलियां

4) Food

भोजन

Correct Answer: Food

भोजन

भोजन

QID : 85 - The classification of the group algae is based on _____.

शैवाल समूह का वर्गीकरण _____ पर आधारित है।

Options:

1) Nature of shape

आकार की प्रकृति

2) Nature of pigment

वर्णक की प्रकृति

3) Nature of length

लंबाई की प्रकृति

4) None of these

इनमें से कोई नहीं

Correct Answer: Nature of pigment

वर्णक की प्रकृति

वर्णक की प्रकृति

QID : 86 - The energy produced by 1 g of carbohydrate is _____.

1 ग्राम कार्बोहाइड्रेट द्वारा उत्पादित ऊर्जा _____ है।

Options:

1) 4.8 calorie

4.8 कैलोरी

2) 4.2 kilocalorie

4.2 किलोकैलोरी

3) 27 joules

27 जूल

4) 18 kilocalorie

18 किलोकैलोरी

Correct Answer: 4.2 kilocalorie

4.2 किलोकैलोरी

QID : 87 - Momentum is a measure of _____.
गति _____ का एक मापक है।

Options:

1) speed

गति

2) mass

द्रव्यमान

3) quantity of motion

गति की मात्रा

4) force

बल

Correct Answer: quantity of motion

गति की मात्रा

द्रव्यमान

QID : 88 - Soda bottles are made of thick glass so that they can withstand the _____.
सोडा की बोतलें मोटे कांच की बनी होती हैं ताकि वे _____

का सामना कर सकें।

Options:

1) pressure in summer

गर्मियों में दबाव

2) temperature in winter

सर्दियों के तापमान

3) decrease in viscosity

चिपचिपापन में कमी

4) increase in potential energy

स्थितिज ऊर्जा में वृद्धि

Correct Answer: pressure in summer

गर्मियों में दबाव

स्थितिज ऊर्जा में वृद्धि

QID : 89 - What is the shape of a DVD?
एक डीवीडी का आकार क्या होता है?

Options:

1) Square

वर्गवार

2) Round

वृत्ताकार

3) Triangular

त्रिभुजाकार

4) Hexagonal

षट्कोण

Correct Answer: Round

वृत्ताकार

वृत्ताकार

QID : 90 - Which of the following is acidic in nature?
निम्नलिखित में से कौन सा अम्लीय प्रकृति का है?

Options:

1) Apple juice

सेब का रस

2) Soap solution

साबुन का घोल

3) Slaked lime

बुझा हुआ चूना

4) Quick lime

त्वरित चूना

Correct Answer: Apple juice

सेब का रस

सेब का रस

QID : 91 - The experiment which led to the discovery of nucleus was performed by _____.
जिस प्रयोग ने नाभिक की खोज को जन्म दिया उसका परीक्षण

_____ के द्वारा किया गया था।

Options:

1) Goldstein

गोल्डस्टीन

2) J.J. Thomson

जे.जे. थॉमसन

3) Milkman

मिल्कमैन

4) Rutherford

रदरफोर्ड

Correct Answer: Rutherford

रदरफोर्ड

रदरफोर्ड

QID : 92 - Which one of the following is an aquatic eco system?
निम्नलिखित में से कौन सा एक जलीय पारिस्थितिकी तंत्र है?

Options:

1) Wetland

आर्द्रभूमि

2) Desert

रेगिस्तान

3) Mountain

पर्वत

4) Island

द्वीप

Correct Answer: Wetland

आर्द्रभूमि

आर्द्रभूमि

QID : 93 - Pradhan Mantri Gram Sadak Yojana is a flagship scheme of which ministry?
प्रधानमंत्री ग्राम सड़क योजना किस मंत्रालय की फ्लैगशिप

योजना है?

Options:

1) Ministry of Social Justice and Empowerment

सामाजिक न्याय तथा अधिकारिता मंत्रालय

2) Ministry of Finance

वित्त मंत्रालय

3) Ministry of Human Resource and Development
मानव संसाधन तथा विकास मंत्रालय

4) Ministry of Rural Development
ग्रामीण विकास मंत्रालय

Correct Answer: Ministry of Rural Development
ग्रामीण विकास मंत्रालय
ग्रामीण विकास मंत्रालय

QID : 94 - Who discovered Nitrous Oxide (Laughing Gas)?

नाइट्रस ऑक्साइड (हंसने वाली गैस) की खोज किसने की?

Options:

1) John Napier
जॉन नेपियर

2) Gay Lussac
गे लूसैक

3) Joseph Priestly
जोसेफ प्रीस्टले

4) John Venn
जॉन वेन

Correct Answer: Joseph Priestly
जोसेफ प्रीस्टले
गे लूसैक

QID : 95 - Which place is also known by the name "Mecca of Indian Football"?

किस स्थान को "इंडियन फुटबॉल की मक्का" नाम से भी जाना जाता है?

Options:

1) Darjeeling
दार्जिलिंग

2) Kolkata
कोलकाता

3) Pune
पुणे

4) Ernakulam
एर्नाकुलम

Correct Answer: Kolkata
कोलकाता
एर्नाकुलम

QID : 96 - Which state is famous for its tie and dye fabrics called Bandhni?

बांधनी नामक अपनी टाई तथा डाई कपड़े के लिए कौन सा राज्य प्रसिद्ध है?

Options:

1) Rajasthan
राजस्थान

2) Bihar
बिहार

3) Karnataka
कर्नाटक

4) Kerala
केरल

Correct Answer: Rajasthan
राजस्थान
राजस्थान

QID : 97 - Who won the Pulitzer Prize 2017 for Drama named "Sweat"?

किसने "स्वैट" नामक नाटक के लिए पुलित्जर पुरस्कार 2017 जीता?

Options:

1) Hisham Matar
हिशम मातर

2) Lynn Nottage
लिन नॉटेज

3) C.J. Chivers
सी. जे. चिवर्स

4) Art Cullen
आर्ट कलन

Correct Answer: Lynn Nottage
लिन नॉटेज

QID : 98 - Who is the author of book named "Worshipping False Gods"?

"वर्शिपिंग फॉल्स गॉड्स" नामक किताब के लेखक कौन हैं?

Options:

1) Harbhajan Singh
हरभजन सिंह

2) Tulsidas
तुलसीदास

3) Arun Shourie
अरुण शौरी

4) Lal Krishna Advani
लाल कृष्ण आडवाणी

Correct Answer: Arun Shourie
अरुण शौरी

QID : 99 - Khanjar is joint military exercise between India and _____.

खंजर भारत तथा _____ के बीच संयुक्त सैन्य अभ्यास है।

Options:

1) Iran
ईरान

2) Kyrgyzstan
किर्गिज़स्तान

3) Indonesia
इंडोनेशिया

4) Vietnam
वियतनाम

Correct Answer: Kyrgyzstan
किर्गिज़स्तान
ईरान

QID : 100 - Which is **NOT** among the 3 rivers of Indus water system Over which Pakistan got control under Indus Water Treaty with India?

निम्न में से कौन सिंधु जल प्रणाली की तीन नदियों में से नहीं है, जिस पर भारत के साथ सिंधु जल संधि के अंतर्गत पाकिस्तान को नियंत्रण मिला है?

Options:

1) Indus

सिंधु

2) Chenab

चिनाब

3) Jhelum

झेलम

4) Ravi

रावी

Correct Answer: Ravi

रावी

रावी