



REGISTRATION NUMBER : 2402046258
CANDIDATES NAME: MOCKTIME.COM
EXAM NAME : SSC CHSL
EXAM DURATION : 01:00 Hrs
TOTAL MARKS : 200
TOTAL NO OF QUESTIONS : 100

QID : 101 -

In the following question, select the number which can be placed at the sign of question mark (?) from the given alternatives.

निम्नलिखित प्रश्न में दिए गए विकल्पों में से प्रश्न चिह्न (?) के स्थान पर आने वाली संख्या को चुनिए।

5	6	4
7	3	9
4	8	8
16	17	?

Options:

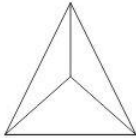
- 1) 21
- 2) 20
- 3) 23
- 4) 22

Correct Answer: 21

QID : 102 -

How many triangles are there in the given figure?

दी गई आकृति में कितने त्रिभुज हैं?



Options:

- 1) 3
- 2) 4
- 3) 5
- 4) 6

Correct Answer: 4

QID : 103 -

A word is represented by only one set of numbers as given in any one of the alternatives. The sets of numbers given in the alternatives are represented by two classes of alphabets as shown in the given two matrices. The columns and rows of **Matrix-I** are numbered from 0 to 4 and that of **Matrix-II** are numbered from 5 to 9. A letter from these matrices can be represented first by its row and next by its column, for example, 'A' can be represented by 24, 95, etc., and 'M' can be represented by 11, 66, etc. Similarly, you have to identify the set for the word "COULD".

एक शब्द केवल एक संख्या-समूह द्वारा दर्शाया गया है, जैसा कि विकल्पों में से किसी एक में दिया गया है। विकल्पों में दिए गए संख्या-समूह अक्षरों के दो वर्गों द्वारा दर्शाए गए हैं, जैसा कि दिए गए दो आव्यूहों में है। आव्यूह-I के स्तम्भ और पंक्ति की संख्या 0 से 4 है और आव्यूह-II की 5 से 9। इन आव्यूहों से एक अक्षर को पहले उसकी पंक्ति और बाद में स्तम्भ संख्या द्वारा दर्शाया जा सकता है। उदाहरण के लिए 'A' को 24, 95, आदि द्वारा दर्शाया जा सकता है तथा 'M' को 11, 66, आदि द्वारा दर्शाया जा सकता है। इसी तरह से आपको प्रश्न में दिए शब्द "COULD" के लिए समूह को पहचानना है।

Matrix-I आव्यूह-I						Matrix-II आव्यूह-II					
	0	1	2	3	4	5	6	7	8	9	
0	T	C	W	G	K	5	Z	O	D	C	X
1	K	M	O	P	S	6	G	M	N	H	V
2	I	P	X	K	A	7	E	O	Y	K	T
3	F	H	J	L	N	8	D	F	W	L	R
4	A	R	Q	V	X	9	A	E	U	N	P

Options:

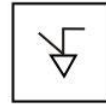
- 1) 58, 12, 98, 86, 85
- 2) 01, 56, 97, 33, 57
- 3) 58, 76, 88, 88, 24
- 4) 02, 02, 98, 88, 00

Correct Answer: 01, 56, 97, 33, 57

QID : 104 -

From the given answer figures, select the one in which the question figure is hidden/embedded.

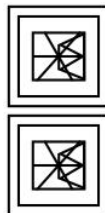
दी गई उत्तर आकृतियों में से उस उत्तर आकृति को चुनिए जिस में प्रश्न आकृति निहित है।



Options:

- 1)
- 2)
- 3)
- 4)

Correct Answer:



QID : 105 -

Which answer figure will complete the pattern in the question figure?

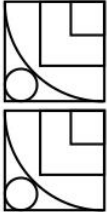
कौन सी उत्तर आकृति प्रश्न आकृति के प्रतिरूप को पूरा करेगी?



Options:

- 1)
- 2)
- 3)
- 4)

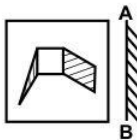
Correct Answer:



QID : 106 -

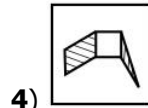
If a mirror is placed on the line AB, then which of the answer figures is the right image of the given figure?

यदि एक दर्पण को AB रेखा पर रखा जाए, तो दी गई उत्तर आकृतियों में से कौन सी आकृति प्रश्न आकृति की सही प्रतिबिम्ब होगी?

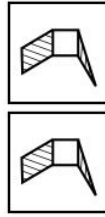


Options:

- 1)
- 2)
- 3)



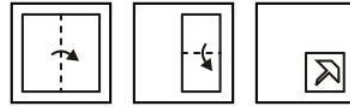
4) Correct Answer:



QID : 107 -

A piece of paper is folded and punched as shown below in the question figures. From the given answer figures, indicate how it will appear when opened?

नीचे के प्रश्न आकृतियों में दिखाए अनुसार कागज को मोड़कर छेदने तथा खोलने के बाद वह किस उत्तर आकृति जैसा दिखाई देगा?



Options:

- 1)
- 2)
- 3)
- 4)

Correct Answer:



QID : 108 - What will come in place of question mark (?) in the given equation?

$$43 ? 9 ? 3 ? 11 ? 3 = 137$$

दिए गए समीकरण में प्रश्न चिह्न (?) के स्थान पर क्या आएगा?

$$43 ? 9 ? 3 ? 11 ? 3 = 137$$

Options:

- 1) +, -, ÷ and ×
+, -, ÷ तथा ×
- 2) ×, ÷, - and +
×, ÷, - तथा +

3) \div , \times , $-$ and $+$
 \div , \times , $-$ तथा $+$

4) \times , \div , $+$ and $-$
 \times , \div , $+$ तथा $-$

Correct Answer: \times , \div , $+$ and $-$
 \times , \div , $+$ तथा $-$
 \times , \div , $+$ तथा $-$

QID : 109 - If $14 @ 13 @ 9 = 91314$ and $5 @ 15 @ 11 = 11155$, then $6 @ 12 @ 3 = ?$
यदि $14 @ 13 @ 9 = 91314$ तथा $5 @ 15 @ 11 = 11155$ हो, तो $6 @ 12 @ 3 = ?$

Options:

- 1) 1236
- 2) 3126
- 3) 6312
- 4) 3612

Correct Answer: 3126

QID : 110 - Arrange the given words in the sequence in which they occur in the dictionary.

1. Raid
2. Rain
3. Ring
4. Race
5. Range

निम्नलिखित शब्दों को शब्दकोश में आने वाले क्रम के अनुसार लिखें।

1. Raid
2. Rain
3. Ring
4. Race
5. Range

Options:

- 1) 41253
- 2) 41235
- 3) 42153
- 4) 42135

Correct Answer: 41253

QID : 111 - In the following question, select the missing number from the given series.

5, 9, 17, ?, 45, 65

निम्नलिखित प्रश्न में दिए गए विकल्पों में से लुप्त अंक ज्ञात कीजिए।

5, 9, 17, ?, 45, 65

Options:

- 1) 28
- 2) 29
- 3) 27
- 4) 26

Correct Answer: 29

QID : 112 - A series is given with one term missing. Select the correct alternative from the given ones that will complete the series.

NT, TN, PR, RP, OQ, ?

एक अनुक्रम दिया गया है, जिसमें से एक पद लुप्त है। दिए गए विकल्पों में से वह सही विकल्प चुनिए, जो अनुक्रम को पूरा करे।

NT, TN, PR, RP, OQ, ?

Options:

- 1) OP
- 2) QR
- 3) QO
- 4) NO

Correct Answer: QO

QID : 113 - In the following question, select the odd word from the given alternatives.

निम्नलिखित प्रश्न में दिए गए विकल्पों में से विषम शब्द को चुनिए।

Options:

- 1) Ball
गेंद

- 2) Bat
बल्ला

- 3) Stumps
किलियाँ

- 4) Goalkeeper
गोलकीपर

Correct Answer: Goalkeeper

गोलकीपर

गोलकीपर

QID : 114 - In the following question, select the odd number from the given alternatives.

निम्नलिखित प्रश्न में दिए गए विकल्पों में से विषम संख्या को चुनिए।

Options:

- 1) 169
- 2) 121
- 3) 289
- 4) 258

Correct Answer: 258

QID : 115 - In the following question, select the odd letters from the given alternatives.

निम्नलिखित प्रश्न में दिए गए विकल्पों में से विषम अक्षरों को चुनिए।

Options:

- 1) fr
- 2) bn
- 3) cp
- 4) dp

Correct Answer: cp

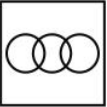

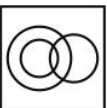

QID : 116 - Identify the diagram that best represents the relationship among the given classes.

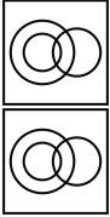
Females, Mother, Director

वह आरेख चुनिए जो नीचे दिए गए वर्गों के बीच के संबंध का सही निरूपण करता है।

महिलाएँ, माता, निर्देशक

Options:

- 1) 
- 2) 
- 3) 
- 4) 

Correct Answer:

QID : 117 - In the following question, select the related word pair from the given alternatives.

Distance : Kilometre :: ? : ?

निम्नलिखित प्रश्न में दिए गए विकल्पों में से संबंधित शब्द युग्म को चुनिए।

दूरी : किलोमीटर :: ? : ?

Options:

- 1) Writer : Pen
लेखक : कलम
- 2) Time : Hours
समय : घण्टे
- 3) Time : Metre
समय : मीटर
- 4) Wood : Weight
लकड़ी : भार

Correct Answer: Time : Hours

समय : घण्टे

समय : घण्टे

QID : 118 - In the following question, select the related number from the given alternatives.

11 : 121 :: 20 : ?

निम्नलिखित प्रश्न में दिए गए विकल्पों में से संबंधित संख्या को चुनिए।

11 : 121 :: 20 : ?

Options:

- 1) 441
- 2) 400
- 3) 289
- 4) 200

Correct Answer: 400

QID : 119 - In the following question, select the related letters from the given alternatives.

AC : DG :: MQ : ?

निम्नलिखित प्रश्न में दिए गए विकल्पों में से संबंधित अक्षरों को चुनिए।

AC : DG :: MQ : ?

Options:

- 1) MR
- 2) PU
- 3) PS
- 4) PR

Correct Answer: PU

QID : 120 - In the following question, select the word which cannot be formed using the letters of the given word.

REPULSIVE

निम्नलिखित विकल्पों में से वह शब्द चुनिए जो दिए गए शब्द के अक्षरों का प्रयोग करके नहीं बनाया जा सकता।

REPULSIVE**Options:**

- 1) PULSE
- 2) USED
- 3) LIVE
- 4) SURE

Correct Answer: USED

QID : 121 - In a row of 40 students, A is 13th from left end. What is his place from the right end?

40 छात्रों की एक पंक्ति में, A बायीं ओर से 13-वां है। दायीं ओर से उसका स्थान क्या है?

Options:

- 1) 27
- 2) 28
- 3) 29
- 4) 30

Correct Answer: 28

QID : 122 - If the ratio of the present ages of P and Q is 3 : 5 and the sum of their ages 4 years ago was 64, then what was the ratio of their ages 4 years ago?

यदि P तथा Q की वर्तमान आयु का अनुपात 3 : 5 है तथा 4 वर्ष पूर्व दोनों की आयु का योग 64 था, तो 4 वर्ष पूर्व उनकी आयु का अनुपात क्या था?

Options:

- 1) 23 : 41
- 2) 27 : 49
- 3) 33 : 52
- 4) 41 : 73

Correct Answer: 23 : 41

QID : 123 - In the following question below are given some statements followed by some conclusions. Taking the given statements to be true even if they seem to be at variance from commonly known facts, read all the conclusions and then decide which of the given conclusion logically follows the given statements.

Statements:

- I. Some C are D.
- II. Some B are C.

Conclusions:

- I. Some D are C.
- II. No B is D.

नीचे दिए गए प्रश्न में कुछ कथन और उनके बाद उन कथनों पर आधारित कुछ निष्कर्ष दिए गए हैं, हालांकि उनमें सामान्य ज्ञात तथ्यों से भिन्नता हो सकती है। सभी निष्कर्ष पढ़ें और फिर निर्धारित करें कि दिए गए कौन से निष्कर्ष, दिए गए कथनों के आधार पर युक्तिसंगत हैं।

कथन:

I. कुछ C, D हैं।

II. कुछ B, C हैं।

निष्कर्ष:

I. कुछ D, C हैं।

II. कोई B, D नहीं है।

Options:

1) Only conclusion (I) follows.

केवल निष्कर्ष (I) सही है।

2) Only conclusion (II) follows.

केवल निष्कर्ष (II) सही है।

3) Both conclusion follow.

दोनों ही निष्कर्ष सही हैं।

4) Neither conclusion (I) nor conclusion (II) follows.

न तो निष्कर्ष (I) न ही निष्कर्ष (II) सही है।

Correct Answer: Only conclusion (I) follows.

केवल निष्कर्ष (I) सही है।

दोनों ही निष्कर्ष सही हैं।

QID : 124 - In a certain code language, "MIND" is written as "PLQG". How is "LAKE" written in that code language?

एक विशिष्ट कोड भाषा में, "MIND" को "PLQG" लिखा जाता है। इस कोड भाषा में "LAKE" को किस प्रकार लिखा जाएगा?

Options:

1) ODNH

2) ODMH

3) NDMG

4) OCNH

Correct Answer: ODNH

QID : 125 - In a certain code language, "FOX" is written as "50" and "BOX" is written as "46". How is "FAX" written in that code language?

एक विशिष्ट कोड भाषा

में, "FOX" को "50" तथा "BOX" को "46" लिखा जाता है।

इस कोड भाषा में "FAX" को किस प्रकार लिखा जाएगा?

Options:

1) 38

2) 34

3) 36

4) 32

Correct Answer: 36

QID : 126 - What is the value of $(a^{-12} \times b^{12}) \times (a^{18} \times b^{-18})$?

$(a^{-12} \times b^{12}) \times (a^{18} \times b^{-18})$ का मान क्या है?

Options:

1) $a^6 b^6$

2) $a^6 b^4$

3) $a^{12} b^6$

4) a^6/b^6

Correct Answer: a^6/b^6

QID : 127 - Which of the following number is completely divisible by 20?

निम्नलिखित में से कौन सी संख्या 20 से पूर्णतः विभाजित है?

Options:

1) 24570

2) 34580

3) 33410

4) 444430

Correct Answer: 34580

QID : 128 - If $543 \times 545 \times 546$ is divided by 6, then what will be the remainder?

यदि $543 \times 545 \times 546$, 6 से विभाजित किया जाये, तो शेषफल क्या होगा?

Options:

1) 3

2) 0

3) 5

4) 1

Correct Answer: 0

QID : 129 - What is the value of $(\sqrt{5} + 2) \div (\sqrt{5} - 2)$? $(\sqrt{5} + 2) \div (\sqrt{5} - 2)$ का मान क्या है?

Options:

1) $9 + 4\sqrt{5}$

2) $9 - 4\sqrt{5}$

3) $7 + 4\sqrt{5}$

4) $9 + 2\sqrt{5}$

Correct Answer: $9 + 4\sqrt{5}$

QID : 130 - What is the value of $31 + 32 + \dots + 50$?

$31 + 32 + \dots + 50$ का मान क्या है?

Options:

1) 575

2) 465

3) 1275

4) 810

Correct Answer: 810

QID : 131 - Which of the following is greatest number? निम्नलिखित में से कौन सी संख्या सबसे बड़ी है?

Options:

1) 3^{2^3}

2) 3^{4^2}

3) 3^{3^2}

4) 3^{2^2}

3^{4²}

3^{4²}

Correct Answer:

3^{4²}

3^{4²}

QID : 132 - Two pipes P and Q can fill the tank alone in 60 and 90 hours respectively. If they are opened together, then in how many hours will the tank be filled?

दो पाईप P तथा Q एक टंकी को क्रमशः 60 तथा 90 घंटे में भर सकते हैं। यदि दोनों पाईपों को एक साथ खोल दिया जाये, तो टंकी कितने घंटे में भर जाएगी?

Options:

- 1) 35
- 2) 32
- 3) 36
- 4) 30

Correct Answer: 36

QID : 133 - Pipe A can fill a tank in 20 hours and pipe B can fill the same tank in 24 hours. Pipe C can empty the same full tank in 12 hours. If all the pipes are opened together, then what portion of the tank will be filled after 12 hours?

पाईप A एक टंकी को 20 घंटे में भर सकता है तथा पाईप B उसी टंकी को 24 घंटे में भर सकता है। उस भरी हुई टंकी को पाईप C, 12 घंटे में खाली कर सकता है। यदि सभी पाईपों को एक साथ खोल दिया जाये, तो 12 घंटे बाद टंकी का कितना हिस्सा भर जायेगा?

Options:

- 1) 1/10
- 2) 1/5
- 3) 1/15
- 4) 9/11

Correct Answer: 1/10

QID : 134 - What is the area (in cm^2) of an equilateral triangle whose side is 16 cm?

एक समबाहु त्रिभुज जिसकी भुजा 16 से.मी. है, का क्षेत्रफल (से.मी.² में) क्या है?

Options:

- 1) $60\sqrt{3}$
- 2) $64\sqrt{3}$
- 3) 128
- 4) 60

Correct Answer: $64\sqrt{3}$

QID : 135 - A shop-keeper offers 30% discount on bags which have been marked 60% above the cost price.

Rahul bought the bag for Rs 672. What was the cost price (in Rs) of the bag?

क्रय मूल्य से 60% अधिक अंकित मूल्य वाले थैलों पर एक दुकानदार 30% की छूट देता है। राहुल ने 672 रु में थैला खरीदा। थैले का क्रय मूल्य (रु में) क्या था?

Options:

- 1) 580
- 2) 600
- 3) 550
- 4) 610

Correct Answer: 600

QID : 136 - A merchant purchases a watch for Rs 540 and fixes its marked price in such a way that after allowing a discount of 10%, he earns a profit of 35%. What is the marked price (in Rs) of the watch?

एक व्यापारी 540 रु में एक घड़ी खरीदता है तथा इसका अंकित मूल्य इस तरह निर्धारित करता है कि 10% की छूट देने के पश्चात भी उसे 35% का लाभ प्राप्त होता है। घड़ी का अंकित मूल्य (रु में) क्या है?

Options:

- 1) 790
- 2) 810
- 3) 750
- 4) 840

Correct Answer: 810

QID : 137 - The ratio of two numbers is 7 : 12. If their difference is 60, then what is the smallest number?

दो संख्याओं का अनुपात 7 : 12 है। यदि उनका अंतर 60 है, तो सबसे छोटी संख्या क्या है?

Options:

- 1) 144
- 2) 84
- 3) 96
- 4) 196

Correct Answer: 84

QID : 138 - Rs 2160 is divided among A, B and C in the ratio 2 : 3 : 5 respectively. What is the difference (in Rs) between the shares of A and B?

2160 रु को क्रमशः A, B तथा C में 2 : 3 : 5 के अनुपात में बाँटा जाता है। A तथा B के हिस्से में अंतर (रु में) क्या है?

Options:

- 1) 216
- 2) 108
- 3) 154
- 4) 312

Correct Answer: 216

QID : 139 - The average of 10 numbers is 9.5. If a number 5 is removed, then what will be the new average?

10 संख्याओं का औसत 9.5 है। यदि एक संख्या 5 को हटाया जाये, तो नयी औसत संख्या क्या होगी?

Options:

- 1) 9.75
- 2) 10
- 3) 10.25
- 4) 9

Correct Answer: 10

QID : 140 - An article is sold at a profit of 30%. If the selling price is doubled, then what will be the profit percentage?

एक वस्तु को 30% के लाभ पर बेचा जाता है। यदि विक्रय मूल्य दोगुना कर दिया जाए, तो लाभ प्रतिशत क्या होगा?

Options:

- 1) 30
- 2) 130
- 3) 160
- 4) 100

Correct Answer: 160

QID : 141 - A man sold 400 chairs and had a gain equal to selling price of 50 chairs. What is his profit percentage?

एक व्यक्ति 400 कुर्सियों को बेचकर 50 कुर्सियों के विक्रय मूल्य के बराबर लाभ कमाता है। उसका लाभ प्रतिशत क्या है?

Options:

- 1) 14.28
- 2) 25
- 3) 11.11
- 4) 10

Correct Answer: 14.28

QID : 142 - 1000 is first increased by 10% and then it is decreased by 30%. What is the final value?

1000 को पहले 10% से बढ़ाया गया तथा फिर उसे 30% से घटाया गया। अंतिम मूल्य क्या है?

Options:

- 1) 850
- 2) 770
- 3) 820
- 4) 760

Correct Answer: 770

QID : 143 - Out of the total bags, 30% of bags are green coloured. 30% of remaining bags are red coloured. 40% of remaining bags are yellow coloured. The remaining 1176 bags are blue coloured. How many total bags are there?

कुल थैलों में से 30 प्रतिशत थैले हरे रंग के हैं। शेष थैलों में से 30% लाल रंग के हैं। शेष थैलों में से 40% पीले रंग के हैं।

शेष 1176 थैले नीले रंग के हैं। कुल कितने थैले हैं?

Options:

- 1) 3000
- 2) 4000
- 3) 5000
- 4) 6000

Correct Answer: 4000

QID : 144 - The speed of a boat in still water is 8 km/hr. It covers a distance of 40 km upstream in 8 hours. What is the speed (in km/hr) of the stream?

शांत जल में एक नाव की गति 8 कि.मी./घंटा है। वह धारा के प्रतिकूल 40 कि.मी. की दूरी 8 घंटे में तय करती है। धारा की गति (कि.मी./घंटा में) क्या है?

Options:

- 1) 2
- 2) 3
- 3) 4
- 4) 1.5

Correct Answer: 3

QID : 145 - A 400 metres long train crosses a bridge 600 metres long in 50 seconds. What is speed (in km/hr) of the train?

एक 400 मीटर लम्बी एक रेलगाड़ी एक 600 मीटर लम्बे पुल को पार करने में 50 सेकण्ड लेती है। रेलगाड़ी की गति (कि.मी./घंटा में) क्या है?

Options:

- 1) 75
- 2) 72
- 3) 74
- 4) 78

Correct Answer: 72

QID : 146 - A sum becomes 4 times in 2 years at compound interest. In how many years the same sum will become 16 times?

एक राशि चक्रवृद्धि ब्याज की दर से 2 वर्षों में 4 गुना हो जाती है। कितने वर्षों में वही धनराशि 16 गुना हो जाएगी?

Options:

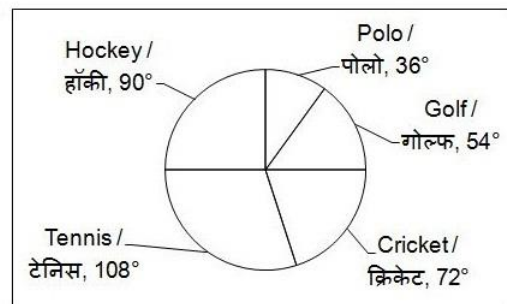
- 1) 3
- 2) 4
- 3) 2
- 4) 1

Correct Answer: 4

QID : 147 -

The pie chart given below shows the number of students who play five sports like Hockey, Tennis, Cricket, Golf and Polo. The total number of students is 1080.

नीचे दिए गए वृत्त चित्र में पाँच खेलों जैसे हॉकी, टेनिस, क्रिकेट, गोल्फ तथा पोलो खेलने वाले छात्रों की संख्या को दर्शाया गया है। छात्रों की कुल संख्या 1080 है।



What is the average number of students playing Tennis and Cricket?

टेनिस तथा क्रिकेट खेलने वाले छात्रों की औसत संख्या क्या है?

Options:

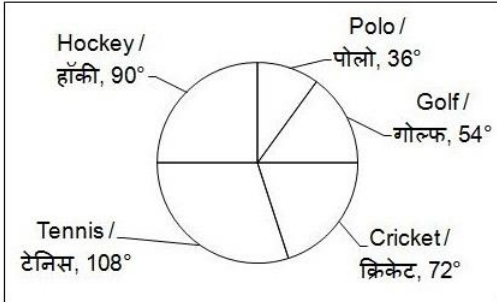
- 1) 280
- 2) 270
- 3) 240
- 4) 360

Correct Answer: 270

QID : 148 -

The pie chart given below shows the number of students who play five sports like Hockey, Tennis, Cricket, Golf and Polo. The total number of students is 1080.

नीचे दिए गए वृत्त चित्र में पाँच खेलों जैसे हॉकी, टेनिस, क्रिकेट, गोल्फ तथा पोलो खेलने वाले छात्रों की संख्या को दर्शाया गया है। छात्रों की कुल संख्या 1080 है।



What is the difference between the number of students who play Tennis and those who play Polo?

टेनिस खेलने वाले तथा पोलो खेलने वाले छात्रों की संख्या के मध्य क्या अंतर है?

Options:

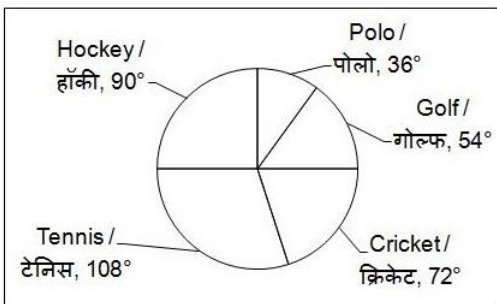
- 1) 114
- 2) 288
- 3) 180
- 4) 216

Correct Answer: 216

QID : 149 -

The pie chart given below shows the number of students who play five sports like Hockey, Tennis, Cricket, Golf and Polo. The total number of students is 1080.

नीचे दिए गए वृत्त चित्र में पाँच खेलों जैसे हॉकी, टेनिस, क्रिकेट, गोल्फ तथा पोलो खेलने वाले छात्रों की संख्या को दर्शाया गया है। छात्रों की कुल संख्या 1080 है।



In which of the following group of sports, the sum of the number of students who play first 2 groups is equal to that of the third group?

निम्नलिखित खेलों के किस समूह में, पहले 2 समूहों को खेलने वाले छात्रों की संख्या का योग तीसरे समूह के बराबर है?

Options:

- 1) Cricket, Polo, Hockey
क्रिकेट, पोलो, हॉकी
- 2) Hockey, Tennis, Golf

हॉकी, टेनिस, गोल्फ

3) Cricket, Polo, Tennis

क्रिकेट, पोलो, टेनिस

4) Hockey, Cricket, Tennis

हॉकी, क्रिकेट, टेनिस

Correct Answer: Cricket, Polo, Tennis

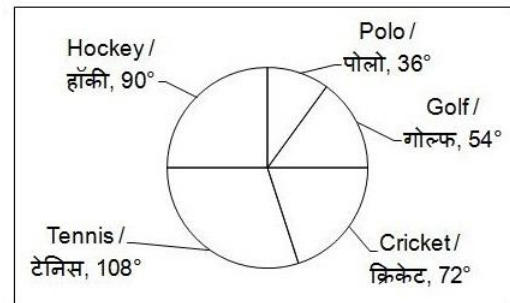
क्रिकेट, पोलो, टेनिस

क्रिकेट, पोलो, टेनिस

QID : 150 -

The pie chart given below shows the number of students who play five sports like Hockey, Tennis, Cricket, Golf and Polo. The total number of students is 1080.

नीचे दिए गए वृत्त चित्र में पाँच खेलों जैसे हॉकी, टेनिस, क्रिकेट, गोल्फ तथा पोलो खेलने वाले छात्रों की संख्या को दर्शाया गया है। छात्रों की कुल संख्या 1080 है।



What is the total number of students who play either Hockey and Cricket?

हॉकी तथा क्रिकेट खेलने वाले छात्रों की कुल संख्या क्या है?

Options:

- 1) 270
- 2) 216
- 3) 576
- 4) 486

Correct Answer: 486

QID : 151 - In the following question, some part of the sentence may have errors. Find out which part of the sentence has an error and select the appropriate option. If a sentence is free from error, select 'No Error'.

The former first lady designed (1)/ it herself as a weekend (2)/ retreat away from White House. (3)/ No error (4)

Options:

- 1) 1
- 2) 2
- 3) 3
- 4) 4

Correct Answer: 3

QID : 152 - In the following question, some part of the sentence may have errors. Find out which part of the sentence has an error and select the appropriate option. If a sentence is free from error, select 'No Error'.

Traditionally, fuel prices were determined (1)/ on a cost-plus basis, which led domestic prices (2)/ to fall at line with the cost of inputs like crude oil. (3)/ No error (4)

Options:

- 1) 1
- 2) 2
- 3) 3
- 4) 4

Correct Answer: 3

QID : 153 - In the following question, the sentence given with blank to be filled in with an appropriate word. Select the correct alternative out of the four and indicate it by selecting the appropriate option.

My father _____ tomorrow.

Options:

- 1) has arriving
- 2) is arriving
- 3) had arrived
- 4) was arriving

Correct Answer: is arriving

QID : 154 - In the following question, the sentence given with blank to be filled in with an appropriate word. Select the correct alternative out of the four and indicate it by selecting the appropriate option.

She has already _____ the floor.

Options:

- 1) clean
- 2) cleaning
- 3) been clean
- 4) cleaned

Correct Answer: cleaned

QID : 155 - In the following question, out of the given four alternatives, select the one which best expresses the meaning of the given word.

Profane

Options:

- 1) Coarse
- 2) Sweet
- 3) Moral
- 4) Dejected

Correct Answer: Coarse

QID : 156 - In the following question, out of the given four alternatives, select the one which best expresses the meaning of the given word.

Lethal

Options:

- 1) Sharp
- 2) Malignant
- 3) Wholesome
- 4) Kind

Correct Answer: Malignant

QID : 157 - In the following question, out of the given four alternatives, select the one which best expresses the meaning of the given word.

Respite

Options:

- 1) Hiatus
- 2) Continuous
- 3) Thirst
- 4) Instead

Correct Answer: Hiatus

QID : 158 - In the following question, out of the given four alternatives, select the one which is opposite in meaning of the given word.

Acquitted

Options:

- 1) Blame
- 2) Deliver
- 3) Excuse
- 4) Relieve

Correct Answer: Blame

QID : 159 - In the following question, out of the given four alternatives, select the one which is opposite in meaning of the given word.

Compulsory

Options:

- 1) Binding
- 2) Necessary
- 3) Optional
- 4) Forced

Correct Answer: Optional

QID : 160 - In the following question, out of the given four alternatives, select the one which is opposite in meaning of the given word.

Bridle

Options:

- 1) Release
- 2) Control
- 3) Leash
- 4) Curb

Correct Answer: Release

QID : 161 - In the following question, out of the four given alternatives, select the alternative which best expresses the meaning of the Idiom/Phrase.

Hail from

Options:

- 1) Out of the game
- 2) Very confident
- 3) To come from
- 4) Calm and composed

Correct Answer: To come from

QID : 162 - In the following question, out of the four given alternatives, select the alternative which best expresses the meaning of the Idiom/Phrase.

A shot in the dark

Options:

- 1) An attempt that is not expected to succeed or very little chance of working
- 2) Born in poor family
- 3) To maintain one's opinion
- 4) To delay a little longer

Correct Answer: An attempt that is not expected to succeed or very little chance of working

QID : 163 - Improve the bracketed part of the sentence.

This slide (**unto**) political regression is particularly troubling, as the country is still recovering from the memory of the genocide

Options:

- 1) Into
- 2) Onto
- 3) Upto
- 4) No improvement

Correct Answer: Into

QID : 164 - Improve the bracketed part of the sentence.

In recent years his autocratic tendencies have become **(increasing)** more pronounced.

Options:

- 1) Increased
- 2) Increasingly
- 3) Increase
- 4) No improvement

Correct Answer: Increasingly

QID : 165 - In the following question, out of the four given alternatives, select the alternative which is the best substitute of the phrase.

A person who writes for newspapers and magazines

Options:

- 1) Journalist
- 2) Activist
- 3) Alchemist
- 4) Biologist

Correct Answer: Journalist

QID : 166 - In the following question, out of the four given alternatives, select the alternative which is the best substitute of the phrase.

Found all over the world

Options:

- 1) Universal
- 2) Appraisal
- 3) Colossal
- 4) dispersal

Correct Answer: Universal

QID : 167 - In the following question, a word has been written in four different ways out of which only one is correctly spelt. Select the correctly spelt word.

Options:

- 1) Fabulous
- 2) Faebulous
- 3) Fabulus
- 4) Fabeulous

Correct Answer: Fabulous

QID : 168 - In the following question, a word has been written in four different ways out of which only one is correctly spelt. Select the correctly spelt word.

Options:

- 1) Geometry
- 2) Gemetry
- 3) Goemetry
- 4) Geometrey

Correct Answer: Geometry

QID : 169 - Rearrange the parts of the sentence in correct order.

The next morning

P: it was snowing

Q: we woke up

R: and found that

Options:

- 1) QRP
- 2) PRQ
- 3) RPQ
- 4) RQP

Correct Answer: QRP

QID : 170 - Rearrange the parts of the sentence in correct order.

Bachendri pal

P: Indian woman to

Q: reach the peak of Mt. Everest

R: became the first

Options:

- 1) PQR
- 2) RPQ
- 3) QRP
- 4) QPR

Correct Answer: RPQ

QID : 171 - In the following passage some of the words have been left out. Read the passage carefully and select the correct answer for the given blank out of the four alternatives.

Internet has revolutionized the living style and working style of the _____ being. It has reduced a man's effort and time thus very beneficial to all for gaining knowledge as well as _____ income at less input. It has ability to _____ information within no time at the doorstep.

Basically internet is a network of networks which connects various computers to handle from one place.

Now a day, internet has spread its _____ at every nook and corner all over the world. Accessing internet requires a telephone line, a computer and a _____.

working style of the _____ being.

Options:

- 1) human
- 2) non-living
- 3) original
- 4) real

Correct Answer: human

QID : 172 - In the following passage some of the words have been left out. Read the passage carefully and select the correct answer for the given blank out of the four alternatives.

Internet has revolutionized the living style and working style of the _____ being. It has reduced a man's effort and time thus very beneficial to all for gaining knowledge as well as _____ income at less input. It has ability to _____ information within no time at the doorstep.

Basically internet is a network of networks which connects various computers to handle from one place.

Now a day, internet has spread its _____ at every nook and corner all over the world. Accessing internet requires a telephone line, a computer and a _____.

as well as _____ income

Options:

- 1) decreasing

- 2) increasing
- 3) abating
- 4) relating

Correct Answer: increasing

QID : 173 - In the following passage some of the words have been left out. Read the passage carefully and select the correct answer for the given blank out of the four alternatives.

Internet has revolutionized the living style and working style of the _____ being. It has reduced a man's effort and time thus very beneficial to all for gaining knowledge as well as _____ income at less input. It has ability to _____ information within no time at the doorstep.

Basically internet is a network of networks which connects various computers to handle from one place. Now a day, internet has spread its _____ at every nook and corner all over the world. Accessing internet requires a telephone line, a computer and a _____.

ability to _____ information

Options:

- 1) curtail
- 2) delete
- 3) provide
- 4) erase

Correct Answer: provide

QID : 174 - In the following passage some of the words have been left out. Read the passage carefully and select the correct answer for the given blank out of the four alternatives.

Internet has revolutionized the living style and working style of the _____ being. It has reduced a man's effort and time thus very beneficial to all for gaining knowledge as well as _____ income at less input. It has ability to _____ information within no time at the doorstep.

Basically internet is a network of networks which connects various computers to handle from one place. Now a day, internet has spread its _____ at every nook and corner all over the world. Accessing internet requires a telephone line, a computer and a _____.

its _____ at every nook

Options:

- 1) removes
- 2) emotion
- 3) leaves
- 4) effects

Correct Answer: effects

QID : 175 - In the following passage some of the words have been left out. Read the passage carefully and select the correct answer for the given blank out of the four alternatives.

Internet has revolutionized the living style and working style of the _____ being. It has reduced a man's effort and time thus very beneficial to all for gaining knowledge as well as _____ income at less input. It has ability to _____ information within no time at the doorstep.

Basically internet is a network of networks which connects various computers to handle from one place. Now a day, internet has spread its _____ at every nook and corner all over the world. Accessing internet requires a telephone line, a computer and a _____.

a computer and a _____.

Options:

- 1) modern
- 2) rode
- 3) branches
- 4) modem

Correct Answer: modem

QID : 176 - Every production is organised by combining land, labour, physical and human capital which are known as _____.

प्रत्येक उत्पादन भूमि, श्रम, शारीरिक तथा मानव पूंजी के संयोजन के द्वारा आयोजित किया जाता है जिसे _____ के रूप में जाना जाता है।

Options:

- 1) Factors of production
उत्पादन के कारक
- 2) Organisations
संगठनों
- 3) Economic activities
आर्थिक गतिविधियाँ
- 4) Industries
उद्योगों

Correct Answer: Factors of production

उत्पादन के कारक

आर्थिक गतिविधियाँ

QID : 177 - Market activities in economy involve _____.

अर्थव्यवस्था में बाज़ार गतिविधियों में _____ सम्मिलित है।

Options:

- 1) production for self-consumption
आत्म-खपत के लिए उत्पादन
- 2) activities performed for charity
धर्मार्थ के लिए किए गए गतिविधियाँ
- 3) activities performed for pay or profit
वेतन या लाभ के लिए किए गए गतिविधियाँ
- 4) none of these
इनमें से कोई नहीं

Correct Answer: activities performed for pay or profit

वेतन या लाभ के लिए किए गए गतिविधियाँ

वेतन या लाभ के लिए किए गए गतिविधियाँ

QID : 178 - Who among the following has the power to dissolve Lok Sabha?

निम्नलिखित में से किसके पास लोकसभा को भंग करने की शक्ति है?

Options:

- 1) President
राष्ट्रपति
- 2) Prime Minister
प्रधानमंत्री
- 3) Chief Justice of India
भारत के मुख्य न्यायाधीश
- 4) Judge of Supreme Court

सर्वोच्च न्यायालय के न्यायाधीश

Correct Answer: President

राष्ट्रपति

राष्ट्रपति

QID : 179 - Part IV A of the Indian Constitution describes about_____.

भारतीय संविधान का भाग IV A _____ के बारे में उल्लेख करता है।

Options:

1) Fundametal Duties

मूल कर्तव्य

2) Fundametal Rights

मूल अधिकार

3) Supreme Court

सर्वोच्च न्यायालय

4) Election Commission

चूनाव आयोग

Correct Answer: Fundametal Duties

मूल कर्तव्य

मूल कर्तव्य

QID : 180 - In Indus valley Civilization, site Dholovira, has been located in which state of India?

सिंधु घाटी सभ्यता में धौलावीरा स्थल, भारत के किस राज्य में स्थित है?

Options:

1) Rajasthan

राजस्थान

2) Punjab

पंजाब

3) Gujrat (Rann of Kutch)

गुजरात (कच्छ का रण)

4) Haryana

हरियाणा

Correct Answer: Gujrat (Rann of Kutch)

गुजरात (कच्छ का रण)

गुजरात (कच्छ का रण)

QID : 181 - In which year did Indian National Congress reunited after the famous Surat split?

सूरत विभाजन के बाद किस वर्ष में भारतीय राष्ट्रीय कांग्रेस पुनः एक हो गई थी?

Options:

1) 1910

2) 1916

3) 1921

4) 1923

Correct Answer: 1916

QID : 182 - Our solar system is a part of which galaxy?

हमारा सौरमंडल किस आकाशगंगा का हिस्सा है?

Options:

1) Andromeda

एण्ड्रोमेडा

2) Triangulum

ट्राएन्गुलम

3) Milky Way

मिल्की वे

4) Bode's

बोडे

Correct Answer: Milky Way

मिल्की वे

एण्ड्रोमेडा

QID : 183 - The Alps Mountains are which type of mountains?

ऐल्प्स पर्वत किस प्रकार के पर्वत हैं?

Options:

1) Old Fold Mountains

पुराने वलित पर्वत

2) Young Fold Mountains

युवा वलित पर्वत

3) Block Mountains

भंशोत्थ पर्वत

4) Volcanic Mountains

ज्वालामुखी पर्वत

Correct Answer: Young Fold Mountains

युवा वलित पर्वत

पुराने वलित पर्वत

QID : 184 - What is produced from the pancreas?

अग्न्याशय से क्या उत्पन्न होता है?

Options:

1) Insulin

इंसुलिन

2) Bile

पित्त

3) Blood

रक्त

4) Urine

मूत्र

Correct Answer: Insulin

इंसुलिन

पित्त

QID : 185 - Which part of the plant helps in holding the plant firmly in the soil?

पौधे का कौन सा भाग पौधे को मिट्टी में जमाए रखता है?

Options:

1) Leaves

पत्तियाँ

2) Fruits

फल

3) Stem

तना

4) Roots

जड़ें

Correct Answer: Roots

जड़ें

जड़ें

QID : 186 - Percentage of O₂ present in inhaled air in human is about _____.

मनुष्यों में साँस ली गई हवा में उपस्थित O₂ का प्रतिशत लगभग _____ है।

Options:

- 1) 21%
- 2) 78%
- 3) 41%
- 4) 2%

Correct Answer: 21%

QID : 187 - The SI unit of pressure is _____.

दबाव की एस. आई. इकाई _____ है।

Options:

- 1) newton
न्यूटन
- 2) matt
मैट
- 3) pascal
पास्कल
- 4) mm of Hg
पारा का मि.मी.

Correct Answer: pascal

पास्कल

मैट

QID : 188 - The image formed by a plane mirror is _____.

एक समतल दर्पण द्वारा निर्मित प्रतिबिम्ब _____ होता है।

Options:

- 1) real
वास्तविक
- 2) virtual
आभासी
- 3) diminished
छोटा
- 4) inverted
औंधा

Correct Answer: virtual

आभासी

वास्तविक

QID : 189 - What are the two major file systems in Microsoft Windows?

माइक्रोसॉफ्ट विंडोज में दो प्रमुख फाइल सिस्टम क्या हैं?

Options:

- 1) FAT32 and NTFS
FAT32 तथा NTFS
- 2) HFS and UFS
HFS तथा UFS

3) XFS and EXT3

XFS तथा EXT3

4) UDF and ZFS

UDF तथा ZFS

Correct Answer: FAT32 and NTFS

FAT32 तथा NTFS

HFS तथा UFS

QID : 190 - What is the atomic mass of hydrogen?

हाइड्रोजन का परमाणु द्रव्यमान क्या है

Options:

- 1) 1
- 2) 2
- 3) 3
- 4) 4

Correct Answer: 1

QID : 191 - pH of solution is 7 so it is _____.

घोल का पी.एच. 7 है, तो वह _____ है।

Options:

- 1) Acidic
अम्लीय
- 2) Neutral
उदासीन
- 3) Basic
क्षारीय
- 4) None of these
इनमें से कोई नहीं

Correct Answer: Neutral

उदासीन

क्षारीय

QID : 192 - Forests are examples of _____.

वन _____ के उदाहरण हैं।

Options:

- 1) Natural ecosystems
प्राकृतिक पारिस्थितिक तंत्र
- 2) Artificial ecosystems
कृत्रिम पारिस्थितिक तंत्र
- 3) Virtual Environment
आभासी वातावरण
- 4) Synthetic Environment
संश्लेषित वातावरण

Correct Answer: Natural ecosystems

प्राकृतिक पारिस्थितिक तंत्र

प्राकृतिक पारिस्थितिक तंत्र

QID : 193 - What is the tagline for Pradhan Mantri Krishi Sinchayee Yojana?

प्रधानमंत्री कृषि सिंचाई योजना के लिए प्रचार वाक्य क्या है?

Options:

- 1) More crop per acre
प्रति एकड़ अधिक फसल
- 2) More crop per drop
अधिक फसल प्रति ड्रॉप

3) More crop per gallon
गैलन प्रति अधिक फसल

4) More produce per drop
अधिक उत्पादन प्रति बूंद

Correct Answer: More crop per drop
अधिक फसल प्रति ड्रॉप
प्रति एकड़ अधिक फसल

QID : 194 - Sir C.V Raman is famous for _____.
सर सी. वी. रमन _____ के लिए प्रसिद्ध है।

Options:

1) Raman diagram

रमन आरेख

2) Gravitational laws

गुरुत्वाकर्षण नियम

3) Law of Refraction

अपवर्तन के सिद्धांत

4) Raman effect

रमन प्रभाव

Correct Answer: Raman effect

रमन प्रभाव

अपवर्तन के सिद्धांत

QID : 195 - Which among the following sports involves use of Rackets?

I. Squash

II. Lawn-tennis

III. Badminton

IV. Table-tennis

निम्नलिखित खेलों में से कौन-सा खेल में रैकेट्स का इस्तेमाल होता है?

I. स्क्वैश

II. लॉन-टेनिस

III. बैडमिंटन

IV. टेबल-टेनिस

Options:

1) Only I and II

केवल I तथा II

2) Only III and IV

केवल III तथा IV

3) Only I, II and III

केवल I, II तथा III

4) All option are correct

सभी विकल्प सही हैं।

Correct Answer: All option are correct

सभी विकल्प सही हैं।

सभी विकल्प सही हैं।

QID : 196 - The Amaravati School of art developed under the patronage of the Satvahanas of which region?
अमरावती कला विद्यालय किस क्षेत्र में सातवहनों के संरक्षण में विकसित हुई थी?

Options:

1) Magadha

मगध

2) Delhi

दिल्ली

3) Andhra

आंध्र

4) Sindh

सिंध

Correct Answer: Andhra

आंध्र

मगध

QID : 197 - Maha Chakri Sirindhorn who has been conferred with first "World Sanskrit Award" belongs to which country?

प्रथम "विश्व संस्कृत पुरस्कार" से सम्मानित महा चकरी सिरिन्धर्न किस देश की निवासी है?

Options:

1) Pakistan

पाकिस्तान

2) Thailand

थाईलैंड

3) Australia

ऑस्ट्रेलिया

4) China

चीन

Correct Answer: Thailand

थाईलैंड

थाईलैंड

QID : 198 - Who is the author of the book named "Malgudi Days"?

"मालगुडी डेज़" नामक पुस्तक के लेखक कौन हैं?

Options:

1) R.K. Narayan

आर. के. नारायण

2) Jim Corbett

जिम कॉर्बेट

3) Lewis Carroll

लुईस कैरोल

4) M. K. Gandhi

एम. के. गांधी

Correct Answer: R.K. Narayan

आर. के. नारायण

जिम कॉर्बेट

QID : 199 - Which among the following is the largest Asia-Pacific military exercise held each year?

निम्नलिखित में से कौन सा सबसे बड़ा एशिया-प्रशांत सैन्य अभ्यास है जो प्रत्येक वर्ष आयोजित किया जाता है?

Options:

1) Red Flag

लाल झंडा

2) Cobra Gold

कोबरा गोल्ड

3) Indradhanush

इंद्रधनुष

4) Simbex

सिमबेक्स

Correct Answer: Cobra Gold

कोबरा गोल्ड

कोबरा गोल्ड

QID : 200 - Which was an operation by Indian Armed forces to foil the coup in Maldives?

कौन सा भारत के सैन्य बलों द्वारा मालदीव में तख्तापलट को नाकाम करने का ऑपरेशन था?

Options:

1) Operation War

ऑपरेशन वॉर

2) Operation Muskan

ऑपरेशन मुस्कान

3) Operation Rahat

ऑपरेशन राहत

4) Operation Cactus

ऑपरेशन कैक्टस

Correct Answer: Operation Cactus

ऑपरेशन कैक्टस

ऑपरेशन वॉर