



**Staff Selection Commission**  
(Government Of India)

**REGISTRATION NUMBER : 2201043485**

**CANDIDATES NAME: MOCKTIME.COM**

**EXAM NAME : SSC CHSL**

**EXAM DURATION : 01:00 Hrs**

**TOTAL MARKS : 200**

**TOTAL NO OF QUESTIONS : 100**

**QID : 1 -**

In the following question, select the number which can be placed at the sign of question mark (?) from the given alternatives.

निम्नलिखित प्रश्न में दिए गए विकल्पों में से प्रश्न चिह्न (?) के स्थान पर आने वाली संख्या को चुनिए।

1	6	7	28
4	2	9	30
8	5	3	?

**Options:**

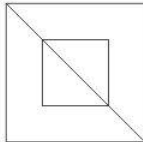
- 1) 30
- 2) 32
- 3) 64
- 4) 44

**Correct Answer: 32**

**QID : 2 -**

How many triangles are there in the given figure?

दी गई आकृति में कितने त्रिभुज हैं?



**Options:**

- 1) 2
- 2) 3
- 3) 4
- 4) 6

**Correct Answer: 4**

**QID : 3 -**

A word is represented by only one set of numbers as given in any one of the alternatives. The sets of numbers given in the alternatives are represented by two classes of alphabets as shown in the given two matrices. The columns and rows of **Matrix-I** are numbered from 0 to 4 and that of **Matrix-II** are numbered from 5 to 9. A letter from these matrices can be represented first by its row and next by its column, for example, 'D' can be represented by 04, 77, etc., and 'U' can be represented by 33, 65, etc. Similarly, you have to identify the set for the word "LOVE".

एक शब्द केवल एक संख्या-समूह द्वारा दर्शाया गया है, जैसा कि विकल्पों में से किसी एक में दिया गया है। विकल्पों में दिए गए संख्या-समूह अक्षरों के दो वर्गों द्वारा दर्शाए गए हैं, जैसा कि दिए गए दो आव्यूहों में है। आव्यूह-I के स्तम्भ और पंक्ति की संख्या 0 से 4 है और आव्यूह-II की 5 से 9। इन आव्यूहों से एक अक्षर को पहले उसकी पंक्ति और बाद में स्तम्भ संख्या द्वारा दर्शाया जा सकता है। उदाहरण के लिए 'D' को 04, 77, आदि द्वारा दर्शाया जा सकता है तथा 'U' को 33, 65, आदि द्वारा दर्शाया जा सकता है। इसी तरह से आपको प्रश्न में दिए शब्द "LOVE" के लिए समूह को पहचानना है।

Matrix-I आव्यूह-I						Matrix-II आव्यूह-II					
	0	1	2	3	4	5	6	7	8	9	
0	U	V	F	C	D	5	S	N	L	A	H
1	L	Y	K	E	J	6	U	O	Z	Y	E
2	X	P	V	M	K	7	B	X	D	C	P
3	B	R	E	U	H	8	X	H	S	M	T
4	A	L	D	X	N	9	V	F	A	X	O

**Options:**

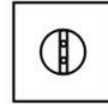
- 1) 10, 65, 95, 69
- 2) 57, 66, 96, 13
- 3) 57, 99, 01, 69
- 4) 41, 99, 23, 69

**Correct Answer: 57, 99, 01, 69**

**QID : 4 -**

From the given answer figures, select the one in which the question figure is hidden/embedded.

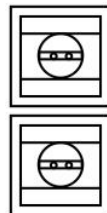
दी गई उत्तर आकृतियों में से उस उत्तर आकृति को चुनिए जिस में प्रश्न आकृति निहित है।



**Options:**

- 1)
- 2)
- 3)
- 4)

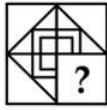
**Correct Answer:**



**QID : 5 -**

Which answer figure will complete the pattern in the question figure?

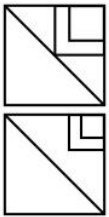
कौन सी उत्तर आकृति प्रश्न आकृति के प्रतिरूप को पूरा करेगी?



**Options:**

- 1)
- 2)
- 3)
- 4)

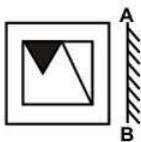
**Correct Answer:**



**QID : 6 -**

If a mirror is placed on the line AB, then which of the answer figures is the right image of the given figure?

यदि एक दर्पण को AB रेखा पर रखा जाए, तो दी गई उत्तर आकृतियों में से कौन सी आकृति प्रश्न आकृति की सही प्रतिबिम्ब होगी?

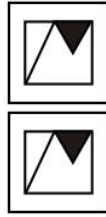


**Options:**

- 1)
- 2)
- 3)



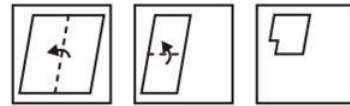
**4) Correct Answer:**



**QID : 7 -**

A piece of paper is folded and punched as shown below in the question figures. From the given answer figures, indicate how it will appear when opened?

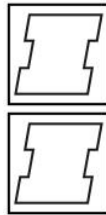
नीचे के प्रश्न आकृतियों में दिखाए अनुसार कागज को मोड़कर छेदने तथा खोलने के बाद वह किस उत्तर आकृति जैसा दिखाई देगा?



**Options:**

- 1)
- 2)
- 3)
- 4)

**Correct Answer:**



**QID : 8 -** If 'Q' means '+', 'L' means 'x', 'T' means '÷', 'Z' means '-', then

**17 Q 4 T 9 L 18 = ?**

यदि 'Q' का अर्थ '+', 'L' का अर्थ 'x', 'T' का अर्थ '÷', 'Z' का अर्थ '-' हो, तो

**17 Q 4 T 9 L 18 = ?**

**Options:**

- 1) 36
- 2) 25
- 3) 42
- 4) 54

**Correct Answer: 25**

**QID : 9** - If  $17 \times 13 = 4$  and  $16 \times 14 = 2$ , then  $29 \times 23 = ?$

यदि  $17 \times 13 = 4$  तथा  $16 \times 14 = 2$  हो, तो  $29 \times 23 = ?$

**Options:**

- 1) 5
- 2) 7
- 3) 6
- 4) 8

**Correct Answer:** 6

**QID : 10** - Arrange the given words in the sequence in which they occur in the dictionary.

1. Heart
2. Henry
3. Heavy
4. Hence
5. Hedge

निम्नलिखित शब्दों को शब्दकोश में आने वाले क्रम के अनुसार लिखें।

1. Heart
2. Henry
3. Heavy
4. Hence
5. Hedge

**Options:**

- 1) 15342
- 2) 31452
- 3) 13425
- 4) 13542

**Correct Answer:** 13542

**QID : 11** - In the following question, select the missing number from the given series.

**4, 1, 16, 9, 36, 25, 64, 49, ?**

निम्नलिखित प्रश्न में दिए गए विकल्पों में से लुप्त अंक ज्ञात कीजिए।

**4, 1, 16, 9, 36, 25, 64, 49, ?**

**Options:**

- 1) 64
- 2) 81
- 3) 100
- 4) 121

**Correct Answer:** 100

**QID : 12** - A series is given with one term missing. Select the correct alternative from the given ones that will complete the series.

**T, P, L, H, ?**

एक अनुक्रम दिया गया है, जिसमें से एक पद लुप्त है। दिए गए विकल्पों में से वह सही विकल्प चुनिए, जो अनुक्रम को पूरा करे।

**T, P, L, H, ?**

**Options:**

- 1) B
- 2) C
- 3) D
- 4) E

**Correct Answer:** D

**QID : 13** - In the following question, select the odd word from the given alternatives.

निम्नलिखित प्रश्न में दिए गए विकल्पों में से विषम शब्द को चुनिए।

**Options:**

- 1) Deserts  
मरुस्थल
- 2) Mountains  
पर्वत
- 3) Plains  
समतल भूमि
- 4) Plants  
पौधे

**Correct Answer:** Plants

पौधे

मरुस्थल

**QID : 14** - In the following question, select the odd number pair from the given alternatives.

निम्नलिखित प्रश्न में दिए गए विकल्पों में से विषम संख्या युग्म को चुनिए।

**Options:**

- 1) 14 - 12
- 2) 22 - 20
- 3) 35 - 33
- 4) 43 - 40

**Correct Answer:** 43 - 40

**QID : 15** - In the following question, select the odd letters from the given alternatives.

निम्नलिखित प्रश्न में दिए गए विकल्पों में से विषम अक्षरों को चुनिए।

**Options:**

- 1) DEC
- 2) MNL
- 3) RSQ
- 4) WXU

**Correct Answer:** WXU

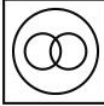

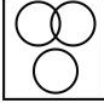
**QID : 16** - Identify the diagram that best represents the relationship among the given classes.


**Crockery, Cup, Plate**

वह आरेख चुनिए जो नीचे दिए गए वर्गों के बीच के संबंध का सही निरूपण करता है।

**चीनी मिट्टी के बर्तन, कप, प्लेट**

**Options:**

- 1) 
- 2) 
- 3) 



4) **Correct Answer:**



**QID : 17** - In the following question, select the related word from the given alternatives.

**Pen : Paper :: Hammer : ?**

निम्नलिखित प्रश्न में दिए गए विकल्पों में से संबंधित शब्द को चुनिए।

**कलम : कागज :: हथौड़ा : ?**

**Options:**

- 1) Nail  
कील
- 2) Strike  
प्रहार
- 3) Crushing  
पीसना
- 4) Hole  
छेद

**Correct Answer:** Nail

कील

प्रहार

**QID : 18** - In the following question, select the related number from the given alternatives.

**49 : 146 :: 63 : ?**

निम्नलिखित प्रश्न में दिए गए विकल्पों में से संबंधित संख्या को चुनिए।

**49 : 146 :: 63 : ?**

**Options:**

- 1) 176
- 2) 188
- 3) 192
- 4) 204

**Correct Answer:** 188

**QID : 19** - In the following question, select the related letters from the given alternatives.

**PO : MQ :: IN : ?**

निम्नलिखित प्रश्न में दिए गए विकल्पों में से संबंधित अक्षरों को चुनिए।

**PO : MQ :: IN : ?**

**Options:**

- 1) EQ
- 2) FP
- 3) FQ
- 4) EP

**Correct Answer:** FP

**QID : 20** - In the following question, select the word which cannot be formed using the letters of the given word.

**MACHINEARY**

निम्नलिखित विकल्पों में से वह शब्द चुनिए जो दिए गए शब्द के अक्षरों का प्रयोग करके नहीं बनाया जा सकता।

**MACHINEARY**

**Options:**

- 1) NEAR
- 2) MICE
- 3) MIND
- 4) HAIRY

**Correct Answer:** MIND

**QID : 21** - Shiva walks 18 km towards east. He turns left and walks 37 km. He turns left and walks 24 km. In which direction is he from his starting point?

शिवा पूर्व की ओर 18 कि.मी. चलता है। वह बायीं ओर मुड़ता है तथा 37 कि.मी. चलता है। वह बायीं ओर मुड़ता है तथा 24 कि.मी. चलता है। वह अपने आरंभिक बिन्दु से किस दिशा में है?

**Options:**

- 1) South-East  
दक्षिण-पूर्व
- 2) North-East  
उत्तर-पूर्व
- 3) North-West  
उत्तर-पश्चिम
- 4) South-West  
दक्षिण-पश्चिम

**Correct Answer:** North-West

उत्तर-पश्चिम

उत्तर-पश्चिम

**QID : 22** - Salil is 7<sup>th</sup> from top and 10<sup>th</sup> from bottom. How many people are there in the row?

एक पंक्ति में, सलील ऊपर से 7 वां है तथा नीचे से 10 वां है। पंक्ति में कुल कितने व्यक्ति हैं?

**Options:**

- 1) 18
- 2) 17
- 3) 16
- 4) 19

**Correct Answer:** 16

**QID : 23** - In the following question below are given some statements followed by some conclusions. Taking the given statements to be true even if they seem to be at variance from commonly known facts, read all the conclusions and then decide which of the given conclusion logically follows the given statements.

**Statements:**

- I. All books are brown.
- II. All brown are wood.

**Conclusions:**

- I. Some books are wood.
- II. Some books are not wood.

नीचे दिए गए प्रश्न में कुछ कथन और उनके बाद उन कथनों पर आधारित कुछ निष्कर्ष दिए गए हैं, हालांकि उनमें सामान्य ज्ञात तथ्यों से भिन्नता हो सकती है। सभी निष्कर्ष पढ़ें और फिर निर्धारित करें कि दिए गए कौन से निष्कर्ष, दिए गए कथनों के आधार पर युक्तिसंगत हैं।

**कथन:**

I. सभी पुस्तकें भूरी हैं।

II. सभी भूरी लकड़ी हैं।

**निष्कर्ष:**

I. कुछ पुस्तकें लकड़ी हैं।

II. कुछ पुस्तकें लकड़ी नहीं हैं।

**Options:**

1) Only conclusion (I) follows.

केवल निष्कर्ष (I) सही है।

2) Only conclusion (II) follows.

केवल निष्कर्ष (II) सही है।

3) Both conclusion follow.

दोनों ही निष्कर्ष सही हैं।

4) Neither conclusion (I) nor conclusion (II) follows.

न तो निष्कर्ष (I) न ही निष्कर्ष (II) सही है।

**Correct Answer:** Only conclusion (I) follows.

केवल निष्कर्ष (I) सही है।

केवल निष्कर्ष (I) सही है।

**QID : 24** - In a certain code language, "ACID" is written as "BDJE". How is "BAKE" written in that code language?

एक विशिष्ट कोड भाषा में, "ACID" को "BDJE" लिखा जाता है। इस कोड भाषा में "BAKE" को किस प्रकार लिखा जाएगा?

**Options:**

1) CBLD

2) CBLF

3) CBMF

4) CCLF

**Correct Answer:** CBLF

**QID : 25** - In a certain code language, "INK" is written as "33" and "PIN" is written as "38". How is "TIP" written in that code language?

एक विशिष्ट कोड भाषा

में, "INK" को "33" तथा "PIN" को "38" लिखा जाता है। इस कोड भाषा में "TIP" को किस प्रकार लिखा जाएगा?

**Options:**

1) 43

2) 44

3) 45

4) 46

**Correct Answer:** 44

**QID : 26** - If a number is divided by 30 then it leaves 17 as a remainder. What will be the remainder when the same number is divided by 10?

यदि एक संख्या को 30 से विभाजित किया जाता है, तो शेषफल 17 बचता है। शेषफल क्या होगा जब उसी संख्या को 10 से विभाजित किया जायेगा?

**Options:**

1) 7

2) 3

3) 1

4) 2

**Correct Answer:** 7

**QID : 27** - What is the value of  $16^2 + 17^2 + 18^2 + \dots + 25^2$ ?

$16^2 + 17^2 + 18^2 + \dots + 25^2$  का मान क्या है?

**Options:**

1) 4325

2) 4465

3) 4105

4) 4285

**Correct Answer:** 4285

**QID : 28** - How many times digit '5' appears in the number from 1 to 100?

1 से 100 तक की संख्या में अंक '5' कितनी बार आता है?

**Options:**

1) 20

2) 21

3) 19

4) 18

**Correct Answer:** 20

**QID : 29** - What is the unit digit of  $5^{124} \times 124^5$ ?

$5^{124} \times 124^5$  का इकाई अंक क्या है?

**Options:**

1) 5

2) 1

3) 0

4) 2

**Correct Answer:** 0

**QID : 30** - What is the value of  $[(a^{-2}b^3) \div (a^1b^{-1})] \times [(a^2b^{-4}) \div (a^{-1}b^2)]$ ?

$[(a^{-2}b^3) \div (a^1b^{-1})] \times [(a^2b^{-4}) \div (a^{-1}b^2)]$  का मान क्या है?

**Options:**

1)  $b^2$

2)  $1/b^2$

3)  $a^2$

4)  $a^2b^2$

**Correct Answer:**  $1/b^2$

**QID : 31** - Which of the following number is divisible by 11?

निम्नलिखित में से कौन सी संख्या 11 से विभाजित है?

**Options:**

1) 59609

2) 45332

3) 23581

4) 44433

**Correct Answer:** 59609

**QID : 32** - A can do a piece of work in 20 days and B can do the same piece of work in 30 days. They start working together and work for 5 days and then both leave the work. C alone finishes the remaining work in 14 days. In how many days will C alone finish the whole work?

A एक कार्य को 20 दिनों में कर सकता है तथा B उसी कार्य को 30 दिनों में कर सकता है। दोनों साथ कार्य करना प्रारंभ करते हैं तथा 5 दिन कार्य करते हैं तथा फिर दोनों कार्य छोड़ देते हैं। C शेष कार्य को अकेला 14 दिनों में पूरा करता है। C अकेला पूरे कार्य को कितने दिनों में पूरा करेगा?

**Options:**

- 1) 24
- 2) 18
- 3) 36
- 4) 42

**Correct Answer:** 24

**QID : 33** - P, Q and R undertook a work for Rs 48000. Together P and Q complete  $\frac{5}{12}$ th part of the work. What is the share (in Rs) of R?

P, Q तथा R ने एक कार्य को 48000 रु में लिया। P तथा Q मिलकर कार्य का  $\frac{5}{12}$ -वां हिस्सा पूरा करते हैं। R का हिस्सा (रु में) क्या है?

**Options:**

- 1) 21000
- 2) 28000
- 3) 27000
- 4) 31000

**Correct Answer:** 28000

**QID : 34** - The length of two parallel sides of a trapezium are 30 cm and 40 cm. If the area of the trapezium is  $350 \text{ cm}^2$ , then what is the value (in cm) of its height?

एक समलम्ब की दो समांतर भुजाओं की लम्बाई 30 से.मी. तथा 40 से.मी. है। यदि समलम्ब का क्षेत्रफल  $350 \text{ से.मी.}^2$  है, तो उसकी ऊचाई का मान (से.मी. में) क्या है?

**Options:**

- 1) 8
- 2) 10
- 3) 15
- 4) 12

**Correct Answer:** 10

**QID : 35** - If the difference between discount of 35% and two successive discounts of 20% on a certain bill is Rs 3, then what is the amount (in Rs) of the bill?

यदि एक बिल में 35% तथा दो 20% की क्रमागत छूटों के बीच 3 रु का अंतर आता है, तो बिल की राशि (रु में) कितनी है?

**Options:**

- 1) 250
- 2) 300
- 3) 350
- 4) 400

**Correct Answer:** 300

**QID : 36** - If a shopkeeper marks the price of goods 40% more than their cost price and allows a discount of 40%, then what is his gain or loss percent?

यदि एक दुकानदार अपने सामान पर उसके क्रय मूल्य से 40% अधिक मूल्य अंकित करता है तथा 40% की छूट देता है, तो उसका लाभ अथवा हानि प्रतिशत क्या है?

**Options:**

- 1) 16%, Loss  
16%, हानि
- 2) 16%, Profit  
16%, लाभ
- 3) 10%, Loss  
10%, हानि
- 4) 12%, Profit  
12%, लाभ

**Correct Answer:** 16%, Loss

16%, हानि

12%, लाभ

**QID : 37** - The ratio of two positive numbers is 9 : 11. Their product is 6336. What is the smallest number?

दो धनात्मक संख्याओं का अनुपात 9 : 11 है। उनका गुणनफल 6336 है। छोटी संख्या क्या है?

**Options:**

- 1) 32
- 2) 72
- 3) 88
- 4) 48

**Correct Answer:** 72

**QID : 38** - B starts some business by investing Rs 90000. After 4 months, D joins business by investing Rs 80000. At the end of the year, in what ratio will they share the profit?

B, 90000 रु की पूँजी निवेश करके एक व्यापार आरंभ करता है। 4 माह के पश्चात D, 80000 रु निवेश कर उस व्यापार में शामिल हो जाता है। वर्ष के अंत में वह किस अनुपात में लाभ बाँटेंगे?

**Options:**

- 1) 10 : 7
- 2) 9 : 4
- 3) 27 : 16
- 4) 7 : 3

**Correct Answer:** 27 : 16

**QID : 39** - Average of 9 numbers is 20. If a number 30 is also included, then what will be the average of these 10 numbers?

9 संख्याओं का औसत 20 है। यदि एक संख्या 30 को भी शामिल कर लिया जाए, तो इन 10 संख्याओं का औसत क्या होगा?

**Options:**

- 1) 20.5
- 2) 21
- 3) 19.5
- 4) 21.5

**Correct Answer:** 21

**QID : 40** - By selling 50 metres of cloth, a person gains the cost price of 20 metres of cloth. What is his gain percent?

50 मीटर कपड़ा बेचकर एक व्यक्ति को 20 मीटर कपड़े के क्रय मूल्य के बराबर लाभ होता है। उसका लाभ प्रतिशत क्या है?

**Options:**

- 1) 40
- 2) 25
- 3) 20
- 4) 10

**Correct Answer:** 40

**QID : 41** - If some articles are bought at Rs 10 each and sold at Rs 7 each, then what is the loss percentage?

यदि कुछ वस्तुएँ 10 रु प्रति वस्तु की दर से खरीदकर 7 रु प्रति वस्तु की दर से बेच दी गई हैं, तो हानि प्रतिशत क्या है?

**Options:**

- 1) 60
- 2) 16.67
- 3) 25
- 4) 30

**Correct Answer:** 30

**QID : 42** - A man saves 30% of his income in 1 year. If he wants to save the same amount in 8 months, then by how much percentage should he increase his monthly savings?

एक व्यक्ति 1 वर्ष में अपनी आय का 30% बचाता है। यदि वह उतनी ही राशि 8 महीने में बचाना चाहता है, तो उसे अपनी मासिक बचत कितने प्रतिशत से बढ़ानी चाहिए?

**Options:**

- 1) 20
- 2) 30
- 3) 40
- 4) 50

**Correct Answer:** 50

**QID : 43** - A man spends 80% of his income and saves the rest. If his income and spending both increases by 10%, then what is the percentage change in his savings?

एक व्यक्ति अपनी आय का 80% खर्च कर देता है तथा बाकी बचाता है। यदि उसकी आय तथा बचत दोनों 10% से बढ़ जाते हैं, तो उसकी बचत में कितने प्रतिशत का बदलाव हुआ है?

**Options:**

- 1) 10% increase  
10% की वृद्धि
- 2) 5% decrease  
5% की कमी
- 3) 5% increase  
5% की वृद्धि
- 4) 15% decrease  
15% की कमी

**Correct Answer:** 10% increase

10% की वृद्धि

10% की वृद्धि

**QID : 44** - A car travels at a speed of 25 m/s for 8 hours. What is the distance (in km) travelled by the car? एक गाड़ी 25 मी./से. की गति से 8 घण्टे चलती है। गाड़ी

द्वारा कितनी दूरी (कि.मी. में) तय की गई है?

**Options:**

- 1) 360
- 2) 720
- 3) 450
- 4) 900

**Correct Answer:** 720

**QID : 45** - A 450 meter long train crosses a bridge 650 meters long in 36 seconds. What is speed (in km/hr) of the train?

एक 450 मीटर लम्बी रेलगाड़ी एक 650 मीटर लम्बे पुल को पार करने में 36 सेकण्ड लेती है। रेलगाड़ी की गति (कि.मी./घंटा में) क्या है?

**Options:**

- 1) 110
- 2) 125
- 3) 150
- 4) 95

**Correct Answer:** 110

**QID : 46** - The population of a town increases at the rate of 15% per annum. If the present population is 108445 of town, then what was the population 2 years ago?

15% की वार्षिक दर से एक शहर की जनसंख्या में वृद्धि होती है। यदि शहर की वर्तमान जनसंख्या 108445 है, तो 2 वर्ष पहले शहर की जनसंख्या क्या थी?

**Options:**

- 1) 72000
- 2) 79000
- 3) 82000
- 4) 85000

**Correct Answer:** 82000

**QID : 47** -

The table given below shows the number of customers (in thousands) visiting 2 shopping complexes A and B from January 2017 to June 2017.

नीचे दी गई तालिका में जनवरी 2017 से जून 2017 तक 2 खरीददारी भवनों A तथा B में आने वाले ग्राहकों की संख्या (हजारों में) को दर्शाया गया है।

Month / माह	Number of customers (in thousands) / ग्राहकों की संख्या (हजारों में)	
	Complex A / भवन A	Complex B / भवन B
January / जनवरी	20	22
February / फरवरी	25	24
March / मार्च	15	20
April / अप्रैल	25	28
May / मई	14	20
June / जून	20	15

What was the percentage change in number of customers to complex B from March to April? भवन B में, मार्च से अप्रैल तक आने वाले ग्राहकों की संख्या में प्रतिशत परिवर्तन क्या था?

**Options:**

- 1) 20
- 2) 40
- 3) 28
- 4) 56

**Correct Answer: 40**

**QID : 48 -**

The table given below shows the number of customers (in thousands) visiting 2 shopping complexes A and B from January 2017 to June 2017.

नीचे दी गई तालिका में जनवरी 2017 से जून 2017 तक 2 खरीददारी भवनों A तथा B में आने वाले ग्राहकों की संख्या (हजारों में) को दर्शाया गया है।

Month / माह	Number of customers (in thousands) / ग्राहकों की संख्या (हजारों में)	
	Complex A / भवन A	Complex B / भवन B
January / जनवरी	20	22
February / फरवरी	25	24
March / मार्च	15	20
April / अप्रैल	25	28
May / मई	14	20
June / जून	20	15

What is the maximum difference (in thousands) between the numbers of customers in the 2 complexes among the given months?

दिए गए महीनों के लिए, दोनों भवनों में ग्राहकों की संख्या के मध्य अधिकतम अंतर (हजारों में) क्या है?

**Options:**

- 1) 5
- 2) 6
- 3) 8
- 4) 4

**Correct Answer: 6**

**QID : 49 -**

The table given below shows the number of customers (in thousands) visiting 2 shopping complexes A and B from January 2017 to June 2017.

नीचे दी गई तालिका में जनवरी 2017 से जून 2017 तक 2 खरीददारी भवनों A तथा B में आने वाले ग्राहकों की संख्या (हजारों में) को दर्शाया गया है।

Month / माह	Number of customers (in thousands) / ग्राहकों की संख्या (हजारों में)	
	Complex A / भवन A	Complex B / भवन B
January / जनवरी	20	22
February / फरवरी	25	24
March / मार्च	15	20
April / अप्रैल	25	28
May / मई	14	20
June / जून	20	15

What is the total number of customers (in thousands) in the 2 complexes in the month of April?

अप्रैल के महीने में, दोनों भवनों में ग्राहकों की कुल संख्या (हजारों में) क्या है?

**Options:**

- 1) 52
- 2) 53
- 3) 50
- 4) 56

**Correct Answer: 53**

**QID : 50 -**



The table given below shows the number of customers (in thousands) visiting 2 shopping complexes A and B from January 2017 to June 2017.

नीचे दी गई तालिका में जनवरी 2017 से जून 2017 तक 2 खरीददारी भवनों A तथा B में आने वाले ग्राहकों की संख्या (हजारों में) को दर्शाया गया है।

Month / माह	Number of customers (in thousands) / ग्राहकों की संख्या (हजारों में)	
	Complex A / भवन A	Complex B / भवन B
January / जनवरी	20	22
February / फरवरी	25	24
March / मार्च	15	20
April / अप्रैल	25	28
May / मई	14	20
June / जून	20	15

What is the average number of customers (in thousands) in complex B from February to May?

फरवरी से मई तक, भवन B में ग्राहकों की औसत संख्या (हजारों में) क्या है?

**Options:**

- 1) 22
- 2) 24
- 3) 23
- 4) 25

**Correct Answer:** 23

**QID : 51** - In the following question, some part of the sentence may have errors. Find out which part of the sentence has an error and select the appropriate option. If a sentence is free from error, select 'No Error'.

An Country's Central News Agency (1)/ said the launch was a (2)/ "muscle-flexing". (3)/ No Error (4)

**Options:**

- 1) 1
- 2) 2
- 3) 3
- 4) 4

**Correct Answer:** 1

**QID : 52** - In the following question, some part of the sentence may have errors. Find out which part of the sentence has an error and select the appropriate option. If a sentence is free from error, select 'No Error'.

A total of 300 economically backward (1)/ students would being awarded (2)/ the Narendra Modi Scholarship. (3)/ No Error (4)

**Options:**

- 1) 1
- 2) 2
- 3) 3
- 4) 4

**Correct Answer:** 2

**QID : 53** - In the following question, the sentence given with blank to be filled in with an appropriate word. Select

the correct alternative out of the four and indicate it by selecting the appropriate option.

**I asked her if I \_\_\_\_\_ borrow her necklace for a day.**

**Options:**

- 1) could
- 2) would
- 3) should
- 4) can

**Correct Answer:** could

**QID : 54** - In the following question, the sentence given with blank to be filled in with an appropriate word. Select the correct alternative out of the four and indicate it by selecting the appropriate option.

**She doesn't know \_\_\_\_\_ to accept or refuse the proposal.**

**Options:**

- 1) if
- 2) that
- 3) whether
- 4) which

**Correct Answer:** whether

**QID : 55** - In the following question, out of the given four alternatives, select the one which best expresses the meaning of the given word.

**Smear**

**Options:**

- 1) Discolour
- 2) Honor
- 3) Laud
- 4) Upgrade

**Correct Answer:** Discolour

**QID : 56** - In the following question, out of the given four alternatives, select the one which best expresses the meaning of the given word.

**Concession**

**Options:**

- 1) Denial
- 2) Protest
- 3) Retrograde
- 4) Allowance

**Correct Answer:** Allowance

**QID : 57** - In the following question, out of the given four alternatives, select the one which best expresses the meaning of the given word.

**Fickle**

**Options:**

- 1) Cognizant
- 2) Unstable
- 3) Accidental
- 4) Steadfast

**Correct Answer:** Unstable

**QID : 58** - In the following question, out of the given four alternatives, select the one which is opposite in meaning of the given word.

**Grudge**

**Options:**

- 1) Spite

- 2) Averse
- 3) Dislike
- 4) Goodwill

**Correct Answer:** Goodwill

**QID : 59** - In the following question, out of the given four alternatives, select the one which is opposite in meaning of the given word.

**Hail**

**Options:**

- 1) Rain
- 2) Storm
- 3) Greet
- 4) Dribble

**Correct Answer:** Dribble

**QID : 60** - In the following question, out of the given four alternatives, select the one which is opposite in meaning of the given word.

**Incite**

**Options:**

- 1) Encourage
- 2) Arouse
- 3) Drive
- 4) Prohibit

**Correct Answer:** Prohibit

**QID : 61** - In the following question, out of the four given alternatives, select the alternative which best expresses the meaning of the Idiom/Phrase.

**With open arms**

**Options:**

- 1) Cordially
- 2) Often
- 3) Seldom
- 4) Frequently

**Correct Answer:** Cordially

**QID : 62** - In the following question, out of the four given alternatives, select the alternative which best expresses the meaning of the Idiom/Phrase.

**A bone of contention**

**Options:**

- 1) Strong and healthy bones
- 2) Tough man
- 3) Cause of dispute
- 4) Peaceful thing

**Correct Answer:** Cause of dispute

**QID : 63** - Improve the bracketed part of the sentence. No mention was made **(to a)** key amendment to the Constitution to accommodate demands that had been defeated just last Monday.

**Options:**

- 1) of a
- 2) in a
- 3) by a
- 4) No improvement

**Correct Answer:** of a

**QID : 64** - Improve the bracketed part of the sentence.

Yet, it would be a mistake to presume that ties can so easily return to their pre-2015 strength, as the ground **(had)** shifted in too many ways since then.

**Options:**

- 1) have
- 2) has
- 3) was
- 4) No improvement

**Correct Answer:** has

**QID : 65** - In the following question, out of the four given alternatives, select the alternative which is the best substitute of the phrase.

**Amount paid to a man for his labour.**

**Options:**

- 1) Incentive
- 2) Remuneration
- 3) Gratuity
- 4) Honorarium

**Correct Answer:** Remuneration

**QID : 66** - In the following question, out of the four given alternatives, select the alternative which is the best substitute of the phrase.

**A diplomatic representative in another country.**

**Options:**

- 1) Spy
- 2) Spinster
- 3) Bureaucrat
- 4) Ambassador

**Correct Answer:** Ambassador

**QID : 67** - In the following question, a word has been written in four different ways out of which only one is correctly spelt. Select the correctly spelt word.

**Options:**

- 1) Secratary
- 2) Secretery
- 3) Secratery
- 4) Secretary

**Correct Answer:** Secretary

**QID : 68** - In the following question, a word has been written in four different ways out of which only one is correctly spelt. Select the correctly spelt word.

**Options:**

- 1) Heinious
- 2) Heinies
- 3) Heinous
- 4) Hienous

**Correct Answer:** Heinous

**QID : 69** - Rearrange the parts of the sentence in correct order.

Friendship

**P:** an asset

**Q:** in life

**R:** is indeed

**Options:**

- 1) PQR
- 2) RPQ
- 3) QPR
- 4) PRQ

**Correct Answer:** RPQ

**QID : 70** - Rearrange the parts of the sentence in correct order.

If you don't want

**P:** freedom either

**Q:** you can't have

**R:** to take responsibility

**Options:**

1) RPQ

2) RQP

3) PRQ

4) PQR

**Correct Answer:** RQP

**QID : 71** - In the following passage some of the words have been left out. Read the passage carefully and select the correct answer for the given blank out of the four alternatives.

Poverty means \_\_\_\_\_ of basic necessities such as food, house, clean drinking water, shelter, toilet, etc. Poverty is mostly \_\_\_\_\_ in developing countries such as India, Bangladesh, Africa, Latin America, etc. Poor people stay in underprivileged living environment. Without \_\_\_\_\_ food and nutrition, many poor people suffer from malnutrition. Without clean drinking water, they are forced to either stay thirsty or drink unclean water. Young children are seen engaged as child labourers. Without proper \_\_\_\_\_ and toilets, they are forced to \_\_\_\_\_ in open fields. Homeless people have no choice but to live in the open.

**Poverty means \_\_\_\_\_ of basic necessities**

**Options:**

1) deprivation

2) appreciation

3) indulgence

4) presentation

**Correct Answer:** deprivation

**QID : 72** - In the following passage some of the words have been left out. Read the passage carefully and select the correct answer for the given blank out of the four alternatives.

Poverty means \_\_\_\_\_ of basic necessities such as food, house, clean drinking water, shelter, toilet, etc. Poverty is mostly \_\_\_\_\_ in developing countries such as India, Bangladesh, Africa, Latin America, etc. Poor people stay in underprivileged living environment. Without \_\_\_\_\_ food and nutrition, many poor people suffer from malnutrition. Without clean drinking water, they are forced to either stay thirsty or drink unclean water. Young children are seen engaged as child labourers. Without proper \_\_\_\_\_ and toilets, they are forced to \_\_\_\_\_ in open fields. Homeless people have no choice but to live in the open.

**Poverty is mostly \_\_\_\_\_ in developing countries**

**Options:**

1) irrelevant

2) prevalent

3) relevant

4) malevolent

**Correct Answer:** prevalent

**QID : 73** - In the following passage some of the words have been left out. Read the passage carefully and select the correct answer for the given blank out of the four alternatives.

Poverty means \_\_\_\_\_ of basic necessities such as food, house, clean drinking water, shelter, toilet, etc. Poverty is mostly \_\_\_\_\_ in developing countries such as India, Bangladesh, Africa, Latin America, etc. Poor people stay in underprivileged living environment. Without \_\_\_\_\_ food and nutrition, many poor people suffer from malnutrition. Without clean drinking water, they are forced to either stay thirsty or drink unclean water. Young children are seen engaged as child labourers. Without proper \_\_\_\_\_ and toilets, they are forced to \_\_\_\_\_ in open fields. Homeless people have no choice but to live in the open.

**Without \_\_\_\_\_ food and nutrition,**

**Options:**

1) unfit

2) insufficient

3) adequate

4) useless

**Correct Answer:** adequate

**QID : 74** - In the following passage some of the words have been left out. Read the passage carefully and select the correct answer for the given blank out of the four alternatives.

Poverty means \_\_\_\_\_ of basic necessities such as food, house, clean drinking water, shelter, toilet, etc. Poverty is mostly \_\_\_\_\_ in developing countries such as India, Bangladesh, Africa, Latin America, etc. Poor people stay in underprivileged living environment. Without \_\_\_\_\_ food and nutrition, many poor people suffer from malnutrition. Without clean drinking water, they are forced to either stay thirsty or drink unclean water. Young children are seen engaged as child labourers. Without proper \_\_\_\_\_ and toilets, they are forced to \_\_\_\_\_ in open fields. Homeless people have no choice but to live in the open.

**Without proper \_\_\_\_\_ and toilets, they are forced**

**Options:**

1) edition

2) inaction

3) intuition

4) sanitation

**Correct Answer:** sanitation

**QID : 75** - In the following passage some of the words have been left out. Read the passage carefully and select the correct answer for the given blank out of the four alternatives.

Poverty means \_\_\_\_\_ of basic necessities such as food, house, clean drinking water, shelter, toilet, etc. Poverty is mostly \_\_\_\_\_ in developing countries such as India, Bangladesh, Africa, Latin America, etc. Poor people stay in underprivileged living environment. Without \_\_\_\_\_ food and nutrition, many poor people suffer from malnutrition. Without clean drinking water, they are forced to either stay thirsty or drink unclean water. Young children are seen engaged as child labourers. Without proper \_\_\_\_\_ and toilets, they are forced to \_\_\_\_\_

\_\_\_\_\_ in open fields. Homeless people have no choice but to live in the open.

to \_\_\_\_\_ in open fields.

**Options:**

- 1) abdicate
- 2) eliminate
- 3) allocate
- 4) defecate

**Correct Answer:** defecate

**QID : 76** - What is the income of all the residents of the country called?

देश के सभी निवासियों की आय क्या कहलाती है?

**Options:**

- 1) Per capita income  
प्रति व्यक्ति आय
- 2) Average income  
औसत आय
- 3) Total income  
कुल आय
- 4) None of these  
इनमें से कोई नहीं

**Correct Answer:** Total income

कुल आय

कुल आय

**QID : 77** - What are the deposits in the bank accounts that can be withdrawn on demand called?

बैंक खाते में जमा राशि जो मांग पर वापस ली जा सकती है, क्या कहलाती है?

**Options:**

- 1) Time deposits  
समय जमा
- 2) Demand deposits  
मांग जमा
- 3) Withdrawl  
निकासी
- 4) Accumulations  
संचय

**Correct Answer:** Demand deposits

मांग जमा

निकासी

**QID : 78** - Under which article the President declares 'Presidents Rule' in India?

भारत में राष्ट्रपति किस अनुच्छेद के अंतर्गत 'राष्ट्रपति शासन' घोषित करता है?

**Options:**

- 1) Article 100  
अनुच्छेद 100
- 2) Article 356  
अनुच्छेद 356
- 3) Article 401  
अनुच्छेद 401
- 4) Article 90

अनुच्छेद 90

**Correct Answer:** Article 356

अनुच्छेद 356

अनुच्छेद 356

**QID : 79** - In which form of government, each adult citizen must have one vote and each vote must have one value?

किस प्रकार की सरकार में हर वयस्क नागरिक का एक वोट होना चाहिए तथा हर वोट का एक समान मूल्य होना चाहिए?

**Options:**

- 1) Aristocratic  
कुलीनतांत्रिक
- 2) Monarchic  
राजतांत्रिक
- 3) Democratic  
लोकतांत्रिक
- 4) Autocratic  
एकतांत्रिक

**Correct Answer:** Democratic

लोकतांत्रिक

लोकतांत्रिक

**QID : 80** - Where was the first capital of Chalukyas?

चालुक्यों की पहली राजधानी कहाँ थी?

**Options:**

- 1) Madras  
मद्रास
- 2) Aihole  
ऐहोल
- 3) Hyderabad  
हैदराबाद
- 4) Kanchipuram  
काँचीपुरम

**Correct Answer:** Aihole

ऐहोल

काँचीपुरम

**QID : 81** - Who raised the slogan "Swaraj is my birth right and I shall have it"?

"स्वराज मेरा जन्मसिद्ध अधिकार है और मैं इसे लेकर रहूँगा"

नारा किसने दिया था?

**Options:**

- 1) Mahatma Gandhi  
महात्मा गाँधी
- 2) Subhash Chandra Bose  
सुभाष चन्द्र बोस
- 3) Lala Lajpat Rai  
लाला लाजपत राय
- 4) Bal Gangadhar Tilak  
बाल गंगाधर तिलक

**Correct Answer:** Bal Gangadhar Tilak

बाल गंगाधर तिलक

बाल गंगाधर तिलक

**QID : 82** - Why Earth is called the blue planet?

पृथ्वी को नीला ग्रह क्यों कहा जाता है?

**Options:**

1) Because of two-thirds surface covered by water

दो-तिहाई सतह पानी से ढकी होने के कारण

2) Because of water laden clouds in the atmosphere

वातावरण में पानी से लदे बादलों के कारण

3) Because of pollution in the atmosphere

वातावरण में प्रदूषण के कारण

4) None of these

इनमें से कोई नहीं

**Correct Answer:** Because of two-thirds surface covered by water

दो-तिहाई सतह पानी से ढकी होने के कारण

दो-तिहाई सतह पानी से ढकी होने के कारण

**QID : 83** - What is the shape of the Pacific Ocean?

प्रशांत महासागर का आकार क्या है?

**Options:**

1) Almost Circular

लगभग वृत्ताकार

2) S' shaped

S' आकार

3) Almost Triangular

लगभग त्रिभुजाकार

4) None of these

इनमें से कोई नहीं

**Correct Answer:** Almost Triangular

लगभग त्रिभुजाकार

इनमें से कोई नहीं

**QID : 84** - Heat is which component of habitat?

उष्मा परिवेश का कौन सा घटक है?

**Options:**

1) Biotic component

जैव घटक

2) Abiotic component

अजैव घटक

3) Both Biotic and Abiotic component

जैव तथा अजैव घटक दोनों

4) Neither of the two components

दोनों घटकों में से कोई नहीं

**Correct Answer:** Abiotic component

अजैव घटक

जैव तथा अजैव घटक दोनों

**QID : 85** - Pepsin digests \_\_\_\_\_.

पेप्सिन पाचन \_\_\_\_\_ करता है।

**Options:**

1) proteins in stomach

उदर में प्रोटीनों का

2) carbohydrates in mouth

मुँह में कार्बोहाइड्रेट का

3) fats in duodenum

ग्रहणी में वसा का

4) minerals in ileum

क्षुद्रांत्र में खनिज पदार्थों का

**Correct Answer:** proteins in stomach

उदर में प्रोटीनों का

**QID : 86** - Anemia is related to \_\_\_\_\_.

एनीमिया का सम्बन्ध \_\_\_\_\_ होता है।

**Options:**

1) iodine deficiency

आयोडीन की कमी से

2) calcium deficiency

कैल्शियम की कमी से

3) iron deficiency

लोह की कमी से

4) food poisoning

खाद्य विषाण

**Correct Answer:** iron deficiency

लोह की कमी से

लोह की कमी से

**QID : 87** - How many terminals does an electric cell has?

एक विद्युत कक्ष में कितने टर्मिनल हैं?

**Options:**

1) 1

2) 2

3) 3

4) 4

**Correct Answer:** 2

**QID : 88** - The size of the image formed by a plane mirror is always \_\_\_\_\_ to/than the object.

समतल दर्पण द्वारा बनने वाले प्रतिबिंब का आकार सदैव

वस्तु के/से \_\_\_\_\_ होता है।

**Options:**

1) Equal

बराबर

2) Greater

बड़ा

3) Smaller

छोटा

4) None of these

इनमें से कोई नहीं

**Correct Answer:** Equal

बराबर

छोटा

**QID : 89** - Microsoft excel is also called \_\_\_\_\_.

माइक्रोसॉफ्ट एक्सेल को \_\_\_\_\_ भी कहा जाता है।

**Options:**

1) Document

डोक्युमेंट

2) Table  
टेबल

3) Spreadsheet  
स्प्रेडशीट

4) Label  
लेबल

**Correct Answer:** Spreadsheet  
स्प्रेडशीट  
स्प्रेडशीट

**QID : 90** - \_\_\_\_\_ the correct formula for ammonium phosphate.

अमोनियम फॉस्फेट का सही सूत्र \_\_\_\_\_ है।

**Options:**

1)  $N_4H_6PO_4$

2)  $(NH_4)_3PO$

3)  $(NH_4)_3PO_4$

4)  $(NH_4)_2PO_4$

**Correct Answer:**  $(NH_4)_3PO_4$

**QID : 91** - Law of Triad was proposed by \_\_\_\_\_.

त्रि-कानून \_\_\_\_\_ द्वारा प्रस्तावित किया गया था।

**Options:**

1) Newland

न्यूलैण्ड

2) Rutherford

रदरफोर्ड

3) Mendeleev

मेंडलीव

4) Dobereiner

डोबेरेनर

**Correct Answer:** Dobereiner

डोबेरेनर

**QID : 92** - What are the microorganisms that breakdown the dead remains and waste product of organisms called?

मृतजैव अवशेषों तथा अविशिष्ट पदार्थों का अपमार्जन करने वाले सूक्ष्मजीवों को क्या कहते हैं?

**Options:**

1) Consumers

उपभोक्ता

2) Producers

उत्पादक

3) Decomposers

अपमार्जक

4) None of these

इनमें से कोई नहीं

**Correct Answer:** Decomposers

अपमार्जक

इनमें से कोई नहीं

**QID : 93** - What is the rate of Krishi Kalyan Cess which was proposed in budget 2016?

2016 के बजट में प्रस्तावित कृषि कल्याण उपकर की दर कितनी है?

**Options:**

1) 0.5%

2) 2%

3) 5%

4) 0.25%

**Correct Answer:** 0.5%

**QID : 94** - What was invented by 'Zacharias Janssen'?  
'ज़कारियस जैनसेन' ने किसका आविष्कार किया था?

**Options:**

1) Telescope

टेलीस्कोप

2) Microscope

माइक्रोस्कोप

3) Stethoscope

स्टेथोस्कोप

4) Periscope

पेरिस्कोप

**Correct Answer:** Microscope

माइक्रोस्कोप

**QID : 95** - "Hitting below the belt" is a phrase associated with which sports?

"हिटींग बिलो द बेल्ट" किस खेल से सम्बंधित एक वाक्यांश है?

**Options:**

1) Boxing

मुक्केबाज़ी

2) Cricket

क्रिकेट

3) Hockey

हॉकी

4) Baseball

बेसबॉल

**Correct Answer:** Boxing

मुक्केबाज़ी

मुक्केबाज़ी

**QID : 96** - The Vedas, Upanishads, Puranas and Dharmasutras are all written in which language?

वेद, उपनिषद, पुराण और धर्मसूत्र किस भाषा में लिखे गए हैं?

**Options:**

1) Hindi

हिंदी

2) Prakrit

प्राकृत

3) Pali

पाली

4) Sanskrit

संस्कृत

**Correct Answer:** Sanskrit

संस्कृत

संस्कृत

**QID : 97** - Which airport in India is ranked first in customer satisfaction Index Survey conducted for the period of Jan-June 2017?

जनवरी-जून 2017 के लिए ग्राहक संतुष्टि सूचकांक सर्वेक्षण में भारत में कौन सा हवाई अड्डा सबसे पहले स्थान पर है?

**Options:**

- 1) Raipur's Swami Vivekananda Airport  
रायपुर का स्वामी विवेकानंद हवाई अड्डा
  - 2) New Delhi's Indira Gandhi Airport  
नई दिल्ली का इंदिरा गांधी हवाई अड्डा
  - 3) Lucknow's Chaudhary Charan Singh Airport  
लखनऊ का चौधरी चरण सिंह हवाई अड्डा
  - 4) Mumbai's Chhatrapati Shivaji Airport  
मुंबई का छत्रपति शिवाजी हवाई अड्डा
- Correct Answer:** Raipur's Swami Vivekananda Airport  
रायपुर का स्वामी विवेकानंद हवाई अड्डा  
रायपुर का स्वामी विवेकानंद हवाई अड्डा

**QID : 98** - Who is the author of book named "India 2020: A vision for the new Millennium"?

"इंडिया 2020 : ए विज़न फॉर द न्यू मिलेनियम" नामक पुस्तक के लेखक कौन हैं?

**Options:**

- 1) M.V. Kamath  
एम. वी. कामथ
- 2) Kiran Bedi  
किरण बेदी
- 3) Dr. A.P.J. Abdul Kalam  
डॉ. ए.पी.जे. अब्दुल कलाम
- 4) A.K Damodaran  
ए.के. दामोदरन

**Correct Answer:** Dr. A.P.J. Abdul Kalam

डॉ. ए.पी.जे. अब्दुल कलाम

एम. वी. कामथ

**QID : 99** - Where was the first International Agrobiodiversity Congress held?

पहली अंतर्राष्ट्रीय कृषिजैवविविधता कांग्रेस कहाँ आयोजित हुई थी?

**Options:**

- 1) Prague  
प्राग
- 2) New Delhi  
नई दिल्ली
- 3) Kuming  
कुमिंग
- 4) Thimpu  
थिम्पू

**Correct Answer:** New Delhi

नई दिल्ली

नई दिल्ली

**QID : 100** - Petrapole Integrated Check Post is the South Asia's biggest land port that exists between India and \_\_\_\_\_.

पेट्रोपोल इंटीग्रेटेड चेक पोस्ट दक्षिण एशिया की सबसे बड़ी भूमि पोर्ट है जो भारत तथा \_\_\_\_\_ के बीच मौजूद है।

**Options:**

- 1) Pakistan  
पाकिस्तान
- 2) Nepal  
नेपाल
- 3) Bangladesh  
बांग्लादेश
- 4) Afghanistan  
अफगानिस्तान

**Correct Answer:** Bangladesh

बांग्लादेश

अफगानिस्तान