



**REGISTRATION NUMBER : 2201047874**

**CANDIDATES NAME: MOCKTIME.COM**

**EXAM NAME : SSC CHSL**

**EXAM DURATION : 01:00 Hrs**

**TOTAL MARKS : 200**

**TOTAL NO OF QUESTIONS : 100**

**QID : 101 -**

In the following question, select the number which can be placed at the sign of question mark (?) from the given alternatives.

निम्नलिखित प्रश्न में दिए गए विकल्पों में से प्रश्न चिह्न (?) के स्थान पर आने वाली संख्या को चुनिए।

8	2	4	14
7	6	5	18
4	2	5	?

**Options:**

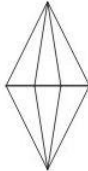
- 1) 9
- 2) 10
- 3) 11
- 4) 12

**Correct Answer: 11**

**QID : 102 -**

How many triangles are there in the given figure?

दी गई आकृति में कितने त्रिभुज हैं?



**Options:**

- 1) 8
- 2) 10
- 3) 12
- 4) 14

**Correct Answer: 12**

**QID : 103 -**

A word is represented by only one set of numbers as given in any one of the alternatives. The sets of numbers given in the alternatives are represented by two classes of alphabets as shown in the given two matrices. The columns and rows of **Matrix-I** are numbered from 0 to 4 and that of **Matrix-II** are numbered from 5 to 9. A letter from these matrices can be represented first by its row and next by its column, for example, 'C' can be represented by 11, 67, etc., and 'T' can be represented by 30, 66, etc. Similarly, you have to identify the set for the word "TRADE".

एक शब्द केवल एक संख्या-समूह द्वारा दर्शाया गया है, जैसा कि विकल्पों में से किसी एक में दिया गया है। विकल्पों में दिए गए संख्या-समूह अक्षरों के दो वर्गों द्वारा दर्शाए गए हैं, जैसा कि दिए गए दो आव्यूहों में है। **आव्यूह-I** के स्तम्भ और पंक्ति की संख्या 0 से 4 है और **आव्यूह-II** की 5 से 9। इन आव्यूहों से एक अक्षर को पहले उसकी पंक्ति और बाद में स्तम्भ संख्या द्वारा दर्शाया जा सकता है। उदाहरण के लिए 'C' को 11, 67, आदि द्वारा दर्शाया जा सकता है तथा 'T' को 30, 66, आदि द्वारा दर्शाया जा सकता है। इसी तरह से आपको प्रश्न में दिए शब्द "TRADE" के लिए समूह को पहचानना है।

Matrix-I					Matrix-II						
आव्यूह-I					आव्यूह-II						
	0	1	2	3	4		5	6	7	8	9
0	A	K	S	Y	D	5	B	L	V	E	O
1	F	C	M	U	B	6	J	T	C	M	W
2	N	H	E	O	W	7	H	R	A	K	U
3	T	P	J	G	Q	8	F	P	Z	I	S
4	X	V	R	L	I	9	D	N	X	G	Q

**Options:**

- 1) 30, 42, 01, 96, 58
- 2) 30, 76, 78, 04, 22
- 3) 66, 42, 00, 95, 58
- 4) 66, 77, 00, 95, 31

**Correct Answer: 66, 42, 00, 95, 58**

**QID : 104 -**

From the given answer figures, select the one in which the question figure is hidden/embedded.

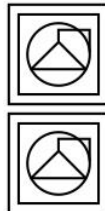
दी गई उत्तर आकृतियों में से उस उत्तर आकृति को चुनिए जिस में प्रश्न आकृति निहित है।



**Options:**

- 1)
- 2)
- 3)
- 4)

**Correct Answer:**



**QID : 105 -**

Which answer figure will complete the pattern in the question figure?

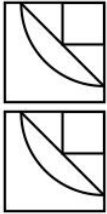
कौन सी उत्तर आकृति प्रश्न आकृति के प्रतिरूप को पूरा करेगी?



**Options:**

- 1)
- 2)
- 3)
- 4)

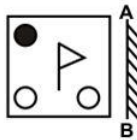
**Correct Answer:**



**QID : 106 -**

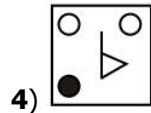
If a mirror is placed on the line AB, then which of the answer figures is the right image of the given figure?

यदि एक दर्पण को AB रेखा पर रखा जाए, तो दी गई उत्तर आकृतियों में से कौन सी आकृति प्रश्न आकृति की सही प्रतिबिम्ब होगी?

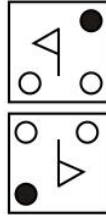


**Options:**

- 1)
- 2)
- 3)



**4) Correct Answer:**



**QID : 107 -**

A piece of paper is folded and punched as shown below in the question figures. From the given answer figures, indicate how it will appear when opened?

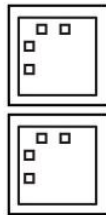
नीचे के प्रश्न आकृतियों में दिखाए अनुसार कागज को मोड़कर छेदने तथा खोलने के बाद वह किस उत्तर आकृति जैसा दिखाई देगा?



**Options:**

- 1)
- 2)
- 3)
- 4)

**Correct Answer:**



**QID : 108 -** If '+' means '÷', '÷' means '-', '-' means '×' and '×' means '+', then

$24 + 12 \div 6 - 4 = ?$

यदि '+' का अर्थ '÷', '÷' का अर्थ '-', '-' का अर्थ '×' तथा '×' का अर्थ '+' हो, तो

$24 + 12 \div 6 - 4 = ?$

**Options:**

- 1) - 22
- 2) 22
- 3) - 29
- 4) 32

**Correct Answer: - 22**

**QID : 109** - If  $3 + 6 + 1 = 163$  and  $5 + 4 + 9 = 945$ , then  $4 + 2 + 3 = ?$

यदि  $3 + 6 + 1 = 163$  तथा  $5 + 4 + 9 = 945$  हो, तो  $4 + 2 + 3 = ?$

**Options:**

- 1) 432
- 2) 243
- 3) 234
- 4) 324

**Correct Answer:** 324

**QID : 110** - Arrange the given words in the sequence in which they occur in the dictionary.

1. Crying
2. Crypt
3. Cooled
4. Cooking
5. Captain

निम्नलिखित शब्दों को शब्दकोश में आने वाले क्रम के अनुसार लिखें।

1. Crying
2. Crypt
3. Cooled
4. Cooking
5. Captain

**Options:**

- 1) 53421
- 2) 54312
- 3) 54132
- 4) 53412

**Correct Answer:** 54312

**QID : 111** - In the following question, select the missing number from the given alternatives.

**4, 8, 16, ?, 64, 128**

निम्नलिखित प्रश्न में दिए गए विकल्पों में से लुप्त अंक ज्ञात कीजिए।

**4, 8, 16, ?, 64, 128**

**Options:**

- 1) 30
- 2) 28
- 3) 24
- 4) 32

**Correct Answer:** 32

**QID : 112** - A series is given with one term missing. Select the correct alternative from the given ones that will complete the series.

**TVU, WYX, ZBA, ?**

एक अनुक्रम दिया गया है, जिसमें से एक पद लुप्त है। दिए गए विकल्पों में से वह सही विकल्प चुनिए, जो अनुक्रम को पूरा करे।

**TVU, WYX, ZBA, ?**

**Options:**

- 1) DEC
- 2) DCE
- 3) CED
- 4) CDE

**Correct Answer:** CED

**QID : 113** - In the following question, select the odd word pair from the given alternatives.

निम्नलिखित प्रश्न में दिए गए विकल्पों में से विषम शब्द युग्म को चुनिए।

**Options:**

- 1) Tall : Short  
लम्बा : छोटा
- 2) Above : Top  
ऊपर : चोटी
- 3) Laugh : Cry  
हँसना : रोना
- 4) Fat : Thin  
मोटा : पतला

**Correct Answer:** Above : Top

ऊपर : चोटी

ऊपर : चोटी

**QID : 114** - In the following question, select the odd number from the given alternatives.

निम्नलिखित प्रश्न में दिए गए विकल्पों में से विषम संख्या को चुनिए।

**Options:**

- 1) 26
- 2) 64
- 3) 36
- 4) 144

**Correct Answer:** 26

**QID : 115** - In the following question, select the odd letters from the given alternatives.

निम्नलिखित प्रश्न में दिए गए विकल्पों में से विषम अक्षरों को चुनिए।

**Options:**

- 1) AC
- 2) PR
- 3) TU
- 4) JL

**Correct Answer:** TU

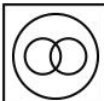
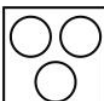

**QID : 116** - Identify the diagram that best represents the relationship among the given classes.

**Four wheelers, Jeep, Car**

वह आरेख चुनिए जो नीचे दिए गए वर्गों के बीच के संबंध का सही निरूपण करता है।

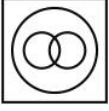
**चार पहियों वाला वाहन, जीप, कार**

**Options:**

- 1) 
- 2) 
- 3) 



4) **Correct Answer:**



**QID : 117** - In the following question, select the related word pair from the given alternatives.

**Bird : Fly :: Fish : ?**

निम्नलिखित प्रश्न में दिए गए विकल्पों में से संबंधित शब्द युग्म को चुनिए।

**पक्षी : उड़ना :: मछली : ?**

**Options:**

- 1) Swim  
तैरना
- 2) Crawl  
रेंगना
- 3) Running  
दौड़ना
- 4) Walking  
चलना

**Correct Answer:** Swim

तैरना

तैरना

**QID : 118** - In the following question, select the related number from the given alternatives.

**4 : 16 :: 9 : ?**

निम्नलिखित प्रश्न में दिए गए विकल्पों में से संबंधित संख्या को चुनिए।

**4 : 16 :: 9 : ?**

**Options:**

- 1) 64
- 2) 81
- 3) 72
- 4) 90

**Correct Answer:** 81

**QID : 119** - In the following question, select the related letters from the given alternatives.

**ACE : BEH :: BUS : ?**

निम्नलिखित प्रश्न में दिए गए विकल्पों में से संबंधित अक्षरों को चुनिए।

**ACE : BEH :: BUS : ?**

**Options:**

- 1) CWV
- 2) CWU
- 3) CXV
- 4) CWX

**Correct Answer:** CWV

**QID : 120** - In the following question, select the word which cannot be formed using the letters of the given word.

**HOWLINGS**

निम्नलिखित विकल्पों में से वह शब्द चुनिए जो दिए गए शब्द के अक्षरों का प्रयोग करके नहीं बनाया जा सकता।

**HOWLINGS**

**Options:**

- 1) WINS
- 2) HONS
- 3) SLIP
- 4) SING

**Correct Answer:** SLIP

**QID : 121** - A walks 5 km toward west. He turns right and walks 10 km. He again turns right and walks 15 km. how far (in km) is he from his starting point?

A पश्चिम की ओर 5 कि.मी. चलता है। वह दायीं ओर मुड़ता है तथा 10 कि.मी. चलता है। वह फिर दायीं ओर मुड़ता है तथा 15 कि.मी. चलता है। वह अपने आरंभिक बिंदु से कितनी दूर (कि.मी. में) है?

**Options:**

- 1)  $10\sqrt{2}$
- 2)  $10\sqrt{3}$
- 3) 20
- 4) 10

**Correct Answer:**  $10\sqrt{2}$

**QID : 122** - A, B, C, D and E are standing in line facing north. C stands in the middle. B and E cannot stand with C. A is not standing to the right of C. Who is standing second from left end?

A, B, C, D तथा E एक पंक्ति में उत्तर की ओर मुख करके खड़े हैं। C, मध्य में खड़ा है। B तथा E, C के साथ नहीं खड़े हो सकते। A, C के दायीं ओर नहीं खड़ा है। बायीं छोर से दूसरा कौन खड़ा है?

**Options:**

- 1) D
- 2) A
- 3) B
- 4) Cannot be determined  
ज्ञात नहीं किया जा सकता।

**Correct Answer:** A

**QID : 123** - In the following question below are given some statements followed by some conclusions. Taking the given statements to be true even if they seem to be at variance from commonly known facts, read all the conclusions and then decide which of the given conclusion logically follows the given statements.

**Statements:**

- I. All chairs are cups.
- II. Some chairs are tables.

**Conclusions:**

- I. Some tables are chairs.
- II. Some tables are cups.

नीचे दिए गए प्रश्न में कुछ कथन और उनके बाद उन कथनों पर आधारित कुछ निष्कर्ष दिए गए हैं, हालांकि उनमें सामान्य

जात तथ्यों से भिन्नता हो सकती है। सभी निष्कर्ष पढ़ें और फिर निर्धारित करें कि दिए गए कौन से निष्कर्ष, दिए गए कथनों के आधार पर युक्तिसंगत हैं।

**कथन:**

- I. सभी कुर्सियाँ कप हैं।
- II. कुछ कुर्सियाँ मेज़ हैं।

**निष्कर्ष:**

- I. कुछ मेज़ कुर्सियाँ हैं।
- II. कुछ मेज़ कप हैं।

**Options:**

- 1) Only conclusion (I) follows.  
केवल निष्कर्ष (I) सही है।
- 2) Only conclusion (II) follows.  
केवल निष्कर्ष (II) सही है।
- 3) Both conclusion follow.  
दोनों ही निष्कर्ष सही हैं।
- 4) Neither conclusion (I) nor conclusion (II) follows.  
न तो निष्कर्ष (I) न ही निष्कर्ष (II) सही है।

**Correct Answer:** Both conclusion follow.

दोनों ही निष्कर्ष सही हैं।

दोनों ही निष्कर्ष सही हैं।

**QID : 124** - In a certain code language, "STAMP" is written as "UVCOR". How is "PAPER" written in that code language?

एक विशिष्ट कोड भाषा में, "STAMP" को "UVCOR" लिखा जाता है। इस कोड भाषा में "PAPER" को किस प्रकार लिखा जाएगा?

**Options:**

- 1) RCRGT
- 2) RCRGU
- 3) RDRGT
- 4) RBRGT

**Correct Answer:** RCRGT

**QID : 125** - In a certain code language, "PIN" is written as "78" and "SIN" is written as "84". How is "BIN" written in that code language?

एक विशिष्ट कोड भाषा में, "PIN"

को "78" तथा "SIN" को "84" लिखा जाता है। इस कोड भाषा में "BIN" को किस प्रकार लिखा जाएगा?

**Options:**

- 1) 25
- 2) 50
- 3) 75
- 4) 30

**Correct Answer:** 50

**QID : 126** - What is the value of  $1^2 - 2^2 + 3^2 - 4^2 + 6^2 - 5^2 + 8^2 - 7^2$ ?

$1^2 - 2^2 + 3^2 - 4^2 + 6^2 - 5^2 + 8^2 - 7^2$  का मान क्या है?

**Options:**

- 1) - 25
- 2) - 4
- 3) 4

4) - 16

**Correct Answer:** - 16

**QID : 127** - If  $A = 2^3 \times 5^4$  and  $B = 2^2 \times 5^2$  then what is the value of  $A \times B$ ?

यदि  $A = 2^3 \times 5^4$  and  $B = 2^2 \times 5^2$  है, तो  $A \times B$  का मान क्या है?

**Options:**

- 1) 200000
- 2) 500000
- 3) 40000
- 4) 800000

**Correct Answer:** 500000

**QID : 128** - What is the smallest three digit perfect square?

तीन अंकों का सबसे छोटा पूर्ण वर्ग क्या है?

**Options:**

- 1) 121
- 2) 100
- 3) 144
- 4) 128

**Correct Answer:** 100

**QID : 129** -

What is the value of  $\sqrt{0.0016} + \sqrt{0.16} + \sqrt{16}$ ?

$\sqrt{0.0016} + \sqrt{0.16} + \sqrt{16}$  का मान क्या है?

**Options:**

- 1) 4.44
- 2) 4.06
- 3) 4.04
- 4) 4.16

**Correct Answer:** 4.44

**QID : 130** - What is the Least Common Multiple of 24, 60 and 48?

24, 60 तथा 48 का लघुत्तम समापवर्त्य क्या है?

**Options:**

- 1) 120
- 2) 240
- 3) 180
- 4) 480

**Correct Answer:** 240

**QID : 131** - What is the value of  $[(0.7)^3 + (0.3)^3] \div [(0.7)^2 - (0.7 \times 0.3) + (0.3)^2]$ ?

$[(0.7)^3 + (0.3)^3] \div [(0.7)^2 - (0.7 \times 0.3) + (0.3)^2]$  का मान क्या है?

**Options:**

- 1) 0.3
- 2) 0.7
- 3) 1
- 4) 0.4

**Correct Answer:** 1

**QID : 132** - P and Q together complete a work in 8 days. Q and R together complete a work in 16 days and R and P together complete the same work in 8 days. In

how many days P, Q and R together can complete the work?

P तथा Q मिलकर किसी कार्य को 8 दिनों में पूरा करते हैं। Q तथा R मिलकर 16 दिनों में कार्य पूरा करते हैं तथा R तथा P मिलकर उस कार्य को 8 दिनों में पूरा करते हैं। P, Q तथा R मिलकर कार्य को कितने दिनों में पूरा कर सकते हैं?

**Options:**

- 1) 6.4
- 2) 7.2
- 3) 5.8
- 4) 7.1

**Correct Answer:** 6.4

**QID : 133** - U and V can complete a piece of work in 6 and 48 days respectively. They contracted to complete the work for Rs 45,000. What will be the share (in Rs) of U?

U तथा V किसी कार्य को क्रमशः 6 तथा 48 दिनों में पूरा कर सकते हैं। उन्होंने 45,000 रु में कार्य पूरा करने का ठेका लिया। U का हिस्सा (रु में) कितना होगा?

**Options:**

- 1) 35000
- 2) 37000
- 3) 36000
- 4) 40000

**Correct Answer:** 40000

**QID : 134** - The height of two cylinders are equal and their radius are in the ratio of 1 : 3 respectively. What is the respective ratio of the volume of the two cylinders? दो बेलनों की ऊँचाई बराबर है तथा उनकी त्रिज्या क्रमशः 1 : 3 के अनुपात में हैं। दोनों बेलनों के आयतन का क्रमशः अनुपात क्या है?

**Options:**

- 1) 1 : 3
- 2) 1 : 9
- 3) 1 : 27
- 4) 1 :  $\sqrt{3}$

**Correct Answer:** 1 : 9

**QID : 135** - An article having marked price of Rs 4300 is sold at a discount of 17%. What is the selling price (in Rs) of the article?

एक 4300 रु अंकित मूल्य वाली वस्तु को 17% की छूट पर बेचा गया। वस्तु का विक्रय मूल्य (रु में) क्या है?

**Options:**

- 1) 3721
- 2) 3459
- 3) 3569
- 4) 3317

**Correct Answer:** 3569

**QID : 136** - An article has marked price of Rs 6800. If two successive discounts of 12% and 20% are given, then what will be the selling price (in Rs)?

एक वस्तु का अंकित मूल्य 6800 रु है। यदि 12% तथा 20% की दो क्रमिक छूट दी जाए, तो विक्रय मूल्य (रु में) क्या होगा?

**Options:**

- 1) 4787.2
- 2) 4624
- 3) 4460.8
- 4) 4524

**Correct Answer:** 4787.2

**QID : 137** - Shopkeeper sold big, medium and small sized chairs for Rs 650, Rs 500 and Rs 400 respectively. The total number of chairs sold were in the ratio 8 : 13 : 4. What is the average cost (in Rs) of a chair?

एक दुकानदार बड़े, मध्य तथा छोटे साइज की कुर्सियाँ क्रमशः 650 रु, 500 रु तथा 400 रु में बेचता है। कुल बेची गई कुर्सियों का अनुपात 8 : 13 : 4 है। एक कुर्सी की औसत मूल्य (रु में) क्या है?

**Options:**

- 1) 506
- 2) 546
- 3) 478
- 4) 532

**Correct Answer:** 532

**QID : 138** - If  $u : v : w = 1 : 5 : 13$ , then what will be the value of  $(3u + 2v + 4w) / (2w - u - 4v)$ ?

यदि  $u : v : w = 1 : 5 : 13$  है, तो  $(3u + 2v + 4w) / (2w - u - 4v)$  का मान क्या होगा।

**Options:**

- 1) 25
- 2) 13
- 3) 12
- 4) 17

**Correct Answer:** 13

**QID : 139** - What is the average of first 9 even numbers?

पहली 9 सम संख्याओं का औसत क्या है?

**Options:**

- 1) 9
- 2) 12
- 3) 11
- 4) 10

**Correct Answer:** 10

**QID : 140** - There would be 20% loss if a toy is sold for Rs 11.20. At what price (in Rs) the toy should be sold to earn a profit of 10%?

एक खिलौने को 11.20 रु में बेचने पर 20% की हानि होती है। 10% लाभ प्राप्त करने के लिए खिलौने को कितने मूल्य (रु में) में बेचना चाहिए?

**Options:**

- 1) 15.2
- 2) 14.8
- 3) 14.4
- 4) 15.4

**Correct Answer:** 15.4

**QID : 141** - If the cost price of an article is 80% of the selling price, then what is the profit percent?

यदि एक वस्तु का क्रय मूल्य विक्रय मूल्य का 80% है, तो लाभ प्रतिशत क्या है?

**Options:**

- 1) 20
- 2) 25
- 3) 30
- 4) 28

**Correct Answer:** 25

**QID : 142** - What is the value of (42% of 7200) – (12% of 4800)?

(7200 के 42%) – (4800 के 12%) का मान क्या है?

**Options:**

- 1) 2138
- 2) 2448
- 3) 3348
- 4) 2918

**Correct Answer:** 2448

**QID : 143** - What is the value of 40% of  $\frac{3}{4}$  of 1200?

1200 के  $\frac{3}{4}$  का 40% का मान क्या है?

**Options:**

- 1) 360
- 2) 480
- 3) 120
- 4) 240

**Correct Answer:** 360

**QID : 144** - A train crosses a platform in 50 seconds travelling with a speed of 72 km/hr. If the length of the train be 250 metres, then what will be the length (in metres) of the platform?

एक रेलगाड़ी 72 कि.मी./घंटा की गति से चलते हुए एक प्लेटफॉर्म को 50 सेकण्ड में पार कर लेती है। यदि रेलगाड़ी की लम्बाई 250 मीटर लम्बी है, तो प्लेटफॉर्म की लम्बाई (मीटर में) क्या होगी?

**Options:**

- 1) 600
- 2) 480
- 3) 750
- 4) 950

**Correct Answer:** 750

**QID : 145** - Speed of a boat is 8 km/hr in still water and the speed of the stream is 2 km/hr. If the boat takes 8 hours to go to a place and come back, then what is the distance (in km) of the place?

शांत जल में नाव की गति 8 कि.मी./घंटा है तथा धारा की गति 2 कि.मी./घंटा है। यदि नाव 8 घंटे में किसी दूरी तक जाकर वापस आ जाती है, तो दूरी (कि.मी. में) कितनी है?

**Options:**

- 1) 24
- 2) 30
- 3) 45
- 4) 42

**Correct Answer:** 30

**QID : 146** - Rs 5000 are invested in a scheme of compound interest. If the rate of interest is 12% per annum, then what is the interest earned (in Rs) in 2 years?

5000 रु को चक्रवृद्धि ब्याज वाली एक योजना में निवेश किया गया। यदि ब्याज की दर 12% प्रतिवर्ष है, तो 2 वर्ष में कितना ब्याज (रु में) कमाया गया है?

**Options:**

- 1) 1450
- 2) 1272
- 3) 1520
- 4) 3450

**Correct Answer:** 1272

**QID : 147** -

The table given below shows number of students from stream A and B for a college in the years 2011 to 2015.

नीचे दी गई तालिका में एक विश्वविद्यालय में वर्ष 2011 से वर्ष 2015 तक वर्ग A तथा B में विद्यार्थियों की संख्या को दर्शाया गया है।

Year / वर्ष	A	B
2011	520	740
2012	610	790
2013	490	670
2014	540	720
2015	900	990

In the year 2014, the number of students of stream A is what percent of the number of students in stream B? वर्ष 2014 में, वर्ग A में छात्रों की संख्या वर्ग B में छात्रों की संख्या का कितना प्रतिशत है?

**Options:**

- 1) 75
- 2) 65
- 3) 62
- 4) 56

**Correct Answer:** 75

**QID : 148** -

The table given below shows number of students from stream A and B for a college in the years 2011 to 2015.

नीचे दी गई तालिका में एक विश्वविद्यालय में वर्ष 2011 से वर्ष 2015 तक वर्ग A तथा B में विद्यार्थियों की संख्या को दर्शाया गया है।

Year / वर्ष	A	B
2011	520	740
2012	610	790
2013	490	670
2014	540	720
2015	900	990

In the year 2015, the number of students in stream B is how much percent more than the number of students in stream A?

वर्ष 2015 में, वर्ग B में छात्रों की संख्या वर्ग A में छात्रों की संख्या से कितने प्रतिशत अधिक है?

**Options:**

- 1) 9
- 2) 10
- 3) 12
- 4) 18

**Correct Answer:** 10

**QID : 149 -**

The table given below shows number of students from stream A and B for a college in the years 2011 to 2015.

नीचे दी गई तालिका में एक विश्वविद्यालय में वर्ष 2011 से वर्ष 2015 तक वर्ग A तथा B में विद्यार्थियों की संख्या को दर्शाया गया है।

Year / वर्ष	A	B
2011	520	740
2012	610	790
2013	490	670
2014	540	720
2015	900	990

What is the average number of students in stream A from 2011 to 2015?

वर्ष 2011 से 2015 तक, वर्ग A में छात्रों की औसत संख्या क्या है?

**Options:**

- 1) 612
- 2) 670
- 3) 586
- 4) 630

**Correct Answer:** 612

**QID : 150 -**

The table given below shows number of students from stream A and B for a college in the years 2011 to 2015.

नीचे दी गई तालिका में एक विश्वविद्यालय में वर्ष 2011 से वर्ष 2015 तक वर्ग A तथा B में विद्यार्थियों की संख्या को दर्शाया गया है।

Year / वर्ष	A	B
2011	520	740
2012	610	790
2013	490	670
2014	540	720
2015	900	990

In how many years, the number of students in stream B is more than the number of students in stream A?

कितने वर्षों में, वर्ग B में छात्रों की संख्या वर्ग A में छात्रों की संख्या से अधिक है?

**Options:**

- 1) 5
- 2) 3
- 3) 2
- 4) 1

**Correct Answer:** 5

**QID : 151 -** In the following question, some part of the sentence may have errors. Find out which part of the sentence has an error and select the appropriate option. If a sentence is free from error, select 'No Error'.

Just before (1)/ the sun rises, (2)/ you will see the dawn. (3)/ No Error (4)/

**Options:**

- 1) 1
- 2) 2
- 3) 3
- 4) 4

**Correct Answer:** 2

**QID : 152 -** In the following question, some part of the sentence may have errors. Find out which part of the sentence has an error and select the appropriate option. If a sentence is free from error, select 'No Error'.

Our recommendations are (1)/ based on solid research (2)/ and exacted analysis. (3)/ No Error (4)/

**Options:**

- 1) 1
- 2) 2
- 3) 3
- 4) 4

**Correct Answer:** 3

**QID : 153 -** In the following question, the sentence given with blank to be filled in with an appropriate word. Select the correct alternative out of the four and indicate it by selecting the appropriate option.

**Suraj is negligent \_\_\_\_\_ attending his classes.**

**Options:**

- 1) to
- 2) towards
- 3) in
- 4) about

**Correct Answer:** in

**QID : 154 -** In the following question, the sentence given with blank to be filled in with an appropriate word. Select the correct alternative out of the four and indicate it by selecting the appropriate option.

**Shweta is \_\_\_\_\_ mother of two daughters.**

**Options:**

- 1) the
- 2) a
- 3) an
- 4) to

**Correct Answer:** a

**QID : 155 -** In the following question, out of the given four alternatives, select the one which best expresses the meaning of the given word.

**Shrink**

**Options:**

- 1) Develop
- 2) Diminish



- 3) Expand
- 4) Stretch

**Correct Answer:** Diminish

**QID : 156** - In the following question, out of the given four alternatives, select the one which best expresses the meaning of the given word.

**Versatile**

**Options:**

- 1) Limited
- 2) Inflexible
- 3) Unadjustable
- 4) Flexible

**Correct Answer:** Flexible

**QID : 157** - In the following question, out of the given four alternatives, select the one which best expresses the meaning of the given word.

**Unruly**

**Options:**

- 1) Lawless
- 2) Compliant
- 3) Obedient
- 4) Cooperative

**Correct Answer:** Lawless

**QID : 158** - In the following question, out of the given four alternatives, select the one which is opposite in meaning of the given word.

**Assemble**

**Options:**

- 1) Collect
- 2) Scatter
- 3) Group
- 4) Reunite

**Correct Answer:** Scatter

**QID : 159** - In the following question, out of the given four alternatives, select the one which is opposite in meaning of the given word.

**Flimsy**

**Options:**

- 1) Fragile
- 2) Sturdy
- 3) Inadequate
- 4) Shallow

**Correct Answer:** Sturdy

**QID : 160** - In the following question, out of the given four alternatives, select the one which is opposite in meaning of the given word.

**Tactful**

**Options:**

- 1) Delicate
- 2) Careless
- 3) Cautious
- 4) gentle

**Correct Answer:** Careless

**QID : 161** - In the following question, out of the four given alternatives, select the alternative which best expresses the meaning of the Idiom/Phrase.

**At a stone's throw**

**Options:**

- 1) Very near
- 2) Cause of quarrel
- 3) Increase anger
- 4) Easy task

**Correct Answer:** Very near

**QID : 162** - In the following question, out of the four given alternatives, select the alternative which best expresses the meaning of the Idiom/Phrase.

**An uphill task**

**Options:**

- 1) Unfair blow
- 2) Close fight
- 3) Task of no use
- 4) Difficult task

**Correct Answer:** Difficult task

**QID : 163** - Improve the bracketed part of the sentence.

He (**have ignored**) my mail.

**Options:**

- 1) has ignored
- 2) ignore
- 3) have been
- 4) No improvement

**Correct Answer:** has ignored

**QID : 164** - Improve the bracketed part of the sentence.

When the wind blows, the cradle (**was rock**).

**Options:**

- 1) was rocked
- 2) will rack
- 3) will rock
- 4) No improvement

**Correct Answer:** will rock

**QID : 165** - In the following question, out of the four given alternatives, select the alternative which is the best substitute of the phrase.

**One who can neither read nor write.**

**Options:**

- 1) Illegible
- 2) Inexcusable
- 3) Illiterate
- 4) Illegitimate

**Correct Answer:** Illiterate

**QID : 166** - In the following question, out of the four given alternatives, select the alternative which is the best substitute of the phrase.

**Warning of an impending danger**

**Options:**

- 1) Prediction
- 2) Superstition
- 3) Revelation
- 4) Premonition

**Correct Answer:** Premonition

**QID : 167** - In the following question, a word has been written in four different ways out of which only one is correctly spelt. Select the correctly spelt word.

**Options:**

- 1) Narrater
- 2) Narratur
- 3) Narrator
- 4) Nurrator

**Correct Answer:** Narrator

**QID : 168** - In the following question, a word has been written in four different ways out of which only one is correctly spelt. Select the correctly spelt word.

**Options:**

- 1) Leciense
- 2) License
- 3) Licinse
- 4) Licenca

**Correct Answer:** License

**QID : 169** - Rearrange the parts of the sentence in correct order.

I was

**P:** night by a

**Q:** awakened in the

**R:** noise in the house

**Options:**

- 1) QPR
- 2) PRQ
- 3) QRP
- 4) RQP

**Correct Answer:** QPR

**QID : 170** - Rearrange the parts of the sentence in correct order.

Science means

**P:** how things

**Q:** finding out

**R:** actually happen

**Options:**

- 1) QPR
- 2) PRQ
- 3) PQR
- 4) RQP

**Correct Answer:** QPR

**QID : 171** - In the following passage some of the words have been left out. Read the passage carefully and select the correct answer for the given blank out of the four alternatives.

Summer vacation is the \_\_\_\_\_ period during the summer season. All the schools and \_\_\_\_\_ become closed during this \_\_\_\_\_ because of the high environmental temperature in summer months (especially half May and full June). It becomes the \_\_\_\_\_ period of the year during summer vacation. Most of the students generally go to their native village, hill stations, or other cool places to enjoy with cousins, family \_\_\_\_\_ or village friends.

**Summer vacation is the \_\_\_\_\_**

**Options:**

- 1) busy day
- 2) holiday
- 3) boring
- 4) idle

**Correct Answer:** holiday

**QID : 172** - In the following passage some of the words have been left out. Read the passage carefully and select the correct answer for the given blank out of the four alternatives.

Summer vacation is the \_\_\_\_\_ period during the summer season. All the schools and \_\_\_\_\_ become closed during this \_\_\_\_\_ because of the high environmental temperature in summer months (especially half May and full June). It becomes the \_\_\_\_\_ period of the year during summer vacation. Most of the students generally go to their native village, hill stations, or other cool places to enjoy with cousins, family \_\_\_\_\_ or village friends.

**All the schools and \_\_\_\_\_ become**

**Options:**

- 1) colleges
- 2) offices
- 3) complexes
- 4) shops

**Correct Answer:** colleges

**QID : 173** - In the following passage some of the words have been left out. Read the passage carefully and select the correct answer for the given blank out of the four alternatives.

Summer vacation is the \_\_\_\_\_ period during the summer season. All the schools and \_\_\_\_\_ become closed during this \_\_\_\_\_ because of the high environmental temperature in summer months (especially half May and full June). It becomes the \_\_\_\_\_ period of the year during summer vacation. Most of the students generally go to their native village, hill stations, or other cool places to enjoy with cousins, family \_\_\_\_\_ or village friends.

**\_\_\_\_\_ because of the high**

**Options:**

- 1) day
- 2) moment
- 3) period
- 4) timings

**Correct Answer:** period

**QID : 174** - In the following passage some of the words have been left out. Read the passage carefully and select the correct answer for the given blank out of the four alternatives.

Summer vacation is the \_\_\_\_\_ period during the summer season. All the schools and \_\_\_\_\_ become closed during this \_\_\_\_\_ because of the high environmental temperature in summer months (especially half May and full June). It becomes the \_\_\_\_\_ period of the year during summer vacation. Most of the students generally go to their native village, hill stations, or other cool places to enjoy with cousins, family \_\_\_\_\_ or village friends.

**It becomes the \_\_\_\_\_ period of the year during**

**Options:**

- 1) hottest
- 2) horrible
- 3) pleasant
- 4) breezy

**Correct Answer:** hottest

**QID : 175** - In the following passage some of the words have been left out. Read the passage carefully and select the correct answer for the given blank out of the four alternatives.

Summer vacation is the \_\_\_\_\_ period during the summer season. All the schools and \_\_\_\_\_ become closed during this \_\_\_\_\_ because of the high environmental temperature in summer months (especially half May and full June). It becomes the \_\_\_\_\_ period of the year during summer vacation. Most of the students generally go to their native village, hill stations, or other cool places to enjoy with cousins, family \_\_\_\_\_ or village friends.

**cousins, family \_\_\_\_\_ or village friends.**

**Options:**

- 1) people
- 2) women
- 3) men
- 4) members

**Correct Answer:** members

**QID : 176** - \_\_\_\_\_ unemployment happens when people are not able to find jobs during some months of the year. \_\_\_\_\_ बेरोज़गारी तब होती है, जब लोग वर्ष के कुछ महीनों में रोज़गार प्राप्त नहीं कर पाते हैं।

**Options:**

- 1) Seasonal  
मौसमी
- 2) Disguised  
प्रच्छन्न
- 3) Educated  
शिक्षित
- 4) Uneducated  
अशिक्षित

**Correct Answer:** Seasonal

मौसमी

शिक्षित

**QID : 177** - Fishing comes under which sector of economic activity?

मत्स्यन किस आर्थिक गतिविधि के क्षेत्रक के अंतर्गत आती है?

**Options:**

- 1) Quaternary sector  
चतुर्मागात्मक क्षेत्रक
- 2) Secondary sector  
द्वितीयक क्षेत्रक
- 3) Tertiary sector  
तृतीयक क्षेत्रक
- 4) Primary sector  
प्राथमिक क्षेत्रक

**Correct Answer:** Primary sector

प्राथमिक क्षेत्रक

**QID : 178** - The Indian constitution recognizes every person as \_\_\_\_\_.

भारतीय संविधान सब व्यक्तियों को \_\_\_\_\_ मानता है।

**Options:**

- 1) poor  
गरीब
- 2) rich  
अमीर
- 3) unequal  
असमानता
- 4) equal  
समान

**Correct Answer:** equal

समान

समान

**QID : 179** - In which year Civil Rights movement began?

नागरिक अधिकार आंदोलन किस वर्ष में शुरू हुआ था?

**Options:**

- 1) 1950
- 2) 1945
- 3) 1955
- 4) 1960

**Correct Answer:** 1955

**QID : 180** - The city of Lothal stood beside a tributary of which river?

लोथल नगर किस नदी के उपनदी के किनारे पर बसा था?

**Options:**

- 1) Narmada  
नर्मदा
  - 2) Ganga  
गंगा
  - 3) Yamuna  
यमुना
  - 4) Sabarmati  
साबरमती
- Correct Answer:** Sabarmati
- साबरमती
- यमुना

**QID : 181** - Which viceroy partitioned Bengal?

किस वायसराय ने बंगाल का विभाजन किया था?

**Options:**

- 1) Lord Warren Hasting  
लार्ड वारन हेस्टिंग
- 2) Lord Mountbatten  
लार्ड माउन्टबेटन
- 3) Lord Curzon  
लार्ड कर्ज़न
- 4) Lord Bentick  
लार्ड बेन्टिक

**Correct Answer:** Lord Curzon

लार्ड कर्ज़न

लार्ड कर्ज़न

**QID : 182** - Which constellation is called Saptarishi?

किस नक्षत्रमंडल को सप्तऋषि कहा जाता है?

**Options:**

- 1) Ursa major  
अर्सा मेजर
- 2) Big bear  
बिग बीयर
- 3) Small bear  
स्मॉल बीयर
- 4) Orion  
ऑराइअन

**Correct Answer:** Ursa major  
अर्सा मेजर

**QID : 183** - What causes change in the seasons on earth?

पृथ्वी पर ऋतुओं का परिवर्तन किस कारण होता है?

**Options:**

- 1) Rotation  
घूर्णन
- 2) Revolution  
परिक्रमण
- 3) Rotation and Revolution both  
घूर्णन तथा परिक्रमण दोनों
- 4) None of these  
उपरोक्त में से कोई नहीं

**Correct Answer:** Revolution  
परिक्रमण

**QID : 184** - Plants with weak stems that cannot stand upright and spread on the ground are called as \_\_\_\_\_.  
कमजोर तने वाले पौधे जो सीधे खड़े नहीं हो सकते तथा ये भूमि पर फैल जाते हैं, \_\_\_\_\_ कहलाते हैं।

**Options:**

- 1) Creepers  
विसर्पी लता
- 2) Trees  
वृक्ष
- 3) Shrubs  
झाड़ी
- 4) Herbs  
शाक

**Correct Answer:** Creepers  
विसर्पी लता

**QID : 185** - Part of a leaf by which it is attached to the stem is called as \_\_\_\_\_.

पत्ती का वह भाग जिसके द्वारा वह तने से जुड़ी होती है, \_\_\_\_\_ कहलाता है।

**Options:**

- 1) Joint  
जोड़
- 2) Point

बिन्दु

- 3) Petiole  
पर्णवृत्त
- 4) Lamina  
फलक

**Correct Answer:** Petiole  
पर्णवृत्त  
फलक

**QID : 186** - If the CO<sub>2</sub> concentration in the blood increases, the breathing shall \_\_\_\_\_.

अगर रक्त बढ़ने में CO<sub>2</sub> की एकाग्रता बढ़ जाती है, तो श्वास \_\_\_\_\_।

**Options:**

- 1) Increase  
बढ़ना
- 2) Decrease  
घटना
- 3) Affected  
प्रभावित
- 4) Stop  
रुके

**Correct Answer:** Increase  
बढ़ना  
बढ़ना

**QID : 187** - It is difficult to walk on ice because of \_\_\_\_\_.

बर्फ पर चलना कठिन होता है क्योंकि \_\_\_\_\_।

**Options:**

- 1) absence of friction  
घर्षण का अभाव होता है
- 2) less inertia  
जड़त्व कम होता है
- 3) more inertia  
जड़त्व अधिक होता है
- 4) more mass  
द्रव्यमान अधिक होता है

**Correct Answer:** absence of friction  
घर्षण का अभाव होता है

**QID : 188** - Work done upon a body \_\_\_\_\_.  
एक पिण्ड पर किया गया कार्य \_\_\_\_\_ होता है।

**Options:**

- 1) only a vector quantity  
केवल एक सदिश राशि
- 2) only a scalar quantity  
केवल एक मापक राशि
- 3) both vector and scalar  
मापक तथा सदिश दोनों
- 4) neither vector nor scalar  
न तो मापक और न ही सदिश

**Correct Answer:** only a scalar quantity

केवल एक मापक राशि

केवल एक सदिश राशि

**QID : 189** - Which was the first web browser?

सबसे पहला वेब ब्राउज़र कौन सा था?

**Options:**

1) Safari

सफारी

2) Netscape Navigator

नेटस्केप नेविगेटर

3) Internet Explorer

इंटरनेट एक्सप्लोरर

4) Chrome

क्रोम

**Correct Answer:** Netscape Navigator

नेटस्केप नेविगेटर

नेटस्केप नेविगेटर

**QID : 190** - Which of the following acids is present in sour milk?

निम्नलिखित में से कौन सा अम्ल खट्टे दूध या मट्ठा में पाया जाता है?

**Options:**

1) Formic acid

फॉर्मिक अम्ल

2) Lactic acid

लैक्टिक अम्ल

3) Citric acid

सिट्रिक अम्ल

4) Tartaric acid

टार्टरिक अम्ल

**Correct Answer:** Lactic acid

लैक्टिक अम्ल

लैक्टिक अम्ल

**QID : 191** - Acids turn blue litmus into which colour?

अम्ल नीले लिटमस को किस रंग में बदल देते हैं?

**Options:**

1) Green

हरा

2) Red

लाल

3) Pink

गुलाबी

4) Colourless

बेरंग

**Correct Answer:** Red

लाल

हरा

**QID : 192** - Which of the following represents correct food chain?

निम्नलिखित में से कौन सा एक सही खाद्य श्रृंखला को दर्शाता है?

**Options:**

1) Grass → Frog → Insect → Eagle → Snake

घास → मेंढक → कीट → गरुड़ → सर्प

2) Grass → Insects → Frog → Snake → Eagle

घास → कीट → मेंढक → सर्प → गरुड़

3) Grass → Snake → Eagle → Insects → Frog

घास → सर्प → गरुड़ → कीट → मेंढक

4) Grass → Eagle → Snake → Insects → Frog

घास → गरुड़ → सर्प → कीट → मेंढक

**Correct Answer:** Grass → Insects → Frog → Snake → Eagle

घास → कीट → मेंढक → सर्प → गरुड़

घास → कीट → मेंढक → सर्प → गरुड़

**QID : 193** - Which among the following is not an aim of 'Make in India' campaign?

निम्नलिखित में से कौन एक 'मेक-इन-इंडिया' अभियान का लक्ष्य नहीं है?

**Options:**

1) Facilitate investment

निवेश के सुविधा

2) Enhance skill development

कौशल विकास में वृद्धि

3) Foster innovation

नवीनीकरण को प्रोत्साहन

4) Financial inclusion

वित्तीय समावेश

**Correct Answer:** Financial inclusion

वित्तीय समावेश

वित्तीय समावेश

**QID : 194** - Who among the following invented battery?

निम्नलिखित में से किसने बैटरी का आविष्कार किया था?

**Options:**

1) Rudolf Diesel

रुडॉल्फ डीजल

2) Alfred Noble

अल्फ्रेड नोबेल

3) Alessandro Volta

ऐलेस्सैन्द्रो वोल्टा

4) John Napier

जॉन नेपियर

**Correct Answer:** Alessandro Volta

ऐलेस्सैन्द्रो वोल्टा

ऐलेस्सैन्द्रो वोल्टा

**QID : 195** - Which country won the 2016 Kabaddi World Cup?

किस देश ने 2016 कबड्डी विश्व कप जीता?

**Options:**

1) India

भारत

2) Iran

ईरान

3) South Korea

दक्षिण कोरिया

4) Bangladesh

बांग्लादेश

**Correct Answer:** India

भारत

भारत

**QID : 196** - Paintings of Ajanta depict stories of \_\_\_\_\_.

अजंता की चित्रकारियाँ \_\_\_\_\_ की कहानियों को दर्शाती हैं।

**Options:**

1) Jatakas

जातक

2) Tenali Rama

तेनाली रामा

3) Akbar Birble

अकबर बीरबल

4) Panchatantra

पंचतंत्र

**Correct Answer:** Jatakas

जातक

जातक

**QID : 197** - Who is the winner of Man Booker International Prize 2017?

2017 में बुकर अंतरराष्ट्रीय पुरस्कार के विजेता कौन हैं?

**Options:**

1) David Grossman

डेविड ग्रेसमैन

2) Arundhati Roy

अरुंधति रॉय

3) Steven Spielberg

स्टीवन स्पीलबर्ग

4) George Lucas

जॉर्ज लुकस

**Correct Answer:** David Grossman

डेविड ग्रेसमैन

**QID : 198** - Who is the author of the book named "The God of Small things"?

"दी गॉड ऑफ स्मॉल थिंग्स" नामक पुस्तक के लेखक कौन हैं?

**Options:**

1) Nasiruddin Shah

नसीरुद्दीन शाह

2) R.D. Pradhan

आर.डी. प्रधान

3) Vijay Darda

विजय दारदा

4) Arundhati Roy

अरुंधति रॉय

**Correct Answer:** Arundhati Roy

अरुंधति रॉय

नसीरुद्दीन शाह

**QID : 199** - Which country is India's first 2+2 dialogue partner among any country of world?

विश्व के किसी भी देशों में से भारत का पहला 2 + 2 संवाद

साझेदार कौन सा देश है?

**Options:**

1) Pakistan

पाकिस्तान

2) Sri-Lanka

श्रीलंका

3) Bangladesh

बांग्लादेश

4) Japan

जापान

**Correct Answer:** Japan

जापान

जापान

**QID : 200** - Indus water treaty 1960 is an agreement between India and \_\_\_\_\_.

सिंधु जल संधि 1960 भारत तथा \_\_\_\_\_ के मध्य एक

समझौता है।

**Options:**

1) Bangladesh

बांग्लादेश

2) Pakistan

पाकिस्तान

3) China

चीन

4) Nepal

नेपाल

**Correct Answer:** Pakistan

पाकिस्तान

चीन