



**Staff Selection Commission**  
(Government Of India)

**REGISTRATION NUMBER : 2002019663**

**CANDIDATES NAME: MOCKTIME.COM**

**EXAM NAME : SSC CHSL**

**EXAM DURATION : 01:00 Hrs**

**TOTAL MARKS : 200**

**TOTAL NO OF QUESTIONS : 100**

**QID : 1 -**

In the following question, select the number which can be placed at the sign of question mark (?) from the given alternatives.

निम्नलिखित प्रश्न में दिए गए विकल्पों में से प्रश्न चिह्न

(?) के स्थान पर आने वाली संख्या को चुनिए।

1	2	4
6	7	2
3	4	5
19	30	?

**Options:**

- 1) 12
- 2) 14
- 3) 16
- 4) 20

**Correct Answer: 14**

**QID : 2 -**

How many rectangles are there in the given figure?

दी गई आकृति में कितने आयत हैं?



**Options:**

- 1) 5
- 2) 6
- 3) 7
- 4) 8

**Correct Answer: 6**

**QID : 3 -**

A word is represented by only one set of numbers as given in any one of the alternatives. The sets of numbers given in the alternatives are represented by two classes of alphabets as shown in the given two matrices. The columns and rows of **Matrix-I** are numbered from 0 to 4 and that of **Matrix-II** are numbered from 5 to 9. A letter from these matrices can be represented first by its row and next by its column, for example, 'Y' can be represented by 21, 87, etc., and 'L' can be represented by 32, 78, etc. Similarly, you have to identify the set for the word "TOWEL".

एक शब्द केवल एक संख्या-समूह द्वारा दर्शाया गया है, जैसा कि विकल्पों में से किसी एक में दिया गया है। विकल्पों में दिए गए संख्या-समूह अक्षरों के दो वर्गों द्वारा दर्शाए गए हैं, जैसा कि दिए गए दो आव्यूहों में है। आव्यूह-I के स्तम्भ और पंक्ति की संख्या 0 से 4 है और आव्यूह-II की 5 से 9। इन आव्यूहों से एक अक्षर को पहले उसकी पंक्ति और बाद में स्तम्भ संख्या द्वारा दर्शाया जा सकता है। उदाहरण के लिए 'Y' को 21, 87, आदि द्वारा दर्शाया जा सकता है तथा 'L' को 32, 78, आदि द्वारा दर्शाया जा सकता है। इसी तरह से आपको प्रश्न में दिए शब्द "TOWEL" के लिए समूह को पहचानना है।

Matrix-I आव्यूह-I					Matrix-II आव्यूह-II						
	0	1	2	3	4		5	6	7	8	9
0	C	E	G	I	K	5	K	M	F	H	Z
1	M	O	Q	S	U	6	I	B	O	J	K
2	W	Y	A	D	B	7	G	Q	A	L	V
3	H	J	L	N	P	8	E	H	Y	N	T
4	R	T	V	X	Z	9	C	U	W	P	R

**Options:**

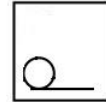
- 1) 41, 67, 20, 03, 78
- 2) 89, 67, 98, 01, 33
- 3) 89, 11, 20, 85, 32
- 4) 41, 11, 97, 03, 32

**Correct Answer: 89, 11, 20, 85, 32**

**QID : 4 -**

From the given answer figures, select the one in which the question figure is hidden/embedded.

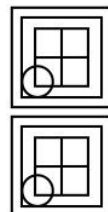
दी गई उत्तर आकृतियों में से उस उत्तर आकृति को चुनिए जिस में प्रश्न आकृति निहित है।



**Options:**

- 1)
- 2)
- 3)
- 4)

**Correct Answer:**



**QID : 5 -**

Which answer figure will complete the pattern in the question figure?

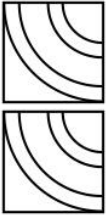
कौन सी उत्तर आकृति प्रश्न आकृति के प्रतिरूप को पूरा करेगी?



**Options:**

- 1)
- 2)
- 3)
- 4)

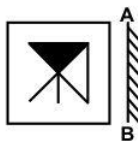
**Correct Answer:**



**QID : 6 -**

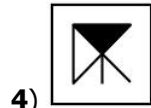
If a mirror is placed on the line AB, then which of the answer figures is the right image of the given figure?

यदि एक दर्पण को AB रेखा पर रखा जाए, तो दी गई उत्तर आकृतियों में से कौन सी आकृति प्रश्न आकृति की सही प्रतिबिम्ब होगी?

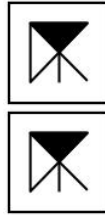


**Options:**

- 1)
- 2)
- 3)



**4) Correct Answer:**



**QID : 7 -**

A piece of paper is folded and punched as shown below in the question figures. From the given answer figures, indicate how it will appear when opened?

नीचे के प्रश्न आकृतियों में दिखाए अनुसार कागज को मोड़कर छेदने तथा खोलने के बाद वह किस उत्तर आकृति जैसा दिखाई देगा?



**Options:**

- 1)
- 2)
- 3)
- 4)

**Correct Answer:**



**QID : 8 -** If '-' means '+', '+' means '-', 'x' means '÷' and '÷' means 'x', then

**126 x 3 ÷ 10 - 6 = ?**

यदि '-' का अर्थ '+', '+' का अर्थ '-', 'x' का अर्थ '÷' तथा '÷' का अर्थ 'x' हो, तो

**126 x 3 ÷ 10 - 6 = ?**

**Options:**

- 1) 420
- 2) 356
- 3) 326
- 4) 426

**Correct Answer:** 426

**QID : 9** - If  $15 + 29 + 15 = 291515$  and  $16 + 28 + 31 = 281631$ , then  $19 + 35 + 9 = ?$

यदि  $15 + 29 + 15 = 291515$  तथा  $16 + 28 + 31 = 281631$  हो, तो  $19 + 35 + 9 = ?$

**Options:**

- 1) 35911
- 2) 35199
- 3) 35991
- 4) 31995

**Correct Answer:** 35199

**QID : 10** - Arrange the given words in the sequence in which they occur in the dictionary.

1. Wept
2. Wings
3. Winger
4. Waller
5. Wesley

निम्नलिखित शब्दों को शब्दकोश में आने वाले क्रम के अनुसार लिखें।

1. Wept
2. Wings
3. Winger
4. Waller
5. Wesley

**Options:**

- 1) 45123
- 2) 45231
- 3) 41532
- 4) 41523

**Correct Answer:** 41532

**QID : 11** - In the following question, select the missing number from the given alternatives.

**46, 56, ?, 79, 92, 106**

निम्नलिखित प्रश्न में दिए गए विकल्पों में से लुप्त अंक ज्ञात कीजिए।

**46, 56, ?, 79, 92, 106**

**Options:**

- 1) 68
- 2) 67
- 3) 69
- 4) 66

**Correct Answer:** 67

**QID : 12** - A series is given with one term missing. Select the correct alternative from the given ones that will complete the series.

**SAP, UCN, WEL, YGJ, ?**

एक अनुक्रम दिया गया है, जिसमें से एक पद लुप्त है। दिए गए विकल्पों में से वह सही विकल्प चुनिए, जो अनुक्रम को पूरा करे।

**SAP, UCN, WEL, YGJ, ?**

**Options:**

- 1) AIH
- 2) BJH
- 3) AJK
- 4) BIK

**Correct Answer:** AIH

**QID : 13** - In the following question, select the odd word from the given alternatives.

निम्नलिखित प्रश्न में दिए गए विकल्पों में से विषम शब्द को चुनिए।

**Options:**

- 1) Orange  
संतरा
- 2) Mango  
आम
- 3) Potato  
आलू
- 4) Grapes  
अंगूर

**Correct Answer:** Potato

आलू

आलू

**QID : 14** - In the following question, select the odd number pair from the given alternatives.

निम्नलिखित प्रश्न में दिए गए विकल्पों में से विषम संख्या युग्म को चुनिए।

**Options:**

- 1) 36 – 80
- 2) 12 – 30
- 3) 24 – 60
- 4) 28 – 70

**Correct Answer:** 36 – 80

**QID : 15** - In the following question, select the odd letter pair from the given alternatives.

निम्नलिखित प्रश्न में दिए गए विकल्पों में से विषम अक्षर युग्म को चुनिए।

**Options:**

- 1) LMNO – LMON
- 2) PQRS – QPSR
- 3) EFGH – FEHG
- 4) TUVW – UTWV

**Correct Answer:** LMNO – LMON

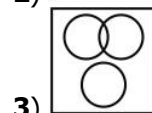
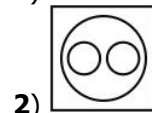
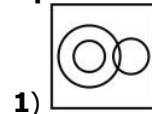
**QID : 16** - Identify the diagram that best represents the relationship among the given classes.


**Red, Car, Bike**

वह आरेख चुनिए जो नीचे दिए गए वर्गों के बीच के संबंध का सही निरूपण करता है।


**लाल, कार, बाईक**

**Options:**





4) **Correct Answer:**



**QID : 17** - In the following question, select the related word from the given alternatives.

**Pen : Write :: Knife : ?**

निम्नलिखित प्रश्न में दिए गए विकल्पों में से संबंधित शब्द को चुनिए।

**कलम : लिखना :: चाकू : ?**

**Options:**

1) Cut

काटना

2) Sword

तलवार

3) Sharp

धारदार

4) Fruit

फल

**Correct Answer:** Cut

काटना

काटना

**QID : 18** - In the following question, select the related number from the given alternatives.

**23 : 25 :: 36 : ?**

निम्नलिखित प्रश्न में दिए गए विकल्पों में से संबंधित संख्या को चुनिए।

**23 : 25 :: 36 : ?**

**Options:**

1) 49

2) 81

3) 64

4) 100

**Correct Answer:** 81

**QID : 19** - In the following question, select the related letters from the given alternatives.

**MAX : NYA :: BOT : ?**

निम्नलिखित प्रश्न में दिए गए विकल्पों में से संबंधित अक्षरों को चुनिए।

**MAX : NYA :: BOT : ?**

**Options:**

1) ANV

2) CMW

3) CNW

4) AMW

**Correct Answer:** CMW

**QID : 20** - In the following question, select the word which cannot be formed using the letters of the given word.

**DISAMBIGUATION**

निम्नलिखित विकल्पों में से वह शब्द चुनिए जो दिए गए शब्द के अक्षरों का प्रयोग करके नहीं बनाया जा सकता।

**DISAMBIGUATION**

**Options:**

1) RATION

2) BAIN

3) GAIN

4) SAND

**Correct Answer:** RATION

**QID : 21** - B and Q are brother. Q is son of L. L is brother of J. J is son of N. How is B related to N?

B तथा Q भाई है। Q, L का पुत्र है। L, J का भाई है। J, N का पुत्र है। B, N से किस प्रकार संबंधित है?

**Options:**

1) Son

पुत्र

2) Brother

भाई

3) Grandson

पौत्र

4) Father

पिता

**Correct Answer:** Grandson

पौत्र

पुत्र

**QID : 22** - There are 39 pens in a row. Red pen is 9th from left end and green pen is 21st from left end. How many pens are there between red and green pen?

एक पंक्ति में 39 कलम हैं। लाल कलम बायीं छोर से 9 वीं है तथा हरी कलम बायीं छोर से 21 वीं है। लाल तथा हरी कलम के मध्य कितनी कलमें हैं?

**Options:**

1) 11

2) 12

3) 10

4) 13

**Correct Answer:** 11

**QID : 23** - In the following question below are given some statements followed by some conclusions. Taking the given statements to be true even if they seem to be at variance from commonly known facts, read all the conclusions and then decide which of the given conclusion logically follows the given statements.

**Statements:**

I. All pen are chairs.

II. All chairs are tables.

**Conclusions:**

I. Some chairs are pen.

II. Some chairs are tables.

नीचे दिए गए प्रश्न में कुछ कथन और उनके बाद उन कथनों पर आधारित कुछ निष्कर्ष दिए गए हैं, हालांकि उनमें सामान्य ज्ञात तथ्यों से भिन्नता हो सकती है। सभी निष्कर्ष पढ़ें और फिर निर्धारित करें कि दिए गए कौन से निष्कर्ष, दिए गए कथनों के आधार पर युक्तिसंगत हैं।

**कथन:**

I. सभी कलम कुर्सियाँ हैं।

II. सभी कुर्सियाँ मेज़ हैं।

**निष्कर्ष:**

I. कुछ कुर्सियाँ कलम हैं।

II. कुछ कुर्सियाँ मेज़ हैं।

**Options:**

1) Only conclusion (I) follows.

केवल निष्कर्ष (I) सही है।

2) Only conclusion (II) follows.

केवल निष्कर्ष (II) सही है।

3) Both conclusion follow.

दोनों ही निष्कर्ष सही हैं।

4) Neither conclusion (I) nor conclusion (II) follows.

न तो निष्कर्ष (I) न ही निष्कर्ष (II) सही है।

**Correct Answer:** Both conclusion follow.

दोनों ही निष्कर्ष सही हैं।

केवल निष्कर्ष (I) सही है।

**QID : 24** - In a certain code language, "MULTI" is written as "NTKSH". How is "METER" written in that code language?

एक विशिष्ट कोड भाषा में, "MULTI" को "NTKSH" लिखा जाता है। इस कोड भाषा में "METER" को किस प्रकार लिखा जाएगा?

**Options:**

1) NDSQ

2) NDSR

3) NESEQ

4) NDSER

**Correct Answer:** NDSQ

**QID : 25** - In a certain code language, "BOOK" is written as "86" and "READ" is written as "56". How is "GOOD" written in that code language?

एक विशिष्ट कोड भाषा में, "BOOK" को "86" तथा "READ" को "56" लिखा जाता है। इस कोड भाषा में "GOOD" को किस प्रकार लिखा जाएगा?

**Options:**

1) 43

2) 82

3) 88

4) 68

**Correct Answer:** 82

**QID : 26** - What is the unit digit of  $178 \times 593 + 157$ ?  
 $178 \times 593 + 157$  का इकाई अंक क्या है?

**Options:**

1) 1

2) 2

3) 3

4) 7

**Correct Answer:** 1

**QID : 27** - What is the value of  $(3.7)^2 - (1.7)^2$ ?  
 $(3.7)^2 - (1.7)^2$  का मान क्या है?

**Options:**

1) 5.4

2) 10.8

3) 7.2

4) 9.6

**Correct Answer:** 10.8

**QID : 28** - What is the value of  $3^1 + 3^{-1} + 3^2 + 3^{-2}$ ?  
 $3^1 + 3^{-1} + 3^2 + 3^{-2}$  का मान क्या है?

**Options:**

1) 112/9

2) 16/3

3) 4/3

4) 109/9

**Correct Answer:** 112/9

**QID : 29** - A number when divided by 16 leaves remainder 8. What is the remainder when the same number is divided by 8?

एक संख्या को जब 16 से विभाजित किया जाता है, तो शेषफल 8 बचता है। जब उसी संख्या को 8 से विभाजित किया जाये, तो शेषफल क्या होगा?

**Options:**

1) 0

2) 2

3) 6

4) 4

**Correct Answer:** 0

**QID : 30** - Which of the given value is completely divisible by 12?

दिये गए मान में से कौन सा 12 से पूर्णतयः विभाजित है?

**Options:**

1) 3470

2) 7236

3) 1426

4) 2427

**Correct Answer:** 7236

**QID : 31** - Which of the following is not a perfect square?

निम्नलिखित में से कौन एक पूर्ण वर्ग नहीं है?

**Options:**

1) 1024

2) 1089

3) 676

4) 749

**Correct Answer:** 749

**QID : 32** - X, Y and Z can complete a work in 15, 45 and 90 days respectively. In how many days X, Y and Z together can complete the same work?

X, Y तथा Z किसी कार्य को क्रमशः 15, 45 तथा 90 दिन में पूरा कर सकते हैं। X, Y तथा Z मिलकर उस कार्य को कितने दिनों में पूरा कर सकते हैं?

**Options:**

- 1) 12
- 2) 11
- 3) 9
- 4) 10

**Correct Answer:** 10

**QID : 33** - U, V and W together can complete a work in 15 days. U alone can complete the work in 60 days. In how many days V and W together can complete the same work?

U, V तथा W मिलकर किसी कार्य को 15 दिनों में पूरा कर सकते हैं। U अकेला 60 दिनों में कार्य पूरा कर सकता है। V तथा W मिलकर उस कार्य को कितने दिनों में पूरा कर सकते हैं?

**Options:**

- 1) 10
- 2) 20
- 3) 14
- 4) 12

**Correct Answer:** 20

**QID : 34** - If the diagonal of a square is 10 cm, then what is the area (in  $\text{cm}^2$ ) of the square?

यदि एक वर्ग का विकर्ण 10 से.मी. है, तो वर्ग का क्षेत्रफल (से.मी.<sup>2</sup> में) क्या है?

**Options:**

- 1)  $50\sqrt{2}$
- 2) 50
- 3)  $25\sqrt{2}$
- 4) 25

**Correct Answer:** 50

**QID : 35** - Marked price of an article is 30% more than its cost price. If 30% discount is given, then what will be the loss percentage?

एक वस्तु का अंकित मूल्य उसके क्रय मूल्य से 30% ज्यादा है। यदि 30% की छूट दी जाती है, तो हानि प्रतिशत क्या होगा?

**Options:**

- 1) 0
- 2) 9
- 3) 6
- 4) 8

**Correct Answer:** 9

**QID : 36** - After giving a discount of 40% on an article, shopkeeper gains 25%. Marked price is how much percent more than the cost price?

एक वस्तु पर 40% की छूट देने के बाद भी, दुकानदार को 25% का लाभ होता है। अंकित मूल्य क्रय मूल्य से कितने प्रतिशत अधिक है?

**Options:**

- 1) 65

- 2) 87.5
- 3) 112.5
- 4) 108.33

**Correct Answer:** 108.33

**QID : 37** - 200 is divided into two parts in such a way that the sixth part of first and the half part of second are in the ratio 1 : 1 what will be the value of second part?

200 को दो भागों में इस प्रकार विभाजित किया गया है कि पहले का छठा हिस्सा तथा दूसरे का आधा हिस्सा 1 : 1 के अनुपात में है। दूसरे भाग का मान क्या होगा?

**Options:**

- 1) 150
- 2) 125
- 3) 75
- 4) 50

**Correct Answer:** 50

**QID : 38** - Two rice of prices 60 Rs/kg and 80 Rs/kg are mixed in the ratio of 3 : 2. What will be the price (in Rs/kg) of mixture?

60 रु/किग्रा तथा 80 रु/किग्रा कीमत वाले चावल को 3 : 2 के अनुपात में मिलाया जाता है। मिश्रण की कीमत (रु/किग्रा में) क्या होगी?

**Options:**

- 1) 68
- 2) 72
- 3) 65
- 4) 74

**Correct Answer:** 68

**QID : 39** - Average of 7 consecutive numbers is A. If 2 numbers which are before these 7 numbers are also taken, then what will be the new average?

7 क्रमागत संख्याओं का औसत A है। यदि 2 संख्याएँ जो इन 7 संख्याओं से पहले हैं भी ली जाए, तो नया औसत क्या होगा?

**Options:**

- 1) A - 1
- 2) A - 0.5
- 3) A + 1.5
- 4) A

**Correct Answer:** A - 1

**QID : 40** - An article is purchased for Rs 4200 and sold for Rs 4830. What is the profit percentage?

एक वस्तु को रु 4200 में खरीदा जाता है तथा रु 4830 में बेचा जाता है। लाभ प्रतिशत क्या है?

**Options:**

- 1) 12
- 2) 10
- 3) 15
- 4) 18

**Correct Answer:** 15

**QID : 41** - An article is sold for Rs 4800 at a loss of 20%. What is the cost price (in Rs) of the article?

एक वस्तु को 20% की हानि पर रु 4800 में बेचा जाता है। वस्तु का क्रय मूल्य (रु में) क्या है?

**Options:**

- 1) 5500
- 2) 6000
- 3) 7200
- 4) 5800

**Correct Answer:** 6000

**QID : 42** - What is the value of  $[(25\% \text{ of } 240) + (6\% \text{ of } 1200)] / (4\% \text{ of } 400)$ ?

$[(240 \text{ का } 25\%) + (1200 \text{ का } 6\%)] / (400 \text{ का } 4\%)$  का मान क्या है?

**Options:**

- 1) 6.25
- 2) 7.75
- 3) 8.25
- 4) 8.75

**Correct Answer:** 8.25

**QID : 43** - What is the value of  $[(11\% \text{ of } 1200) + (10\% \text{ of } 1400)] / (2\% \text{ of } 250)$ ?

$[(1200 \text{ का } 11\%) + (1400 \text{ का } 10\%)] / (250 \text{ का } 2\%)$  का मान क्या है?

**Options:**

- 1) 48.2
- 2) 54.4
- 3) 72.8
- 4) 38.4

**Correct Answer:** 54.4

**QID : 44** - A train is moving at a speed of 56 km/hr covers a certain distance in 8 hours. If the same distance is to be covered in 7 hours, then what will be the speed (in km/hr) of the train?

एक रेलगाड़ी 56 कि.मी./घंटा की गति से चलते हुए एक निश्चित दूरी को 8 घंटों में तय करती है। यदि वही दूरी 7 घंटों में तय करनी हो, तो रेलगाड़ी की गति (कि.मी./घंटा में) क्या होगी?

**Options:**

- 1) 64
- 2) 54
- 3) 48
- 4) 63

**Correct Answer:** 64

**QID : 45** - Speed of a boat is 6 km/hr in still water and the speed of the stream is 1 km/hr. If the boat takes 12 hours to go to a place and come back, then what is the distance (in km) of the place?

शांत जल में नाव की गति 6 कि.मी./घंटा है तथा धारा की गति 1 कि.मी./घंटा है। यदि नाव 12 घंटे में किसी दूरी तक जाकर वापस आ जाती है, तो दूरी (कि.मी. में) कितनी है?

**Options:**

- 1) 21
- 2) 28
- 3) 35
- 4) 70

**Correct Answer:** 35

**QID : 46** - Rs 3500 are invested for 3 years in a scheme of simple interest at a rate of 16% per annum. What will be the amount (in Rs) obtained after 3 years?

3500 रु को 3 वर्ष के लिए साधारण ब्याज वाली एक योजना में 16% प्रति वर्ष की ब्याज दर से निवेश किया गया है। 3 वर्ष बाद कितना मिश्रधन (रु में) प्राप्त होगा?

**Options:**

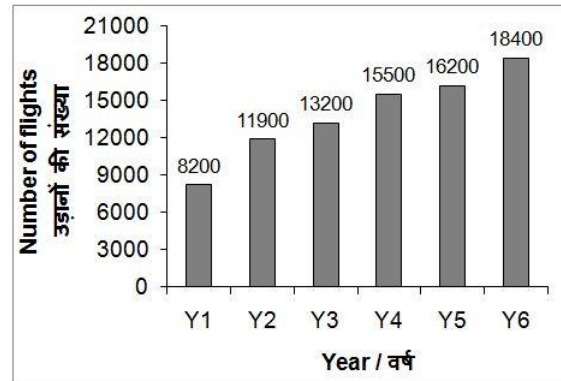
- 1) 5050
- 2) 7200
- 3) 5180
- 4) 4500

**Correct Answer:** 5180

**QID : 47** -

The bar chart given below shows the number of flights from by Air India in 6 consecutive years.

नीचे दिए गए दण्ड चित्र में 6 वर्ष के लिए एयर इंडिया द्वारा उड़ाई गई उड़ानों की संख्या को दर्शाया गया है।



What is average number of flights per year? प्रति वर्ष उड़ानों की औसत संख्या क्या है?

**Options:**

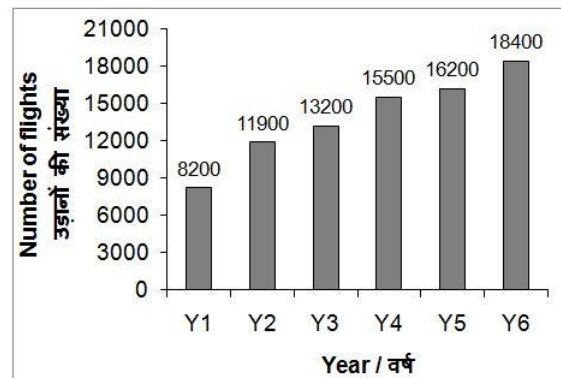
- 1) 14200
- 2) 13900
- 3) 13500
- 4) 14400

**Correct Answer:** 13900

**QID : 48** -

The bar chart given below shows the number of flights from by Air India in 6 consecutive years.

नीचे दिए गए दण्ड चित्र में 6 वर्ष के लिए एयर इंडिया द्वारा उड़ाई गई उड़ानों की संख्या को दर्शाया गया है।



As compared to previous year, which year shows the maximum increase in number of flights?

गत वर्ष की तुलना में, किस वर्ष में उड़ानों की संख्या में अधिकतम वृद्धि हुई है?

**Options:**

- 1) Y4
- 2) Y2
- 3) Y6
- 4) None of these

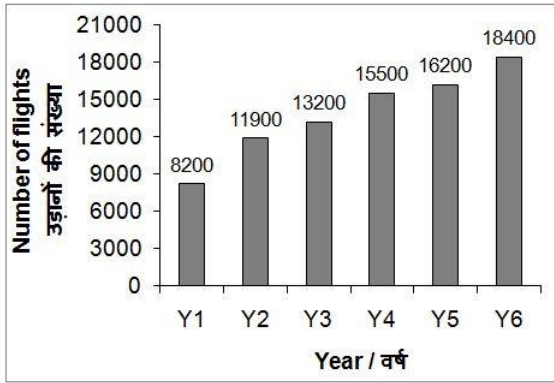
इनमें से कोई नहीं

**Correct Answer:** Y2

**QID : 49 -**

The bar chart given below shows the number of flights from by Air India in 6 consecutive years.

नीचे दिए गए दण्ड चित्र में 6 वर्ष के लिए एयर इंडिया द्वारा उड़ाई गई उड़ानों की संख्या को दर्शाया गया है।



Number flights in Y6 are how much percent more than number of flights in Y1?

Y6 की उड़ानों की संख्या Y1 की उड़ानों की संख्या से कितने प्रतिशत अधिक है?

**Options:**

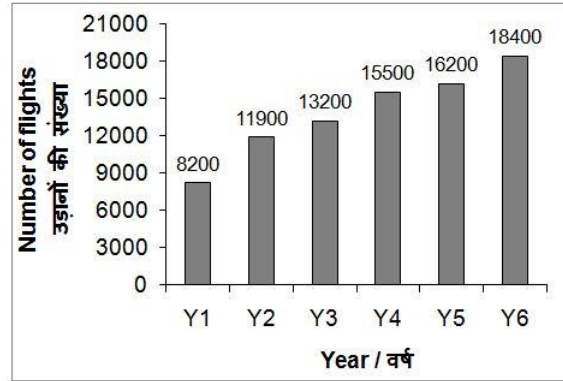
- 1) 124.4
- 2) 126.8
- 3) 118.2
- 4) 114.3

**Correct Answer:** 124.4

**QID : 50 -**

The bar chart given below shows the number of flights from by Air India in 6 consecutive years.

नीचे दिए गए दण्ड चित्र में 6 वर्ष के लिए एयर इंडिया द्वारा उड़ाई गई उड़ानों की संख्या को दर्शाया गया है।



Number of flights of Y2 are what percent of number of flights of Y5?

Y2 की उड़ानों की संख्या, Y5 उड़ानों की संख्या का कितना प्रतिशत है?

**Options:**

- 1) 69.26
- 2) 71.66
- 3) 67.18
- 4) 73.45

**Correct Answer:** 73.45

**QID : 51 -** In the following question, some part of the sentence may have errors. Find out which part of the sentence has an error and select the appropriate option. If a sentence is free from error, select 'No Error'.

To bring these to you **(1)**/ Wherever you are **(2)**/ however you have time. **(3)**/ No Error **(4)**/

**Options:**

- 1) 1
- 2) 2
- 3) 3
- 4) 4

**Correct Answer:** 3

**QID : 52 -** In the following question, some part of the sentence may have errors. Find out which part of the sentence has an error and select the appropriate option. If a sentence is free from error, select 'No Error'.

We will continue to **(1)**/ strive in dark **(2)**/ but we will no driven out. **(3)**/ No Error **(4)**/

**Options:**

- 1) 1
- 2) 2
- 3) 3
- 4) 4

**Correct Answer:** 3

**QID : 53 -** In the following question, the sentence given with blank to be filled in with an appropriate word. Select the correct alternative out of the four and indicate it by selecting the appropriate option.

She cannot deprive him \_\_\_\_\_ his rights.

**Options:**

- 1) for



- 2) form
- 3) of
- 4) with

**Correct Answer:** of

**QID : 54** - In the following question, the sentence given with blank to be filled in with an appropriate word. Select the correct alternative out of the four and indicate it by selecting the appropriate option.

**My uncle, Mr. Lalit Singh comes home at the \_\_\_\_\_ of the month.**

**Options:**

- 1) end
- 2) gone
- 3) bring
- 4) returning

**Correct Answer:** end

**QID : 55** - In the following question, out of the given four alternatives, select the one which best expresses the meaning of the given word.

**Awe**

**Options:**

- 1) Expectation
- 2) Admiration
- 3) Familiarity
- 4) Calmness

**Correct Answer:** Admiration

**QID : 56** - In the following question, out of the given four alternatives, select the one which best expresses the meaning of the given word.

**Rejuvenate**

**Options:**

- 1) Update
- 2) Destroy
- 3) Rain
- 4) Exhaust

**Correct Answer:** Update

**QID : 57** - In the following question, out of the given four alternatives, select the one which best expresses the meaning of the given word.

**Disperse**

**Options:**

- 1) Eject
- 2) Arrange
- 3) Gather
- 4) Collect

**Correct Answer:** Eject

**QID : 58** - In the following question, out of the given four alternatives, select the one which is opposite in meaning of the given word.

**Stationary**

**Options:**

- 1) Immobile
- 2) permanent
- 3) Stable
- 4) Unsteady

**Correct Answer:** Unsteady

**QID : 59** - In the following question, out of the given four alternatives, select the one which is opposite in meaning of the given word.

**Progressive**

**Options:**

- 1) Advanced
- 2) Continuous
- 3) Conservative
- 4) Dynamic

**Correct Answer:** Conservative

**QID : 60** - In the following question, out of the given four alternatives, select the one which is opposite in meaning of the given word.

**Augment**

**Options:**

- 1) Develop
- 2) Enhance
- 3) Degrade
- 4) Increase

**Correct Answer:** Degrade

**QID : 61** - In the following question, out of the four given alternatives, select the alternative which best expresses the meaning of the Idiom/Phrase.

**Part and parcel**

**Options:**

- 1) Arguments for and against
- 2) Send the message
- 3) An essential part
- 4) Distribute and give away

**Correct Answer:** An essential part

**QID : 62** - In the following question, out of the four given alternatives, select the alternative which best expresses the meaning of the Idiom/Phrase.

**A rainy day**

**Options:**

- 1) Time of amusement
- 2) Time of difficulty
- 3) Day for adventure
- 4) Heavy downpour of water

**Correct Answer:** Time of difficulty

**QID : 63** - Improve the bracketed part of the sentence. **(Being a cold day)**, we cancelled our picnic.

**Options:**

- 1) It being a cold day
- 2) It having been a cold day
- 3) It been a cold day
- 4) Not improvement

**Correct Answer:** It being a cold day

**QID : 64** - Improve the bracketed part of the sentence. My daughter has a habit of **(eating home-cooked food)**.

**Options:**

- 1) picking home-cooked food
- 2) bulging home-cooked food
- 3) hoggering home-cooked food
- 4) Not improvement

**Correct Answer:** Not improvement

**QID : 65** - In the following question, out of the four given alternatives, select the alternative which is the best substitute of the phrase.

**Government by person of highest social order.**

**Options:**

- 1) Autocracy
- 2) Aristocracy
- 3) Plutocracy
- 4) Democracy

**Correct Answer:** Aristocracy

**QID : 66** - In the following question, out of the four given alternatives, select the alternative which is the best substitute of the phrase.

**Government by a king/queen.**

**Options:**

- 1) Dictatorship
- 2) Monarchy
- 3) Oligarchy
- 4) Theocracy

**Correct Answer:** Monarchy

**QID : 67** - In the following question, a word has been written in four different ways out of which only one is correctly spelt. Select the correctly spelt word.

**Options:**

- 1) Laughtro
- 2) Laughtur
- 3) Laughter
- 4) Laufter

**Correct Answer:** Laughter

**QID : 68** - In the following question, a word has been written in four different ways out of which only one is correctly spelt. Select the correctly spelt word.

**Options:**

- 1) Maximom
- 2) Maximum
- 3) Masimum
- 4) Macximum

**Correct Answer:** Maximum

**QID : 69** - Rearrange the parts of the sentence in correct order.

The opinion

**P:** opinion of many

**Q:** great must be the

**R:** that makes a book

**Options:**

- 1) RQP
- 2) QPR
- 3) PQR
- 4) QRP

**Correct Answer:** RQP

**QID : 70** - Rearrange the parts of the sentence in correct order.

We are

**P:** as we are alive

**Q:** always under the

**R:** stress as long

**Options:**

- 1) RQP

2) QRP

3) PRQ

4) RPQ

**Correct Answer:** QRP

**QID : 71** - In the following passage some of the words have been left out. Read the passage carefully and select the correct answer for the given blank out of the four alternatives.

We have to face \_\_\_\_\_ degree cold and high speed cold winds during the \_\_\_\_\_ winter months. In the winter \_\_\_\_\_, night becomes long and day becomes short. Sky often looks clear however sometimes it remains \_\_\_\_\_ all through the day because of the thick fog during peak cold months. Sometimes it rains also during the winter season and makes condition \_\_\_\_\_.

**We have to face \_\_\_\_\_ degree**

**Options:**

- 1) heavy
- 2) many
- 3) low
- 4) high

**Correct Answer:** high

**QID : 72** - In the following passage some of the words have been left out. Read the passage carefully and select the correct answer for the given blank out of the four alternatives.

We have to face \_\_\_\_\_ degree cold and high speed cold winds during the \_\_\_\_\_ winter months. In the winter \_\_\_\_\_, night becomes long and day becomes short. Sky often looks clear however sometimes it remains \_\_\_\_\_ all through the day because of the thick fog during peak cold months. Sometimes it rains also during the winter season and makes condition \_\_\_\_\_.

**during the \_\_\_\_\_ winter months.**

**Options:**

- 1) peak
- 2) speak
- 3) sneak
- 4) tweak

**Correct Answer:** peak

**QID : 73** - In the following passage some of the words have been left out. Read the passage carefully and select the correct answer for the given blank out of the four alternatives.

We have to face \_\_\_\_\_ degree cold and high speed cold winds during the \_\_\_\_\_ winter months. In the winter \_\_\_\_\_, night becomes long and day becomes short. Sky often looks clear however sometimes it remains \_\_\_\_\_ all through the day because of the thick fog during peak cold months. Sometimes it rains also during the winter season and makes condition \_\_\_\_\_.

**In the winter \_\_\_\_\_,**

**Options:**

- 1) climate
- 2) season
- 3) reason
- 4) plain

**Correct Answer:** season

**QID : 74** - In the following passage some of the words have been left out. Read the passage carefully and select the correct answer for the given blank out of the four alternatives.

We have to face \_\_\_\_\_ degree cold and high speed cold winds during the \_\_\_\_\_ winter months. In the winter \_\_\_\_\_, night becomes long and day becomes short. Sky often looks clear however sometimes it remains \_\_\_\_\_ all through the day because of the thick fog during peak cold months. Sometimes it rains also during the winter season and makes condition \_\_\_\_\_.

**clear however sometimes it remains \_\_\_\_\_ all through**

**Options:**

- 1) clear
- 2) blue
- 3) Unclear
- 4) same

**Correct Answer:** Unclear

**QID : 75** - In the following passage some of the words have been left out. Read the passage carefully and select the correct answer for the given blank out of the four alternatives.

We have to face \_\_\_\_\_ degree cold and high speed cold winds during the \_\_\_\_\_ winter months. In the winter \_\_\_\_\_, night becomes long and day becomes short. Sky often looks clear however sometimes it remains \_\_\_\_\_ all through the day because of the thick fog during peak cold months. Sometimes it rains also during the winter season and makes condition \_\_\_\_\_.

**season and makes condition \_\_\_\_\_.**

**Options:**

- 1) worse
- 2) better
- 3) abnormal
- 4) normal

**Correct Answer:** worse

**QID : 76** - How many 'factors of production' are there?

'उत्पादन के कारक' कितने होते हैं?

**Options:**

- 1) One  
एक
- 2) Four  
चार
- 3) Six  
छः
- 4) Eight  
आठ

**Correct Answer:** Four

**QID : 77** - Agriculture comes under which sector of economic activity?

कृषि किस आर्थिक गतिविधि के क्षेत्रक के अंतर्गत आती है?

**Options:**

- 1) Secondary sector

द्वितीयक क्षेत्रक

2) Primary sector

प्राथमिक क्षेत्रक

3) Tertiary sector

तृतीयक क्षेत्रक

4) Quaternary sector

चतुर्मागात्मक क्षेत्रक

**Correct Answer:** Primary sector

प्राथमिक क्षेत्रक

प्राथमिक क्षेत्रक

**QID : 78** - India is a \_\_\_\_\_.

भारत एक \_\_\_\_\_ है।

**Options:**

1) Autocracy

एकतंत्र

2) Monarchy

राजतंत्र

3) Democracy

लोकतंत्र

4) Aristocracy

कुलीनतंत्र

**Correct Answer:** Democracy

लोकतंत्र

लोकतंत्र

**QID : 79** - Who is the Chairman of Rajya Sabha?

राज्य सभा का सभापति कौन होता है?

**Options:**

1) Speaker

स्पीकर

2) Vice President of India

भारत के उप-राष्ट्रपति

3) Prime Minister of India

भारत के प्रधानमंत्री

4) None of these

इनमें में से कोई नहीं

**Correct Answer:** Vice President of India

भारत के उप-राष्ट्रपति

स्पीकर

**QID : 80** - Which among the following is known as the earliest period in history?

इतिहास के आरंभिक काल को निम्नलिखित में से क्या कहा जाता है?

**Options:**

1) Palaeolithic

पुरापाषाण काल

2) Mesolithic

मध्यपाषाण युग

3) Microlith

लघुपाषाण

4) Neolithic

नवपाषाण

**Correct Answer:** Palaeolithic

पुरापाषाण काल

नवपाषाण

**QID : 81** - During 1850's, Britain came to be known as \_\_\_\_\_.

1850 के दौरान, ब्रिटेन \_\_\_\_\_ कहलाने लगा।

**Options:**

1) mini continent

छोटा महाद्वीप

2) workshop of the world

दुनिया का कारखाना

3) labour king

मजदूरों का राजा

4) factory owner

फैक्ट्री का मालिक

**Correct Answer:** workshop of the world

दुनिया का कारखाना

मजदूरों का राजा

**QID : 82** - The sun, the moon and all those objects shining in the night sky are called as \_\_\_\_\_.

सूर्य, चंद्रमा तथा वे सभी वस्तुएँ जो रात के समय आसमान में चमकती हैं, \_\_\_\_\_ कहलाती हैं।

**Options:**

1) Star

तारा

2) Satellite

उपग्रह

3) Celestial Bodies

खगोलीय पिंड

4) Milky Way

आकाश गंगा

**Correct Answer:** Celestial Bodies

खगोलीय पिंड

आकाश गंगा

**QID : 83** - Which imaginary line running on the globe divides it into two equal parts?

कौन सी काल्पनिक रेखा ग्लोब को दो बराबर भागों में बाँटती है?

**Options:**

1) Tropic of Cancer

कर्क रेखा

2) Tropic of Capricorn

मकर रेखा

3) Equator

विषुवत्त रेखा

4) None of these

उपरोक्त में से कोई नहीं

**Correct Answer:** Equator

विषुवत्त रेखा

विषुवत्त रेखा

**QID : 84** - Which type of plants have their branches in the upper part of the stem, much above the ground? किस प्रकार के पौधों में शाखाएँ भूमि से अधिक ऊँचाई पर तने के ऊपरी भाग से निकलती हैं?

**Options:**

1) Shrubs

झाड़ी

2) Trees

वृक्ष

3) Herbs

शाक

4) None of the above

उपरोक्त में से कोई नहीं

**Correct Answer:** Trees

वृक्ष

झाड़ी

**QID : 85** - Plants with green and tender stems are called as \_\_\_\_\_.

हरे एवं कोमल तने वाले पौधे \_\_\_\_\_ कहलाते हैं।

**Options:**

1) Herbs

शाक

2) Shrubs

झाड़ी

3) Trees

वृक्ष

4) None of the above

उपरोक्त में से कोई नहीं

**Correct Answer:** Herbs

शाक

शाक

**QID : 86** - The covering of lungs is called as फेफड़ों के आवरण को \_\_\_\_\_ कहा जाता है।

**Options:**

1) Pericardium

पेरीकार्डियम

2) Pleural membrane

फुफ्फुस झिल्ली

3) Perichondrium

पेरिकॉन्ड्रियम

4) Peritoneum

पेरिटोनियम

**Correct Answer:** Pleural membrane

फुफ्फुस झिल्ली

फुफ्फुस झिल्ली

**QID : 87** - Unit of acceleration is \_\_\_\_\_.

त्वरण का मात्रक \_\_\_\_\_ है।

**Options:**

1) m/s

मी./सेकैण्ड

2)  $s^2/m$

सेकैण्ड<sup>2</sup>/मी.

3)  $m/s^2$

मी./सेकैण्ड<sup>2</sup>

4)  $m^2/s^2$

मी.<sup>2</sup>/सेकैण्ड<sup>2</sup>

**Correct Answer:**  $m/s^2$

मी./सेकैण्ड<sup>2</sup>

मी./सेकैण्ड

**QID : 88** - The distance travelled by a freely falling body is proportional to which among the following?

एक स्वतंत्र रूप से गिरते हुए पिण्ड द्वारा तय की गई दूरी

निम्नलिखित में से किसके समानुपातिक होती है?

**Options:**

1) The mass of the body

पिण्ड के द्रव्यमान

2) The square of the acceleration due to gravity

गुरुत्व के कारण त्वरण का वर्ग

3) The square of the time of fall

गिरने के समय का वर्ग

4) The time of fall

गिरने का समय

**Correct Answer:** The square of the time of fall

गिरने के समय का वर्ग

गुरुत्व के कारण त्वरण का वर्ग

**QID : 89** - Which of the following is NOT an input device?

I. Keyboard

II. Mouse

III. Monitor

निम्नलिखित में से कौन सा एक इनपुट डिवाइस नहीं है?

I. कीबोर्ड

II. माउस

III. मॉनिटर

**Options:**

1) Both I and II

I तथा II दोनों

2) Only III

केवल III

3) Both II and III

II तथा III दोनों

4) Only II

केवल II

**Correct Answer:** Only III

केवल III

केवल III

**QID : 90** - Molecules in Solids \_\_\_\_\_.

ठोस पदार्थों में अणु \_\_\_\_\_।

**Options:**

1) are free to move about

गति के लिए स्वतंत्र होते हैं

2) cannot move

गति नहीं कर सकते

3) interchange positions frequently

बार बार जगह की अदला बदली करते हैं

4) are spherical in shape

आकार में गोलाकार होते हैं

**Correct Answer:** cannot move

गति नहीं कर सकते

गति नहीं कर सकते

**QID : 91** - Which of the following is not an element?

निम्नलिखित में से कौन सा तत्व नहीं है?

**Options:**

1) Sodium

सोडियम

2) Tin

टिन

3) Water

पानी

4) Carbon

कार्बन

**Correct Answer:** Water

पानी

पानी

**QID : 92** - The upper limit of the layer where all the space between particles of soil and gaps between rocks are filled with water is called what?

मृदा के कणों के बीच के सारे के सारे रिक्त स्थान और चट्टानों

के बीच के स्थान जो जल से भरे होते हैं उसकी ऊपरी सीमा

क्या कहलाती है?

**Options:**

1) Water cycle

जल चक्र

2) Water table

भौमजल स्तर

3) Ground water

भौमजल

4) Aquifer

जलभर

**Correct Answer:** Water table

भौमजल स्तर

जलभर

**QID : 93** - In which year Pradhan Mantri Jan Dhan Yojana was launched?

प्रधानमंत्री जन धन योजना की शुरुआत किस वर्ष की गई थी?

**Options:**

1) 2013

2) 2014

3) 2015

4) 2016

**Correct Answer:** 2014

**QID : 94** - Who among the following discovered Radium?

निम्नलिखित में से किसने रेडियम की खोज की थी?

**Options:**

1) Marie Curie

मेरी क्यूरी

2) Alber Einstein

एल्बर्ट आइंस्टाइन

3) R.A. Millikan

आर. ए. मिल्लिकन

4) Pavel Schilling

पावेल स्चिलिंग

**Correct Answer:** Marie Curie

मेरी क्यूरी

मेरी क्यूरी

**QID : 95** - With which sport is 'wide ball' associated?

किस खेल के साथ 'वाइड बॉल' जुड़ा हुआ है?

**Options:**

1) Cricket

क्रिकेट

2) Hockey

हॉकी

3) Football

फुटबॉल

4) Table Tennis

टेबल टेनिस

**Correct Answer:** Cricket

क्रिकेट

टेबल टेनिस

**QID : 96** - Hindu Pilgrimage centre Sabarimala is located in which state?

हिन्दुओं का तीर्थस्थल सबरीमाला किस राज्य में स्थित है?

**Options:**

1) Maharashtra

महाराष्ट्र

2) Kerala

केरल

3) Uttar Pradesh

उत्तर प्रदेश

4) Madhya Pradesh

मध्य प्रदेश

**Correct Answer:** Kerala

केरल

केरल

**QID : 97** - Who won the Best FIFA Men's player award 2016?

2016 का सर्वश्रेष्ठ फीफा पुरुष खिलाड़ी पुरस्कार किसने जीता?

**Options:**

1) Cristiano Ronaldo

क्रिस्टियानो रोनाल्डो

2) Wayne Rooney

वेन रूनी

3) Neymar Junior

नेएमार जूनियर

4) Fernando Torres

फरनान्डो टोरेस

**Correct Answer:** Cristiano Ronaldo

क्रिस्टियानो रोनाल्डो

फरनान्डो टोरेस

**QID : 98** - Who is the author of the book named "My Country My Life"?

"माई कंट्री माई लाइफ" नामक पुस्तक के लेखक कौन हैं?

**Options:**

1) Mamata Banerjee

ममता बनर्जी

2) L.K. Advani

एल. के. आडवानी

3) Raghav Bahal

राघव बहल

4) Daman Singh

दमन सिंह

**Correct Answer:** L.K. Advani

एल. के. आडवानी

दमन सिंह

**QID : 99** - Basel Convention is an international treaty that was designed \_\_\_\_\_.

बासेल सम्मेलन एक अंतरराष्ट्रीय संधि है जिसे \_\_\_\_\_

डिजाइन किया गया था।

**Options:**

1) to reduce movement of hazardous waste (except radioactive wastes) between nations.

राष्ट्रों के बीच खतरनाक अपशिष्ट (रेडियोधर्मी अपशिष्ट को छोड़कर) की गति कम करने के लिए

2) to reduce movement of radioactive wastes only between nations

केवल देशों के बीच रेडियोधर्मी अपशिष्टों की गति को कम करने के लिए

3) to encourage waste disposal

अपशिष्ट निपटान को प्रोत्साहित करने के लिए

4) None of these

इनमें से कोई नहीं

**Correct Answer:** to reduce movement of hazardous waste (except radioactive wastes) between nations.

राष्ट्रों के बीच खतरनाक अपशिष्ट (रेडियोधर्मी अपशिष्ट को छोड़कर) की गति कम करने के लिए

इनमें से कोई नहीं

**QID : 100** - Which among the following neighbouring countries of India is not landlocked?

निम्नलिखित में से भारत का कौन सा पड़ोसी देश स्थलसीमा से घिरा हुआ नहीं है?

**Options:**

1) Myanmar

म्यांमार

2) Bhutan

भूटान

3) Nepal

नेपाल

4) Afghanistan

अफ़ग़ानिस्तान

**Correct Answer:** Myanmar

म्यांमार

भूटान