



**REGISTRATION NUMBER : 2201484539**

**CANDIDATES NAME: MOCKTIME.COM**

**EXAM NAME : SSC CHSL**

**EXAM DURATION : 01:00 Hrs**

**TOTAL MARKS : 200**

**TOTAL NO OF QUESTIONS : 100**

**QID : 1 -**

In the following question, select the number which can be placed at the sign of question mark (?) from the given alternatives.

निम्नलिखित प्रश्न में दिए गए विकल्पों में से प्रश्न चिह्न (?) के स्थान पर आने वाली संख्या को चुनिए।

10	4	15	30
5	20	2	28
7	6	30	?

**Options:**

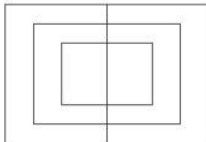
- 1) 42
- 2) 43
- 3) 44
- 4) 48

**Correct Answer: 44**

**QID : 2 -**

How many quadrilaterals are there in the given figure?

दी गई आकृति में कितने चतुर्भुज हैं?



**Options:**

- 1) 8
- 2) 9
- 3) 10
- 4) 12

**Correct Answer: 9**

**QID : 3 -**

A word is represented by only one set of numbers as given in any one of the alternatives. The sets of numbers given in the alternatives are represented by two classes of alphabets as shown in the given two matrices. The columns and rows of **Matrix-I** are numbered from 0 to 4 and that of **Matrix-II** are numbered from 5 to 9. A letter from these matrices can be represented first by its row and next by its column, for example, 'U' can be represented by 14, 95, etc., and 'M' can be represented by 23, 88, etc. Similarly, you have to identify the set for the word "PARK".

एक शब्द केवल एक संख्या-समूह द्वारा दर्शाया गया है, जैसा कि विकल्पों में से किसी एक में दिया गया है। विकल्पों में दिए गए संख्या-समूह अक्षरों के दो वर्गों द्वारा दर्शाए गए हैं, जैसा कि दिए गए दो आव्यूहों में है। **आव्यूह-I** के स्तम्भ और पंक्ति की संख्या 0 से 4 है और **आव्यूह-II** की 5 से 9। इन आव्यूहों से एक अक्षर को पहले उसकी पंक्ति और बाद में स्तम्भ संख्या द्वारा दर्शाया जा सकता है। उदाहरण के लिए 'U' को 14, 95, आदि द्वारा दर्शाया जा सकता है तथा 'M' को 23, 88, आदि द्वारा दर्शाया जा सकता है। इसी तरह से आपको प्रश्न में दिए शब्द "PARK" के लिए समूह को पहचानना है।

Matrix-I					Matrix-II						
आव्यूह-I					आव्यूह-II						
	0	1	2	3	4		5	6	7	8	9
0	C	U	G	J	D	5	A	V	K	T	H
1	S	F	J	N	U	6	L	R	T	O	N
2	Y	P	V	M	F	7	I	Q	W	Y	P
3	I	E	A	C	H	8	F	H	R	M	S
4	T	K	D	Q	L	9	U	G	A	Q	B

**Options:**

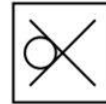
- 1) 21, 55, 67, 41
- 2) 79, 55, 87, 41
- 3) 21, 31, 67, 57
- 4) 79, 32, 67, 57

**Correct Answer: 79, 55, 87, 41**

**QID : 4 -**

From the given answer figures, select the one in which the question figure is hidden/embedded.

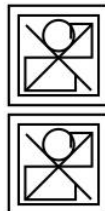
दी गई उत्तर आकृतियों में से उस उत्तर आकृति को चुनिए जिस में प्रश्न आकृति निहित है।



**Options:**

- 1)
- 2)
- 3)
- 4)

**Correct Answer:**



**QID : 5 -**

Which answer figure will complete the pattern in the question figure?

कौन सी उत्तर आकृति प्रश्न आकृति के प्रतिरूप को पूरा करेगी?



**Options:**

- 1)
- 2)
- 3)
- 4)

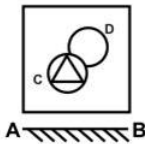
**Correct Answer:**



**QID : 6 -**

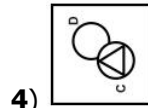
If a mirror is placed on the line AB, then which of the answer figures is the right image of the given figure?

यदि एक दर्पण को AB रेखा पर रखा जाए, तो दी गई उत्तर आकृतियों में से कौन सी आकृति प्रश्न आकृति की सही प्रतिबिम्ब होगी?

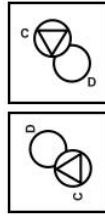


**Options:**

- 1)
- 2)
- 3)



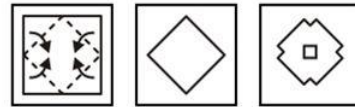
**4) Correct Answer:**



**QID : 7 -**

A piece of paper is folded and punched as shown below in the question figures. From the given answer figures, indicate how it will appear when opened?

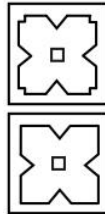
नीचे के प्रश्न आकृतियों में दिखाए अनुसार कागज को मोड़कर छेदने तथा खोलने के बाद वह किस उत्तर आकृति जैसा दिखाई देगा?



**Options:**

- 1)
- 2)
- 3)
- 4)

**Correct Answer:**



**QID : 8 -** If '-' means '+', '×' means '÷', '÷' means '-' and '+' means '×', then

$$9 \times 6 + 36 - 4 = ?$$

यदि '-' का अर्थ '+', '×' का अर्थ '÷', '÷' का अर्थ '-' तथा '+' का अर्थ '×' हो, तो

$$9 \times 6 + 36 - 4 = ?$$

**Options:**

- 1) 58
- 2) 38
- 3) 40
- 4) 32

**Correct Answer: 58**

**QID : 9** - If  $5 + 3 + 1 = 15$  and  $6 + 1 + 4 = 24$ , then  $4 + 3 + 0 = ?$

यदि  $5 + 3 + 1 = 15$  तथा  $6 + 1 + 4 = 24$  हो, तो  $4 + 3 + 0 = ?$

**Options:**

- 1) 4
- 2) 12
- 3) 0
- 4) 8

**Correct Answer:** 0

**QID : 10** - Arrange the given words in the sequence in which they occur in the dictionary.

1. Jelly
2. Jenny
3. Jewel
4. Jocks
5. Jiffy

निम्नलिखित शब्दों को शब्दकोश में आने वाले क्रम के अनुसार लिखें।

1. Jelly
2. Jenny
3. Jewel
4. Jocks
5. Jiffy

**Options:**

- 1) 12345
- 2) 12354
- 3) 13254
- 4) 21354

**Correct Answer:** 12354

**QID : 11** - In the following question, select the missing number from the given series.

**121, 4, 144, 9, 169, 16, 196, ?**

निम्नलिखित प्रश्न में दिए गए विकल्पों में से लुप्त अंक ज्ञात कीजिए।

**121, 4, 144, 9, 169, 16, 196, ?**

**Options:**

- 1) 225
- 2) 36
- 3) 25
- 4) 40

**Correct Answer:** 25

**QID : 12** - A series is given with one term missing. Select the correct alternative from the given ones that will complete the series.

**W, T, Q, N, ?**

एक अनुक्रम दिया गया है, जिसमें से एक पद लुप्त है। दिए गए विकल्पों में से वह सही विकल्प चुनिए, जो अनुक्रम को पूरा करे।

**W, T, Q, N, ?**

**Options:**

- 1) J
- 2) K
- 3) L
- 4) M

**Correct Answer:** K

**QID : 13** - In the following question, select the odd word from the given alternatives.

निम्नलिखित प्रश्न में दिए गए विकल्पों में से विषम शब्द को चुनिए।

**Options:**

- 1) Grass  
घास
- 2) Plant  
पौधा
- 3) Tree  
वृक्ष
- 4) Land  
भूमि

**Correct Answer:** Land

भूमि

घास

**QID : 14** - In the following question, select the odd number pair from the given alternatives.

निम्नलिखित प्रश्न में दिए गए विकल्पों में से विषम संख्या युग्म को चुनिए।

**Options:**

- 1) 7 - 52
- 2) 11 - 124
- 3) 12 - 147
- 4) 14 - 201

**Correct Answer:** 14 - 201

**QID : 15** - In the following question, select the odd letters from the given alternatives.

निम्नलिखित प्रश्न में दिए गए विकल्पों में से विषम अक्षरों को चुनिए।

**Options:**

- 1) CDEH
- 2) JKLO
- 3) RSTW
- 4) EFGK

**Correct Answer:** EFGK

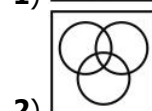
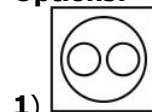
**QID : 16** - Identify the diagram that best represents the relationship among the given classes.

**Biology, Science, Subject**

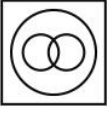
वह आरेख चुनिए जो नीचे दिए गए वर्गों के बीच के संबंध का सही निरूपण करता है।

**जीव-विज्ञान, विज्ञान, विषय**

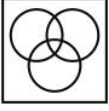
**Options:**



3)



4) **Correct Answer:**



**QID : 17** - In the following question, select the related word from the given alternatives.

**Metal : Ore :: Paper : ?**

निम्नलिखित प्रश्न में दिए गए विकल्पों में से संबंधित शब्द को चुनिए।

**धातु : अयस्क :: कागज : ?**

**Options:**

1) Flour

आटा

2) Pulp

गूदा

3) Brick

ईंट

4) Seed

बीज

**Correct Answer:** Pulp

गूदा

गूदा

**QID : 18** - In the following question, select the related number from the given alternatives.

**1 : 8 :: 216 : ?**

निम्नलिखित प्रश्न में दिए गए विकल्पों में से संबंधित संख्या को चुनिए।

**1 : 8 :: 216 : ?**

**Options:**

1) 343

2) 125

3) 64

4) 729

**Correct Answer:** 343

**QID : 19** - In the following question, select the related letters from the given alternatives.

**FA : CC :: PX : ?**

निम्नलिखित प्रश्न में दिए गए विकल्पों में से संबंधित अक्षरों को चुनिए।

**FA : CC :: PX : ?**

**Options:**

1) KY

2) LY

3) MZ

4) KZ

**Correct Answer:** MZ

**QID : 20** - In the following question, select the word which cannot be formed using the letters of the given word.

**TOURNAMENT**

निम्नलिखित विकल्पों में से वह शब्द चुनिए जो दिए गए शब्द के अक्षरों का प्रयोग करके नहीं बनाया जा सकता।

**TOURNAMENT**

**Options:**

1) TORMENT

2) RENT

3) TOUR

4) TRAP

**Correct Answer:** TRAP

**QID : 21** - Pointing to a man, Heena said "he is the only son of wife of my father". How is the man related to Heena?

एक पुरुष की ओर संकेत करते हुए, हिना ने कहा कि "वह मेरे पिता की पत्नी का एकमात्र पुत्र है।" वह पुरुष हिना से किस प्रकार संबंधित है?

**Options:**

1) Grandfather

दादा

2) Husband

पति

3) Brother

भाई

4) Son

पुत्र

**Correct Answer:** Brother

भाई

दादा

**QID : 22** - Nayan remembers his examinations starts after 15<sup>th</sup> August, while her mother remembers that his examinations starts before 18<sup>th</sup> August. On which date of August does his examinations start?

नयन को याद है कि उसकी परीक्षा 15 अगस्त के बाद आरंभ हो रही है जबकि उसकी माता को याद है कि उसकी परीक्षा 18 अगस्त से पहले आरंभ हो रही है। उसकी परीक्षा अगस्त की किस तिथि को आरंभ है?

**Options:**

1) 16

2) 17

3) 16 or 17

16 अथवा 17

4) 17 or 18

17 अथवा 18

**Correct Answer:** 16 or 17

16 अथवा 17

**QID : 23** - In the following question below are given some statements followed by some conclusions. Taking the given statements to be true even if they seem to be at variance from commonly known facts, read all the

conclusions and then decide which of the given conclusion logically follows the given statements.

**Statements:**

- I. Some yellow are small.
- II. All small are red.

**Conclusions:**

- I. Some red are yellow.
- II. Some small are yellow.

नीचे दिए गए प्रश्न में कुछ कथन और उनके बाद उन कथनों पर आधारित कुछ निष्कर्ष दिए गए हैं, हालांकि उनमें सामान्य ज्ञात तथ्यों से भिन्नता हो सकती है। सभी निष्कर्ष पढ़ें और फिर निर्धारित करें कि दिए गए कौन से निष्कर्ष, दिए गए कथनों के आधार पर युक्तिसंगत हैं।

**कथन:**

- I. कुछ पीले छोटे हैं।
- II. सभी छोटे लाल हैं।

**निष्कर्ष:**

- I. कुछ लाल पीले हैं।
- II. कुछ छोटे पीले हैं।

**Options:**

- 1) Only conclusion (I) follows. केवल निष्कर्ष (I) सही है।
- 2) Only conclusion (II) follows. केवल निष्कर्ष (II) सही है।
- 3) Neither conclusion (I) nor conclusion (II) follows. न तो निष्कर्ष (I) न ही निष्कर्ष (II) सही है।
- 4) Both conclusion follow. दोनों ही निष्कर्ष सही हैं।

**Correct Answer:** Both conclusion follow.

- दोनों ही निष्कर्ष सही हैं।
- दोनों ही निष्कर्ष सही हैं।

**QID : 24** - In a certain code language, "HAZE" is written as "ICCI". How is "SMOG" written in that code language?

एक विशिष्ट कोड भाषा में, "HAZE" को "ICCI" लिखा जाता है। इस कोड भाषा में "SMOG" को किस प्रकार लिखा जाएगा?

**Options:**

- 1) TORK
- 2) TORL
- 3) TNRK
- 4) TNSK

**Correct Answer:** TORK

**QID : 25** - In a certain code language, "SIN" is written as "43" and "PEN" is written as "36". How is "TIP" written in that code language?

एक विशिष्ट कोड भाषा

में, "SIN" को "43" तथा "PEN" को "36" लिखा जाता है। इस कोड भाषा में "TIP" को किस प्रकार लिखा जाएगा?

**Options:**

- 1) 45
- 2) 46
- 3) 44
- 4) 43

**Correct Answer:** 46

**QID : 26** - Which smallest number to be subtracted from 300, so that the resulting number is completely divisible by 9?

300 में ऐसी कौन सी सबसे छोटी संख्या घटायी जाए, ताकि परिणामी संख्या 9 से पूर्णतः विभाजित हो जाए?

**Options:**

- 1) 5
- 2) 6
- 3) 3
- 4) 1

**Correct Answer:** 3

**QID : 27** - What is the digit in unit's place of the product  $2^5 \times 25^2 \times 3^7$ ?

$2^5 \times 25^2 \times 3^7$  के गुणनफल का इकाई का अंक क्या है?

**Options:**

- 1) 1
- 2) 2
- 3) 0
- 4) 5

**Correct Answer:** 0

**QID : 28** - What is the value of  $13 + 14 \dots\dots 20$ ?

$13 + 14 \dots\dots 20$  का मान क्या है?

**Options:**

- 1) 182
- 2) 144
- 3) 132
- 4) 124

**Correct Answer:** 144

**QID : 29** -

What is the value of  $8\frac{1}{7} + 5\frac{3}{7} + 4\frac{2}{7} + 3\frac{1}{7}$ ?

$8\frac{1}{7} + 5\frac{3}{7} + 4\frac{2}{7} + 3\frac{1}{7}$  का मान क्या है?

**Options:**

- 1) 22
- 2) 23
- 3) 24
- 4) 21

**Correct Answer:** 21

**QID : 30** - A number when divided by 18 leaves remainder 15. What is the remainder when the same number is divided by 6?

एक संख्या को जब 18 से भाग दिया जाता है तो शेषफल 15 प्राप्त होता है। उसी संख्या को जब 6 से भाग दिया जाए, तो शेषफल क्या होगा?

**Options:**

- 1) 3
- 2) 2
- 3) 1
- 4) 4

**Correct Answer:** 3

**QID : 31** - If 123457Y is completely divisible by 8, then what will be the digit in place of Y?

यदि 123457Y, 8 से पूर्णतः विभाजित है, तो Y के स्थान पर कौन सा अंक आएगा?

**Options:**

- 1) 4
- 2) 5
- 3) 8
- 4) 6

**Correct Answer:** 6

**QID : 32** - P can do a piece of work in 36 days. If Q is 50% more efficient than P, then in how many days can Q do the same work?

P किसी कार्य को 36 दिनों में कर सकता है। यदि Q की कार्य क्षमता P से 50% अधिक है, तो उसी कार्य को Q कितने दिनों में करेगा?

**Options:**

- 1) 18
- 2) 24
- 3) 12
- 4) 21

**Correct Answer:** 24

**QID : 33** - P is twice as good as Q and together they finish a piece of work in 36 days. The number of days taken by P alone to finish the work?

P की कार्य कुशलता Q से दुगुनी है तथा वे दोनों मिलकर किसी कार्य को 36 दिनों में पूरा कर सकते हैं। P अकेला उस कार्य को कितने दिनों में पूरा कर सकता है?

**Options:**

- 1) 48
- 2) 60
- 3) 54
- 4) 72

**Correct Answer:** 54

**QID : 34** - If the diagonal of a square is 10 cm, then what is the area (in  $\text{cm}^2$ ) of the square?

यदि किसी वर्ग का विकर्ण 10 से.मी. है, तो वर्ग का क्षेत्रफल (से.मी.<sup>2</sup> में) क्या होगा?

**Options:**

- 1) 100
- 2)  $50\sqrt{2}$
- 3) 50
- 4)  $100\sqrt{2}$

**Correct Answer:** 50

**QID : 35** - The marked price of an article is Rs 750 and a customer pays Rs 600 for it. What is the discount percentage?

एक वस्तु का अंकित मूल्य 750 रु है तथा एक ग्राहक इसके लिए 600 रु देता है। छूट प्रतिशत क्या है?

**Options:**

- 1) 20
- 2) 30
- 3) 15
- 4) 10

**Correct Answer:** 20

**QID : 36** - The marked price of an article is 50% more than its cost price. If a discount of 10% is given, then what is the profit percentage?

एक वस्तु का अंकित मूल्य उसके क्रय मूल्य से 50% अधिक है। यदि 10% की छूट दी जाए, तो लाभ का प्रतिशत क्या है?

**Options:**

- 1) 25
- 2) 30
- 3) 35
- 4) 20

**Correct Answer:** 35

**QID : 37** - Two numbers are in the ratio of 3 : 4. If 8 be subtracted from each, then the new ratio becomes 17 : 24. What are the two numbers?

दो संख्याएँ 3 : 4 अनुपात में हैं। यदि प्रत्येक में से 8 घटाया जाए तो नया अनुपात 17 : 24 हो जाता है। दोनों संख्याएँ क्या हैं?

**Options:**

- 1) 42 and 56  
42 तथा 56
- 2) 30 and 40  
30 तथा 40
- 3) 45 and 60  
45 तथा 60
- 4) 60 and 80  
60 तथा 80

**Correct Answer:** 42 and 56

42 तथा 56

42 तथा 56

**QID : 38** - If  $\frac{2}{3}$  of P =  $\frac{1}{5}$  of Q, then what is P : Q?

यदि P का  $\frac{2}{3} = Q$  का  $\frac{1}{5}$  हो, तो P : Q क्या होगा?

**Options:**

- 1) 3 : 5
- 2) 3 : 10
- 3) 3 : 7
- 4) 3 : 9

**Correct Answer:** 3 : 10

**QID : 39** - The average of 6 numbers is 18. If one number is excluded, the average becomes 17. What is the excluded number?

6 संख्याओं का औसत 18 है। यदि एक संख्या को हटा दी जाए, तो औसत 17 हो जाता है। हटाई गई संख्या क्या है?

**Options:**

- 1) 22
- 2) 23
- 3) 21
- 4) 20

**Correct Answer:** 23

**QID : 40** - If the ratio of the cost price and selling price of an article is 5 : 6, then what will be the profit percentage?

यदि एक वस्तु के क्रय मूल्य तथा विक्रय मूल्य का अनुपात 5 : 6 है, तो लाभ प्रतिशत क्या होगा?

**Options:**

- 1) 10
- 2) 12
- 3) 15
- 4) 20

**Correct Answer:** 20

**QID : 41** - If the rice is sold at Rs 48 per kg, then there would be a 20% loss. To earn a profit of 20% what should be the price of rice (per kg)?

यदि चावल को 48 रु प्रति कि.ग्रा. की दर से बेचा जाता है, तो 20% की हानि होगी। 20% का लाभ प्राप्त करने के लिए चावल की कीमत (प्रति कि.ग्रा.) कितनी होनी चाहिए?

**Options:**

- 1) 72
- 2) 76
- 3) 78
- 4) 84

**Correct Answer:** 72

**QID : 42** - When 80 is subtracted from 20% of a number, the result is 30. What is the value of the number?

किसी संख्या के 20% में से 80 घटाने पर परिणाम 30 आता है तो संख्या का मान क्या है?

**Options:**

- 1) 330
- 2) 440
- 3) 550
- 4) 220

**Correct Answer:** 550

**QID : 43** - A number is first decreased by 30% and then increased by 30%. If the number so obtained is 72 less than the original number, then what is the value of the original number?

एक संख्या को पहले 30% घटाया जाता है और फिर 30% बढ़ा दिया जाता है। यदि प्राप्त संख्या वास्तविक संख्या से 72 कम है, तो वास्तविक संख्या का मान क्या होगा?

**Options:**

- 1) 720
- 2) 800
- 3) 960
- 4) 1080

**Correct Answer:** 800

**QID : 44** - Speeds of a boat along the current and against the current are 16 km/hr and 12 km/hr respectively. What is the speed (in km/hr) of the current?

एक नाव की गति धारा के अनुकूल तथा धारा के प्रतिकूल दिशा में क्रमशः 16 कि.मी./घंटा तथा 12 कि.मी./घंटा है। धारा की गति (कि.मी./घंटा में) क्या है?

**Options:**

- 1) 1
- 2) 2
- 3) 3
- 4) 4

**Correct Answer:** 2

**QID : 45** - A person goes from point L to N and comes back. His average speed for the whole journey is 100 km/hr. If his speed while coming back from N to L is 65 km/hr, then what will be the speed of the person (in km/hr) while going from L to N?

एक व्यक्ति बिंदु L से N जाता है तथा वापस आ जाता है। पूरी यात्रा के लिए उसकी औसत गति 100 कि.मी./घंटा है। यदि N से L आने में उसकी गति 65 कि.मी./घंटा है, तो L से N तक जाने में उस व्यक्ति की गति (कि.मी./घंटा में) क्या होगी?

**Options:**

- 1) 135
- 2) 146.31
- 3) 150.62
- 4) 216.67

**Correct Answer:** 216.67

**QID : 46** - An amount invested at simple interest gives Rs 2550 interest at rate of 17% per annum in 3 years. What is the principal (in Rs)?

एक धनराशि साधारण ब्याज पर निवेश की जाती है जोकि 3 वर्ष में 17% प्रति वर्ष की दर से 2550 रु का ब्याज देती है। मूलधन (रु में) क्या है?

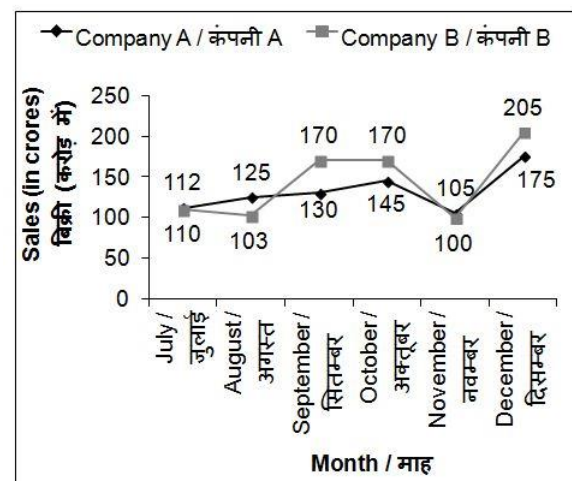
**Options:**

- 1) 4000
- 2) 5000
- 3) 6000
- 4) 4500

**Correct Answer:** 5000**QID : 47 -**

The line chart given below shows the sales (in crores) of company A and B from July to December.

नीचे दिए गए रेखा चित्र में जुलाई से दिसम्बर तक दो कंपनियों A तथा B की बिक्री (करोड़ में) को दर्शाया गया है।



The sales of company A in November is how much percent more than the sales of company B in November? नवम्बर माह में कंपनी A की बिक्री नवम्बर माह में कंपनी B की बिक्री से कितने प्रतिशत अधिक है?

**Options:**

- 1) 5
- 2) 10
- 3) 8

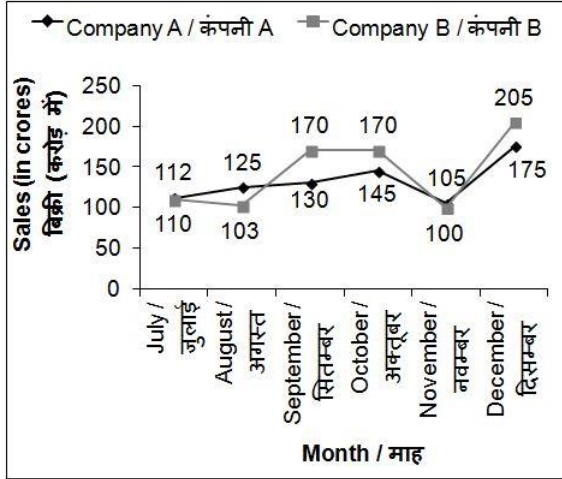
4) 15

Correct Answer: 5

QID : 48 -

The line chart given below shows the sales (in crores) of company A and B from July to December.

नीचे दिए गए रेखा चित्र में जुलाई से दिसम्बर तक दो कंपनियों A तथा B की बिक्री (करोड़ में) को दर्शाया गया है।



The sales of company B is same in which two months? किन दो महीनों में कंपनी B की बिक्री समान रही है?

Options:

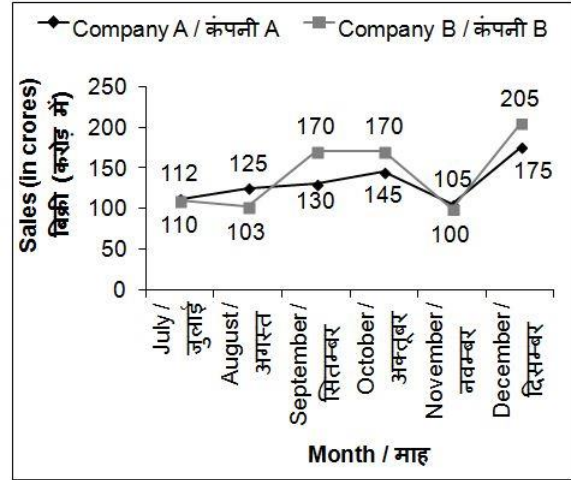
- 1) September and October  
सितम्बर तथा अक्टूबर
- 2) October and November  
अक्टूबर तथा नवम्बर
- 3) August and November  
अगस्त तथा नवम्बर
- 4) July and August  
जुलाई तथा अगस्त

Correct Answer: September and October  
सितम्बर तथा अक्टूबर  
अगस्त तथा नवम्बर

QID : 49 -

The line chart given below shows the sales (in crores) of company A and B from July to December.

नीचे दिए गए रेखा चित्र में जुलाई से दिसम्बर तक दो कंपनियों A तथा B की बिक्री (करोड़ में) को दर्शाया गया है।



What is the average sale (in crore Rs) of company B in the given six months?

दिए गए छह महीनों में कंपनी B की औसत बिक्री (करोड़ रुपये में) क्या है?

Options:

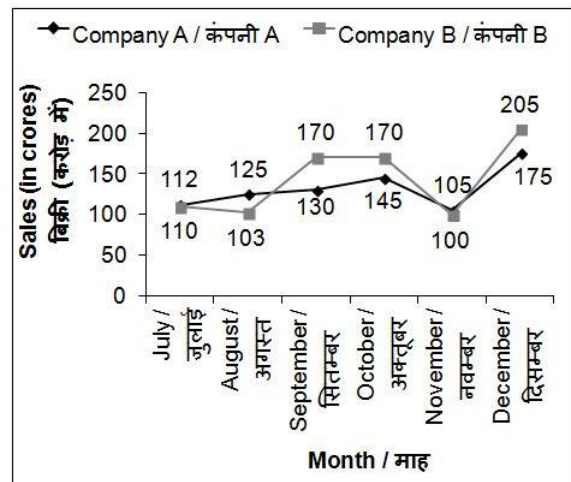
- 1) 143
- 2) 140
- 3) 154
- 4) 135

Correct Answer: 143

QID : 50 -

The line chart given below shows the sales (in crores) of company A and B from July to December.

नीचे दिए गए रेखा चित्र में जुलाई से दिसम्बर तक दो कंपनियों A तथा B की बिक्री (करोड़ में) को दर्शाया गया है।



For how many months the sales of company B is more than the sales of company A?

कितने महीनों के लिए कंपनी B की बिक्री कंपनी A की बिक्री से अधिक है?

Options:

- 1) 2



- 2) 3
- 3) 1
- 4) 4

**Correct Answer:** 3

**QID : 51** - In the following question, some part of the sentence may have errors. Find out which part of the sentence has an error and select the appropriate option. If a sentence is free from error, select 'No Error'.

Elderly people can have a normal **(1)**/ body temperature below 98.6 so **(2)**/ the younger population can have a little higher temperature. **(3)**/ No Error **(4)**

**Options:**

- 1) 1
- 2) 2
- 3) 3
- 4) 4

**Correct Answer:** 2

**QID : 52** - In the following question, some part of the sentence may have errors. Find out which part of the sentence has an error and select the appropriate option. If a sentence is free from error, select 'No Error'.

We are at that critical juncture when **(1)**/we are facing a serious issue **(2)**/with the image perception of the railways. **(3)**/ No Error **(4)**

**Options:**

- 1) 1
- 2) 2
- 3) 3
- 4) 4

**Correct Answer:** 1

**QID : 53** - In the following question, the sentence given with blank to be filled in with an appropriate word. Select the correct alternative out of the four and indicate it by selecting the appropriate option.

**Everything is bright and beautiful, \_\_\_\_\_?**

**Options:**

- 1) isn't he
- 2) isn't it
- 3) isn't she
- 4) isn't him

**Correct Answer:** isn't it

**QID : 54** - In the following question, the sentence given with blank to be filled in with an appropriate word. Select the correct alternative out of the four and indicate it by selecting the appropriate option.

**They are terribly busy with \_\_\_\_\_ work.**

**Options:**

- 1) his
- 2) their
- 3) them
- 4) her

**Correct Answer:** their

**QID : 55** - In the following question, out of the given four alternatives, select the one which best expresses the meaning of the given word.

**Lean**

**Options:**

- 1) Fat

- 2) Thin
- 3) Obese
- 4) Plump

**Correct Answer:** Thin

**QID : 56** - In the following question, out of the given four alternatives, select the one which best expresses the meaning of the given word.

**Lurk**

**Options:**

- 1) Ignore
- 2) Rush
- 3) Come
- 4) Sneak

**Correct Answer:** Sneak

**QID : 57** - In the following question, out of the given four alternatives, select the one which best expresses the meaning of the given word.

**Groan**

**Options:**

- 1) Grumble
- 2) Agreement
- 3) Liking
- 4) Regard

**Correct Answer:** Grumble

**QID : 58** - In the following question, out of the given four alternatives, select the one which is opposite in meaning of the given word.

**Lethargic**

**Options:**

- 1) Lazy
- 2) Sluggish
- 3) Lively
- 4) Dull

**Correct Answer:** Lively

**QID : 59** - In the following question, out of the given four alternatives, select the one which is opposite in meaning of the given word.

**Defend**

**Options:**

- 1) Uphold
- 2) Surrender
- 3) Secure
- 4) Resist

**Correct Answer:** Surrender

**QID : 60** - In the following question, out of the given four alternatives, select the one which is opposite in meaning of the given word.

**Command**

**Options:**

- 1) Opposition
- 2) Call
- 3) Dictate
- 4) Notification

**Correct Answer:** Opposition

**QID : 61** - In the following question, out of the four given alternatives, select the alternative which best expresses the meaning of the Idiom/Phrase.

### Rest on one's laurels

#### Options:

- 1) To retire from active life
- 2) To remember thing clearly
- 3) Not to come to point
- 4) Defend from enemies

**Correct Answer:** To retire from active life

**QID : 62** - In the following question, out of the four given alternatives, select the alternative which best expresses the meaning of the Idiom/Phrase.

#### Fallout

#### Options:

- 1) To admire
- 2) Declared dead
- 3) To love someone
- 4) To quarrel

**Correct Answer:** To quarrel

**QID : 63** - Improve the bracketed part of the sentence. The main **(causes of this failure is)** inadequate ability growth and character development.

#### Options:

- 1) causes of these failure is
- 2) cause of this failure are
- 3) causes of this failure are
- 4) No improvement

**Correct Answer:** causes of this failure are

**QID : 64** - Improve the bracketed part of the sentence. If they **(did not know their ability)** and they do not know which sports they want to do, they will not learn to play any sports and will not succeed.

#### Options:

- 1) do not know their ability
- 2) would not know their ability
- 3) did not know their capability
- 4) No improvement

**Correct Answer:** do not know their ability

**QID : 65** - In the following question, out of the four given alternatives, select the alternative which is the best substitute of the phrase.

#### Art or craft making skill with hand.

#### Options:

- 1) Hovercraft
- 2) Handicraft
- 3) Statecraft
- 4) Spacecraft

**Correct Answer:** Handicraft

**QID : 66** - In the following question, out of the four given alternatives, select the alternative which is the best substitute of the phrase.

#### Insufficient feeding or nourishing.

#### Options:

- 1) Abduction
- 2) Abolition
- 3) Addiction
- 4) Malnutrition

**Correct Answer:** Malnutrition

**QID : 67** - In the following question, a word has been written in four different ways out of which only one is correctly spelt. Select the correctly spelt word.

#### Options:

- 1) Defecient
- 2) Deficeint
- 3) Deficient
- 4) Deficent

**Correct Answer:** Deficient

**QID : 68** - In the following question, a word has been written in four different ways out of which only one is correctly spelt. Select the correctly spelt word.

#### Options:

- 1) Chanlenge
- 2) Chalenge
- 3) Challainge
- 4) Challenge

**Correct Answer:** Challenge

**QID : 69** - Rearrange the parts of the sentence in correct order.

His vision

**P:** hardly related to

**Q:** and goals were

**R:** the reality around him

#### Options:

- 1) PRQ
- 2) QPR
- 3) PQR
- 4) RPQ

**Correct Answer:** QPR

**QID : 70** - Rearrange the parts of the sentence in correct order.

Pollution needs

**P:** otherwise our future generations

**Q:** to be tackled seriously

**R:** would suffer a lot

#### Options:

- 1) PRQ
- 2) QRP
- 3) RPQ
- 4) QPR

**Correct Answer:** QPR

**QID : 71** - In the following passage some of the words have been left out. Read the passage carefully and select the correct answer for the given blank out of the four alternatives.

The thoughts, behavior and tastes of fashion, music, television and other \_\_\_\_\_ of life of the masses are often seen having a \_\_\_\_\_ impact on the living of the society. We tend to get influenced by the lifestyles of our peer group. The changing ways of life of our peers often \_\_\_\_\_ us to change our ways of looking at life and leading it. It's a human tendency to do what the crowd does. Few have the courage to resist the peer pressure and be their own selves rather than being one among the lot. Peer pressure is bound to affect most of us, both, positively and \_\_\_\_\_. The distinction between positive and negative peer pressure lies in a thoughtful analysis of the views of the masses. Following your peers \_\_\_\_\_

leaves a negative impact on your life while an analytical approach of looking at peer behavior can act positively. Let us look at the positive and negative effects of peer pressure.

**television and other \_\_\_\_\_ of life**

**Options:**

- 1) walks
- 2) cakes
- 3) notion
- 4) ideas

**Correct Answer:** walks

**QID : 72** - In the following passage some of the words have been left out. Read the passage carefully and select the correct answer for the given blank out of the four alternatives.

The thoughts, behavior and tastes of fashion, music, television and other \_\_\_\_\_ of life of the masses are often seen having a \_\_\_\_\_ impact on the living of the society. We tend to get influenced by the lifestyles of our peer group. The changing ways of life of our peers often \_\_\_\_\_ us to change our ways of looking at life and leading it. It's a human tendency to do what the crowd does. Few have the courage to resist the peer pressure and be their own selves rather than being one among the lot. Peer pressure is bound to affect most of us, both, positively and \_\_\_\_\_. The distinction between positive and negative peer pressure lies in a thoughtful analysis of the views of the masses. Following your peers \_\_\_\_\_ leaves a negative impact on your life while an analytical approach of looking at peer behavior can act positively. Let us look at the positive and negative effects of peer pressure.

**a \_\_\_\_\_ impact on the living**

**Options:**

- 1) mere
- 2) deep
- 3) follow
- 4) slow

**Correct Answer:** deep

**QID : 73** - In the following passage some of the words have been left out. Read the passage carefully and select the correct answer for the given blank out of the four alternatives.

The thoughts, behavior and tastes of fashion, music, television and other \_\_\_\_\_ of life of the masses are often seen having a \_\_\_\_\_ impact on the living of the society. We tend to get influenced by the lifestyles of our peer group. The changing ways of life of our peers often \_\_\_\_\_ us to change our ways of looking at life and leading it. It's a human tendency to do what the crowd does. Few have the courage to resist the peer pressure and be their own selves rather than being one among the lot. Peer pressure is bound to affect most of us, both, positively and \_\_\_\_\_. The distinction between positive and negative peer pressure lies in a thoughtful analysis of the views of the masses. Following your peers \_\_\_\_\_ leaves a negative impact on your life while an analytical approach of looking at peer behavior can act positively. Let us look at the positive and negative effects of peer pressure.

**peers often \_\_\_\_\_ us to change**

**Options:**

- 1) reduce
- 2) converse
- 3) force
- 4) relates

**Correct Answer:** force

**QID : 74** - In the following passage some of the words have been left out. Read the passage carefully and select the correct answer for the given blank out of the four alternatives.

The thoughts, behavior and tastes of fashion, music, television and other \_\_\_\_\_ of life of the masses are often seen having a \_\_\_\_\_ impact on the living of the society. We tend to get influenced by the lifestyles of our peer group. The changing ways of life of our peers often \_\_\_\_\_ us to change our ways of looking at life and leading it. It's a human tendency to do what the crowd does. Few have the courage to resist the peer pressure and be their own selves rather than being one among the lot. Peer pressure is bound to affect most of us, both, positively and \_\_\_\_\_. The distinction between positive and negative peer pressure lies in a thoughtful analysis of the views of the masses. Following your peers \_\_\_\_\_ leaves a negative impact on your life while an analytical approach of looking at peer behavior can act positively. Let us look at the positive and negative effects of peer pressure.

**both, positively and \_\_\_\_\_.**

**Options:**

- 1) positively
- 2) neutral
- 3) indifferent
- 4) negatively

**Correct Answer:** negatively

**QID : 75** - In the following passage some of the words have been left out. Read the passage carefully and select the correct answer for the given blank out of the four alternatives.

The thoughts, behavior and tastes of fashion, music, television and other \_\_\_\_\_ of life of the masses are often seen having a \_\_\_\_\_ impact on the living of the society. We tend to get influenced by the lifestyles of our peer group. The changing ways of life of our peers often \_\_\_\_\_ us to change our ways of looking at life and leading it. It's a human tendency to do what the crowd does. Few have the courage to resist the peer pressure and be their own selves rather than being one among the lot. Peer pressure is bound to affect most of us, both, positively and \_\_\_\_\_. The distinction between positive and negative peer pressure lies in a thoughtful analysis of the views of the masses. Following your peers \_\_\_\_\_ leaves a negative impact on your life while an analytical approach of looking at peer behavior can act positively. Let us look at the positive and negative effects of peer pressure.

**Following your peers \_\_\_\_\_ leaves a**

**Options:**

- 1) blindly
- 2) effectively
- 3) rarely
- 4) surely

**Correct Answer:** blindly

**QID : 76** - What is the full form of GNP?

जीएनपी का पूरा रूप क्या है?

**Options:**

1) Great Net Product

ग्रेट नेट प्रोडक्ट

2) Gross National Product

ग्रौस नेशनल प्रोडक्ट

3) Great National Product

ग्रेट नेशनल प्रोडक्ट

4) Gross Net Product

ग्रौस नेट प्रोडक्ट

**Correct Answer:** Gross National Product

ग्रौस नेशनल प्रोडक्ट

ग्रौस नेट प्रोडक्ट

**QID : 77** - Development promises a real growth by enhancing \_\_\_\_\_ of a person.

एक व्यक्ति के \_\_\_\_\_ को बढ़ावा देकर विकास वास्तविक

वृद्धि का वचन देता है।

**Options:**

1) Total income

कुल आय

2) Standard of living

जीवन स्तर

3) Total income and standard of living boths

कुल आय तथा जीवन स्तर दोनों

4) Neither total income nor standard of living

न तो कुल आय न ही जीवन स्तर

**Correct Answer:** Total income and standard of living boths

कुल आय तथा जीवन स्तर दोनों

कुल आय

**QID : 78** - How many fundamental duties does part IV-A of Indian constitution specifies?

भारतीय संविधान का भाग IV-A कितने मौलिक कर्तव्य

निर्दिष्ट करता है?

**Options:**

1) 5

2) 7

3) 11

4) 31

**Correct Answer:** 11

**QID : 79** - In order to make a bill into a law it is required to pass through \_\_\_\_\_.

किसी विधेयक को कानून बनाने के लिए उसे \_\_\_\_\_ की मंजूरी

ज़रूरी है।

**Options:**

1) Only Lok Sabha

केवल लोक सभा

2) Only Rajya Sabha

केवल राज्य सभा

3) Both Lok and Rajya Sabha

लोक सभा तथा राज्य सभा दोनों

4) Either Lok Sabha or Rajya Sabha

या लोक सभा या राज्य सभा

**Correct Answer:** Both Lok and Rajya Sabha

लोक सभा तथा राज्य सभा दोनों

केवल लोक सभा

**QID : 80** - Which ancient city of Indus-Valley Civilization was famous for its dock yard?

सिंधु घाटी सभ्यता का कौन सा प्राचीन शहर अपने बन्दरगाह

के लिए प्रसिद्ध था?

**Options:**

1) Dholavira

धौलावीरा

2) Lothal

लोथल

3) Chanhudaro

चनहुदड़ो

4) Mohenjo-daro

मोहनजोदड़ो

**Correct Answer:** Lothal

लोथल

मोहनजोदड़ो

**QID : 81** - In which year did Mahatma Gandhi gave a call for a Satyagraha against the Rowlatt Act?

किस वर्ष में महात्मा गांधी ने रॉलेट अधिनियम के खिलाफ

सत्याग्रह का आवाहन किया था?

**Options:**

1) 1915

2) 1919

3) 1923

4) 1909

**Correct Answer:** 1919

**QID : 82** - Winter solstice occurs on which date of the year?

वर्ष के किस तिथि को शीत आयनांत होता है?

**Options:**

1) 21 March

21 मार्च

2) 23 September

23 सितम्बर

3) 21 June

21 जून

4) 22 December

22 दिसम्बर

**Correct Answer:** 22 December

22 दिसम्बर

23 सितम्बर

**QID : 83** - Which is the second largest continent of the world after Asia?

एशिया के बाद विश्व का दूसरा सबसे बड़ा महाद्वीप कौन सा है?

**Options:**

1) North America

उत्तरी अमेरिका

2) South America

दक्षिणी अमेरिका

3) Africa

अफ्रीका

4) Europe

यूरोप

**Correct Answer:** Africa

अफ्रीका

उत्तरी अमेरिका

**QID : 84** - What is small leaf like structures of a flower called?

पुष्प की छोटी पत्ति की तरह दिखने वाली भाग क्या कहलाती है?

**Options:**

1) Sepals

बाह्यदल

2) Petals

पंखुडियाँ

3) Pistil

स्त्रीकेसर

4) Stamens

पुंकेसर

**Correct Answer:** Sepals

बाह्यदल

पंखुडियाँ

**QID : 85** - The balance of CO<sub>2</sub> and O<sub>2</sub> in atmosphere is due to \_\_\_\_\_.

वायुमण्डल में कार्बन डाईऑक्साइड और ऑक्सीजन के संतुलन का कारण \_\_\_\_\_ है।

**Options:**

1) Transportation

परिवहन

2) Photosynthesis

प्रकाश संश्लेषण

3) Respiration

श्वसन

4) Evaporation

वाष्पीकरण

**Correct Answer:** Photosynthesis

प्रकाश संश्लेषण

वाष्पीकरण

**QID : 86** - Excretion means \_\_\_\_\_.

उत्सर्जन का अर्थ \_\_\_\_\_ है।

**Options:**

1) Removal of substances present in excess

अतिरिक्त मात्रा में मौजूद पदार्थों का निष्कासन

2) Formation of those substances that have some role in the body

ऐसे पदार्थों का निर्माण जोकि शरीर में कुछ भूमिका निभाते हैं

3) Removal of such substances that have never been part of the body

ऐसे पदार्थ का निष्कासन जो कभी शरीर का भाग नहीं रहा है

4) All options are correct

सभी विकल्प सही हैं

**Correct Answer:** Removal of substances present in excess

अतिरिक्त मात्रा में मौजूद पदार्थों का निष्कासन

सभी विकल्प सही हैं

**QID : 87** - Which is the correct order of decreasing friction?

घर्षण घटने का सही क्रम कौन सा है?

**Options:**

1) Static friction > Sliding friction > Rolling friction

स्थैतिक घर्षण > सर्पी घर्षण > लोटनिक घर्षण

2) Static friction > Rolling friction > Sliding friction

स्थैतिक घर्षण > लोटनिक घर्षण > सर्पी घर्षण

3) Rolling friction > Sliding friction > Static friction

लोटनिक घर्षण > सर्पी घर्षण > स्थैतिक घर्षण

4) Sliding friction > Rolling friction > Static friction

सर्पी घर्षण > लोटनिक घर्षण > स्थैतिक घर्षण

**Correct Answer:** Static friction > Sliding friction > Rolling friction

स्थैतिक घर्षण > सर्पी घर्षण > लोटनिक घर्षण

स्थैतिक घर्षण > लोटनिक घर्षण > सर्पी घर्षण

**QID : 88** - A steam engine converts the heat energy of steam into \_\_\_\_\_.

एक भाप इंजन भाप की ऊष्मा ऊर्जा को \_\_\_\_\_ में बदलता है।

**Options:**

1) Electrical energy

विद्युत ऊर्जा

2) Chemical energy

रासायनिक ऊर्जा

3) Mechanical energy

यांत्रिक ऊर्जा

4) Thermal energy

तापिय ऊर्जा

**Correct Answer:** Mechanical energy

यांत्रिक ऊर्जा

विद्युत ऊर्जा

**QID : 89** - What is the full form of ASCII?

ए. एस. सी. आई. आई. का असंक्षिप्त रूप क्या है?

**Options:**

1) American Standard Code for Internet Interchange

अमेरिकन स्टैंडर्ड कोड फॉर इंटरनेट इंटरचेंज

2) American Standard Code for Information Interchange

अमेरिकन स्टैंडर्ड कोड फॉर इनफार्मेशन इंटरचेंज

3) American Standard Code for Information International  
अमेरिकन स्टैंडर्ड कोड फॉर इनफार्मेशन इंटरनेशनल

4) American Standard Code for Internet International  
अमेरिकन स्टैंडर्ड कोड फॉर इंटरनेट इंटरनेशनल

**Correct Answer:** American Standard Code for Information Interchange

अमेरिकन स्टैंडर्ड कोड फॉर इनफार्मेशन इंटरचेंज

अमेरिकन स्टैंडर्ड कोड फॉर इंटरनेट इंटरनेशनल

**QID : 90** - Metallurgy is the process of \_\_\_\_\_.  
धातुकर्म एक \_\_\_\_\_ प्रक्रिया है।

**Options:**

1) Extracting metals from the Ore

अयस्क से धातुओं के निष्कर्षण की

2) Roasting the Ore

अयस्क के भर्जन की

3) Liquefaction of metals

धातु का तरलीकरण की

4) Adding metal to the Ore in blast furnace

ब्लास्ट फर्नेस में मौजूद अयस्क में धातु मिलाने की

**Correct Answer:** Extracting metals from the Ore

अयस्क से धातुओं के निष्कर्षण की

ब्लास्ट फर्नेस में मौजूद अयस्क में धातु मिलाने की

**QID : 91** - Metals have \_\_\_\_\_.

धातुओं का \_\_\_\_\_।

**Options:**

1) High melting and boiling point

गलनांक और क्वथनांक उच्च होता है

2) Low melting and boiling point

गलनांक और क्वथनांक निम्न होता है

3) High melting and low boiling point

गलनांक उच्च और क्वथनांक निम्न होता है

4) Low melting and high boiling point

गलनांक निम्न और क्वथनांक उच्च होता है

**Correct Answer:** High melting and boiling point

गलनांक और क्वथनांक उच्च होता है

गलनांक और क्वथनांक उच्च होता है

**QID : 92** - What is the water which is suitable for drinking called?

पीने के लिए उपयुक्त जल को क्या कहते हैं?

**Options:**

1) Potable water

पेय जल

2) Portable water

वहनीय जल

3) Pure water

शुद्ध जल

4) Sterile water

जीवाणुरहित जल

**Correct Answer:** Potable water

पेय जल

जीवाणुरहित जल

**QID : 93** - Which among the following considered to be the financial turn around and rival package for electricity distribution companies of India?

निम्नलिखित में से किसे भारत के बिजली वितरण कंपनियों के लिए वित्तीय बारी और प्रतिद्वंद्वी पैकेज के रूप में माना जाता है?

**Options:**

1) VAT

वेट

2) UDAAN

उड़ान

3) UDAY

उदय

4) UJALA

उजाला

**Correct Answer:** UDAY

उदय

वेट

**QID : 94** - Who invented the first modern electrical air conditioning unit?

प्रथम आधुनिक विद्युत वातानुकूलक इकाई का आविष्कारक कौन है?

**Options:**

1) Karl Benz

कार्ल बेंज

2) Robert W. Wilson

रॉबर्ट डब्ल्यू. विल्सन

3) Willis Carrier

विलिस कैरियर

4) Charles M. Hall

चार्ल्स एम. हॉल

**Correct Answer:** Willis Carrier

विलिस कैरियर

चार्ल्स एम. हॉल

**QID : 95** - Which country will host the 2018 FIFA Football World Cup?

कौन सा देश 2018 फीफा फुटबॉल वर्ल्ड कप की मेजबानी करेगा?

**Options:**

1) Brazil

ब्राजील

2) Russia

रूस

3) Germany

जर्मनी

4) England

इंग्लैंड

**Correct Answer:** Russia

रूस  
जर्मनी

**QID : 96** - Alpana is a traditional folk art of which state?  
अल्पना किस राज्य की पारंपरिक लोक कला है?

**Options:**

- 1) Maharashtra  
महाराष्ट्र
- 2) West Bengal  
पश्चिम बंगाल
- 3) Karnataka  
कर्नाटक
- 4) Rajasthan  
राजस्थान

**Correct Answer:** West Bengal  
पश्चिम बंगाल  
कर्नाटक

**QID : 97** - Which former Union Minister has been awarded with the Japan's imperial decoration 'Order of the Rising Sun' award?  
किस पूर्व केंद्रीय मंत्री को जापान के शाही सजावट 'ऑर्डर ऑफ द राइजिंग सन' पुरस्कार से सम्मानित किया गया है?

**Options:**

- 1) Ashwani Kumar  
अश्विनी कुमार
- 2) Manmohan Singh  
मनमोहन सिंह
- 3) L. K. Advani  
एल. के. आडवाणी
- 4) Sharad Yadav  
शरद यादव

**Correct Answer:** Ashwani Kumar  
अश्विनी कुमार  
मनमोहन सिंह

**QID : 98** - Who is the author of book named "Alice in the Wonderland"?  
"एलिस इन द वॉन्डरलैण्ड" नामक पुस्तक के लेखक कौन हैं?

**Options:**

- 1) William Shakespeare  
विलियम शेक्सपीयर
- 2) Paul Kennedy  
पॉल कैनेडी
- 3) Lewis Carrol  
लुइस कैरोल
- 4) George Orwell  
जॉर्ज ऑर्वेल

**Correct Answer:** Lewis Carrol  
लुइस कैरोल  
जॉर्ज ऑर्वेल

**QID : 99** - What is the group of rural women solar engineers from African countries trained under India's

developmental support for harnessing solar energy called?

सौर ऊर्जा को उपयोग में लाने के लिए भारत के विकासकारी सहयोग के अंतर्गत प्रशिक्षित अफ्रीकी देशों से ग्रामीण महिला और इंजीनियरों के समूह को क्या कहते हैं?

**Options:**

- 1) Solar Sangathan  
सौर संगठन
- 2) Solar Samiti  
सौर समिति
- 3) Solar Mamas  
सौर ममास
- 4) Solar System  
सौर प्रणाली

**Correct Answer:** Solar Mamas  
सौर ममास  
सौर संगठन

**QID : 100** - The 250 km Tamu-Kalewa-Kalemmyo highway is a gift to Myanmar is built by \_\_\_\_\_.  
250 कि.मी. का तामु-कलेवा-कलेम्यो हाईवे म्यांमार को एक उपहार है, जो \_\_\_\_\_ द्वारा निर्मित है।

**Options:**

- 1) National Highway Authority of India  
नेशनल हाईवे अथॉरिटी ऑफ इंडिया
- 2) Military of Myanmar  
म्यांमार की सेना
- 3) Border Roads Organisation  
बॉर्डर रोड आर्गनाइजेशन
- 4) None of these  
इनमें से कोई नहीं

**Correct Answer:** Border Roads Organisation  
बॉर्डर रोड आर्गनाइजेशन  
बॉर्डर रोड आर्गनाइजेशन