



**REGISTRATION NUMBER : 2201107906**

**CANDIDATES NAME: MOCKTIME.COM**

**EXAM NAME : SSC CHSL**

**EXAM DURATION : 01:00 Hrs**

**TOTAL MARKS : 200**

**TOTAL NO OF QUESTIONS : 100**

**QID : 101 -**

In the following question, select the number which can be placed at the sign of question mark (?) from the given alternatives.

निम्नलिखित प्रश्न में दिए गए विकल्पों में से प्रश्न चिह्न (?) के स्थान पर आने वाली संख्या को चुनिए।

2	4	8
6	3	3
1	5	7
11	14	?

**Options:**

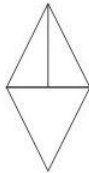
- 1) 18
- 2) 20
- 3) 19
- 4) 24

**Correct Answer: 20**

**QID : 102 -**

How many triangles are there in the given figure?

दी गई आकृति में कितने त्रिभुज हैं?



**Options:**

- 1) 3
- 2) 4
- 3) 6
- 4) 8

**Correct Answer: 4**

**QID : 103 -**

A word is represented by only one set of numbers as given in any one of the alternatives. The sets of numbers given in the alternatives are represented by two classes of alphabets as shown in the given two matrices. The columns and rows of **Matrix-I** are numbered from 0 to 4 and that of **Matrix-II** are numbered from 5 to 9. A letter from these matrices can be represented first by its row and next by its column, for example, 'M' can be represented by 32, 78, etc., and 'P' can be represented by 11, 67, etc. Similarly, you have to identify the set for the word "SUIT".

एक शब्द केवल एक संख्या-समूह द्वारा दर्शाया गया है, जैसा कि विकल्पों में से किसी एक में दिया गया है। विकल्पों में दिए गए संख्या-समूह अक्षरों के दो वर्गों द्वारा दर्शाए गए हैं, जैसा कि दिए गए दो आव्यूहों में है। आव्यूह-I के स्तम्भ और पंक्ति की संख्या 0 से 4 है और आव्यूह-II की 5 से 9। इन आव्यूहों से एक अक्षर को पहले उसकी पंक्ति और बाद में स्तम्भ संख्या द्वारा दर्शाया जा सकता है। उदाहरण के लिए 'M' को 32, 78, आदि द्वारा दर्शाया जा सकता है तथा 'P' को 11, 67, आदि द्वारा दर्शाया जा सकता है। इसी तरह से आपको प्रश्न में दिए शब्द "SUIT" के लिए समूह को पहचानना है।

**Matrix-I**  
**आव्यूह-I**

	0	1	2	3	4
0	D	F	H	J	L
1	N	P	R	T	V
2	X	Z	B	E	C
3	I	K	M	O	Q
4	S	U	W	X	A

**Matrix-II**  
**आव्यूह-II**

	5	6	7	8	9
5	L	N	G	I	A
6	J	C	P	K	Y
7	H	R	B	M	W
8	F	T	Z	O	U
9	E	V	X	Q	S

**Options:**

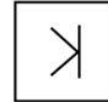
- 1) 40, 89, 31, 12
- 2) 99, 41, 30, 86
- 3) 40, 89, 58, 85
- 4) 99, 41, 56, 88

**Correct Answer: 99, 41, 30, 86**

**QID : 104 -**

From the given answer figures, select the one in which the question figure is hidden/embedded.

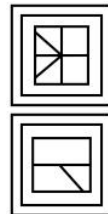
दी गई उत्तर आकृतियों में से उस उत्तर आकृति को चुनिए जिस में प्रश्न आकृति निहित है।



**Options:**

- 1)
- 2)
- 3)
- 4)

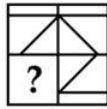
**Correct Answer:**



**QID : 105 -**

Which answer figure will complete the pattern in the question figure?


कौन सी उत्तर आकृति प्रश्न आकृति के प्रतिरूप को पूरा करेगी?



**Options:**

- 1)
- 2)
- 3)
- 4)

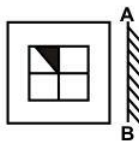
**Correct Answer:**



**QID : 106 -**

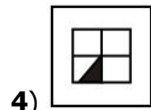
If a mirror is placed on the line AB, then which of the answer figures is the right image of the given figure?

यदि एक दर्पण को AB रेखा पर रखा जाए, तो दी गई उत्तर आकृतियों में से कौन सी आकृति प्रश्न आकृति की सही प्रतिबिम्ब होगी?

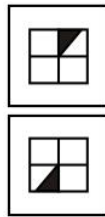


**Options:**

- 1)
- 2)
- 3)



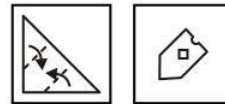
**4) Correct Answer:**



**QID : 107 -**

A piece of paper is folded and punched as shown below in the question figures. From the given answer figures, indicate how it will appear when opened?

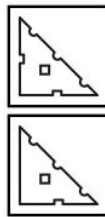
नीचे के प्रश्न आकृतियों में दिखाए अनुसार कागज को मोड़कर छेदने तथा खोलने के बाद वह किस उत्तर आकृति जैसा दिखाई देगा?



**Options:**

- 1)
- 2)
- 3)
- 4)

**Correct Answer:**



**QID : 108 -** By interchanging which two signs the equation will be correct?

$$7 + 3 \div 21 \times 11 = 12$$

किन दो चिहनों को आपस में बदलने पर समीकरण सही हो जाएगा?

$$7 + 3 \div 21 \times 11 = 12$$

**Options:**

- 1) x and ÷  
x तथा ÷
- 2) ÷ and +  
÷ तथा +

3) + and x  
+ तथा x

4) ÷ and =  
÷ तथा =

**Correct Answer:** + and x

+ तथा x

÷ तथा =

**QID : 109** - If  $9 \_ 5 \_ 2 = 94$  and  $8 \_ 6 \_ 1 = 52$ ,  
then  $9 \_ 4 \_ 3 = ?$

यदि  $9 \_ 5 \_ 2 = 94$  तथा  $8 \_ 6 \_ 1 = 52$  हो, तो  $9 \_ 4 \_ 3 = ?$

**Options:**

1) 112

2) 54

3) 144

4) 118

**Correct Answer:** 112

**QID : 110** - Arrange the given words in the sequence in which they occur in the dictionary.

1. Liquid

2. Liquor

3. Land

4. Lasted

5. Label

निम्नलिखित शब्दों को शब्दकोश में आने वाले क्रम के अनुसार लिखें।

1. Liquid

2. Liquor

3. Land

4. Lasted

5. Label

**Options:**

1) 43512

2) 34512

3) 54312

4) 53412

**Correct Answer:** 53412

**QID : 111** - In the following question, select the missing number from the given alternatives.

3, 5, 9, 17, 33, ?

निम्नलिखित प्रश्न में दिए गए विकल्पों में से लुप्त अंक ज्ञात कीजिए।

3, 5, 9, 17, 33, ?

**Options:**

1) 65

2) 64

3) 67

4) 66

**Correct Answer:** 65

**QID : 112** - A series is given with one term missing. Select the correct alternative from the given ones that will complete the series.

W, S, O, K, G, ?

एक अनुक्रम दिया गया है, जिसमें से एक पद लुप्त है। दिए गए विकल्पों में से वह सही विकल्प चुनिए, जो अनुक्रम को पूरा करे।

W, S, O, K, G, ?

**Options:**

1) B

2) C

3) D

4) E

**Correct Answer:** C

**QID : 113** - In the following question, select the odd word pair from the given alternatives.

निम्नलिखित प्रश्न में दिए गए विकल्पों में से विषम शब्द युग्म को चुनिए।

**Options:**

1) Ginger : Root

अदरक : जड़

2) Tomato : Fruit

टमाटर : फल

3) Potato : Root

आलू : जड़

4) Carrot : Fruit

गाजर : फल

**Correct Answer:** Carrot : Fruit

गाजर : फल

टमाटर : फल

**QID : 114** - In the following question, select the odd number pair from the given alternatives.

निम्नलिखित प्रश्न में दिए गए विकल्पों में से विषम संख्या युग्म को चुनिए।

**Options:**

1) 7 - 38

2) 3 - 34

3) 18 - 47

4) 22 - 53

**Correct Answer:** 18 - 47

**QID : 115** - In the following question, select the odd letters from the given alternatives.

निम्नलिखित प्रश्न में दिए गए विकल्पों में से विषम अक्षरों को चुनिए।

**Options:**

1) CD

2) KM

3) PQ

4) WX

**Correct Answer:** KM

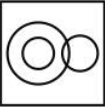


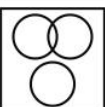
**QID : 116** - Identify the diagram that best represents the relationship among the given classes.

**Metal, Aluminium, Oxygen**


वह आरेख चुनिए जो नीचे दिए गए वर्गों के बीच के संबंध का सही निरूपण करता है।

धातु, अल्युमिनियम, ऑक्सीजन

**Options:**

- 1) 
- 2) 
- 3) 
- 4) 

**Correct Answer:**



**QID : 117** - In the following question, select the related word from the given alternatives.

**Good : Bad :: Come : ?**

निम्नलिखित प्रश्न में दिए गए विकल्पों में से संबंधित शब्द को चुनिए।

**अच्छा : बुरा :: आना : ?**

**Options:**

- 1) Go  
जाना
- 2) Complete  
पूरा करना
- 3) Left  
बायाँ
- 4) None of these  
इनमें से कोई नहीं

**Correct Answer:** Go

जाना

जाना

**QID : 118** - In the following question, select the related number from the given alternatives.

**72 : 25 :: 63 : ?**

निम्नलिखित प्रश्न में दिए गए विकल्पों में से संबंधित संख्या को चुनिए।

**72 : 25 :: 63 : ?**

**Options:**

- 1) 9
- 2) 16
- 3) 18
- 4) 25

**Correct Answer:** 9

**QID : 119** - In the following question, select the related letters from the given alternatives.

**PNG : QPJ :: ZEN : ?**

निम्नलिखित प्रश्न में दिए गए विकल्पों में से संबंधित अक्षरों को चुनिए।

**PNG : QPJ :: ZEN : ?**

**Options:**

- 1) BGR
- 2) AGQ
- 3) AHR
- 4) BHR

**Correct Answer:** AGQ

**QID : 120** - In the following question, select the word which cannot be formed using the letters of the given word.

**HASTINGS**

निम्नलिखित विकल्पों में से वह शब्द चुनिए जो दिए गए शब्द के अक्षरों का प्रयोग करके नहीं बनाया जा सकता।

**HASTINGS**

**Options:**

- 1) HATS
- 2) GIST
- 3) STING
- 4) STARS

**Correct Answer:** STARS

**QID : 121** - A is 4 times as heavy as B. B is half the weight of C. C is 2.5 times as heavy as D. D is one fourth the weight of E. Who is the heaviest?

A, B से 4 गुना भारी है। B, C के भार का आधा है। C, D से 2.5 गुना भारी है। D, E के भार का एक चौथाई है। सबसे भारी कौन है?

**Options:**

- 1) A
- 2) C
- 3) B
- 4) A or E

A अथवा E

**Correct Answer:** A

**QID : 122** - The ratio of present ages of Vimal and Shyam is 3 : 2. 6 years ago Vimal was 18 years old.

What will be the age (in years) of Shyam after 7 years?

विमल तथा श्याम की वर्तमान आयु का अनुपात 3 : 2 है। 6 वर्ष पूर्व विमल की आयु 18 वर्ष थी। 7 वर्ष बाद श्याम की आयु (वर्षों में) क्या होगी?

**Options:**

- 1) 29
- 2) 23
- 3) 22
- 4) 16

**Correct Answer:** 23

**QID : 123** - In the following question below are given some statements followed by some conclusions. Taking the given statements to be true even if they seem to be at variance from commonly known facts, read all the conclusions and then decide which of the given conclusion logically follows the given statements.

**Statements:**

I. All chairs are tables.

II. Some tables are pens.

**Conclusions:**

I. Some chairs are tables.

II. Some pens are chairs.

नीचे दिए गए प्रश्न में कुछ कथन और उनके बाद उन कथनों पर आधारित कुछ निष्कर्ष दिए गए हैं, हालांकि उनमें सामान्य ज्ञात तथ्यों से भिन्नता हो सकती है। सभी निष्कर्ष पढ़ें और फिर निर्धारित करें कि दिए गए कौन से निष्कर्ष, दिए गए कथनों के आधार पर युक्तिसंगत हैं।

**कथन:**

I. सभी कुर्सियाँ मेज़ हैं।

II. कुछ मेज़ कलम हैं।

**निष्कर्ष:**

I. कुछ कुर्सियाँ मेज़ हैं।

II. कुछ कलम कुर्सियाँ हैं।

**Options:**

1) Only conclusion (I) follows.

केवल निष्कर्ष (I) सही है।

2) Only conclusion (II) follows.

केवल निष्कर्ष (II) सही है।

3) Both conclusion follow.

दोनों ही निष्कर्ष सही हैं।

4) Neither conclusion (I) nor conclusion (II) follows.

न तो निष्कर्ष (I) न ही निष्कर्ष (II) सही है।

**Correct Answer:** Only conclusion (I) follows.

केवल निष्कर्ष (I) सही है।

केवल निष्कर्ष (II) सही है।

**QID : 124** - In a certain code language, "CORD" is written as "FRUG". How is "LESS" written in that code language?

एक विशिष्ट कोड भाषा में, "CORD" को "FRUG" लिखा जाता है। इस कोड भाषा में "LESS" को किस प्रकार लिखा जाएगा?

**Options:**

1) OHVV

2) OHWW

3) OIVV

4) OHVW

**Correct Answer:** OHVV

**QID : 125** - In a certain code language, "NAIL" is written as "1521013" and "GAME" is written as "82146". How is "SALE" written in that code language?

एक विशिष्ट कोड भाषा में, "NAIL" को "1521013" तथा "GAME" को "82146" लिखा जाता है। इस कोड भाषा में "SALE" को किस प्रकार लिखा जाएगा?

**Options:**

1) 202136

2) 201136

3) 201135

4) 192136

**Correct Answer:** 202136

**QID : 126** - What is the unit digit of product  $5^8 \times 3^7$ ?

$5^8 \times 3^7$  के गुणनखंड के इकाई का अंक क्या है?

**Options:**

1) 4

2) 1

3) 5

4) 3

**Correct Answer:** 5

**QID : 127** - Which of the following statement is true?

I.  $4^{400} > 5^{300}$

II.  $5^{300} > 12^{200}$

निम्नलिखित में से कौन सा कथन सत्य है?

I.  $4^{400} > 5^{300}$

II.  $5^{300} > 12^{200}$

**Options:**

1) Only I

केवल I

2) Only II

केवल II

3) Both I and II

I तथा II दोनों

4) Neither I nor II

न तो I न ही II

**Correct Answer:** Only I

केवल I

केवल I

**QID : 128** - What is the value of  $199 \times 201$ ?

$199 \times 201$  का मान क्या है?

**Options:**

1) 40001

2) 39998

3) 39999

4) 40003

**Correct Answer:** 39999

**QID : 129** - How many zeroes are there at the end in product  $2^{13} \times 5^{10}$ ?

$2^{13} \times 5^{10}$  के गुणनखंड के अंत में कितने शून्य हैं?

**Options:**

1) 13

2) 10

3) 23

4) 33

**Correct Answer:** 10

**QID : 130** - The difference of squares of two consecutive odd numbers is 104. What is their sum? दो क्रमागत विषम संख्याओं के वर्गों का अंतर 104 है। उनका योग कितना है?

**Options:**

1) 27

2) 48

3) 52

4) 54

**Correct Answer:** 52

**QID : 131** -

What is the value of  $\sqrt{36+\sqrt{81+\sqrt{16}}}$  ?

$\sqrt{36+\sqrt{81+\sqrt{16}}}$  का मान क्या है?

**Options:**

- 1) 8
- 2) 9
- 3) 6
- 4) 7

**Correct Answer:** 7

**QID : 132** - L can do a piece of work in 72 days. If M is 50% more efficient than L, then in how many days can M do the same work?

L किसी कार्य को 72 दिनों में कर सकता है। यदि M की कार्य क्षमता L से 50% अधिक है, तो उसी कार्य को M कितने दिन में करेगा?

**Options:**

- 1) 36
- 2) 48
- 3) 24
- 4) 42

**Correct Answer:** 48

**QID : 133** - P is twice as efficient as Q and together they finish a piece of work in 12 days. How many days will P take to complete the work alone?

P की कार्य कुशलता Q से दुगुनी है तथा वे दोनों मिलकर किसी कार्य को 12 दिन में पूरा कर सकते हैं। P अकेला उस कार्य को पूरा करने में कितने दिन लेगा?

**Options:**

- 1) 18
- 2) 24
- 3) 36
- 4) 32

**Correct Answer:** 18

**QID : 134** - The lengths of two diagonals of a rhombus are 12 cm and 20 cm. What is the area (in  $\text{cm}^2$ ) of the rhombus?

एक समचतुर्भुज के दो विकर्णों की लम्बाई 12 से.मी. तथा 20 से.मी. है। समचतुर्भुज का क्षेत्रफल (से.मी.<sup>2</sup> में) क्या है?

**Options:**

- 1) 60
- 2) 120
- 3) 180
- 4) 240

**Correct Answer:** 120

**QID : 135** - The marked price of a chair is Rs 720 and a discount of 30% is given. What is the selling price (in Rs)?

एक कुर्सी का अंकित मूल्य 720 रु है तथा उस पर 30% की छूट दी जाती है। विक्रय मूल्य (रु में) क्या है?

**Options:**

- 1) 504
- 2) 440
- 3) 540
- 4) 580

**Correct Answer:** 504

**QID : 136** - The marked price of an article is Rs 700. A shopkeeper gives a discount of 20% and still makes a profit of 40%. What is the cost price (in Rs) of the article?

एक वस्तु का अंकित मूल्य 700 रु है। दुकानदार 20% की छूट देता है तथा फिर भी वह 40% का लाभ कमाता है। वस्तु का क्रय मूल्य (रु में) क्या है?

**Options:**

- 1) 400
- 2) 450
- 3) 300
- 4) 350

**Correct Answer:** 400

**QID : 137** - If  $A : B = 1 : 6$  and  $B : C = 2 : 5$ , then what is  $A : B : C$ ?

यदि  $A : B = 1 : 6$  और  $B : C = 2 : 5$  हो, तो  $A : B : C$  क्या होगा?

**Options:**

- 1) 1 : 6 : 15
- 2) 2 : 3 : 5
- 3) 1 : 6 : 5
- 4) 1 : 5 : 6

**Correct Answer:** 1 : 6 : 15

**QID : 138** - Two numbers are in ratio 7 : 11. If their difference is 48, then which number is smallest of the two number?

दो संख्याओं का अनुपात 7 : 11 है। यदि उनका अंतर 48 है, तो दोनों में से छोटी संख्या कौन सी है?

**Options:**

- 1) 60
- 2) 72
- 3) 84
- 4) 96

**Correct Answer:** 84

**QID : 139** - The average of 10 numbers is 21. If one number is excluded, the average becomes 23. What is the excluded number?

10 संख्याओं का औसत 21 है। यदि एक संख्या को हटा दिया जाए, तो औसत 23 हो जाता है। हटाई गई संख्या क्या है?

**Options:**

- 1) 3
- 2) 5
- 3) 7
- 4) 11

**Correct Answer:** 3

**QID : 140** - By selling an article for Rs 1050, a shopkeeper gains 50%. To gain 20% what should be the selling price (in Rs)?

एक वस्तु को 1050 रु में बेचने पर एक दुकानदार को 50% लाभ होता है। 20% लाभ कमाने के लिए विक्रय मूल्य (रु में) क्या होना चाहिए?

**Options:**

- 1) 780

- 2) 840  
3) 920  
4) 680

**Correct Answer:** 840

**QID : 141** - If the rice is sold at Rs 72 per kg, there would be a 10% loss. To earn a profit of 30% what should be the price of rice (per kg)?

यदि चावल को 72 रु प्रति कि.ग्रा. की दर से बेचा जाता है, तो 10% की हानि होगी। 30% का लाभ प्राप्त करने के लिए चावल की कीमत (प्रति कि.ग्रा.) कितनी होनी चाहिए?

**Options:**

- 1) 72  
2) 90  
3) 104  
4) 110

**Correct Answer:** 104

**QID : 142** - If one-third of a number is 120, then what will be the 55% of that number?

किसी संख्या का एक-तिहाई 120 है, तो उस संख्या का 55% क्या होगा?

**Options:**

- 1) 192  
2) 198  
3) 171  
4) 206

**Correct Answer:** 198

**QID : 143** - A number is first decreased by 20% and then increased by 20%. If the number so obtained is 48 less than the original number, then what is the value of the original number?

एक संख्या को पहले 20% घटाया जाता है और फिर 20% बढ़ा दिया बढ़ा दिया जाता है। यदि प्राप्त संख्या वास्तविक संख्या से 48 कम है, तो वास्तविक संख्या क्या होगी?

**Options:**

- 1) 1200  
2) 1320  
3) 800  
4) 1440

**Correct Answer:** 1200

**QID : 144** - Speeds of a boat along the current and against the current are 11 km/hr and 6 km/hr respectively. What is the speed of boat (in km/hr) in still water?

एक नाव की गति धारा के अनुकूल तथा धारा के प्रतिकूल दिशा में क्रमशः 11 कि.मी./घंटा तथा 6 कि.मी./घंटा है। शांत जल में नाव की गति (कि.मी./घंटा में) क्या है?

**Options:**

- 1) 2.5  
2) 7.5  
3) 6.5  
4) 8.5

**Correct Answer:** 8.5

**QID : 145** - A man travels some distance at a speed of 15 km/hr and he returns at a speed of 6 km/hr. If the

total time taken by the man is 14 hours, then what is the distance (in km)?

एक व्यक्ति 15 कि.मी./घंटा की गति से कुछ दूरी तय करता है तथा वह 6 कि.मी./घंटा की गति से वापस आता है। यदि उस व्यक्ति को इसे तय करने में कुल 14 घंटे का समय लगता है, तो दूरी (कि.मी. में) क्या होगी?

**Options:**

- 1) 48  
2) 60  
3) 45  
4) 56

**Correct Answer:** 60

**QID : 146** - An amount becomes 3 times in 4 years when kept in a scheme of simple interest. In how many years will it become 21 times?

एक धनराशि साधारण ब्याज वाली योजना में निवेश करने पर 4 वर्ष में 3 गुना हो जाती है। वह 21 गुना कितने वर्षों में हो जाएगी?

**Options:**

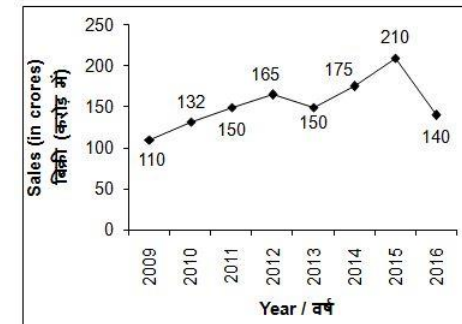
- 1) 20  
2) 36  
3) 40  
4) 30

**Correct Answer:** 40

**QID : 147** -

The line chart given below shows the sales (in crores) of a company for the years 2009 to 2016.

नीचे दिए गए रेखा चित्र में वर्ष 2009 से 2016 तक एक कंपनी की बिक्री (करोड़ में) को दर्शाया गया है।



What is the percentage change in the sales the company from 2014 to 2016?

वर्ष 2014 से 2016 तक कंपनी की बिक्री में कितने प्रतिशत का परिवर्तन हुआ है?

**Options:**

- 1) 20% increase  
20% वृद्धि  
2) 22% decrease  
22% कमी  
3) 25% decrease  
25% कमी  
4) 20% decrease  
20% कमी

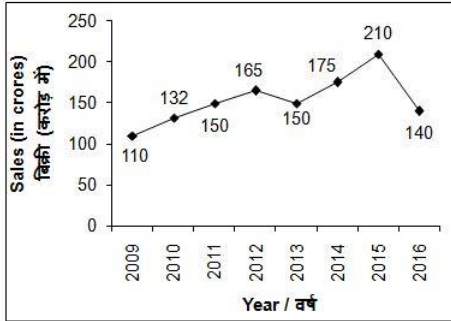
**Correct Answer:** 20% decrease  
20% कमी

25% कमी

**QID : 148 -**

The line chart given below shows the sales (in crores) of a company for the years 2009 to 2016.

नीचे दिए गए रेखा चित्र में वर्ष 2009 से 2016 तक एक कंपनी की बिक्री (करोड़ में) को दर्शाया गया है।



In how many years was the sale of the company more than the sale in 2011?

कितने वर्षों में कंपनी की बिक्री वर्ष 2011 में हुई बिक्री से अधिक थी?

**Options:**

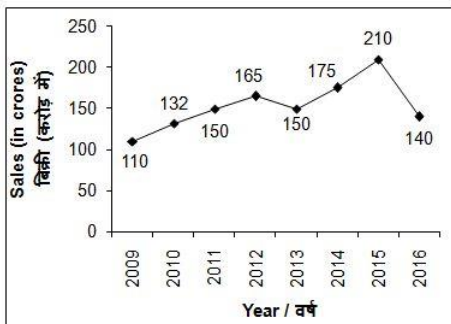
- 1) 4
- 2) 3
- 3) 5
- 4) 2

**Correct Answer: 3**

**QID : 149 -**

The line chart given below shows the sales (in crores) of a company for the years 2009 to 2016.

नीचे दिए गए रेखा चित्र में वर्ष 2009 से 2016 तक एक कंपनी की बिक्री (करोड़ में) को दर्शाया गया है।



What is the average sale of the company from year 2009 to 2015?

वर्ष 2009 से 2015 तक कंपनी की औसत बिक्री क्या है?

**Options:**

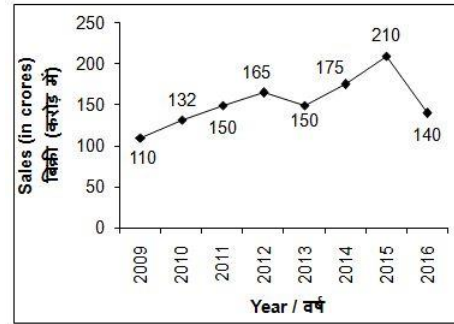
- 1) 157
- 2) 156
- 3) 165
- 4) 158

**Correct Answer: 156**

**QID : 150 -**

The line chart given below shows the sales (in crores) of a company for the years 2009 to 2016.

नीचे दिए गए रेखा चित्र में वर्ष 2009 से 2016 तक एक कंपनी की बिक्री (करोड़ में) को दर्शाया गया है।



In how many years, the sale of the company was a multiple of 10 crores?

कितने वर्षों के लिए कंपनी की बिक्री 10 करोड़ का गुणज थी?

**Options:**

- 1) 6
- 2) 4
- 3) 3
- 4) 5

**Correct Answer: 5**

**QID : 151 -** In the following question, some part of the sentence may have errors. Find out which part of the sentence has an error and select the appropriate option. If a sentence is free from error, select 'No Error'.

Santosh has (1)/ acted enough badly to (2)/ deserve a praise. (3)/ No Error (4)

**Options:**

- 1) 1
- 2) 2
- 3) 3
- 4) 4

**Correct Answer: 2**

**QID : 152 -** In the following question, some part of the sentence may have errors. Find out which part of the sentence has an error and select the appropriate option. If a sentence is free from error, select 'No Error'.

No sooner they entered (1)/ than she got up (2)/ and left the room. (3)/ No Error (4)

**Options:**

- 1) 1
- 2) 2
- 3) 3
- 4) 4

**Correct Answer: 1**

**QID : 153 -** In the following question, the sentence given with blank to be filled in with an appropriate word. Select the correct alternative out of the four and indicate it by selecting the appropriate option.

This work is \_\_\_\_\_ my dignity.

**Options:**

- 1) below
- 2) under
- 3) excel
- 4) upon

**Correct Answer: below**



**QID : 154** - In the following question, the sentence given with blank to be filled in with an appropriate word. Select the correct alternative out of the four and indicate it by selecting the appropriate option.

**She travelled \_\_\_\_\_ the night.**

**Options:**

- 1) before
- 2) during
- 3) On
- 4) with

**Correct Answer:** during

**QID : 155** - In the following question, out of the given four alternatives, select the one which best expresses the meaning of the given word.

**Confess**

**Options:**

- 1) Conceal
- 2) Admit
- 3) Hide
- 4) Mask

**Correct Answer:** Admit

**QID : 156** - In the following question, out of the given four alternatives, select the one which best expresses the meaning of the given word.

**Convict**

**Options:**

- 1) Casualty
- 2) Victim
- 3) Innocent
- 4) Culprit

**Correct Answer:** Culprit

**QID : 157** - In the following question, out of the given four alternatives, select the one which best expresses the meaning of the given word.

**Creep**

**Options:**

- 1) Tiptoe
- 2) Public
- 3) Frank
- 4) Open

**Correct Answer:** Tiptoe

**QID : 158** - In the following question, out of the given four alternatives, select the one which is opposite in meaning of the given word.

**Authenticated**

**Options:**

- 1) Authorized
- 2) Disprove
- 3) Confirmed
- 4) Verified

**Correct Answer:** Disprove

**QID : 159** - In the following question, out of the given four alternatives, select the one which is opposite in meaning of the given word.

**Unfair**

**Options:**

- 1) Prejudice

2) Dishonest

3) Crooked

4) Just

**Correct Answer:** Just

**QID : 160** - In the following question, out of the given four alternatives, select the one which is opposite in meaning of the given word.

**Critical**

**Options:**

- 1) Analytical
- 2) Complimentary
- 3) Sharp
- 4) Acute

**Correct Answer:** Complimentary

**QID : 161** - In the following question, out of the four given alternatives, select the alternative which best expresses the meaning of the Idiom/Phrase.

**Make a fool of oneself**

**Options:**

- 1) To be stupid
- 2) Greedy
- 3) Puzzled
- 4) Annoyed

**Correct Answer:** To be stupid

**QID : 162** - In the following question, out of the four given alternatives, select the alternative which best expresses the meaning of the Idiom/Phrase.

**Call down**

**Options:**

- 1) To appreciate
- 2) To bribe
- 3) To scold
- 4) To entertain

**Correct Answer:** To scold

**QID : 163** - Improve the bracketed part of the sentence.

You and she have finished (**our**) work.

**Options:**

- 1) ours
- 2) your
- 3) yours
- 4) No improvement

**Correct Answer:** your

**QID : 164** - Improve the bracketed part of the sentence.

He (**has been playing**) cricket now.

**Options:**

- 1) had played
- 2) is playing
- 3) was played
- 4) No improvement

**Correct Answer:** is playing

**QID : 165** - In the following question, out of the four given alternatives, select the alternative which is the best substitute of the phrase.

**Tough tissues in joints**

**Options:**

- 1) Ligaments
- 2) Muscle
- 3) Arteries
- 4) Veins

**Correct Answer:** Ligaments

**QID : 166** - In the following question, out of the four given alternatives, select the alternative which is the best substitute of the phrase.

**A place for keeping dead bodies before burial on cremation**

**Options:**

- 1) Apiary
- 2) Centenary
- 3) Library
- 4) Mortuary

**Correct Answer:** Mortuary

**QID : 167** - In the following question, a word has been written in four different ways out of which only one is correctly spelt. Select the correctly spelt word.

**Options:**

- 1) Detor
- 2) Debter
- 3) Debtor
- 4) Dabtor

**Correct Answer:** Debtor

**QID : 168** - In the following question, a word has been written in four different ways out of which only one is correctly spelt. Select the correctly spelt word.

**Options:**

- 1) Autuumn
- 2) Autumn
- 3) Autum
- 4) Aoutumn

**Correct Answer:** Autumn

**QID : 169** - Rearrange the parts of the sentence in correct order.

Children with

**P:** skills progress

**Q:** poor phonological

**R:** more poorly

**Options:**

- 1) RPQ
- 2) PRQ
- 3) QPR
- 4) QRP

**Correct Answer:** QPR

**QID : 170** - Rearrange the parts of the sentence in correct order.

Several factors

**P:** of the lithosphere as

**Q:** it descends into the mantle

**R:** contribute to the heating

**Options:**

- 1) PRQ
- 2) RPQ
- 3) RQP
- 4) QPR

**Correct Answer:** RPQ

**QID : 171** - In the following passage some of the words have been left out. Read the passage carefully and select the correct answer for the given blank out of the four alternatives.

The \_\_\_\_\_ between grandparents and grandchildren \_\_\_\_\_ be described in words. Grandparents do not only inculcate \_\_\_\_\_ habits and moral values in the kids but also become their best buddies when it comes to having unlimited \_\_\_\_\_. While the parents try to provide all that they can to their kids for their allround development, their growth is \_\_\_\_\_ without their grandparents.

The \_\_\_\_\_ between grandparents

**Options:**

- 1) bond
- 2) cord
- 3) strong
- 4) string

**Correct Answer:** bond

**QID : 172** - In the following passage some of the words have been left out. Read the passage carefully and select the correct answer for the given blank out of the four alternatives.

The \_\_\_\_\_ between grandparents and grandchildren \_\_\_\_\_ be described in words. Grandparents do not only inculcate \_\_\_\_\_ habits and moral values in the kids but also become their best buddies when it comes to having unlimited \_\_\_\_\_. While the parents try to provide all that they can to their kids for their allround development, their growth is \_\_\_\_\_ without their grandparents.

grandchildren \_\_\_\_\_ be described

**Options:**

- 1) can mostly
- 2) cannot
- 3) always
- 4) hoping

**Correct Answer:** cannot

**QID : 173** - In the following passage some of the words have been left out. Read the passage carefully and select the correct answer for the given blank out of the four alternatives.

The \_\_\_\_\_ between grandparents and grandchildren \_\_\_\_\_ be described in words. Grandparents do not only inculcate \_\_\_\_\_ habits and moral values in the kids but also become their best buddies when it comes to having unlimited \_\_\_\_\_. While the parents try to provide all that they can to their kids for their allround development, their growth is \_\_\_\_\_ without their grandparents.

Grandparents do not only inculcate \_\_\_\_\_ habits

**Options:**

- 1) bad
- 2) poor
- 3) good
- 4) average

**Correct Answer:** good

**QID : 174** - In the following passage some of the words have been left out. Read the passage carefully and select the correct answer for the given blank out of the four alternatives.

The \_\_\_\_\_ between grandparents and grandchildren \_\_\_\_\_ be described in words. Grandparents do not only inculcate \_\_\_\_\_ habits and moral values in the kids but also become their best buddies when it comes to having unlimited \_\_\_\_\_. While the parents try to provide all that they can to their kids for their allround development, their growth is \_\_\_\_\_ without their grandparents. when it comes to having unlimited \_\_\_\_\_.

**Options:**

- 1) dance
- 2) studies
- 3) sing
- 4) fun

**Correct Answer:** fun

**QID : 175** - In the following passage some of the words have been left out. Read the passage carefully and select the correct answer for the given blank out of the four alternatives.

The \_\_\_\_\_ between grandparents and grandchildren \_\_\_\_\_ be described in words. Grandparents do not only inculcate \_\_\_\_\_ habits and moral values in the kids but also become their best buddies when it comes to having unlimited \_\_\_\_\_. While the parents try to provide all that they can to their kids for their allround development, their growth is \_\_\_\_\_ without their grandparents. their growth is \_\_\_\_\_ without

**Options:**

- 1) necessary
- 2) better
- 3) incomplete
- 4) great

**Correct Answer:** incomplete

**QID : 176** - The only difference between GNP and GDP is that GDP does not include income from \_\_\_\_\_. जीएनपी और जीडीपी के बीच एकमात्र अंतर यह है कि जीडीपी में \_\_\_\_\_ से आय शामिल नहीं है।

**Options:**

- 1) Domestic production  
घरेलू उत्पादन
- 2) Abroad  
विदेश में
- 3) Steel production  
इस्पात उत्पादन
- 4) Secondary sector  
माध्यमिक क्षेत्र

**Correct Answer:** Abroad

विदेश में

माध्यमिक क्षेत्र

**QID : 177** - \_\_\_\_\_ refers to the ability of a nation to improve standard of living of its citizens.

\_\_\_\_\_ एक राष्ट्र की अपने नागरिकों की जीवन स्तर को सुधारने की क्षमता को दर्शाता है।

**Options:**

- 1) International development  
अंतर्राष्ट्रीय विकास
- 2) National development

राष्ट्रीय विकास

3) Domestic development

घरेलू विकास

4) Rural development

ग्रामीण विकास

**Correct Answer:** National development

राष्ट्रीय विकास

घरेलू विकास

**QID : 178** - How many parts are there in Indian Constitution?

भारतीय संविधान में कितने भाग हैं?

**Options:**

- 1) 25
- 2) 30
- 3) 20
- 4) 28

**Correct Answer:** 25

**QID : 179** - The parliament, while in session, begins with which hour?

जब संसद सत्र में होता है, तो सबसे पहले कौन सा काल से शुरु होता है?

**Options:**

- 1) Zero hour  
शून्य काल
- 2) Question hour  
प्रश्नकाल
- 3) Discussion hour  
चर्चाकाल
- 4) None of these  
इनमें से कोई नहीं

**Correct Answer:** Question hour

प्रश्नकाल

चर्चाकाल

**QID : 180** - Which among the following categories of land mention in Chola inscription is not correctly paired? चोल शिलालेख में उल्लेखित निम्नलिखित भूमि की श्रेणियों में से कौन सा सही ढंग से नहीं जोड़ा गया है?

**Options:**

- 1) Brahmadeya-land gifted to Brahmanas  
ब्रह्मदेय - ब्रह्मदेव को भेंट की जाने वाली भूमि
- 2) Devadana-land gifted to temples  
देवदाना - मंदिरों को भेंट की जाने वाली भूमि
- 3) Shalabhoga-land for the maintenance of a school  
शालाभोग - एक स्कूल के रखरखाव के लिए भूमि
- 4) Vellanvagi - land donated to Jaina institutions  
वेल्लानवगि - जैन संस्थानों को दान दी गई भूमि

**Correct Answer:** Vellanvagi - land donated to Jaina institutions

वेल्लानवगि - जैन संस्थानों को दान दी गई भूमि

वेल्लानवगि - जैन संस्थानों को दान दी गई भूमि

**QID : 181** - Which Bill/Act provided for the trial of European persons by Indian, and sought equality between British and Indian Judges in the country?  
किस विधेयक में प्रावधान दिया गया है कि भारतीय न्यायाधीश भी यूरोपियन व्यक्तियों पर मुकदमें चला सकते हैं ताकि भारत में काम करने वाले अंग्रेज और भारतीय न्यायाधीशों के बीच समानता स्थापित की जा सके?

**Options:**

- 1) Vernacular Press Act  
वर्नाकुलर प्रेस एक्ट
- 2) Ilbert Bill  
इल्बर्ट बिल
- 3) Government of India Act, 1858  
भारत सरकार अधिनियम, 1858
- 4) Stamp Act  
छाप अधिनियम

**Correct Answer:** Ilbert Bill

इल्बर्ट बिल

भारत सरकार अधिनियम, 1858

**QID : 182** - What is the position of Earth from the Sun among the eight planets?

आठ ग्रहों में पृथ्वी सूर्य से कौन से स्थान पर स्थित है?

**Options:**

- 1) First  
पहला
- 2) Second  
दूसरा
- 3) Third  
तीसरा
- 4) Fourth  
चौथा

**Correct Answer:** Third

तीसरा

तीसरा

**QID : 183** - What is the zone between the Tropic of Cancer and the Arctic Circle in Northern Hemisphere, and the Tropic of Capricorn and the Antarctic Circle in Southern Hemisphere called?

उत्तरी गोलार्ध में कर्क रेखा एवं उत्तर ध्रुव (आर्कटिक) वृत्त तथा दक्षिणी गोलार्ध में मकर रेखा एवं दक्षिणी ध्रुव (अंटार्क्टिक) वृत्त के बीच वाले कटिबंध क्या कहलाते हैं?

**Options:**

- 1) Temperate Zone  
शीतोष्ण कटिबंध
- 2) Frigid Zone  
शीत कटिबंध
- 3) Torrid Zone  
उष्ण कटिबंध
- 4) None of these  
इनमें से कोई नहीं

**Correct Answer:** Temperate Zone

शीतोष्ण कटिबंध

उष्ण कटिबंध

**QID : 184** - The presence of specific features or certain habits, that enables a plant or an animal to live in its surrounding are called as \_\_\_\_\_.

जिन विशिष्ट संरचनाओं अथवा स्वभाव की उपस्थिति किसी पौधे अथवा जंतु को उसके परिवेश में रहने के योग्य बनाती है, \_\_\_\_\_ कहलाता है।

**Options:**

- 1) Adaptation  
अनुकूलन
- 2) Habitat  
आवास
- 3) Terrestrial habitat  
स्थलीय आवास
- 4) Aquatic habitat  
जलीय आवास

**Correct Answer:** Adaptation

अनुकूलन

आवास

**QID : 185** - The source of O<sub>2</sub> liberated in photosynthesis is \_\_\_\_\_.

प्रकाश संश्लेषण में निर्मुक्त O<sub>2</sub> का स्रोत \_\_\_\_\_ है।

**Options:**

- 1) Sunlight  
सूर्य का प्रकाश
- 2) Carbohydrate  
कार्बोहाइड्रेट
- 3) Water  
जल
- 4) Carbon dioxide  
कार्बन डाईऑक्साइड

**Correct Answer:** Water

जल

जल

**QID : 186** - The diastolic pressure (mm of hg) in a healthy person is \_\_\_\_\_.

एक स्वस्थ व्यक्ति में डाइएस्टोलिक दाब (एच. जी. के मी. मी. में) \_\_\_\_\_ होता है।

**Options:**

- 1) 60
- 2) 80
- 3) 100
- 4) 1

**Correct Answer:** 80

**QID : 187** - What is the number of oscillations per second called?

प्रति सेकंड होने वाले दोलनों की संख्या को क्या कहते हैं?

**Options:**

- 1) Frequency

आवृत्ति

2) Amplitude

आयाम

3) Pitch

तारत्व

4) Loudness

प्रबलता

**Correct Answer:** Frequency

आवृत्ति

आवृत्ति

**QID : 188** - The image formed by a concave mirror \_\_\_\_\_ than object.

अवतल दर्पण द्वारा बना प्रतिबिंब वस्तु से \_\_\_\_\_।

**Options:**

1) is always smaller

सदैव छोटा होता है

2) is always larger

सदैव बड़ा होता है

3) is always equal

सदैव बराबर होता है

4) can be smaller or larger

छोटा या बड़ा हो सकता है

**Correct Answer:** can be smaller or larger

छोटा या बड़ा हो सकता है

सदैव बड़ा होता है

**QID : 189** - What is a 'bug' in computer terminology?

कंप्यूटर शब्दावली में एक 'बग' क्या है?

**Options:**

1) Insect inside a computer

कंप्यूटर के अंदर कीट

2) Error in computer program

कंप्यूटर प्रोग्राम में त्रुटि

3) Virus in computer

कंप्यूटर में वायरस

4) All the options are correct

सभी विकल्प सही हैं

**Correct Answer:** Error in computer program

कंप्यूटर प्रोग्राम में त्रुटि

सभी विकल्प सही हैं

**QID : 190** - The process of protecting iron by coating with Zinc is called \_\_\_\_\_.

लोहे को जिंक की परत के द्वारा संरक्षित करने की प्रक्रिया

\_\_\_\_\_ कहलाती है।

**Options:**

1) Quenching

शमन

2) Galvanising

गैल्वनीकरण

3) rusting

जंग लगना

4) Metallurgy

धातुकर्म

**Correct Answer:** Galvanising

गैल्वनीकरण

धातुकर्म

**QID : 191** - A mixture of cement, gravel, coarse sand and water is called \_\_\_\_\_.

सीमेंट, कंकड़, स्थूल बालू और जल का एक मिश्रण \_\_\_\_\_

कहलाता है।

**Options:**

1) mortar

मोर्टार

2) concrete

कंक्रीट

3) slurry

स्लरी

4) moderator

मोडरेटर

**Correct Answer:** concrete

कंक्रीट

कंक्रीट

**QID : 192** - Which of the following statement is not true about ozone?

निम्नलिखित में से ओज़ोन के संबंध में कौन सा कथन सत्य

नहीं है?

**Options:**

1) Ozone is poisonous

ओज़ोन विषैला होता है

2) Ozone is stable near the earth's surface

ओज़ोन पृथ्वी की सतह के निकट स्थिर होता है

3) Ozone absorbs harmful radiations from the sun

ओज़ोन सूर्य से आने वाली हानिकारक विकिरणों को अवशोषित

करता है

4) Formula of Ozone is O<sub>3</sub>

ओज़ोन का सूत्र O<sub>3</sub> है

**Correct Answer:** Ozone is stable near the earth's

surface

ओज़ोन पृथ्वी की सतह के निकट स्थिर होता है

ओज़ोन विषैला होता है

**QID : 193** - Which among the following is a web portal to facilitate flexibility in Utilization of Domestic coal?

निम्नलिखित में से कौन सा वेब पोर्टल घरेलू कोयले के

उपयोग में लचीलेपन की सुविधा के लिए है?

**Options:**

1) Green Energy Corridor

ग्रीन एनर्जी कॉरिडोर

2) Posoco

पोसोको

3) Coal Mitra

कोयला मित्र

4) Suryamitra  
सुर्यामित्रा

**Correct Answer:** Coal Mitra  
कोयला मित्र  
पोसोको

**QID : 194** - Who discovered the blood groups?  
रक्त समूहों की खोज किसने की?

**Options:**  
1) Karl Landsteiner  
कार्ल लैंडस्टीनर  
2) Joseph Monier  
जोसेफ मोनियर  
3) William Kelly  
विलियम केली  
4) William Sturgeon  
विलियम स्टर्जन

**Correct Answer:** Karl Landsteiner  
कार्ल लैंडस्टीनर  
कार्ल लैंडस्टीनर

**QID : 195** - Manpreet Singh is associated with which sport?  
मनप्रीत सिंह किस खेल से जुड़े हैं?

**Options:**  
1) Hockey  
हॉकी  
2) Shooting  
शूटिंग  
3) Cricket  
क्रिकेट  
4) Tennis  
टेनिस

**Correct Answer:** Hockey  
हॉकी  
शूटिंग

**QID : 196** - Kollam is a traditional folk art of which state?  
कोल्लम किस राज्य का पारंपरिक लोक कला है?

**Options:**  
1) Tamil Nadu  
तमिल नाडु  
2) Uttar Pradesh  
उत्तर प्रदेश  
3) Gujrat  
गुजरात  
4) Kerala  
केरल

**Correct Answer:** Kerala  
केरल  
केरल

**QID : 197** - Who among the following is NOT a recipient of Padma Vibhushan 2017 in the field of Public Affairs?

जन संबंधी क्षेत्र में निम्न में से कौन पद्म विभूषण 2017 के प्राप्तकर्ता नहीं है?

**Options:**  
1) Sharad Pawar  
शरद पवार  
2) Murlī Manohar Joshi  
मुरली मनोहर जोशी  
3) P A Sangma  
पी ए संगमा  
4) Atal Bihari Vajpayee  
अटल बिहारी वाजपेयी

**Correct Answer:** Atal Bihari Vajpayee  
अटल बिहारी वाजपेयी  
अटल बिहारी वाजपेयी

**QID : 198** - Who is the author of the book named "Oliver Twist"?

"ओलिवर ट्विस्ट" नामक पुस्तक के लेखक कौन हैं?

**Options:**  
1) Benazir Habib  
बेनज़ीर हबीब  
2) Charles Dickens  
चार्ल्स डिक्केस  
3) Paul Kennedy  
पॉल कैनेडी  
4) Eric Segal  
एरिक सेगल

**Correct Answer:** Charles Dickens  
चार्ल्स डिक्केस  
बेनज़ीर हबीब

**QID : 199** - Prabal Dostyk-16 was a joint exercise between Indian and \_\_\_\_\_ army.

प्रबल डोस्टिक-16 भारतीय तथा \_\_\_\_\_ सेना के बीच एक संयुक्त अभ्यास था।

**Options:**  
1) Kazakhstan  
कजाखस्तान  
2) Nepal  
नेपाल  
3) China  
चीन  
4) USA  
संयुक्त राज्य अमेरिका  
**Correct Answer:** Kazakhstan  
कजाखस्तान  
कजाखस्तान

**QID : 200** - A joint training exercise with the code name 'Ekuverin' exists between the \_\_\_\_\_ and India to enhance the military ties.

\_\_\_\_\_ तथा भारत के मध्य सैन्य संबंधों को बढ़ाने के लिए "एक्यूवरिन" नामक एक संयुक्त सेना प्रशिक्षण अभ्यास मौजूद है।

**Options:**

1) Bhutan

भूटान

2) Maldives

मालदीव

3) Pakistan

पाकिस्तान

4) China

चीन

**Correct Answer:** Maldives

मालदीव

भूटान