



REGISTRATION NUMBER : 2201559083
CANDIDATES NAME: MOCKTIME.COM
EXAM NAME : SSC CHSL
EXAM DURATION : 01:00 Hrs
TOTAL MARKS : 200
TOTAL NO OF QUESTIONS : 100

QID : 201 -

In the following question, select the number which can be placed at the sign of question mark (?) from the given alternatives.

निम्नलिखित प्रश्न में दिए गए विकल्पों में से प्रश्न चिह्न (?) के स्थान पर आने वाली संख्या को चुनिए।

1	4	3
2	1	5
5	2	2
3	4	?

Options:


- 1) 1
- 2) 2
- 3) 3
- 4) 4

Correct Answer: 1

QID : 202 -

How many rectangles are there in the given figure?

दी गई आकृति में कितने आयत हैं?



Options:

- 1) 4
- 2) 5
- 3) 3
- 4) 6

Correct Answer: 4

QID : 203 -

A word is represented by only one set of numbers as given in any one of the alternatives. The sets of numbers given in the alternatives are represented by two classes of alphabets as shown in the given two matrices. The columns and rows of **Matrix-I** are numbered from 0 to 4 and that of **Matrix-II** are numbered from 5 to 9. A letter from these matrices can be represented first by its row and next by its column, for example, 'W' can be represented by 41, 57, etc., and 'K' can be represented by 32, 65, etc. Similarly, you have to identify the set for the word "MOUNT".

एक शब्द केवल एक संख्या-समूह द्वारा दर्शाया गया है, जैसा कि विकल्पों में से किसी एक में दिया गया है। विकल्पों में दिए गए संख्या-समूह अक्षरों के दो वर्गों द्वारा दर्शाए गए हैं, जैसा कि दिए गए दो आव्यूहों में है। आव्यूह-I के स्तम्भ और पंक्ति की संख्या 0 से 4 है और आव्यूह-II की 5 से 9। इन आव्यूहों से एक अक्षर को पहले उसकी पंक्ति और बाद में स्तम्भ संख्या द्वारा दर्शाया जा सकता है। उदाहरण के लिए 'W' को 41, 57, आदि द्वारा दर्शाया जा सकता है तथा 'K' को 32, 65, आदि द्वारा दर्शाया जा सकता है। इसी तरह से आपको प्रश्न में दिए शब्द "MOUNT" के लिए समूह को पहचानना है।

Matrix-I						Matrix-II					
आव्यूह-I						आव्यूह-II					
	0	1	2	3	4		5	6	7	8	9
0	A	L	T	Z	E	5	C	M	W	F	P
1	G	D	N	V	C	6	K	U	D	N	X
2	O	I	F	P	X	7	R	S	B	L	V
3	U	Q	K	H	R	8	G	Q	A	J	T
4	Y	W	S	M	J	9	E	O	Y	H	R

Options:

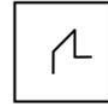
- 1) 56, 20, 66, 69, 03
- 2) 43, 21, 66, 12, 03
- 3) 56, 96, 31, 68, 04
- 4) 43, 96, 66, 12, 02

Correct Answer: 43, 96, 66, 12, 02

QID : 204 -

From the given answer figures, select the one in which the question figure is hidden/embedded.


दी गई उत्तर आकृतियों में से उस उत्तर आकृति को चुनिए जिस में प्रश्न आकृति निहित है।



Options:

- 1)
- 2)
- 3)
- 4)

Correct Answer:



QID : 205 -

Which answer figure will complete the pattern in the question figure?

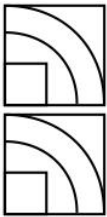
कौन सी उत्तर आकृति प्रश्न आकृति के प्रतिरूप को पूरा करेगी?



Options:

- 1)
- 2)
- 3)
- 4)

Correct Answer:



QID : 206 -

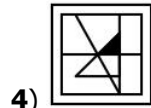
If a mirror is placed on the line AB, then which of the answer figures is the right image of the given figure?

यदि एक दर्पण को AB रेखा पर रखा जाए, तो दी गई उत्तर आकृतियों में से कौन सी आकृति प्रश्न आकृति की सही प्रतिबिम्ब होगी?

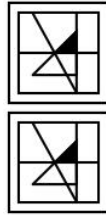


Options:

- 1)
- 2)
- 3)



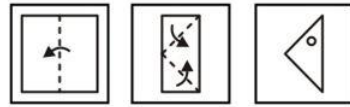
4) Correct Answer:



QID : 207 -

A piece of paper is folded and punched as shown below in the question figures. From the given answer figures, indicate how it will appear when opened?

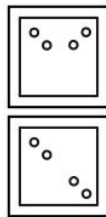
नीचे के प्रश्न आकृतियों में दिखाए अनुसार कागज को मोड़कर छेदने तथा खोलने के बाद वह किस उत्तर आकृति जैसा दिखाई देगा?



Options:

- 1)
- 2)
- 3)
- 4)

Correct Answer:



QID : 208 - By interchanging which two signs the equation will be correct?

$$11 + 13 - 39 \times 3 \div 6 = 6$$

किन दो चिह्नों को आपस में परस्पर बदलने पर समीकरण सही हो जाएगा?

$$11 + 13 - 39 \times 3 \div 6 = 6$$

Options:

- 1) x and +
x तथा +
- 2) x and ÷
x तथा ÷

3) ÷ and –
÷ तथा –

4) + and ÷
+ तथा ÷

Correct Answer: ÷ and –
÷ तथा –
÷ तथा –

QID : 209 - If $9 \# 3 @ 2 = 10$ and $11 \# 4 @ 1 = 14$, then $9 \# 6 @ 9 = ?$
यदि $9 \# 3 @ 2 = 10$ तथा $11 \# 4 @ 1 = 14$ हो, तो $9 \# 6 @ 9 = ?$

Options:
1) 4
2) 2
3) 6
4) 8

Correct Answer: 6

QID : 210 - Arrange the given words in the sequence in which they occur in the dictionary.

1. Grapes
2. Grown
3. Giggle
4. Ginger
5. Gasp

निम्नलिखित शब्दों को शब्दकोश में आने वाले क्रम के अनुसार लिखें।

1. Grapes
2. Grown
3. Giggle
4. Ginger
5. Gasp

Options:
1) 51234
2) 53142
3) 53421
4) 53412

Correct Answer: 53412

QID : 211 - In the following question, select the missing number from the given alternatives.

8, 15, 24, ?, 48, 63

निम्नलिखित प्रश्न में दिए गए विकल्पों में से लुप्त अंक ज्ञात कीजिए।

8, 15, 24, ?, 48, 63

Options:
1) 35
2) 37
3) 34
4) 38

Correct Answer: 35

QID : 212 - A series is given with one term missing. Select the correct alternative from the given ones that will complete the series.

O, P, R, U, Y, ?

एक अनुक्रम दिया गया है, जिसमें से एक पद लुप्त है। दिए गए विकल्पों में से वह सही विकल्प चुनिए, जो अनुक्रम को पूरा करे।

O, P, R, U, Y, ?

Options:

1) A
2) D
3) Z
4) C

Correct Answer: D

QID : 213 - In the following question, select the odd word from the given alternatives.

निम्नलिखित प्रश्न में दिए गए विकल्पों में से विषम शब्द को चुनिए।

Options:

1) Leaves

पत्तियाँ

2) Tree

वृक्ष

3) Roots

जड़ें

4) Trunk

तना

Correct Answer: Tree

वृक्ष

पत्तियाँ

QID : 214 - In the following question, select the odd number pair from the given alternatives.

निम्नलिखित प्रश्न में दिए गए विकल्पों में से विषम संख्या युग्म को चुनिए।

Options:

1) 37 : 23

2) 46 : 24

3) 93 : 27

4) 28 : 16

Correct Answer: 37 : 23

QID : 215 - In the following question, select the odd letters from the given alternatives.

निम्नलिखित प्रश्न में दिए गए विकल्पों में से विषम अक्षरों को चुनिए।

Options:

1) JLK

2) PRQ

3) XYZ

4) BDC

Correct Answer: XYZ




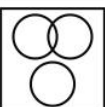
QID : 216 - Identify the diagram that best represents the relationship among the given classes.

Males, Trees, Politicians

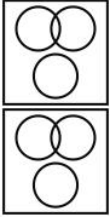
वह आरेख चुनिए जो नीचे दिए गए वर्गों के बीच के संबंध का सही निरूपण करता है।

पुरुष, पेड़, राजनेता

Options:

- 1) 
- 2) 
- 3) 
- 4) 

Correct Answer:



QID : 217 - In the following question, select the related word from the given alternatives.

Judge : Hearing : : General : ?

निम्नलिखित प्रश्न में दिए गए विकल्पों में से संबंधित शब्द को चुनिए।

न्यायाधीश : सुनवाई : : जनरल : ?

Options:

- 1) Results
परिणाम
- 2) Initiate
आरंभ करना
- 3) Operates
परिचालित करना
- 4) Commands
आदेश देना

Correct Answer: Commands

आदेश देना

परिचालित करना

QID : 218 - In the following question, select the related number from the given alternatives.

14 : 63 : : 28 : ?

निम्नलिखित प्रश्न में दिए गए विकल्पों में से संबंधित संख्या को चुनिए।

14 : 63 : : 28 : ?

Options:

- 1) 148
- 2) 142
- 3) 134
- 4) 126

Correct Answer: 126

QID : 219 - In the following question, select the related letters from the given alternatives.

PEN : OCK : : SUN : ?

निम्नलिखित प्रश्न में दिए गए विकल्पों में से संबंधित अक्षरों को चुनिए।

PEN : OCK : : SUN : ?

Options:

- 1) QSK
- 2) RTK
- 3) RSK
- 4) QTK

Correct Answer: RSK

QID : 220 - In the following question, select the word which cannot be formed using the letters of the given word.

MICROSOFT

निम्नलिखित विकल्पों में से वह शब्द चुनिए जो दिए गए शब्द के अक्षरों का प्रयोग करके नहीं बनाया जा सकता।

MICROSOFT

Options:

- 1) RAFT
- 2) RIFT
- 3) MOIST
- 4) SOFT

Correct Answer: RAFT

QID : 221 - Pointing to a lady, Ravi said, "She is the only daughter of my mother's husband". How is the lady related to Ravi?

एक महिला की ओर संकेत करते हुए, रवि ने कहा, "वह मेरी माता के पति की एकमात्र पुत्री है।" वह महिला रवि से किस प्रकार संबंधित है?

Options:

- 1) Sister
बहन
- 2) Mother
माता
- 3) Wife
पत्नी
- 4) Grandmother
दादी

Correct Answer: Sister

बहन

बहन

QID : 222 - Saba remembers her examinations starts after 29th March, while her father remembers that her examinations starts before 31st March. On which date of March does her examinations start?

सबा को याद है कि उसकी परीक्षा 29 मार्च के बाद आरंभ हो रही है जबकि उसके पिता को याद है कि उसकी परीक्षा 31 मार्च से पहले आरंभ हो रही है। उसकी परीक्षा मार्च की किस तिथि को आरंभ है?

Options:

- 1) 29
- 2) 30
- 3) 31
- 4) 28

Correct Answer: 30

QID : 223 - In the following question below are given some statements followed by some conclusions. Taking the given statements to be true even if they seem to be at variance from commonly known facts, read all the conclusions and then decide which of the given conclusion logically follows the given statements.

Statements:

- I. Some pencils are cups.
- II. Some cups are chairs.

Conclusions:

- I. Some chairs are cups.
- II. Some chairs are pencils.

नीचे दिए गए प्रश्न में कुछ कथन और उनके बाद उन कथनों पर आधारित कुछ निष्कर्ष दिए गए हैं, हालांकि उनमें सामान्य ज्ञात तथ्यों से भिन्नता हो सकती है। सभी निष्कर्ष पढ़ें और फिर निर्धारित करें कि दिए गए कौन से निष्कर्ष, दिए गए कथनों के आधार पर युक्तिसंगत हैं।

कथन:

- I. कुछ पेंसिल कप हैं।
- II. कुछ कप कुर्सियाँ हैं।

निष्कर्ष:

- I. कुछ कुर्सियाँ कप हैं।
- II. कुछ कुर्सियाँ पेंसिल हैं।

Options:

1) Only conclusion (I) follows.
केवल निष्कर्ष (I) सही है।

2) Only conclusion (II) follows.
केवल निष्कर्ष (II) सही है।

3) Both conclusion follow.
दोनों ही निष्कर्ष सही हैं।

4) Neither conclusion (I) nor conclusion (II) follows.
न तो निष्कर्ष (I) न ही निष्कर्ष (II) सही है।

Correct Answer: Only conclusion (I) follows.

केवल निष्कर्ष (I) सही है।

केवल निष्कर्ष (I) सही है।

QID : 224 - In a certain code language, "LEAD" is written as "NHEI". How is "IRON" written in that code language?

एक विशिष्ट कोड भाषा में, "LEAD" को "NHEI" लिखा जाता है। इस कोड भाषा में "IRON" को किस प्रकार लिखा जाएगा?

Options:

- 1) KUSS
- 2) KUST
- 3) KVSS
- 4) MUST

Correct Answer: KUSS

QID : 225 - In a certain code language, "GOAT" is written as "7612" and "RUNS" is written as "93510". How is "BOYS" written in that code language?

एक विशिष्ट कोड भाषा

में, "GOAT" को "7612" तथा "RUNS" को "93510" लिखा

जाता है। इस कोड भाषा में "BOYS" को किस प्रकार लिखा जाएगा?

Options:

- 1) 26710
- 2) 26701
- 3) 25710
- 4) 26810

Correct Answer: 26710

QID : 226 - How many positive factors of 160 are there? 160 के कितने धनात्मक पूर्णांक होते हैं?

Options:

- 1) 12
- 2) 6
- 3) 24
- 4) 16

Correct Answer: 12

QID : 227 - How many times the digit 6 appears in the number from 11 to 100?

11 से 100 तक की संख्या में अंक 6 कितनी बार आता है?

Options:

- 1) 17
- 2) 18
- 3) 19
- 4) 20

Correct Answer: 19

QID : 228 -

What is the value of $\sqrt{256} + \sqrt{10.24}$?

$\sqrt{256} + \sqrt{10.24}$ का मान क्या है?

Options:

- 1) 16.2
- 2) 17.2
- 3) 19.2
- 4) 18.4

Correct Answer: 19.2

QID : 229 - If 487P is divisible by 4, then what is the value of P?

यदि 487P, 4 से विभाजित है, तो P का मान क्या है?

Options:

- 1) 2
- 2) 4
- 3) 2 or 6
- 2 या 6
- 4) 6

Correct Answer: 2 or 6

2 या 6

2 या 6

QID : 230 - What is the value of $(1/2) + (1/6) + (1/12) + (1/20)$?

$(1/2) + (1/6) + (1/12) + (1/20)$ का मान क्या है?

Options:

- 1) 2/5
- 2) 4/5
- 3) 3/5

4) 1/5

Correct Answer: 4/5

QID : 231 - Which of the following is not a perfect cube?

निम्नलिखित में से कौन एक पूर्ण घन नहीं है?

Options:

1) 1024

2) 729

3) 216

4) 1000

Correct Answer: 1024

QID : 232 - A pipe can fill a tank in 10 hours but due to leakage it is filled in 15 hours. If the tank is full then, how much time will the leakage take to empty it?

एक नल एक टंकी को 10 घंटे में भर सकता है परंतु एक छिद्र होने की वजह से यह 15 घंटे में भर जाता है। यदि टंकी पूरी तरह भरी हो, तो रिसाव से उसे खाली होने में कितना समय लेगा?

Options:

1) 20

2) 30

3) 35

4) 25

Correct Answer: 30

QID : 233 - A tank has a leak at bottom which would empty it in 20 hours. A tap is turned on which fills 5 litres an hour into the tank then it is emptied in 30 hours. How many litres does the tank hold?

एक टंकी की तल में एक छेद है, जिसके कारण पानी से पूरी भरी टंकी 20 घंटे में खाली हो जाती है। 5 लीटर प्रति घंटे की रफ्तार से टंकी में पानी भरने वाला एक नल चालू किया जाता है, तो टंकी को खाली होने में 30 घंटे लगते हैं। टंकी में कितने लीटर पानी भरा जा सकता है?

Options:

1) 300

2) 150

3) 200

4) 250

Correct Answer: 300

QID : 234 - What is the area of a rhombus having one side as 20 cm and one diagonal as 24 cm?

उस समचतुर्भुज का क्षेत्रफल क्या है जिसकी एक भुजा 20 से.मी. है तथा एक विकर्ण 24 से.मी. है?

Options:

1) 384

2) 192

3) 96

4) 198

Correct Answer: 384

QID : 235 - Marked price of an article is 35% more than its cost price. If 20% discount is given, then what will be the profit percentage?

एक वस्तु का अंकित मूल्य उसके क्रय मूल्य से 35% अधिक है। यदि 20% की छूट दी जाए, तो लाभ का प्रतिशत क्या होगा?

Options:

1) 8

2) 15

3) 6

4) 11

Correct Answer: 8

QID : 236 - Two successive discounts of 25% and 20% are given. What will be the net discount (in percentage)?
25% तथा 20% की दो क्रमिक छूट दी जाती है। निवल (नेट) छूट (प्रतिशत में) क्या होगी?

Options:

1) 43.5

2) 42.5

3) 45

4) 40

Correct Answer: 40

QID : 237 - If $A : B = 3 : 7$, $B : C = 4 : 5$ and $C : D = 7 : 6$. What is the value of $A : D$?

यदि $A : B = 3 : 7$, $B : C = 4 : 5$ तथा $C : D = 7 : 6$ है। $A : D$ का मान क्या है।

Options:

1) 2 : 5

2) 3 : 7

3) 4 : 7

4) 3 : 5

Correct Answer: 2 : 5

QID : 238 - In what ratio two types of sugar costing Rs 40/kg and Rs 30/kg should be mixed to obtain a mixture of Rs 33/kg.

40 रु/कि.ग्रा तथा 30 रु/ कि.ग्रा वाली चीनी किस अनुपात में मिला दी जाए कि 33 रु/कि.ग्रा वाला मिश्रण प्राप्त हो जाए?

Options:

1) 7 : 3

2) 3 : 7

3) 5 : 3

4) 3 : 5

Correct Answer: 3 : 7

QID : 239 - Average of 8 consecutive numbers is 26.5. Which is the largest number out of these 8?

8 क्रमागत संख्याओं का औसत 26.5 है। इन 8 में से सबसे बड़ी संख्या कौन सी है?

Options:

1) 42

2) 30

3) 32

4) 38

Correct Answer: 30

QID : 240 - If the selling price of 20 articles is equal to the cost price of 40 articles, then what is the profit percent?

यदि 20 वस्तुओं का विक्रय मूल्य 40 वस्तुओं के क्रय मूल्य के बराबर है, तो लाभ प्रतिशत क्या है?

Options:

- 1) 50
- 2) 100
- 3) 200
- 4) 75

Correct Answer: 100

QID : 241 - A shopkeeper buys an article for Rs 8000. For how much should he sell (in Rs) it so as to gain a profit of 20%?

एक दुकानदार एक वस्तु 8000 रु में खरीदता है। 20% लाभ प्राप्त करने के लिए उसे वस्तु कितने (रु में) बेचनी चाहिए?

Options:

- 1) 9600
- 2) 9200
- 3) 10000
- 4) 8800

Correct Answer: 9600

QID : 242 - The difference between 62% and 47% of a number is 720. What is the 43% of the number?

एक संख्या के 62% तथा 47% का अंतर 720 है। संख्या का 43% क्या है?

Options:

- 1) 2250
- 2) 2064
- 3) 2184
- 4) 2280

Correct Answer: 2064

QID : 243 - If the side of a cube increases by 5%, then what is the percentage increase in the volume of the cube?

यदि किसी घन की भुजा में 5% की वृद्धि की जाती है, तो घन के आयतन में कितने प्रतिशत की वृद्धि होगी?

Options:

- 1) 15
- 2) 10
- 3) 10.25
- 4) 15.76

Correct Answer: 15.76

QID : 244 - Ashish covers 2/7 of the total distance by train and the remaining 75 km by bus. What is his total journey (in km)?

आशीष अपनी कुल यात्रा का 2/7 भाग रेलगाड़ी द्वारा तय करता है। शेष 75 कि.मी.की दूरी वह बस द्वारा तय करता है। उसकी कुल यात्रा (कि.मी. में) कितनी है?

Options:

- 1) 105
- 2) 175
- 3) 95
- 4) 125

Correct Answer: 105

QID : 245 - A man can row 4 km/hr in still water. If the speed of the current is 1 km/hr, he takes 4 hours more in

upstream than in the downstream. What is the distance (in km)?

शांत जल में एक व्यक्ति की गति 4 कि.मी./घंटा है। यदि धारा की गति 1 कि.मी./घंटा है, धारा के अनुकूल दिशा में कुछ दूर जाने में जितना समय लगता है, उससे 4 घंटे अधिक समय धारा के प्रतिकूल दिशा में उतनी ही दूरी तय करने में लगता है। दूरी (कि.मी. में) क्या है?

Options:

- 1) 15
- 2) 30
- 3) 45
- 4) 42

Correct Answer: 30

QID : 246 - An amount of Rs 15000 is invested in a scheme of compound interest. If rate of interest is 10% per annum, then what is the amount (in Rs) obtained after 3 years?

15000 रु की एक राशि को चक्रवृद्धि ब्याज वाली एक योजना में निवेश किया गया। यदि ब्याज दर 10% प्रति वर्ष है, तो 3 वर्ष बाद कितनी राशि (रु में) प्राप्त होगी?

Options:


- 1) 17365
- 2) 18150
- 3) 19965
- 4) 20140

Correct Answer: 19965

QID : 247 -

The pie chart given below shows the breakup of monthly expenditure of a family. The monthly income of the family is Rs 80000.

नीचे दिए गए वृत्त चित्र में एक परिवार के मासिक व्यय को दर्शाया गया है। परिवार की मासिक आय 80000 रु है।



What is the monthly expenditure (in Rs) on fuel? ईंधन पर होने वाला मासिक व्यय (रु में) कितना है?

Options:


- 1) 15000
- 2) 9600
- 3) 13600
- 4) 12400

Correct Answer: 13600

QID : 248 -

The pie chart given below shows the breakup of monthly expenditure of a family. The monthly income of the family is Rs 80000.

नीचे दिए गए वृत्त चित्र में एक परिवार के मासिक व्यय को दर्शाया गया है। परिवार की मासिक आय 80000 रु है।



What is the difference (in Rs) in monthly expenditure on clothes and food?

कपड़ों तथा भोजन पर होने वाले मासिक व्यय का अंतर (रु में) क्या है?

Options:


- 1) 1600
- 2) 4800
- 3) 6000
- 4) 6400

Correct Answer: 4800

QID : 249 -

The pie chart given below shows the breakup of monthly expenditure of a family. The monthly income of the family is Rs 80000.

नीचे दिए गए वृत्त चित्र में एक परिवार के मासिक व्यय को दर्शाया गया है। परिवार की मासिक आय 80000 रु है।



What are the yearly savings (in Rs) of the family? परिवार की वार्षिक बचत (रु में) कितनी है?

Options:


- 1) 126000
- 2) 72000
- 3) 108000
- 4) 144000

Correct Answer: 144000

QID : 250 -

The pie chart given below shows the breakup of monthly expenditure of a family. The monthly income of the family is Rs 80000.

नीचे दिए गए वृत्त चित्र में एक परिवार के मासिक व्यय को दर्शाया गया है। परिवार की मासिक आय 80000 रु है।



20% out of expenditure on education is spent on pens. What is the monthly expenditure (in Rs) on pens?

शिक्षा के व्यय में से 20% व्यय कलमों पर किया गया है। कलमों पर होने वाला मासिक व्यय (रु में) कितना है?

Options:

- 1) 2880
- 2) 3160
- 3) 3240
- 4) 2970

Correct Answer: 2880

QID : 251 - In the following question, some part of the sentence may have errors. Find out which part of the sentence has an error and select the appropriate option. If a sentence is free from error, select 'No Error'.

Wednesday, a working day, (1)/ may proved to be troublesome (2)/ tough as thousands hit the roads. (3)/ No Error (4)

Options:

- 1) 1
- 2) 2
- 3) 3
- 4) 4

Correct Answer: 2

QID : 252 - In the following question, some part of the sentence may have errors. Find out which part of the sentence has an error and select the appropriate option. If a sentence is free from error, select 'No Error'.

China is also a (1)/ buyer of American Crude (2)/ oil who has been exported. (3)/ No Error (4)

Options:

- 1) 1
- 2) 2
- 3) 3
- 4) 4

Correct Answer: 3

QID : 253 - In the following question, the sentence given with blank to be filled in with an appropriate word. Select the correct alternative out of the four and indicate it by selecting the appropriate option.

The Security Guard prevented us _____ entering the hotel.

Options:

- 1) from
- 2) against
- 3) for
- 4) on

Correct Answer: from

QID : 254 - In the following question, the sentence given with blank to be filled in with an appropriate word. Select the correct alternative out of the four and indicate it by selecting the appropriate option.

Rohan is _____ tall as his elder brother Rohit.

Options:

- 1) much
- 2) more
- 3) too
- 4) as

Correct Answer: as

QID : 255 - In the following question, out of the given four alternatives, select the one which best expresses the meaning of the given word.

Lament**Options:**

- 1) Enlighten
- 2) Chatter
- 3) Mourn
- 4) Rejoice

Correct Answer: Mourn

QID : 256 - In the following question, out of the given four alternatives, select the one which best expresses the meaning of the given word.

Authentic**Options:**

- 1) Certain
- 2) Dubious
- 3) Brave
- 4) Rude

Correct Answer: Certain

QID : 257 - In the following question, out of the given four alternatives, select the one which best expresses the meaning of the given word.

Eradicate**Options:**

- 1) Uncivil
- 2) Uproot
- 3) Cultivate
- 4) Inaction

Correct Answer: Uproot

QID : 258 - In the following question, out of the given four alternatives, select the one which is opposite in meaning of the given word.

Betrayal**Options:**

- 1) Tricky
- 2) Deceive
- 3) Stand by
- 4) Bluff

Correct Answer: Stand by

QID : 259 - In the following question, out of the given four alternatives, select the one which is opposite in meaning of the given word.

Gracious**Options:**

- 1) Kind
- 2) Benign
- 3) Civil
- 4) Miserable

Correct Answer: Miserable

QID : 260 - In the following question, out of the given four alternatives, select the one which is opposite in meaning of the given word.

Lavish**Options:**

- 1) Wild
- 2) Scarce
- 3) Posh
- 4) Liberal

Correct Answer: Scarce

QID : 261 - In the following question, out of the given four alternatives, select the alternative which best expresses the meaning of the Idiom/Phrase.

Through thick and thin.**Options:**

- 1) Under all circumstances
- 2) Thinking entire day
- 3) To keep on losing or gaining weight
- 4) To think advantage and disadvantages of something

Correct Answer: Under all circumstances

QID : 262 - In the following question, out of the given four alternatives, select the alternative which best expresses the meaning of the Idiom/Phrase.

Turned a blind eye.**Options:**

- 1) Not able to see clearly
- 2) Feeling dizzy
- 3) Pretended not to notice
- 4) Playing hide and seek

Correct Answer: Pretended not to notice

QID : 263 - In the following question, out of the four alternatives, select the alternative which will improve the bracketed part of the sentence. In case no improvement is needed, select "no improvement".

Ram as well as his friends **(are)** coming for lunch.

Options:

- 1) have
- 2) is
- 3) are not
- 4) No improvement

Correct Answer: is

QID : 264 - In the following question, out of the four alternatives, select the alternative which will improve the bracketed part of the sentence. In case no improvement is needed, select "no improvement".

Either the teacher or the students **(has)** gone to eat lunch.

Options:

- 1) have
- 2) is
- 3) might has
- 4) No improvement

Correct Answer: have

QID : 265 - In the following question, out of the four alternatives, select the alternative which is the best substitute of the phrase.

Having no hair on the scalp.

Options:

- 1) Babble
- 2) Bogus
- 3) Boggle
- 4) Bald

Correct Answer: Bald

QID : 266 - In the following question, out of the four alternatives, select the alternative which is the best substitute of the phrase.

Lover of books.

Options:

- 1) Paedophile
- 2) Electrophile
- 3) Bibliophile
- 4) Foodophile

Correct Answer: Bibliophile

QID : 267 - In the following question, a word has been written in four different ways out of which only one is correctly spelt. Select the correctly spelt word.

Options:

- 1) Algibra
- 2) Algebra
- 3) Elegebra
- 4) Alegebra

Correct Answer: Algebra

QID : 268 - In the following question, a word has been written in four different ways out of which only one is correctly spelt. Select the correctly spelt word.

Options:

- 1) Difference
- 2) Deffirence
- 3) Differance
- 4) Defference

Correct Answer: Difference

QID : 269 - The question below consists of a set of labelled sentences. Out of the four options given, select the most logical order of the sentences to form a coherent paragraph.

The backbone

P: agriculture; which also provides

Q: sustenance to over half the country's population

R: of the rural economy is

Options:

- 1) RPQ
- 2) PRQ
- 3) RQP
- 4) QPR

Correct Answer: RPQ

QID : 270 - The question below consists of a set of labelled sentences. Out of the four options given, select the most logical order of the sentences to form a coherent paragraph.

When we

P: talk of investing in education,

Q: a question arises as to what kind of education

R: needs to be given to the youngster.

Options:

- 1) PRQ
- 2) PQR
- 3) RQP
- 4) QPR

Correct Answer: PQR

QID : 271 - In the following passage some of the words have been left out. Read the passage carefully and select the correct answer for the given blank out of the four alternatives.

'Entertainment' implies non-participation by the _____. A football match may be entertainment to the spectators, but it is a _____ to the players, and when we think of entertainment, we must _____, 'activities' such as indoor games, card playing, dice, tenpin bowling, even amateur theatricals, because the point of all these is that we are providing our _____ amusement. To be 'entertained', we must be content to look, and to _____.

'Entertainment' implies non-participation by the _____.

Options:

- 1) listeners
- 2) Artist
- 3) performe
- 4) Performer

Correct Answer: performe

QID : 272 - In the following passage some of the words have been left out. Read the passage carefully and select the correct answer for the given blank out of the four alternatives.

'Entertainment' implies non-participation by the _____. A football match may be entertainment to the spectators, but it is a _____ to the players, and when we think of entertainment, we must _____, 'activities' such as indoor games, card playing, dice, tenpin bowling, even amateur theatricals, because the point of all these is that we are providing our _____ amusement. To be 'entertained', we must be content to look, and to _____.

be entertainment to the spectators, but it is a _____

Options:

- 1) bore
- 2) sport
- 3) entertainment
- 4) fun

Correct Answer: sport

QID : 273 - In the following passage some of the words have been left out. Read the passage carefully and select the correct answer for the given blank out of the four alternatives.

'Entertainment' implies non-participation by the _____. A football match may be entertainment to the spectators, but it is a _____ to the players, and when we think of entertainment, we must _____, 'activities' such as indoor games, card playing, dice, tenpin bowling, even amateur theatricals, because the point of all these is that we are providing our _____ amusement. To be 'entertained', we must be content to look, and to _____.

entertainment, we must _____.

Options:

- 1) Exclude
- 2) among
- 3) expell
- 4) between

Correct Answer: Exclude

QID : 274 - In the following passage some of the words have been left out. Read the passage carefully and select the correct answer for the given blank out of the four alternatives.

'Entertainment' implies non-participation by the _____. A football match may be entertainment to the spectators, but it is a _____ to the players, and when we think of entertainment, we must _____, 'activities' such as indoor games, card playing, dice, tenpin bowling, even amateur theatricals, because the point of all these is that we are providing our _____ amusement. To be 'entertained', we must be content to look, and to _____.

our _____ amusement.

Options:

- 1) exclusive
- 2) Choice
- 3) Own
- 4) Preferred

Correct Answer: Own

QID : 275 - In the following passage some of the words have been left out. Read the passage carefully and select the correct answer for the given blank out of the four alternatives.

'Entertainment' implies non-participation by the _____. A football match may be entertainment to the spectators, but it is a _____ to the players, and when we think of entertainment, we must _____, 'activities' such as indoor games, card playing, dice, tenpin bowling, even amateur theatricals, because the point of all these is that we are providing our _____ amusement. To be 'entertained', we must be content to look, and to _____.

we must be content to look, and to _____.

Options:

- 1) hear
- 2) See
- 3) Ignore
- 4) Listen

Correct Answer: Listen

QID : 276 - When people are engaged in production of goods and services they are said to be engaged in _____.

जब लोग वस्तुओं तथा सेवाओं के उत्पादन में व्यस्त होते हैं तब उन्हें _____ में व्यस्त होना कहते हैं।

Options:

- 1) Business
व्यवसाय
- 2) Economic activities
आर्थिक गतिविधियाँ
- 3) Work
कार्य
- 4) Manufacturing
विनिर्माण

Correct Answer: Economic activities
आर्थिक गतिविधियाँ

कार्य

QID : 277 - What is the record of all economic transactions of a country in a particular period called? किसी देश की एक निश्चित अवधि में होने वाली सभी आर्थिक लेन-देन के अभिलेख को क्या कहते हैं?

Options:

- 1) Balance of Payment
भुगतान संतुलन
- 2) Fiscal Deficit
राजकोषीय घाटा
- 3) Current Account Deficit
चालू खाता घाटा
- 4) Balance of trade
व्यापार का संतुलन

Correct Answer: Balance of Payment

भुगतान संतुलन

भुगतान संतुलन

QID : 278 - Which among the following is one of the important functions of the Lok Sabha (House of People)? निम्नलिखित में से कौन सा लोक सभा का एक महत्वपूर्ण काम होता है?

Options:

- 1) To select the executive
कार्यपालिका का चुनाव करना
- 2) To select the judiciary
न्यायपालिका का चुनाव करना
- 3) To select the legislature
विधायिकी का चुनाव करना
- 4) None of these
इनमें से कोई नहीं

Correct Answer: To select the executive
कार्यपालिका का चुनाव करना

कार्यपालिका का चुनाव करना

QID : 279 - Which part of Indian constitution deals with 'The union and its territories'? भारतीय संविधान का कौन सा भाग 'संघ और उसके क्षेत्र' के बारे में बताता है?

Options:

1) Part I

भाग I

2) Part II

भाग II

3) Part III

भाग III

4) Part IV

भाग IV

Correct Answer: Part I

भाग I

भाग IV

QID : 280 - In which state, 'The Great Stupa of Sanchi' located?

किस प्रदेश में 'साँची का महान स्तूप' स्थित है?

Options:

1) Andhra Pradesh

आन्ध्र प्रदेश

2) Madhya Pradesh

मध्य प्रदेश

3) Odisha

ओड़िसा

4) Uttar Pradesh

उत्तर प्रदेश

Correct Answer: Madhya Pradesh

मध्य प्रदेश

मध्य प्रदेश

QID : 281 -

Match the following.

निम्नलिखित का मिलान कीजिए।

Term / शब्द	Meaning / अर्थ
A. Subas सूबा	1. Military Pay Master सैनिक वेतनाधिकारी
B. Diwan दीवान	2. Provinces प्रांत
C. Bakhshi बकशी	3. Financial Officer वित्तीय अधिकारी

Options:

1) B-1, C-3, A-2

2) A-2, B-3, C-1

3) C-2, B-3, A-1

4) B-2, A-1, C-3

Correct Answer: A-2, B-3, C-1**QID : 282** - Maps showing cities, towns and villages and different countries and states of the world with their boundaries are called _____ maps.

राज्यों, नगरों, शहरों तथा गाँवों एवं विश्व के विभिन्न देशों व राज्यों तथा उनकी सीमाओं को दर्शाने वाले मानचित्रों को _____ मानचित्र कहते हैं।

Options:

1) Relief

उच्चावच

2) Political

राजनीतिक

3) Thematic

थिमैटिक

4) Symbolic

प्रतीकात्मक

Correct Answer: Political

राजनीतिक

प्रतीकात्मक

QID : 283 - The greatest depth is recorded at which place on Earth?

पृथ्वी पर किस जगह पर सबसे अधिक गहराई दर्ज की गई है?

Options:

1) Lake Baikal

बयकाल झील

2) Kidd Mine

किड्ड खादान

3) Mariana Trench

मेरियाना गर्त

4) Litke Deep

लिट्क डीप

Correct Answer: Mariana Trench

मेरियाना गर्त

मेरियाना गर्त

QID : 284 - In the heart of man the bicuspid valve is situated between _____.

मानव के हृदय में द्विवलनी कपाट _____ स्थित होता है।

Options:

1) Right ventricle and pulmonary aorta

दायें निलय और फुफ्फुसी महाधमनी के बीच

2) Left auricle and left ventricle

बायें अलिंद और बायें निलय के बीच

3) Right auricle and right ventricle

दायें अलिंद और दायें निलय के बीच

4) Postcaval and auricle

कोष्ठ कैवल और अलिंद के बीच

Correct Answer: Left auricle and left ventricle

बायें अलिंद और बायें निलय के बीच

बायें अलिंद और बायें निलय के बीच

QID : 285 - The basic unit of a vertebrate kidney is the _____.

एक कशेरुकी वृक्क की मूलभूत इकाई _____ है।

Options:

1) ureter

यूरेटर

2) nephron

नेफ्रोन

3) Malpighian tubule

मेलपिगियन नलिका

4) Islets of langerhans

लैंगरहेंस द्वीपसमूह

Correct Answer: nephron

नेफ्रोन

QID : 286 - Which one of the following would not limit photosynthesis?

निम्नलिखित में से कौन प्रकाश संश्लेषण को सीमित नहीं कर सकता है?

Options:

1) Oxygen

ऑक्सीजन

2) Carbon dioxide

कार्बन डाईऑक्साइड

3) Light

प्रकाश

4) chlorophyll

क्लोरोफिल

Correct Answer: Oxygen

ऑक्सीजन

क्लोरोफिल

QID : 287 - The sunlight consists of how many colours?

सूर्य के प्रकाश में कितने विद्यमान हैं?

Options:

1) One

एक

2) Five

पाच

3) Seven

सात

4) Eleven

ग्यारह

Correct Answer: Seven

सात

सात

QID : 288 - In science, a push or pull is on an object as called what?

विज्ञान में किसी वस्तु पर लगने वाले धक्के (अभिकर्षण) या

खिंचाव (अपकर्षण) को क्या कहते हैं?

Options:

1) Velocity

चाल

2) Acceleration

त्वरण

3) Pressure

दाब

4) Force

बल

Correct Answer: Force

बल

दाब

QID : 289 - AMD is associated with which component of computers?

ए. एम. डी. कंप्यूटर के किस अंग से सम्बंधित है?

Options:

1) Keyboard

कीबोर्ड

2) Mouse

माउस

3) Processors

प्रोसेसर

4) Monitor

मॉनिटर

Correct Answer: Processors

प्रोसेसर

माउस

QID : 290 - Cinnabar is an ore of _____.

सिनबार निम्न में से _____ अयस्क है।

Options:

1) Pb

2) Sn

3) Hg

4) Ag

Correct Answer: Hg

QID : 291 - The real bleaching agent present in bleaching powder is _____.

विरंजक चूर्ण में पाया जाने वाला वास्तविक विरंजक _____ कारक है।

Options:

1) chlorine

क्लोरीन

2) oxygen

ऑक्सीजन

3) Calcium oxide

कैल्शियम ऑक्साइड

4) Chlorine and oxygen both

क्लोरीन तथा ऑक्सीजन दोनों

Correct Answer: chlorine

क्लोरीन

क्लोरीन तथा ऑक्सीजन दोनों

QID : 292 - As a result of green house effect, the average temperature of the earth's atmosphere is gradually increasing. This is called _____.

हरितगृह प्रभाव के परिणामस्वरूप वायुमंडल के औसत ताप में निरंतर वृद्धि हो रही है। इसे _____ कहते हैं।

Options:

1) Earth warming

पृथ्वी ऊष्णन

2) Global warming

विश्व ऊष्णन

3) Greenhouse warming

हरितगृह ऊष्णन पौधा-घर ऊष्णन

4) Natural warming

प्राकृतिक ऊष्णन

Correct Answer: Global warming

विश्व ऊष्णन

विश्व ऊष्णन

QID : 293 - What is the minimum age of joining Atal Pension Yojana?

अटल पेंशन योजना से जुड़ने के लिए न्यूनतम आयु क्या है?

Options:

1) 18 years

18 साल

2) 21 years

21 साल

3) 30 years

30 साल

4) 40 years

40 साल

Correct Answer: 18 years

18 साल

40 साल

QID : 294 - Who invented Penicillin?

पेनिसिलिन का आविष्कार किसने किया?

Options:

1) Neils Bohr

नील्स बोर

2) Alexander Fleming

अलेक्ज़ांडर फ्लेमिङ

3) Robert A. Millikan

रोबर्ट ए. मिल्लिकन

4) Robert Boyle

रॉबर्ट बॉयल

Correct Answer: Alexander Fleming

अलेक्ज़ांडर फ्लेमिङ

अलेक्ज़ांडर फ्लेमिङ

QID : 295 - Which city will host the 2020 Summer Olympic Games?

कौन सा शहर 2020 ग्रीष्मकालीन ओलंपिक खेलों की मेजबानी करेगा?

Options:

1) Japan

जापान

2) China

चीन

3) South Korea

दक्षिण कोरिया

4) United States of America

संयुक्त राज्य अमेरिका

Correct Answer: Japan

जापान

जापान

QID : 296 - What is Jantar Mantar?

जंतर मंतर क्या है?

Options:

1) A city

एक शहर

2) A museum

एक संग्रहालय

3) An astronomical observatory

एक खगोलीय वेधशाला

4) A temple

एक मंदिर

Correct Answer: An astronomical observatory

एक खगोलीय वेधशाला

एक खगोलीय वेधशाला

QID : 297 - Who among the following won the Kirti Chakra Award 2017?

किसने कीर्ति चक्र पुरस्कार 2017 जीता है?

Options:

1) Major Rohit Suri

मेजर रोहित सूरी

2) Havildar Hangpan Dada

हवलदार हंगपन्ना दादा

3) Major Rajat Chandra

मेजर रजत चंद्र

4) Captain Ashutosh Kumar

कप्तान आशुतोष कुमार

Correct Answer: Major Rohit Suri

मेजर रोहित सूरी

मेजर रोहित सूरी

QID : 298 - Who is the author of the book named 'Ignited Minds'?

'इग्नाइटेड माइंड्स' नामक किताब के लेखक/लेखिका कौन हैं?

Options:

1) A.P.J. Abdul Kalam

ए. पी. जे. अब्दुल कलाम

2) Kalpana Chawla

कल्पना चावला

3) Ellen Page

ऐलेन पेज

4) Sushma Swaraj

सुषमा स्वराज

Correct Answer: A.P.J. Abdul Kalam

ए. पी. जे. अब्दुल कलाम

ए. पी. जे. अब्दुल कलाम

QID : 299 - Which country plays an important role in India's Act East Policy?

भारत के अधिनियम पूर्व नीति में कौन सा देश महत्वपूर्ण

भूमिका निभाता है?

Options:

1) China

चीन

2) Japan

जापान

3) Myanmar

म्यांमार

4) Bhutan

भूटान

Correct Answer: Myanmar

म्यांमार

म्यांमार

QID : 300 - India to Thailand highway passes through which country?

भारत से थाइलैंड हाईवे किस देश से होकर गुजरता है?

Options:

1) Nepal

नेपाल

2) Myanmar

म्यांमार

3) China

चीन

4) Pakistan

पाकिस्तान

Correct Answer: Myanmar

म्यांमार

म्यांमार