



Staff Selection Commission
(Government Of India)

REGISTRATION NUMBER : 2201017723

CANDIDATES NAME: MOCKTIME.COM

EXAM NAME : SSC CHSL

EXAM DURATION : 01:00 Hrs

TOTAL MARKS : 200

TOTAL NO OF QUESTIONS : 100

QID : 1 -

In the following question, select the number which can be placed at the sign of question mark (?) from the given alternatives.

निम्नलिखित प्रश्न में दिए गए विकल्पों में से प्रश्न चिह्न (?) के स्थान पर आने वाली संख्या को चुनिए।

3	5	2	32
6	2	3	38
4	3	5	?

Options:

- 1) 36
- 2) 62
- 3) 80
- 4) 84

Correct Answer: 62

QID : 2 -

How many triangles are there in the given figure?

दी गई आकृति में कितने त्रिभुज हैं?



Options:

- 1) 5
- 2) 6
- 3) 7
- 4) 8

Correct Answer: 7

QID : 3 -

A word is represented by only one set of numbers as given in any one of the alternatives. The sets of numbers given in the alternatives are represented by two classes of alphabets as shown in the given two matrices. The columns and rows of **Matrix-I** are numbered from 0 to 4 and that of **Matrix-II** are numbered from 5 to 9. A letter from these matrices can be represented first by its row and next by its column, for example, 'Z' can be represented by 20, 97, etc., and 'Y' can be represented by 42, 79, etc. Similarly, you have to identify the set for the word "FRONT".

एक शब्द केवल एक संख्या-समूह द्वारा दर्शाया गया है, जैसा कि विकल्पों में से किसी एक में दिया गया है। विकल्पों में दिए गए संख्या-समूह अक्षरों के दो वर्गों द्वारा दर्शाए गए हैं, जैसा कि दिए गए दो आव्यूहों में है। आव्यूह-I के स्तम्भ और पंक्ति की संख्या 0 से 4 है और आव्यूह-II की 5 से 9। इन आव्यूहों से एक अक्षर को पहले उसकी पंक्ति और बाद में स्तम्भ संख्या द्वारा दर्शाया जा सकता है। उदाहरण के लिए 'Z' को 20, 97, आदि द्वारा दर्शाया जा सकता है तथा 'Y' को 42, 79, आदि द्वारा दर्शाया जा सकता है। इसी तरह से आपको प्रश्न में दिए शब्द "FRONT" के लिए समूह को पहचानना है।

Matrix-I आव्यूह-I						Matrix-II आव्यूह-II					
	0	1	2	3	4		5	6	7	8	9
0	F	H	J	L	N	5	N	P	I	K	B
1	P	R	T	V	X	6	L	E	R	M	A
2	Z	B	D	G	E	7	J	T	D	O	Y
3	K	M	O	Q	S	8	H	V	B	Q	W
4	U	W	Y	A	C	9	F	X	Z	C	U

Options:

- 1) 00, 11, 32, 04, 12
- 2) 95, 67, 32, 55, 75
- 3) 00, 31, 85, 03, 76
- 4) 95, 11, 79, 55, 23

Correct Answer: 00, 11, 32, 04, 12

QID : 4 -

From the given answer figures, select the one in which the question figure is hidden/embedded.

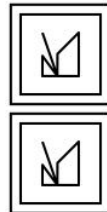
दी गई उत्तर आकृतियों में से उस उत्तर आकृति को चुनिए जिस में प्रश्न आकृति निहित है।



Options:

- 1)
- 2)
- 3)
- 4)

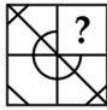
Correct Answer:



QID : 5 -

Which answer figure will complete the pattern in the question figure?

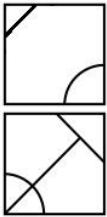
कौन सी उत्तर आकृति प्रश्न आकृति के प्रतिरूप को पूरा करेगी?



Options:

- 1)
- 2)
- 3)
- 4)

Correct Answer:



QID : 6 -

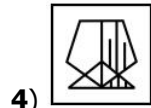
If a mirror is placed on the line AB, then which of the answer figures is the right image of the given figure?

यदि एक दर्पण को AB रेखा पर रखा जाए, तो दी गई उत्तर आकृतियों में से कौन सी आकृति प्रश्न आकृति की सही प्रतिबिम्ब होगी?



Options:

- 1)
- 2)
- 3)



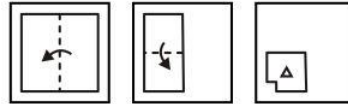
4) Correct Answer:



QID : 7 -

A piece of paper is folded and punched as shown below in the question figures. From the given answer figures, indicate how it will appear when opened?

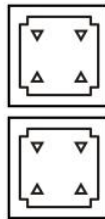
नीचे के प्रश्न आकृतियों में दिखाए अनुसार कागज को मोड़कर छेदने तथा खोलने के बाद वह किस उत्तर आकृति जैसा दिखाई देगा?



Options:

- 1)
- 2)
- 3)
- 4)

Correct Answer:



QID : 8 - If 'x' means '+', '+' means 'x', '-' means '÷' and '÷' means '-', then which of the following equation is correct?

यदि 'x' का अर्थ '+', '+' का अर्थ 'x', '-' का अर्थ '÷' तथा '÷' का अर्थ '-' हो, तो निम्नलिखित में कौन सा समीकरण सही है?

Options:

- 1) $12 - 3 \times 4 = 12$
- 2) $5 + 2 - 4 = 13/2$
- 3) $49 \times 7 - 14 = 98/2$
- 4) $44 + 4 - 2 = 88$

Correct Answer: $44 + 4 - 2 = 88$

QID : 9 - If $3 \# 9 @ 4 = 3$ and $4 \# 4 @ 4 = 2$, then $6 \# 4 @ 5 = ?$

यदि $3 \# 9 @ 4 = 3$ तथा $4 \# 4 @ 4 = 2$ हो, तो $6 \# 4 @ 5 = ?$

Options:

- 1) 3
- 2) 2
- 3) 4
- 4) 1

Correct Answer: 2

QID : 10 - Arrange the given words in the sequence in which they occur in the dictionary.

1. Viper
2. Vapour
3. Victory
4. Vacuum
5. Visit

निम्नलिखित शब्दों को शब्दकोश में आने वाले क्रम के अनुसार लिखें।

1. Viper
2. Vapour
3. Victory
4. Vacuum
5. Visit

Options:

- 1) 42135
- 2) 42315
- 3) 24315
- 4) 24135

Correct Answer: 42315

QID : 11 - In the following question, select the missing number from the given alternatives.

?, 28, 65, 126, 217, 344

निम्नलिखित प्रश्न में दिए गए विकल्पों में से लुप्त अंक ज्ञात कीजिए।

?, 28, 65, 126, 217, 344

Options:

- 1) 7
- 2) 4
- 3) 9
- 4) 5

Correct Answer: 9

QID : 12 - A series is given with one term missing. Select the correct alternative from the given ones that will complete the series.

J, O, T, Y, D, ?

एक अनुक्रम दिया गया है, जिसमें से एक पद लुप्त है। दिए गए विकल्पों में से वह सही विकल्प चुनिए, जो अनुक्रम को पूरा करे।

J, O, T, Y, D, ?

Options:

- 1) I
- 2) J
- 3) H
- 4) K

Correct Answer: I

QID : 13 - In the following question, select the odd word from the given alternatives.

निम्नलिखित प्रश्न में दिए गए विकल्पों में से विषम शब्द को चुनिए।

Options:

- 1) Metre
मीटर
- 2) Kilometre
किलोमीटर
- 3) Centimetre
सेंटीमीटर
- 4) Litre
लीटर

Correct Answer: Litre

लीटर

लीटर

QID : 14 - In the following question, select the odd number pair from the given alternatives.

निम्नलिखित प्रश्न में दिए गए विकल्पों में से विषम संख्या युग्म को चुनिए।

Options:

- 1) 24 : 47
- 2) 16 : 31
- 3) 28 : 55
- 4) 32 : 65

Correct Answer: 32 : 65

QID : 15 - In the following question, select the odd letters from the given alternatives.

निम्नलिखित प्रश्न में दिए गए विकल्पों में से विषम अक्षरों को चुनिए।

Options:

- 1) ACEG
- 2) MOQS
- 3) FHIK
- 4) PRTV

Correct Answer: FHIK

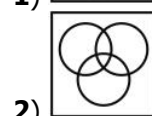
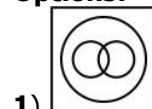
QID : 16 - Identify the diagram that best represents the relationship among the given classes.

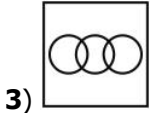
Cricketer, Male, Actor

वह आरेख चुनिए जो नीचे दिए गए वर्गों के बीच के संबंध का सही निरूपण करता है।

क्रिकेटर, पुरुष, अभिनेता

Options:



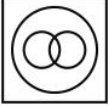
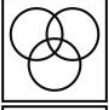


3)



4)

Correct Answer:



QID : 17 - In the following question, select the related word from the given alternatives.

Love : Hate :: Deep : ?

निम्नलिखित प्रश्न में दिए गए विकल्पों में से संबंधित शब्द को चुनिए।

प्रेम : घृणा :: गहरा : ?

Options:

1) Long

लम्बा

2) Bright

चमकीला

3) Shallow

छिछला

4) High

ऊँचा

Correct Answer: Shallow

छिछला

ऊँचा

QID : 18 - In the following question, select the related number from the given alternatives.

18636 : 3106 :: 2508 : ?

निम्नलिखित प्रश्न में दिए गए विकल्पों में से संबंधित संख्या को चुनिए।

18636 : 3106 :: 2508 : ?

Options:

1) 418

2) 406

3) 394

4) 430

Correct Answer: 418

QID : 19 - In the following question, select the related letters from the given alternatives.

LP : QU :: VX : ?

निम्नलिखित प्रश्न में दिए गए विकल्पों में से संबंधित अक्षरों को चुनिए।

LP : QU :: VX : ?

Options:

1) BD

2) AD

3) ZB

4) AC

Correct Answer: AC

QID : 20 - In the following question, select the word which cannot be formed using the letters of the given word.

OPTICIAN

निम्नलिखित विकल्पों में से वह शब्द चुनिए जो दिए गए शब्द के अक्षरों का प्रयोग करके नहीं बनाया जा सकता।

OPTICIAN

Options:

1) PAINT

2) PAIN

3) COIN

4) TAIL

Correct Answer: TAIL

QID : 21 - P is father of Q, but Q is not his son. S is wife of P. R is son of S. How is Q related to S?

P, Q का पिता है परंतु Q उसका पुत्र नहीं है। S, P की पत्नी है।

R, S का पुत्र है। Q, S से किस प्रकार संबंधित है?

Options:

1) Brother

भाई

2) Daughter

पुत्री

3) Father

पिता

4) Cannot be determined

ज्ञात नहीं किया जा सकता

Correct Answer: Daughter

पुत्री

भाई

QID : 22 - Megha walks 10 km towards North. She turns right and walks 15 km. She turns right and walks 20 km. She turns right and walks 15 km. How far (in km) is she from her starting point?

मेघा उत्तर की ओर 10 कि.मी. चलती है। वह दायीं ओर मुड़ती है तथा 15 कि.मी. चलती है। वह दायीं ओर मुड़ती है तथा 20 कि.मी. चलती है। वह दायीं ओर मुड़ती है तथा 15 कि.मी. चलती है। वह अपने आरंभिक बिन्दु से कितनी दूरी (कि.मी. में) पर है?

मेघा उत्तर की ओर 10 कि.मी. चलती है। वह दायीं ओर मुड़ती है तथा 15 कि.मी. चलती है। वह दायीं ओर मुड़ती है तथा 20 कि.मी. चलती है। वह दायीं ओर मुड़ती है तथा 15 कि.मी. चलती है। वह अपने आरंभिक बिन्दु से कितनी दूरी (कि.मी. में) पर है?

मेघा उत्तर की ओर 10 कि.मी. चलती है। वह दायीं ओर मुड़ती है तथा 15 कि.मी. चलती है। वह दायीं ओर मुड़ती है तथा 20 कि.मी. चलती है। वह दायीं ओर मुड़ती है तथा 15 कि.मी. चलती है। वह अपने आरंभिक बिन्दु से कितनी दूरी (कि.मी. में) पर है?

मेघा उत्तर की ओर 10 कि.मी. चलती है। वह दायीं ओर मुड़ती है तथा 15 कि.मी. चलती है। वह दायीं ओर मुड़ती है तथा 20 कि.मी. चलती है। वह दायीं ओर मुड़ती है तथा 15 कि.मी. चलती है। वह अपने आरंभिक बिन्दु से कितनी दूरी (कि.मी. में) पर है?

मेघा उत्तर की ओर 10 कि.मी. चलती है। वह दायीं ओर मुड़ती है तथा 15 कि.मी. चलती है। वह दायीं ओर मुड़ती है तथा 20 कि.मी. चलती है। वह दायीं ओर मुड़ती है तथा 15 कि.मी. चलती है। वह अपने आरंभिक बिन्दु से कितनी दूरी (कि.मी. में) पर है?

Options:

1) 15

2) 5

3) 10

4) 20

Correct Answer: 10

QID : 23 - In the following question below are given some statements followed by some conclusions. Taking the given statements to be true even if they seem to be at variance from commonly known facts, read all the conclusions and then decide which of the given conclusion logically follows the given statements.

Statements:

- I. All pens are cups.
II. All cups are chairs.

Conclusions:

- I. All pens are chairs.
II. Some cups are pens.

नीचे दिए गए प्रश्न में कुछ कथन और उनके बाद उन कथनों पर आधारित कुछ निष्कर्ष दिए गए हैं, हालांकि उनमें सामान्य ज्ञात तथ्यों से भिन्नता हो सकती है। सभी निष्कर्ष पढ़ें और फिर निर्धारित करें कि दिए गए कौन से निष्कर्ष, दिए गए कथनों के आधार पर युक्तिसंगत हैं।

कथन:

- I. सभी कलम कप हैं।
II. सभी कप कुर्सियाँ हैं।

निष्कर्ष:

- I. सभी कलम कुर्सियाँ हैं।
II. कुछ कप कलम हैं।

Options:

- 1) Only conclusion (I) follows.
केवल निष्कर्ष (I) सही है।
2) Only conclusion (II) follows.
केवल निष्कर्ष (II) सही है।
3) Both conclusion follow.
दोनों ही निष्कर्ष सही हैं।
4) Neither conclusion (I) nor conclusion (II) follows.
न तो निष्कर्ष (I) न ही निष्कर्ष (II) सही है।

Correct Answer: Both conclusion follow.
दोनों ही निष्कर्ष सही हैं।

QID : 24 - In a certain code language, "BOOK" is written as "CQRO". How is "ROAD" written in that code language?

एक विशिष्ट कोड भाषा में, "BOOK" को "CQRO" लिखा जाता है। इस कोड भाषा में "ROAD" को किस प्रकार लिखा जाएगा?

Options:

- 1) SQDH
2) SQCH
3) SRDH
4) SREH

Correct Answer: SQDH

QID : 25 - In a certain code language, "HELLO" is written as "97151620" and "WORLD" is written as "241721169". How is "FRUIT" written in that code language?

एक विशिष्ट कोड भाषा में, "HELLO" को "97151620" तथा "WORLD" को "241721169" लिखा जाता है। इस कोड भाषा में "FRUIT" को किस प्रकार लिखा जाएगा?

Options:

- 1) 720241325
2) 720231325
3) 720241324
4) 719231325

Correct Answer: 720241325

QID : 26 - Which of the following is true?
निम्नलिखित में से कौन सा सही है?

Options:

- 1) $\frac{7}{8} > \frac{6}{7} > \frac{3}{4}$
2) $\frac{3}{4} > \frac{6}{7} > \frac{7}{8}$
3) $\frac{6}{7} > \frac{3}{4} > \frac{7}{8}$
4) $\frac{6}{7} > \frac{7}{8} > \frac{3}{4}$

Correct Answer:

$$\frac{7}{8} > \frac{6}{7} > \frac{3}{4}$$

QID : 27 -

What is the simplified value of $\frac{\sqrt{9} + \sqrt{7}}{\sqrt{9} - \sqrt{7}}$?

$\frac{\sqrt{9} + \sqrt{7}}{\sqrt{9} - \sqrt{7}}$ का सरलीकृत मान क्या है?

Options:

- 1) $8 + 3\sqrt{7}$
2) $8 - 3\sqrt{7}$
3) $16 + 3\sqrt{7}$
4) $16 - 3\sqrt{7}$

Correct Answer: $8 + 3\sqrt{7}$

QID : 28 - If $A = 2^3 \times 3^4$ and $B = 2^5 \times 3^2$, then what is the value of $A \times B$?

यदि $A = 2^3 \times 3^4$ तथा $B = 2^5 \times 3^2$ हो, तो $A \times B$ का मान क्या है?

Options:

- 1) $2^8 \times 3^6$
2) $2^{15} \times 3^8$
3) $2^8 \times 3^8$
4) $2^{15} \times 3^6$

Correct Answer: $2^8 \times 3^6$

QID : 29 -

Which of the following relation(s) is/are true?

- I. $\sqrt{2} > \sqrt[3]{3}$
II. $\sqrt[3]{3} > \sqrt{2}$
III. $\sqrt{2} = \sqrt[3]{3}$

निम्नलिखित में से कौन सा/से संबंध सही है/हैं?

- I. $\sqrt{2} > \sqrt[3]{3}$
II. $\sqrt[3]{3} > \sqrt{2}$
III. $\sqrt{2} = \sqrt[3]{3}$

Options:

- 1) Only I
केवल I
2) Only II
केवल II
3) Neither I nor II

न तो I न ही II

4) Either I or II

I अथवा II

Correct Answer: Only II

केवल II

न तो I न ही II

QID : 30 -

What is the simplified value of $\frac{(2.7)^3 + (1.3)^3}{(2.7)^2 - 2.7 \times 1.3 + (1.3)^2}$?

$\frac{(2.7)^3 + (1.3)^3}{(2.7)^2 - 2.7 \times 1.3 + (1.3)^2}$ का सरलीकृत मान क्या है?

Options:

1) 4

2) 1.4

3) 1.3

4) 2.7

Correct Answer: 4

QID : 31 - How many two digit numbers are divisible by 9?

दो अंकों की कितनी संख्याएँ 9 से विभाजित होती हैं?

Options:

1) 9

2) 8

3) 10

4) 1

Correct Answer: 10

QID : 32 - P alone can complete a work in 10 days and Q alone can complete the same work in 20 days. If P and Q work together, then in how many days the same work will be completed?

P अकेला किसी कार्य को 10 दिनों में पूरा कर सकता है तथा Q अकेला उस कार्य को 20 दिनों में पूरा कर सकता है। यदि P तथा Q मिलकर कार्य करे, तो वही कार्य कितने दिनों में पूरा हो जाएगा?

Options:

1) $5\frac{2}{3}$

2) $6\frac{2}{3}$

3) $8\frac{2}{3}$

4) $7\frac{4}{5}$

Correct Answer:

$6\frac{2}{3}$

$6\frac{2}{3}$

QID : 33 - A and B together can complete a work in 8 days. B alone can complete the work in 24 days. In how many days A alone can complete the same work?

A तथा B मिलकर किसी कार्य को 8 दिनों में पूरा कर सकते हैं। B अकेला 24 दिनों में कार्य पूरा कर सकता है। A अकेला उस कार्य को कितने दिनों में पूरा कर सकता है?

Options:

1) 16

2) 14

3) 12

4) 13

Correct Answer: 12

QID : 34 - What is the area (in cm^2) of a square having perimeter 84 cm?

84 से.मी. परिमाप वाले वर्ग का क्षेत्रफल (से.मी.² में) क्या है?

Options:

1) 361

2) 529

3) 484

4) 441

Correct Answer: 441

QID : 35 - Two successive discounts of 30% and 70% are given. What will be the net discount (in percentage)?

30% तथा 70% की दो क्रमिक छूट दी जाती है। निवल (नेट) छूट (प्रतिशत में) क्या होगी?

Options:

1) 63

2) 79

3) 100

4) 87

Correct Answer: 79

QID : 36 - After giving a discount of 40% on an article, there is still a profit of 25%. If no discount is given, then what will be the profit percentage?

एक वस्तु पर 40% की छूट देने के पश्चात भी 25% का लाभ होता है। यदि कोई छूट न दी जाए, तो लाभ प्रतिशत क्या होगा?

Options:

1) 109.33

2) 25

3) 107.67

4) 108.33

Correct Answer: 108.33

QID : 37 - Marks of A and B are in the ratio 5 : 7

respectively. If the marks of A is 25, then find the marks of B?

A तथा B के अंको का अनुपात क्रमशः 5 : 7 है। यदि A के अंक 25 हैं, तो B के अंक ज्ञात किजिए?

Options:

1) 60

2) 35

3) 28

4) 45

Correct Answer: 35

QID : 38 - If **A : B = 4 : 5** and **B : C = 20 : 11**, then find **A : B : C** ?

यदि $A : B = 4 : 5$ तथा $B : C = 20 : 11$, तो $A : B : C$ ज्ञात करो?

Options:

- 1) 4 : 20 : 7
- 2) 16 : 25 : 22
- 3) 16 : 20 : 11
- 4) 8 : 10 : 7

Correct Answer: 16 : 20 : 11

QID : 39 - Average of 43, 57, 68, 32, 97 and x is 63. What is the value of x?

43, 57, 68, 32, 97 तथा x का औसत 63 है। x का मान क्या है?

Options:

- 1) 83
- 2) 77
- 3) 81
- 4) 75

Correct Answer: 81

QID : 40 - If the ratio of selling price and cost price is 3 : 4 respectively, then what is the loss percentage?

यदि विक्रय मूल्य तथा क्रय मूल्य का क्रमशः अनुपात 3 : 4 है, तो हानि प्रतिशत क्या है?

Options:

- 1) 10
- 2) 33.33
- 3) 20
- 4) 25

Correct Answer: 25

QID : 41 - An article is sold at 30% loss. If the selling price is increased by 50%, then what is the profit percentage?

एक वस्तु को 30% की हानि पर बेचा जाता है। यदि विक्रय मूल्य को 50% से बढ़ाया जाता है, तो लाभ प्रतिशत क्या है?

Options:

- 1) 5
- 2) 8
- 3) 12
- 4) 20

Correct Answer: 5

QID : 42 - What is the value of 20% of 30% of 7200?

7200 के 30% का 20% का मान क्या है?

Options:

- 1) 480
- 2) 432
- 3) 412
- 4) 360

Correct Answer: 432

QID : 43 - 12% of what number is equal to 30% of 960?

किस संख्या का 12%, 960 के 30% के बराबर है?

Options:

- 1) 2400
- 2) 1720
- 3) 1440

4) 2880

Correct Answer: 2400

QID : 44 - If a car travels a distance with 20% less speed, then it will reach 15 minutes late. What is the usual time (in minutes) taken by the car to travel the same distance?

यदि एक कार 20% कम गति से यात्रा करते हुए एक दूरी तय करती है, तो वह 15 मिनट देरी से पहुँचती है। सामान्यता उसे वह दूरी तय करने में कितना समय (मिनटों में) लगता होगा?

Options:

- 1) 80
- 2) 90
- 3) 75
- 4) 60

Correct Answer: 60

QID : 45 - A goes from Point X to Point Y at a speed of 60 km/hr and comes back with a speed of 80 km/hr. What is the average speed (in km/hr) of A for going and coming back?

A, बिंदु X से बिंदु Y तक 60 कि.मी./घंटा की गति से जाता है तथा 80 कि.मी./घंटा की गति से वापस आता है। जाने तथा वापस आने में A की औसतन गति (कि.मी./घंटा में) क्या है?

Options:

- 1) 66.66
- 2) 68.57
- 3) 67.33
- 4) 69.43

Correct Answer: 68.57

QID : 46 - A certain amount double in 5 years, when invested at simple interest. In how many years will it become 8 times?

एक निश्चित राशि साधारण ब्याज पर निवेश करने पर 5 वर्ष में दोगुनी हो जाती है। वह राशि कितने वर्षों में 8 गुनी हो जाएगी?

Options:

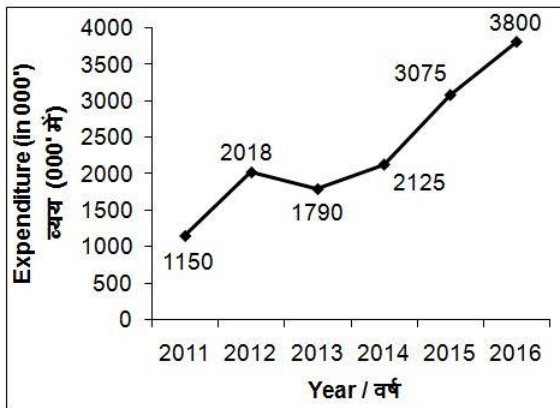
- 1) 35
- 2) 40
- 3) 30
- 4) 45

Correct Answer: 35

QID : 47 -

The line chart given below shows the expenditure on clothes (in 000') for the given years.

नीचे दिए गए रेखा चित्र में दिए गए वर्षों के लिए कपड़ों पर किए गए व्यय (000' में) को दर्शाया गया है।



Expenditure in year 2016 is how much percent more than the expenditure in year 2015?

वर्ष 2016 में हुआ व्यय वर्ष 2015 में हुए व्यय से कितना प्रतिशत अधिक है?

Options:

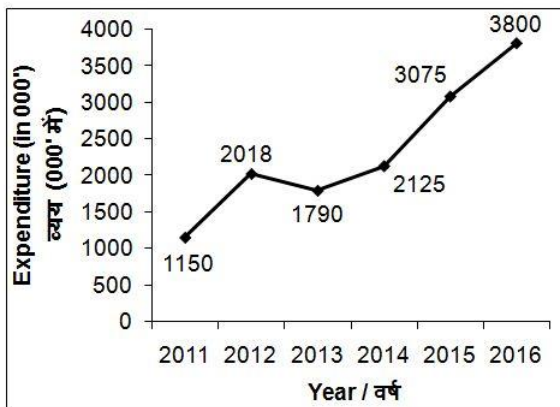
- 1) 19.07
- 2) 23.57
- 3) 21.16
- 4) 17.64

Correct Answer: 23.57

QID : 48 -

The line chart given below shows the expenditure on clothes (in 000') for the given years.

नीचे दिए गए रेखा चित्र में दिए गए वर्षों के लिए कपड़ों पर किए गए व्यय (000' में) को दर्शाया गया है।



What is the average expenditure (in 000') per year from the year 2014 to 2016?

वर्ष 2014 से 2016 तक प्रति वर्ष औसत व्यय (000' में) क्या है?

Options:

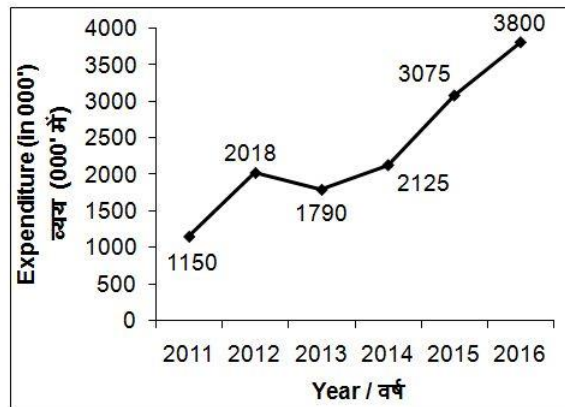
- 1) 3120
- 2) 3080
- 3) 3000
- 4) 3430

Correct Answer: 3000

QID : 49 -

The line chart given below shows the expenditure on clothes (in 000') for the given years.

नीचे दिए गए रेखा चित्र में दिए गए वर्षों के लिए कपड़ों पर किए गए व्यय (000' में) को दर्शाया गया है।



Expenditure in the year 2014 is what percent of the expenditure in year 2013?

वर्ष 2014 में हुआ व्यय वर्ष 2013 में हुए व्यय का कितना प्रतिशत है?

Options:

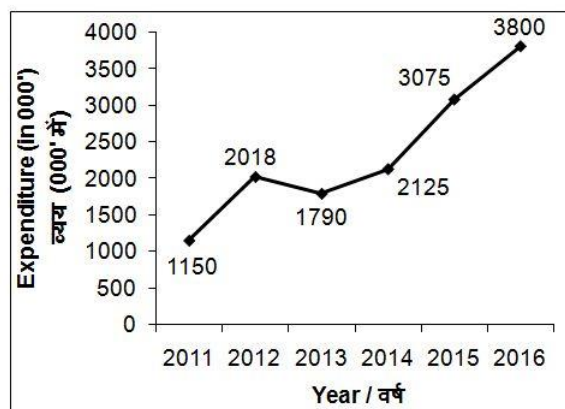
- 1) 118.71
- 2) 18.71
- 3) 115.76
- 4) 15.76

Correct Answer: 118.71

QID : 50 -

The line chart given below shows the expenditure on clothes (in 000') for the given years.

नीचे दिए गए रेखा चित्र में दिए गए वर्षों के लिए कपड़ों पर किए गए व्यय (000' में) को दर्शाया गया है।



Expenditure in the year 2012 is how much more (in 000') than the expenditure in year 2013?

वर्ष 2012 में हुआ व्यय वर्ष 2013 में हुए व्यय से कितना अधिक (000' में) है?

Options:

- 1) 878
- 2) 158
- 3) 228
- 4) 335

Correct Answer: 228

QID : 51 - In the following question, some part of the sentence may have errors. Find out which part of the sentence has an error and select the appropriate option. If a sentence is free from error, select 'No Error'.
This book stall is very well stocked **(1)**/ you can almost get **(2)**/ every book here. **(3)**/ No Error **(4)**

Options:

- 1) 1
- 2) 2
- 3) 3
- 4) 4

Correct Answer: 2

QID : 52 - In the following question, some part of the sentence may have errors. Find out which part of the sentence has an error and select the appropriate option. If a sentence is free from error, select 'No Error'.
The old woman continued living a hard life **(1)**/ but never she asked **(2)**/ for any help from neighbours. **(3)**/ No Error **(4)**

Options:

- 1) 1
- 2) 2
- 3) 3
- 4) 4

Correct Answer: 2

QID : 53 - In the following question, the sentence given with blank to be filled in with an appropriate word. Select the correct alternative out of the four and indicate it by selecting the appropriate option.

He runs faster than _____.

Options:

- 1) I
- 2) me
- 3) my
- 4) his

Correct Answer: I

QID : 54 - In the following question, the sentence given with blank to be filled in with an appropriate word. Select the correct alternative out of the four and indicate it by selecting the appropriate option.

There is no difference between _____ and me.

Options:

- 1) yourself
- 2) you
- 3) yours
- 4) your

Correct Answer: you

QID : 55 - In the following question, out of the given four alternatives, select the one which best expresses the meaning of the given word.

Bleak

Options:

- 1) Comfortable
- 2) Depressing
- 3) Pleasant
- 4) Bright

Correct Answer: Depressing

QID : 56 - In the following question, out of the given four alternatives, select the one which best expresses the meaning of the given word.

Chaos

Options:

- 1) Order
- 2) Quiet
- 3) Mix-up
- 4) Normality

Correct Answer: Mix-up

QID : 57 - In the following question, out of the given four alternatives, select the one which best expresses the meaning of the given word.

Chorus

Options:

- 1) Soloist
- 2) Signing group
- 3) Artist
- 4) Pundit

Correct Answer: Signing group

QID : 58 - In the following question, out of the given four alternatives, select the one which is opposite in meaning of the given word.

Split

Options:

- 1) Clear
- 2) Position
- 3) Join
- 4) Distribute

Correct Answer: Join

QID : 59 - In the following question, out of the given four alternatives, select the one which is opposite in meaning of the given word.

Cherish

Options:

- 1) Abandon
- 2) Admire
- 3) Nourish
- 4) Shelter

Correct Answer: Abandon

QID : 60 - In the following question, out of the given four alternatives, select the one which is opposite in meaning of the given word.

Proceeding

Options:

- 1) Action
- 2) Passiveness
- 3) Movement
- 4) Procedure

Correct Answer: Passiveness

QID : 61 - In the following question, out of the four given alternatives, select the alternative which best expresses the meaning of the Idiom/Phrase.

Make a fortune

Options:

- 1) To become rich
- 2) Boasting
- 3) Unavoidable

4) Reviewing leisurely

Correct Answer: To become rich

QID : 62 - In the following question, out of the four given alternatives, select the alternative which best expresses the meaning of the Idiom/Phrase.

Cry down

Options:

- 1) To depreciate
- 2) Jealousy
- 3) Spending diligently
- 4) Think creatively

Correct Answer: To depreciate

QID : 63 - Improve the bracketed part of the sentence. The jury were divided in **(its)** decision.

Options:

- 1) their
- 2) his
- 3) her
- 4) No improvement

Correct Answer: their

QID : 64 - Improve the bracketed part of the sentence. Everybody was there except **(me)**.

Options:

- 1) I
- 2) my
- 3) mine
- 4) No improvement

Correct Answer: No improvement

QID : 65 - In the following question, out of the four given alternatives, select the alternative which is the best substitute of the phrase.

Flesh Eater

Options:

- 1) Herbivore
- 2) Carnivore
- 3) Omnivore
- 4) Piscivore

Correct Answer: Carnivore

QID : 66 - In the following question, out of the four given alternatives, select the alternative which is the best substitute of the phrase.

One who prescribes medicine

Options:

- 1) Optician
- 2) Politician
- 3) Beautician
- 4) Physician

Correct Answer: Physician

QID : 67 - In the following question, a word has been written in four different ways out of which only one is correctly spelt. Select the correctly spelt word.

Options:

- 1) Sufering
- 2) Suffering
- 3) Suffiring
- 4) Sufireng

Correct Answer: Suffering

QID : 68 - In the following question, a word has been written in four different ways out of which only one is correctly spelt. Select the correctly spelt word.

Options:

- 1) Cuorageous
- 2) Couragious
- 3) Couragoeus
- 4) Courageous

Correct Answer: Courageous

QID : 69 - Rearrange the parts of the sentence in correct order.

Modern e-mail

P: internet or other

Q: computer networks

R: operates across the

Options:

- 1) RQP
- 2) PQR
- 3) QRP
- 4) RPQ

Correct Answer: RPQ

QID : 70 - Rearrange the parts of the sentence in correct order.

The most frightening

P: is that it is likely to

Q: aspect of malnutrition

R: cause permanent brain damage

Options:

- 1) RPQ
- 2) PQR
- 3) QPR
- 4) RQR

Correct Answer: QPR

QID : 71 - In the following passage some of the words have been left out. Read the passage carefully and select the correct answer for the given blank out of the four alternatives.

A mother is the most _____ person in the life of everyone about which we cannot _____ completely in the words. However, some of the _____ moments with our mother can be described. A mother is _____ most beautiful and caring person in our lives. She always cares every moment for our every need without her any _____ intention. In the morning, she calls us very softly to get a rise from the bed and during the night she tells us lovely stories to make us sleep with a beautiful dream.

A mother is the most _____ person

Options:

- 1) precarious
- 2) poetic
- 3) precious
- 4) dependent

Correct Answer: precious

QID : 72 - In the following passage some of the words have been left out. Read the passage carefully and select the correct answer for the given blank out of the four alternatives.

A mother is the most _____ person in the life of everyone about which we cannot _____ completely in the words. However, some of the _____ moments with our mother can be described. A mother is _____ most beautiful and caring person in our lives. She always cares every moment for our every need without her any _____ intention. In the morning, she calls us very softly to get a rise from the bed and during the night she tells us lovely stories to make us sleep with a beautiful dream.
which we cannot _____ completely

Options:

- 1) describe
- 2) write
- 3) speak
- 4) listen

Correct Answer: describe

QID : 73 - In the following passage some of the words have been left out. Read the passage carefully and select the correct answer for the given blank out of the four alternatives.

A mother is the most _____ person in the life of everyone about which we cannot _____ completely in the words. However, some of the _____ moments with our mother can be described. A mother is _____ most beautiful and caring person in our lives. She always cares every moment for our every need without her any _____ intention. In the morning, she calls us very softly to get a rise from the bed and during the night she tells us lovely stories to make us sleep with a beautiful dream.

However some of the _____ moments

Options:

- 1) valueless
- 2) valuable
- 3) checked
- 4) filtered

Correct Answer: valuable

QID : 74 - In the following passage some of the words have been left out. Read the passage carefully and select the correct answer for the given blank out of the four alternatives.

A mother is the most _____ person in the life of everyone about which we cannot _____ completely in the words. However, some of the _____ moments with our mother can be described. A mother is _____ most beautiful and caring person in our lives. She always cares every moment for our every need without her any _____ intention. In the morning, she calls us very softly to get a rise from the bed and during the night she tells us lovely stories to make us sleep with a beautiful dream.

A mother is _____ most beautiful

Options:

- 1) the
- 2) a
- 3) an
- 4) my

Correct Answer: the

QID : 75 - In the following passage some of the words have been left out. Read the passage carefully and select the correct answer for the given blank out of the four alternatives.

A mother is the most _____ person in the life of everyone about which we cannot _____ completely in the words. However, some of the _____ moments with our mother can be described. A mother is _____ most beautiful and caring person in our lives. She always cares every moment for our every need without her any _____ intention. In the morning, she calls us very softly to get a rise from the bed and during the night she tells us lovely stories to make us sleep with a beautiful dream.
need without her any _____ intention.

Options:

- 1) public
- 2) official
- 3) customized
- 4) personal

Correct Answer: personal

QID : 76 - Which among the following is called a medium of exchange?

निम्नलिखित में से कौन विनिमय का माध्यम कहलाता है?

Options:

- 1) Money
धन
- 2) Crops
फसल
- 3) Gold
सोना
- 4) Land
ज़मीन

Correct Answer: Money

धन

धन

QID : 77 - In which kind of wants, both parties have agree to sell and buy each other commodities?

किस प्रकार की आवश्यकताओं में दोनों पक्षों को एक दूसरे से वस्तुएँ बेचने तथा खरीदने के लिए सहमत होना पड़ता है?

Options:

- 1) Single coincidence
एकल संयोग
- 2) Double coincidence
दोहरा संयोग
- 3) Triple coincidence
तेहरा संयोग
- 4) None of these
इनमें से कोई नहीं

Correct Answer: Double coincidence

दोहरा संयोग

एकल संयोग

QID : 78 - Which among the following is/are organ/organs of Indian Government?

I. The Legislature

II. The Judiciary

निम्नलिखित में से कौन सा/ से भारत सरकार का/ के अंग है/हैं?

I. विधायिका

II. न्यायपालिका

Options:

1) Only I

केवल I

2) Only II

केवल II

3) Both I and II

I तथा II दोनों

4) Neither I nor II

Neither I nor II

Correct Answer: Both I and II

I तथा II दोनों

I तथा II दोनों

QID : 79 - How many fundamental duties does part IV-A of Indian constitution specifies?

भारतीय संविधान के तहत भाग IV-A में कितने मौलिक कर्तव्य निर्दिष्ट किये गये हैं?

Options:

1) 5

2) 7

3) 11

4) 31

Correct Answer: 11

QID : 80 - Who was the most famous Kushan ruler?

कुषाणों का सबसे प्रसिद्ध राजा कौन था?

Options:

1) Ashvaghosha

अश्वघोष

2) Kanishka

कनिष्क

3) Heraios

हिराईओस

4) Ban Yong

बान योंग

Correct Answer: Kanishka

कनिष्क

कनिष्क

QID : 81 - Which Mughal emperor issued a 'Farman' granting the East India Company the right to trade duty free?

किस मुगल बादशाह ने ईस्ट इंडिया कंपनी को बिना शुल्क

चुकाए व्यापार करने का फ़रमान जारी किया था?

Options:

1) Shah Jahan

शाहजहाँ

2) Aurangzeb

औरंगजेब

3) Bahadur Shah Zafar

बहादुर शाह ज़फ़र

4) Shah Alam

शाह आलम

Correct Answer: Aurangzeb

औरंगजेब

औरंगजेब

QID : 82 - 90 degrees south latitude marks what?

90 अंश दक्षिणी अक्षांश क्या दर्शाती है?

Options:

1) South Pole

दक्षिण ध्रुव

2) North Pole

उत्तर ध्रुव

3) Equator

विषुवत्त वृत्त

4) Prime Meridian

मुख्य याम्योत्तर

Correct Answer: South Pole

दक्षिण ध्रुव

दक्षिण ध्रुव

QID : 83 - What is the area of the Earth's surface covered with water called?

पृथ्वी की सतह के पानी से ढके भाग को क्या कहते हैं?

Options:

1) Lithosphere

भूमंडल

2) Atmosphere

वायुमंडल

3) Biosphere

जीवमंडल

4) Hydrosphere

जलमंडल

Correct Answer: Hydrosphere

जलमंडल

भूमंडल

QID : 84 - Which of the metallic ions is essential for blood clotting?

रक्त का थक्का जमाने के लिए कौन सा धात्विक आयन

आवश्यक है?

Options:

1) Na⁺

2) Ca⁺⁺

3) K⁺

4) Fe⁺⁺

Correct Answer: Ca⁺⁺

QID : 85 - The total number of bones in the body of an adult human is _____.

वयस्क मानव के शरीर में अस्थियों की कुल संख्या _____

होती है।

Options:

1) 205

2) 206

3) 216

4) 636

Correct Answer: 206

QID : 86 - Largest gland in human body is _____.
मानव शरीर में सबसे बड़ी ग्रन्थि _____ है।

Options:

- 1) Liver
यकृत
- 2) Pancreas
अग्नाशय
- 3) Pituitary
पिट्यूरी
- 4) Thyroid
थायराइड

Correct Answer: Liver

- यकृत
- पिट्यूरी

QID : 87 - A force may change _____ of an object.
बल किसी वस्तु के _____ में परिवर्तन ला सकता है।

Options:

- 1) speed
चाल
- 2) direction
दिशा
- 3) shape
आकृति
- 4) All options are correct
सभी विकल्प सही हैं

Correct Answer: All options are correct

- सभी विकल्प सही हैं
- सभी विकल्प सही हैं

QID : 88 - Good conductors have many loosely bound _____.

अच्छे सुचालकों में ढीले बन्धे _____ होते हैं।

Options:

- 1) neutrons
न्यूट्रॉन
- 2) protons
प्रोटॉन
- 3) positron
पॉसिट्रॉन
- 4) electrons
इलेक्ट्रॉन

Correct Answer: electrons

- इलेक्ट्रॉन
- इलेक्ट्रॉन

QID : 89 - What is the full form of URL?

यू. आर. एल. का असंक्षिप्त रूप क्या है?

Options:

- 1) Universal Resource Locator
यूनिवर्सल रिसोर्स लोकेटर
- 2) Universal Resource Location

यूनिवर्सल रिसोर्स लोकेशन

3) Uniform Resource Locator

यूनिफार्म रिसोर्स लोकेटर

4) Uniform Resource Location

यूनिफार्म रिसोर्स लोकेशन

Correct Answer: Uniform Resource Locator

यूनिफार्म रिसोर्स लोकेटर

यूनिफार्म रिसोर्स लोकेशन

QID : 90 - Isotopes differ in _____.

समस्थानिक _____ के आधार पर भिन्न होते हैं।

Options:

- 1) No. of electrons
इलेक्ट्रॉनों की संख्या
- 2) No. of protons
प्रोटॉनों की संख्या
- 3) No. of neutrons
न्यूट्रॉनों की संख्या
- 4) Chemical reactivity
रासायनिक अभिक्रियाशीलता

Correct Answer: No. of neutrons

- न्यूट्रॉनों की संख्या
- प्रोटॉनों की संख्या

QID : 91 - Chlorine atom and chloride ions _____.

क्लोरीन परमाणु और क्लोराइड आयन _____

Options:

- 1) Have an equal number of protons
प्रोटॉन की समान संख्या रखते हैं
- 2) Have an equal number of electrons
इलेक्ट्रॉन की समान संख्या रखते हैं
- 3) Unequal number neutrons
असमान संख्या में प्रोटॉन
- 4) react spontaneously with water
जल के साथ स्वतः अभिक्रियाशील होते हैं

Correct Answer: Have an equal number of protons

- प्रोटॉन की समान संख्या रखते हैं
- इलेक्ट्रॉन की समान संख्या रखते हैं

QID : 92 - Air pollution has harmful effect on which of the following?

वायु प्रदूषण निम्नलिखित में से किन पर हानिकारक प्रभाव डालता है?

Options:

- 1) Living
सजीव
- 2) Non living
निर्जीव
- 3) Both living and non living
सजीव तथा निर्जीव दोनों
- 4) Neither living nor not living
ना ही सजीव ना ही निर्जीव

Correct Answer: Both living and non living

सजीव तथा निर्जीव दोनों
सजीव तथा निर्जीव दोनों

QID : 93 - What is Pradhan Mantri Suraksha Bima Yojana?

प्रधानमंत्री सुरक्षा बीमा योजना क्या है?

Options:

1) A health insurance scheme

एक स्वास्थ्य बीमा योजना

2) A financial inclusion scheme

एक वित्तीय समावेश योजना

3) A life insurance scheme

एक जीवन बीमा योजना

4) A accident insurance scheme

एक दुर्घटना बीमा योजना

Correct Answer: A accident insurance scheme

एक दुर्घटना बीमा योजना

एक दुर्घटना बीमा योजना

QID : 94 - Who invented the 'world wide web'?

'वर्ल्ड वाइड वेब' का आविष्कार किसने किया?

Options:

1) Tim Berners-Lee

टिम बर्नर्स ली

2) John O'Sullivan

जॉन ओ'सुलीवन

3) Jan Koum

जैन कौम

4) Steve Jobs

स्टीव जॉब्स

Correct Answer: Tim Berners-Lee

टिम बर्नर्स ली

जॉन ओ'सुलीवन

QID : 95 - Sachin Tendulkar played his last test match in which stadium?

सचिन तेंदुलकर ने अपना अंतिम टेस्ट मैच खेला स्टेडियम था?

Options:

1) Wankhede Stadium

वानखेड़े स्टेडियम

2) DY Patil Stadium

डी वाई पाटिल स्टेडियम

3) Brabourne Stadium

ब्रेबॉर्न स्टेडियम

4) None of these

इनमें से कोई नहीं

Correct Answer: Wankhede Stadium

वानखेड़े स्टेडियम

वानखेड़े स्टेडियम

QID : 96 - The annual cultural festivals held at Surajkund, Faridabad is an International _____ Mela.

सूरजकुंड, फरीदाबाद में आयोजित वार्षिक सांस्कृतिक त्योहार एक अंतर्राष्ट्रीय _____ मेला है।

Options:

1) Books

पुस्तकें

2) Crafts

शिल्प

3) Science

विज्ञान

4) Cattle

पशु

Correct Answer: Crafts

शिल्प

शिल्प

QID : 97 - Who among the following is a winner of 2016 Rajeev Gandhi Khel Ratna Award?

निम्नलिखित में से कौन 2016 राजीव गांधी खेल रत्न पुरस्कार का विजेता है?

Options:

1) Sania Mirza

सानिया मिर्जा

2) Sakshi Malik

साक्षी मलिक

3) Deepa Kumari

दीपा कुमारी

4) Dutee Chand

दती चांद

Correct Answer: Sakshi Malik

साक्षी मलिक

दीपा कुमारी

QID : 98 - Who is the author of the book named "Unbreakable"?

"अनब्रेकेबल" नामक पुस्तक के लेखक कौन हैं?

Options:

1) Mary Kom

मैरी कॉम

2) Ahmed Faraz

अहमद फ़राज़

3) Vijay Dasda

विजय दसडा

4) None of these

इनमें से कोई नहीं

Correct Answer: Mary Kom

मैरी कॉम

QID : 99 - In 1974, India became the _____ non-arab state to recognize Palestine Liberation Organisation as sole and legitimate representative of the people of palestine.

1974 में, भारत फिलीस्तीन लिबरेशन संगठन को फिलीस्तीनी लोगों का एकमात्र और वैध प्रतिनिधि के रूप में पहचानने के लिए _____ गैर-अरब राष्ट्र बना।

Options:

- 1) First
पहला
- 2) Second
दूसरा
- 3) Third
तीसरा
- 4) Fourth
चौथा

Correct Answer: First

- पहला
तीसरा

QID : 100 - Which of the following neighbouring country does not share land border with India?

निम्नलिखित में से कौन सा पड़ोसी देश भारत के साथ भूमि सीमा साझा नहीं करता है?

Options:

- 1) Maldives
मालदीव
- 2) Bangladesh
बांग्लादेश
- 3) Myanmar
म्यान्मार
- 4) Pakistan
पाकिस्तान

Correct Answer: Maldives

- मालदीव
मालदीव