



REGISTRATION NUMBER : 2002045457

CANDIDATES NAME: MOCKTIME.COM

EXAM NAME : SSC CHSL

EXAM DURATION : 01:00 Hrs

TOTAL MARKS : 200

TOTAL NO OF QUESTIONS : 100

QID : 1 -

In the following question, select the number which can be placed at the sign of question mark (?) from the given alternatives.

निम्नलिखित प्रश्न में दिए गए विकल्पों में से प्रश्न चिह्न (?) के स्थान पर आने वाली संख्या को चुनिए।

2	4	3
2	3	2
5	6	4
23	75	?

Options:

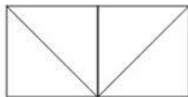
- 1) 24
- 2) 27
- 3) 32
- 4) 36

Correct Answer: 27

QID : 2 -

How many triangles are there in the given figure?

दी गई आकृति में कितने त्रिभुज हैं?



Options:

- 1) 4
- 2) 5
- 3) 6
- 4) 3

Correct Answer: 5

QID : 3 -

A word is represented by only one set of numbers as given in any one of the alternatives. The sets of numbers given in the alternatives are represented by two classes of alphabets as shown in the given two matrices. The columns and rows of **Matrix-I** are numbered from 0 to 4 and that of **Matrix-II** are numbered from 5 to 9. A letter from these matrices can be represented first by its row and next by its column, for example, 'A' can be represented by 21, 87, etc., and 'N' can be represented by 32, 78, etc. Similarly, you have to identify the set for the word "GREAT".

एक शब्द केवल एक संख्या-समूह द्वारा दर्शाया गया है, जैसा कि विकल्पों में से किसी एक में दिया गया है। विकल्पों में दिए गए संख्या-समूह अक्षरों के दो वर्गों द्वारा दर्शाए गए हैं, जैसा कि दिए गए दो आव्यूहों में है। आव्यूह-I के स्तम्भ और पंक्ति की संख्या 0 से 4 है और आव्यूह-II की 5 से 9। इन आव्यूहों से एक अक्षर को पहले उसकी पंक्ति और बाद में स्तम्भ संख्या द्वारा दर्शाया जा सकता है। उदाहरण के लिए 'A' को 21, 87, आदि द्वारा दर्शाया जा सकता है तथा 'N' को 32, 78, आदि द्वारा दर्शाया जा सकता है। इसी तरह से आपको प्रश्न में दिए शब्द "GREAT" के लिए समूह को पहचानना है।

Matrix-I						Matrix-II					
आव्यूह-I						आव्यूह-II					
	0	1	2	3	4		5	6	7	8	9
0	E	G	I	K	M	5	M	O	H	J	A
1	O	Q	S	U	W	6	K	D	Q	L	Z
2	Y	A	C	F	D	7	I	S	C	N	X
3	J	L	N	P	R	8	G	U	A	P	V
4	T	V	X	Z	B	9	E	W	Y	R	T

Options:

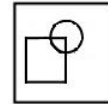
- 1) 85, 34, 00, 58, 99
- 2) 01, 34, 95, 58, 40
- 3) 01, 98, 00, 21, 99
- 4) 85, 34, 95, 20, 43

Correct Answer: 01, 98, 00, 21, 99

QID : 4 -

From the given answer figures, select the one in which the question figure is hidden/embedded.

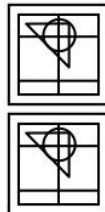
दी गई उत्तर आकृतियों में से उस उत्तर आकृति को चुनिए जिस में प्रश्न आकृति निहित है।



Options:

- 1)
- 2)
- 3)
- 4)

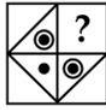
Correct Answer:



QID : 5 -

Which answer figure will complete the pattern in the question figure?

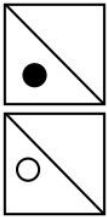
कौन सी उत्तर आकृति प्रश्न आकृति के प्रतिरूप को पूरा करेगी?



Options:

- 1)
- 2)
- 3)
- 4)

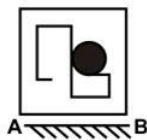
Correct Answer:



QID : 6 -

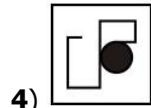
If a mirror is placed on the line AB, then which of the answer figures is the right image of the given figure?

यदि एक दर्पण को AB रेखा पर रखा जाए, तो दी गई उत्तर आकृतियों में से कौन सी आकृति प्रश्न आकृति की सही प्रतिबिम्ब होगी?

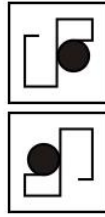


Options:

- 1)
- 2)
- 3)



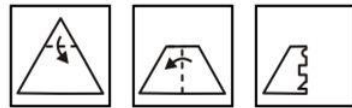
4) Correct Answer:



QID : 7 -

A piece of paper is folded and punched as shown below in the question figures. From the given answer figures, indicate how it will appear when opened?

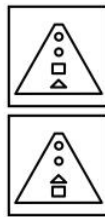
नीचे के प्रश्न आकृतियों में दिखाए अनुसार कागज को मोड़कर छेदने तथा खोलने के बाद वह किस उत्तर आकृति जैसा दिखाई देगा?



Options:

- 1)
- 2)
- 3)
- 4)

Correct Answer:



QID : 8 - If 'z' means '+', 'v' means '÷', 'a' means 'x' and 'q' means '-', then $19 a 4 z 12 v 6 = ?$

यदि 'z' का अर्थ '+', 'v' का अर्थ '÷', 'a' का अर्थ 'x' तथा 'q' का अर्थ '-' हो, तो $19 a 4 z 12 v 6 = ?$

Options:

- 1) 76
- 2) 78
- 3) 68
- 4) 42

Correct Answer: 78

QID : 9 - If $73 \times 69 \times 43 = 185$ and $41 \times 53 \times 68 = 162$, then $11 \times 31 \times 71 = ?$

यदि $73 \times 69 \times 43 = 185$ तथा $41 \times 53 \times 68 = 162$ हो, तो $11 \times 31 \times 71 = ?$

Options:

- 1) 113
- 2) 123
- 3) 109
- 4) 117

Correct Answer: 113

QID : 10 - Arrange the given words in the sequence in which they occur in the dictionary.

1. Mouse
2. Maiden
3. Mailed
4. Mughal
5. Murder

निम्नलिखित शब्दों को शब्दकोश में आने वाले क्रम के अनुसार लिखें।

1. Mouse
2. Maiden
3. Mailed
4. Mughal
5. Murder

Options:

- 1) 23145
- 2) 23154
- 3) 21354
- 4) 21345

Correct Answer: 23145

QID : 11 - In the following question, select the missing number from the given alternatives.

1053, 351, 117, 39, 13, ?

निम्नलिखित प्रश्न में दिए गए विकल्पों में से लुप्त अंक ज्ञात कीजिए।

1053, 351, 117, 39, 13, ?

Options:

- 1) 3.33
- 2) 3.67
- 3) 4.67
- 4) 4.33

Correct Answer: 4.33

QID : 12 - A series is given with one term missing. Select the correct alternative from the given ones that will complete the series.

SUT, VXW, ?, BDC

एक अनुक्रम दिया गया है, जिसमें से एक पद लुप्त है। दिए गए विकल्पों में से वह सही विकल्प चुनिए, जो अनुक्रम को पूरा करे।

SUT, VXW, ?, BDC

Options:

- 1) XZY
- 2) YZA
- 3) YAZ
- 4) XYZ

Correct Answer: YAZ

QID : 13 - In the following question, select the odd word from the given alternatives.

निम्नलिखित प्रश्न में दिए गए विकल्पों में से विषम शब्द को चुनिए।

Options:

- 1) Ice
बर्फ
- 2) Cloud
बादल
- 3) Mist
धुंध
- 4) Fog
कोहरा

Correct Answer: Ice

बर्फ

बर्फ

QID : 14 - In the following question, select the odd number pair from the given alternatives.

निम्नलिखित प्रश्न में दिए गए विकल्पों में से विषम संख्या युग्म को चुनिए।

Options:

- 1) 13 - 167
- 2) 17 - 291
- 3) 15 - 223
- 4) 21 - 439

Correct Answer: 17 - 291

QID : 15 - In the following question, select the odd letter from the given alternatives.

निम्नलिखित प्रश्न में दिए गए विकल्पों में से विषम अक्षर को चुनिए।

Options:

- 1) E
- 2) O
- 3) U
- 4) L

Correct Answer: L

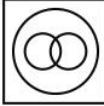
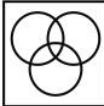

QID : 16 - Identify the diagram that best represents the relationship among the given classes.

Hospital, Ward, Bed

वह आरेख चुनिए जो नीचे दिए गए वर्गों के बीच के संबंध का सही निरूपण करता है।

अस्पताल, रोगीकक्ष, पलंग

Options:

- 1) 
- 2) 
- 3) 



4) **Correct Answer:**



QID : 17 - In the following question, select the related word from the given alternatives.

Dog : Kennel :: Horse : ?

निम्नलिखित प्रश्न में दिए गए विकल्पों में से संबंधित शब्द को चुनिए।

कुत्ता : कुत्ता का घर :: घोड़ा : ?

Options:

1) Stable

तबेला

2) Shed

झोंपड़ा

3) Farm

फार्म

4) Aquarium

जल जीवशाला

Correct Answer: Stable

तबेला

जल जीवशाला

QID : 18 - In the following question, select the related number from the given alternatives.

1648 : 412 :: 2864 : ?

निम्नलिखित प्रश्न में दिए गए विकल्पों में से संबंधित संख्या को चुनिए।

1648 : 412 :: 2864 : ?

Options:

1) 1264

2) 1032

3) 832

4) 716

Correct Answer: 716

QID : 19 - In the following question, select the related letters from the given alternatives.

GOD : FMA :: BAT : ?

निम्नलिखित प्रश्न में दिए गए विकल्पों में से संबंधित अक्षरों को चुनिए।

GOD : FMA :: BAT : ?

Options:

1) AXQ

2) AYQ

3) ZYP

4) ZXP

Correct Answer: AYQ

QID : 20 - In the following question, select the word which cannot be formed using the letters of the given word.

HANGING

निम्नलिखित विकल्पों में से वह शब्द चुनिए जो दिए गए शब्द के अक्षरों का प्रयोग करके नहीं बनाया जा सकता।

HANGING

Options:

1) HANG

2) HING

3) HAIR

4) GANG

Correct Answer: HAIR

QID : 21 - Ankit remembers his birthday is after 8th August but before 12th August. His mother remembers his birthday is after 5th August but before 10th August. On which day of August is his birthday? अंकित को याद है कि उसका जन्मदिन 8 अगस्त के बाद परंतु 12 अगस्त से पहले है। उसकी माता को याद है कि उसका जन्मदिन 5 अगस्त के बाद परंतु 10 अगस्त से पहले है। उसका जन्मदिन अगस्त की कौन सी तिथि को है?

Options:

1) 8

2) 9

3) 7

4) 10

Correct Answer: 9

QID : 22 - P, Q, R, S and T are standing in a row facing west. P and T are standing at ends. Q and S cannot be at middle. Which of the following can be correct order of standing from top to bottom?

P, Q, R, S तथा T एक पंक्ति में पश्चिम की ओर मुख करके खड़े हैं। P तथा T अंतिम छोरों पर खड़े हैं। Q तथा S मध्य में नहीं खड़े हो सकते। निम्नलिखित में से कौन सा ऊपर से नीचे खड़े होने का सही क्रम हो सकता है?

Options:

1) S, T, Q, R, P

2) T, S, R, Q, P

3) P, S, Q, R, T

4) T, Q, R, P, S

Correct Answer: T, S, R, Q, P

QID : 23 - In the following question below are given some statements followed by some conclusions. Taking the given statements to be true even if they seem to be at variance from commonly known facts, read all the conclusions and then decide which of the given conclusion logically follows the given statements.

Statements:

I. Some books are chairs.

II. Some chairs are tables.

Conclusions:

I. Some tables are books.

II. Some chairs are not books.

नीचे दिए गए प्रश्न में कुछ कथन और उनके बाद उन कथनों पर आधारित कुछ निष्कर्ष दिए गए हैं, हालांकि उनमें सामान्य

जात तथ्यों से भिन्नता हो सकती है। सभी निष्कर्ष पढ़ें और फिर निर्धारित करें कि दिए गए कौन से निष्कर्ष, दिए गए कथनों के आधार पर युक्तिसंगत हैं।

कथन:

I. कुछ पुस्तकें कुर्सियाँ हैं।

II. कुछ कुर्सियाँ मेज़ हैं।

निष्कर्ष:

I. कुछ मेज़ पुस्तकें हैं।

II. कुछ कुर्सियाँ पुस्तकें नहीं हैं।

Options:

1) Only conclusion (I) follows.

केवल निष्कर्ष (I) सही है।

2) Only conclusion (II) follows.

केवल निष्कर्ष (II) सही है।

3) Both conclusion follow.

दोनों ही निष्कर्ष सही हैं।

4) Neither conclusion (I) nor conclusion (II) follows.

न तो निष्कर्ष (I) न ही निष्कर्ष (II) सही है।

Correct Answer: Neither conclusion (I) nor conclusion (II) follows.

न तो निष्कर्ष (I) न ही निष्कर्ष (II) सही है।

दोनों ही निष्कर्ष सही हैं।

QID : 24 - In a certain code language, "ROUND" is written as "TQWPF" How is "ROBIN" written in that code language?

एक विशिष्ट कोड भाषा में, "ROUND" को "TQWPF" लिखा जाता है। इस कोड भाषा में "ROBIN" को किस प्रकार लिखा जाएगा?

Options:

1) TQDKP

2) TQEKP

3) TREKQ

4) TQEPQ

Correct Answer: TQDKP

QID : 25 - In a certain code language, "ROME" is written as "1714124" and "MINE" is written as "128134". How is "HOME" written in that code language?

एक विशिष्ट कोड भाषा

में, "ROME" को "1714124" तथा "MINE" को "128134"

लिखा जाता है। इस कोड भाषा में "HOME" को किस प्रकार लिखा जाएगा?

Options:

1) 714124

2) 714126

3) 713124

4) 714134

Correct Answer: 714124

QID : 26 - Which of the following is true?

निम्नलिखित में से कौन सा सही है?

Options:

1) $\frac{6}{7} > \frac{4}{5} > \frac{3}{4}$

2) $\frac{4}{5} > \frac{6}{7} > \frac{3}{4}$

3) $\frac{6}{7} > \frac{3}{4} > \frac{4}{5}$

4) $\frac{3}{4} > \frac{4}{5} > \frac{6}{7}$

Correct Answer:

$\frac{6}{7} > \frac{4}{5} > \frac{3}{4}$

$\frac{3}{4} > \frac{4}{5} > \frac{6}{7}$

QID : 27 -

What is the simplified value of $\frac{\sqrt{7} + \sqrt{5}}{\sqrt{7} - \sqrt{5}}$?

$\frac{\sqrt{7} + \sqrt{5}}{\sqrt{7} - \sqrt{5}}$ का सरलीकृत मान क्या है?

Options:

1) $6 + \sqrt{35}$

2) $6 - \sqrt{35}$

3) $12 + \sqrt{35}$

4) $12 - \sqrt{35}$

Correct Answer: $6 + \sqrt{35}$

QID : 28 - If $A = 2^7 \times 5^2$ and $B = 2^3 \times 5^6$, then what is the value of $A \times B$?

यदि $A = 2^7 \times 5^2$ तथा $B = 2^3 \times 5^6$ हो, तो $A \times B$ का मान क्या है?

Options:

1) $2^{10} 5^8$

2) $2^{21} 5^{12}$

3) $2^{21} 5^8$

4) $2^{10} 5^{12}$

Correct Answer: $2^{10} 5^8$

QID : 29 -

Which of the following relation(s) is/are true?

I. $\sqrt{5} > \sqrt[3]{9}$

II. $\sqrt[3]{9} > \sqrt{5}$

III. $\sqrt{5} = \sqrt[3]{9}$

निम्नलिखित में से कौन सा/से संबंध सही है/हैं?

I. $\sqrt{5} > \sqrt[3]{9}$

II. $\sqrt[3]{9} > \sqrt{5}$

III. $\sqrt{5} = \sqrt[3]{9}$

Options:

1) Only I

केवल I

2) Only II

केवल II

3) Neither I nor II

न तो I न ही II

4) Either I or II

I अथवा II

Correct Answer: Only I

केवल I

न तो I न ही II

QID : 30 -

What is the simplified value of $\frac{(5.2)^3 - (1.7)^3}{(5.2)^2 - 5.2 \times 1.7 + (1.7)^2}$?

$\frac{(5.2)^3 - (1.7)^3}{(5.2)^2 - 5.2 \times 1.7 + (1.7)^2}$ का सरलीकृत मान क्या है?

Options:

- 1) 3.5
- 2) 1.7
- 3) 5.2
- 4) 6.9

Correct Answer: 3.5

QID : 31 - How many two digit numbers are divisible by 11?

दो अंकों की कितनी संख्याएँ 11 से विभाजित होती हैं?

Options:

- 1) 8
- 2) 9
- 3) 10
- 4) 1

Correct Answer: 9

QID : 32 - A, B and C can complete a work in 5, 10 and 30 days respectively. In how many days A, B and C together can complete the same work?

A, B तथा C किसी कार्य को क्रमशः 5, 10, तथा 30 दिनों में पूरा कर सकते हैं। A, B तथा C मिलकर उस कार्य को कितने दिनों में पूरा कर सकते हैं?

Options:

- 1) 4
- 2) 2
- 3) 3
- 4) 3.5

Correct Answer: 3

QID : 33 - P, Q and R together can complete a work in 10 days. P alone can complete the work in 30 days. In how many days Q and R together can complete the same work?

P, Q तथा R मिलकर किसी कार्य को 10 दिनों में पूरा कर सकते हैं। P अकेला 30 दिनों में कार्य पूरा कर सकता है। Q तथा R मिलकर उस कार्य को कितने दिनों में पूरा कर सकते हैं?

Options:

- 1) 15
- 2) 13
- 3) 20
- 4) 18

Correct Answer: 15

QID : 34 - What is the area (in cm^2) of circle having circumference of 44 cm?

44 से.मी. परिधि वाले वृत्त का क्षेत्रफल (से.मी.² में) क्या है?

Options:

- 1) 154
- 2) 226
- 3) 203
- 4) 133

Correct Answer: 154

QID : 35 - An article having marked price of Rs 3900 is sold at a discount of 21%. What is the selling price (in Rs) of the article?

एक 3900 रु अंकित मूल्य वाली वस्तु को 21% की छूट पर बेचा गया। वस्तु का विक्रय मूल्य (रु में) क्या है?

Options:

- 1) 3129
- 2) 3081
- 3) 3243
- 4) 3189

Correct Answer: 3081

QID : 36 - An article has marked price of Rs 4700. If two successive discounts of 10% and 15% are given, then what will be the selling price (in Rs)?

एक वस्तु का अंकित मूल्य 4700 रु है। यदि 10% तथा 15% की दो क्रमिक छूट दी जाए, तो विक्रय मूल्य (रु में) क्या होगा?

Options:

- 1) 3407.5
- 2) 3108
- 3) 3595.5
- 4) 3290

Correct Answer: 3595.5

QID : 37 - If $x : y = 3 : 5$, then what is the value of $(2x + 5y) : (2y - 3x)$?

यदि $x : y = 3 : 5$, तो $(2x + 5y) : (2y - 3x)$ का मान क्या है?

Options:

- 1) 31 : 1
- 2) 19 : 1
- 3) 19 : 6
- 4) 31 : 5

Correct Answer: 31 : 1

QID : 38 - The ratio of the present ages of Mohan and Sohan is 2 : 3 and 10 years from now, the ratio will get changed to 3 : 4. What is the present age (in years) of Mohan?

मोहन तथा सोहन की वर्तमान आयु का अनुपात 2 : 3 है तथा 10 वर्ष पश्चात यह अनुपात 3 : 4 हो जाएगा। मोहन की वर्तमान आयु (वर्षों में) क्या है?

Options:

- 1) 10
- 2) 15
- 3) 20
- 4) 30

Correct Answer: 20

QID : 39 - What is the average of first 8 odd numbers? पहली 8 विषम संख्याओं का औसत क्या है?

Options:

- 1) 7
- 2) 10
- 3) 9
- 4) 8

Correct Answer: 8

QID : 40 - If the cost price of 6 articles is equal to the selling price of 9 articles, then what is the loss percentage?

यदि 6 वस्तुओं का क्रय मूल्य 9 वस्तुओं के विक्रय मूल्य के बराबर है, तो हानि प्रतिशत क्या है?

Options:

- 1) 25
- 2) 33.33
- 3) 50
- 4) 20

Correct Answer: 33.33

QID : 41 - A man gains 50% by selling an article at a certain price. If he sells the article at half the price, then what is the loss percentage?

एक व्यक्ति एक वस्तु को एक निश्चित मूल्य पर बेचकर 50% लाभ कमाता है। यदि वह उसी वस्तु को आधे मूल्य पर बेचता है, तो हानि प्रतिशत क्या है?

Options:

- 1) 25
- 2) 50
- 3) 75
- 4) 37.5

Correct Answer: 25

QID : 42 - If the length of a rectangle is increased by 20%, then by how much percent its breadth should be reduced so that the area remains the same?

यदि किसी आयत की लम्बाई में 20% की वृद्धि की जाए, तो उसकी चौड़ाई में कितने प्रतिशत की कमी करनी होगी, ताकि क्षेत्रफल समान रहे?

Options:

- 1) 10
- 2) 20
- 3) 25
- 4) 16.66

Correct Answer: 16.66

QID : 43 - 1224 is what percent of 4800?

1224, 4800 का कितना प्रतिशत है?

Options:

- 1) 24.5
- 2) 25
- 3) 24
- 4) 25.5

Correct Answer: 25.5

QID : 44 - If speed of boat in still water is 10 km/hr and the speed of stream is 2 km/hr, then what is the upstream and downstream speeds (in km/hr) of the boat?

यदि शांत जल में नाव की गति 10 कि.मी./घंटा है तथा धारा की गति 2 कि.मी./घंटा है, तो धारा के प्रतिकूल तथा धारा के अनुकूल नाव की गति (कि.मी./घंटा में) क्या है?

Options:

- 1) 12, 16
- 2) 6, 12
- 3) 8, 12
- 4) 6, 14

Correct Answer: 8, 12

QID : 45 - A train is 400 metres long and running at a speed of 60 km/hr. How much time (in seconds) will it take to cross a platform 1000 metres long?

एक रेलगाड़ी 400 मीटर लम्बी है तथा 60 कि.मी./घंटा की गति से चल रही है। एक 1000 मीटर लम्बे प्लेटफॉर्म को पार करने में वह कितना समय (सेकेंडों में) लेगी?

Options:

- 1) 84
- 2) 72
- 3) 96
- 4) 108

Correct Answer: 84

QID : 46 - Rs 2200 are invested in a scheme of compound interest. If the rate of interest is 10% per annum, then what is the interest earned (in Rs) in 2 years?

2200 रु को चक्रवृद्धि ब्याज वाली एक योजना में निवेश किया गया। यदि ब्याज की दर 10% प्रतिवर्ष है, तो 2 वर्ष में कितना ब्याज (रु में) कमाया गया है?

Options:

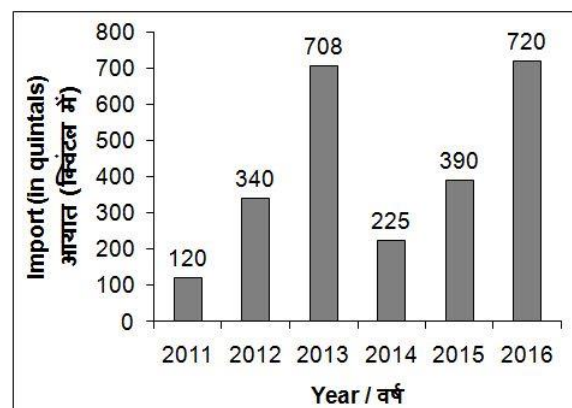
- 1) 462
- 2) 628
- 3) 576
- 4) 682

Correct Answer: 462

QID : 47 -

The bar chart given below shows the import of Soyabean (in quintals) for the year 2011 to 2016.

नीचे दिए गए दण्ड चित्र में वर्ष 2011 से 2016 तक सोयाबीन के आयात (क्विंटल में) को दर्शाया गया है।



What is the average import (in quintals) of Soyabean for the given years?

दिए गए वर्षों के लिए सोयाबीन का औसत आयात (क्विंटल में) क्या है?

Options:

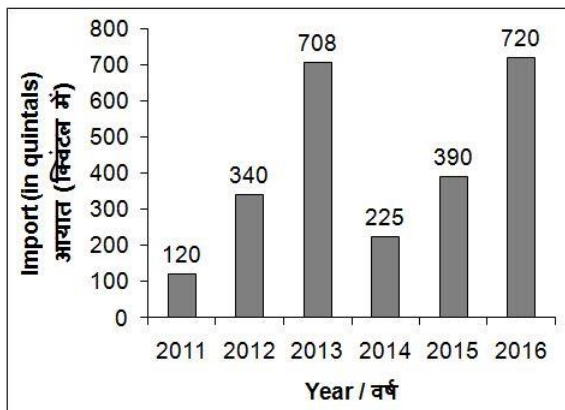
- 1) 521.33
- 2) 366.66
- 3) 417.16
- 4) 471.16

Correct Answer: 417.16

QID : 48 -

The bar chart given below shows the import of Soyabean (in quintals) for the year 2011 to 2016.

नीचे दिए गए दण्ड चित्र में वर्ष 2011 से 2016 तक सोयाबीन के आयात (क्विंटल में) को दर्शाया गया है।



What is the percentage increase in Soyabean import in the year 2012 in comparison to year 2011?

वर्ष 2011 की तुलना में वर्ष 2012 में सोयाबीन के आयात में कितने प्रतिशत की वृद्धि हुई है?

Options:

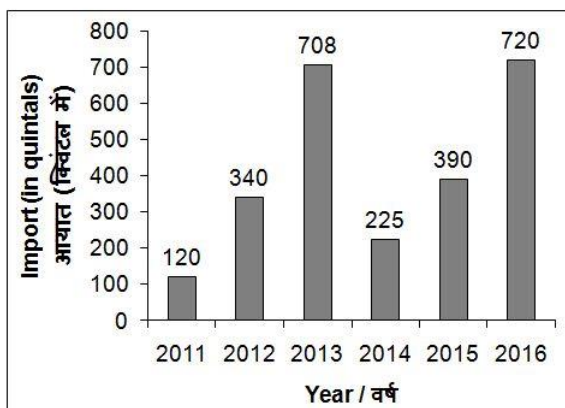
- 1) 179.66
- 2) 183.33
- 3) 283.33
- 4) 135.29

Correct Answer: 183.33

QID : 49 -

The bar chart given below shows the import of Soyabean (in quintals) for the year 2011 to 2016.

नीचे दिए गए दण्ड चित्र में वर्ष 2011 से 2016 तक सोयाबीन के आयात (क्विंटल में) को दर्शाया गया है।



In how many years the import of Soyabean is more than the average import of Soyabean for the given years? कितने वर्षों में सोयाबीन का आयात दिए गए वर्षों में सोयाबीन के औसत आयात से अधिक है?

Options:

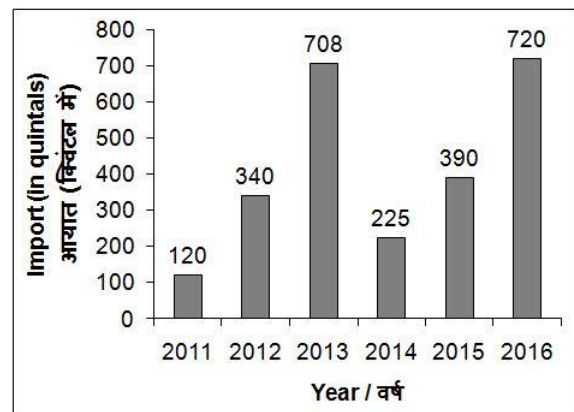
- 1) 4
- 2) 1
- 3) 3
- 4) 2

Correct Answer: 2

QID : 50 -

The bar chart given below shows the import of Soyabean (in quintals) for the year 2011 to 2016.

नीचे दिए गए दण्ड चित्र में वर्ष 2011 से 2016 तक सोयाबीन के आयात (क्विंटल में) को दर्शाया गया है।



The import of Soyabean in year 2015 is what percent of the import of Soyabean in year 2012?

वर्ष 2015 में सोयाबीन का आयात वर्ष 2012 में सोयाबीन के आयात का कितना प्रतिशत है?

Options:

- 1) 116.66
- 2) 87.17
- 3) 114.7
- 4) 14.7

Correct Answer: 114.7

QID : 51 - In the following question, some part of the sentence may have errors. Find out which part of the sentence has an error and select the appropriate option. If a sentence is free from error, select 'No Error'.

Arun likes to (1)/ eat, sleep and (2)/ reading. (3)/ No Error (4)/

Options:

- 1) 1
- 2) 2
- 3) 3
- 4) 4

Correct Answer: 3

QID : 52 - In the following question, some part of the sentence may have errors. Find out which part of the sentence has an error and select the appropriate option. If a sentence is free from error, select 'No Error'.

They compromise with (1)/ health then containing (2)/ preservatives and artificial. (3)/ No Error (4)/

Options:

- 1) 1
- 2) 2
- 3) 3
- 4) 4

Correct Answer: 2

QID : 53 - In the following question, the sentence given with blank to be filled in with an appropriate word. Select the correct alternative out of the four and indicate it by selecting the appropriate option.

When Mr. Batra heard the news of his daughter's selection to the college's football team, he felt _____.

Options:

- 1) exasperated
- 2) embittered
- 3) elated
- 4) enamoured

Correct Answer: elated

QID : 54 - In the following question, the sentence given with blank to be filled in with an appropriate word. Select the correct alternative out of the four and indicate it by selecting the appropriate option.

Shikha said that she had never _____ a book she liked so much.

Options:

- 1) come across
- 2) viewed on
- 3) help upon
- 4) saw into

Correct Answer: come across

QID : 55 - In the following question, out of the given four alternatives, select the one which best expresses the meaning of the given word.

Pioneer

Options:

- 1) Last
- 2) Primary
- 3) Modern
- 4) Following

Correct Answer: Primary

QID : 56 - In the following question, out of the given four alternatives, select the one which best expresses the meaning of the given word.

Ethical

Options:

- 1) Immoral
- 2) Unjust
- 3) Corrupt
- 4) Equitable

Correct Answer: Equitable

QID : 57 - In the following question, out of the given four alternatives, select the one which best expresses the meaning of the given word.

Scatter

Options:

- 1) Disperse
- 2) Gather
- 3) Reconcile
- 4) Collect

Correct Answer: Disperse

QID : 58 - In the following question, out of the given four alternatives, select the one which is opposite in meaning of the given word.

Weird

Options:

- 1) Usual
- 2) Awful
- 3) Creepy
- 4) Fearful

Correct Answer: Usual

QID : 59 - In the following question, out of the give four alternatives, select the one which is opposite in meaning of the given word.

Charity

Options:

- 1) Donation
- 2) Stealing
- 3) Gifting
- 4) Offering

Correct Answer: Stealing

QID : 60 - In the following question, out of the give four alternatives, select the one which is opposite in meaning of the given word.

Hostile

Options:

- 1) Allen
- 2) Hateful
- 3) Opposed
- 4) Gentle

Correct Answer: Gentle

QID : 61 - In the following question, out of the given four alternatives, select the alternative which best expresses the meaning of the Idiom/Phrase.

Fool's paradise

Options:

- 1) In which no team wins
- 2) To be tired of being happy
- 3) Being happy for foolish reasons
- 4) Be secretive for unfound reasons

Correct Answer: Being happy for foolish reasons

QID : 62 - In the following question, out of the given four alternatives, select the alternative which best expresses the meaning of the Idiom/Phrase.

Golden mean

Options:

- 1) Of very important use
- 2) To make favourable chance
- 3) Neither too much nor too little
- 4) To take risk

Correct Answer: Neither too much nor too little

QID : 63 - In the following question, out of the four alternatives, select the alternative which will improve the bracketed part of the sentence. In case no improvement is needed, select "no improvement".

Krishna will (**come**) in the shrine of one hearts.

Options:

- 1) see
- 2) made
- 3) appear
- 4) No improvement

Correct Answer: appear

QID : 64 - In the following question, out of the four alternatives, select the alternative which will improve the bracketed part of the sentence. In case no improvement is needed, select "no improvement".

(**Wherever**), you may find other jobs of your interest below.

Options:

- 1) However
- 2) Into
- 3) Greatly
- 4) No improvement

Correct Answer: However

QID : 65 - In the following question, out of the four alternatives, select the alternative which is the best substitute of the phrase.

Somebody that foretells the coming of something

Options:

- 1) Estimation
- 2) Harbinger
- 3) Endemic
- 4) Prodigy

Correct Answer: Harbinger

QID : 66 - In the following question, out of the four alternatives, select the alternative which is the best substitute of the phrase.

Send back a criminal into custody for further investigation.

Options:

- 1) Summon
- 2) Notice
- 3) Remand
- 4) Offence

Correct Answer: Remand

QID : 67 - In the following question, a word has been written in four different ways out of which only one is correctly spelt. Select the correctly spelt word.

Options:

- 1) Celebrat
- 2) Celebrate
- 3) Clebrate
- 4) Celibrate

Correct Answer: Celebrate

QID : 68 - In the following question, a word has been written in four different ways out of which only one is correctly spelt. Select the correctly spelt word.

Options:

- 1) Dailogue

2) Dialogue

3) Dialog

4) Dialouge

Correct Answer: Dialogue

QID : 69 - The question below consists of a set of labelled sentences. Out of the four options given, select the most logical order of the sentences to form a coherent paragraph.

Dance and laughter

P: easily approachable doors

Q: are the best, natural and

R: to attaining no-mind

Options:

1) RQP

2) QPR

3) PQR

4) PRQ

Correct Answer: QPR

QID : 70 - The question below consists of a set of labelled sentences. Out of the four options given, select the most logical order of the sentences to form a coherent paragraph.

Thinking that

P: you know when, in fact,

Q: you do not is a bad mistake,

R: to which we are all prone.

Options:

1) RQP

2) PQR

3) QPR

4) PRQ

Correct Answer: PQR

QID : 71 - In the following passage some of the words have been left out. Read the passage carefully and select the correct answer for the given blank out of the four alternatives.

An _____ is the natural surroundings which help life to grow to _____ and destroy on this planet called _____. Natural environment plays a great role in the _____ of life on earth and it helps human beings, animals and other living things to grow and develop naturally. But due to some bad and _____ activities of the human beings, our environment is getting affected.

An _____ is the natural surroundings

Options:

1) nature

2) universe

3) environment

4) sky

Correct Answer: environment

QID : 72 - In the following passage some of the words have been left out. Read the passage carefully and select the correct answer for the given blank out of the four alternatives.

An _____ is the natural surroundings which help life to grow to _____ and destroy on this planet called _____. Natural environment plays a great role in the _____ of life on earth and it helps human beings, animals and other living things to grow and develop naturally. But

due to some bad and _____ activities of the human beings, our environment is getting affected.

grow _____ and destroy on this

Options:

- 1) nourish
- 2) control
- 3) rigid
- 4) parallel

Correct Answer: nourish

QID : 73 - In the following passage some of the words have been left out. Read the passage carefully and select the correct answer for the given blank out of the four alternatives.

An _____ is the natural surroundings which help life to grow to _____ and destroy on this planet called _____ Natural environment plays a great role in the _____ of life on earth and it helps human beings, animals and other living things to grow and develop naturally. But due to some bad and _____ activities of the human beings, our environment is getting affected.

planet called _____.

Options:

- 1) Mars
- 2) Venus
- 3) Saturn
- 4) Earth

Correct Answer: Earth

QID : 74 - In the following passage some of the words have been left out. Read the passage carefully and select the correct answer for the given blank out of the four alternatives.

An _____ is the natural surroundings which help life to grow to _____ and destroy on this planet called _____ Natural environment plays a great role in the _____ of life on earth and it helps human beings, animals and other living things to grow and develop naturally. But due to some bad and _____ activities of the human beings, our environment is getting affected.

Natural environment plays a great role in the _____ of life on earth

Options:

- 1) Venus
- 2) extension
- 3) intention
- 4) existence

Correct Answer: existence

QID : 75 - In the following passage some of the words have been left out. Read the passage carefully and select the correct answer for the given blank out of the four alternatives.

An _____ is the natural surroundings which help life to grow to _____ and destroy on this planet called _____ Natural environment plays a great role in the _____ of life on earth and it helps human beings, animals and other living things to grow and develop naturally. But due to some bad and _____ activities of the human beings, our environment is getting affected.

But due to some bad and _____ activities of the human beings,

Options:

- 1) kind
- 2) selfish
- 3) illogical
- 4) logical

Correct Answer: selfish

QID : 76 - Demand in Economics means _____.
अर्थशास्त्र में मांग का अर्थ _____ होता है।

Options:

- 1) Aggregate demand
सकल मांग
- 2) Market demand
बाजार मांग
- 3) Individual demand
व्यक्तिगत मांग
- 4) Demand backed by purchasing power
क्रय क्षमता पर निर्भर मांग

Correct Answer: Demand backed by purchasing power
क्रय क्षमता पर निर्भर मांग

सकल मांग

QID : 77 - Which of the following is/are required to get more income by the people?

निम्नलिखित में से लोगों द्वारा अधिक आय प्राप्त करने के लिए क्या अभिष्ट है?

Options:

- 1) Better price their produce
उत्पादन के लिए बेहतर मूल्य
- 2) Continuous job
निरंतर नौकरी
- 3) Better wages
बेहतर वेतन
- 4) All options are correct
सभी विकल्प सही हैं

Correct Answer: All options are correct
सभी विकल्प सही हैं

उत्पादन के लिए बेहतर मूल्य

QID : 78 - According to which fundamental right 'All persons are equal before law'?

किस मौलिक अधिकार के तहत "कानून के नज़र में सभी लोग समान है"?

Options:

- 1) Rights to freedom
स्वतंत्रता का अधिकार
- 2) Cultural and Educational Rights
सांस्कृतिक और शैक्षणिक अधिकार
- 3) Right to Equality
समानता का अधिकार
- 4) Right against Exploitation
शोषण के विरुद्ध अधिकार

Correct Answer: Right to Equality
समानता का अधिकार

स्वतंत्रता का अधिकार

QID : 79 - Directive principles of state policy are enumerated in which part of Indian Constitution? भारतीय संविधान के किस भाग में राज्य नीतिक निर्देशक सिद्धांत वर्णित हैं?

Options:

- 1) Part I
भाग I
- 2) Part II
भाग II
- 3) Part III
भाग III
- 4) Part IV
भाग IV

Correct Answer: Part IV

भाग IV

भाग IV

QID : 80 - In last years of his reign Akbar was distracted by the rebellion of Prince Salim, The future emperor _____.

अपने शासन के अंतिम वर्षों में अकबर की सत्ता राजकुमार सलीम के विद्रोहों के कारण लड़खड़ायी जो भविष्य में सम्राट _____ कहलाए।

Options:

- 1) Aurangzeb
औरंगजेब
- 2) Jahangir
जहांगीर
- 3) Shahjahan
शाहजहाँ
- 4) Bahadur Shah
बहादुर शाह

Correct Answer: Jahangir

जहांगीर

शाहजहाँ

QID : 81 - In 1824 the sepoys refused to go to which place to fight for the East india Company by sea route? 1824 में सिपाहियों ने ईस्ट इंडिया कंपनी के लिए लड़ने के लिए समुद्र मार्ग से कहाँ जाने से इनकार कर दिया?

Options:

- 1) United Kingdom
यूनाइटेड किंगडम
- 2) Burma
बर्मा
- 3) France
फ्रांस
- 4) Dutch
डच

Correct Answer: Burma

बर्मा

QID : 82 - What is the season during summer solstice in the Northern Hemisphere?

उत्तर अयनांत के समय उत्तरी गोलार्ध में कौन सी ऋतु होती है?

Options:

- 1) Winter
शीत
- 2) Summer
ग्रीष्म
- 3) Spring
वसंत
- 4) Autumn
पतझड़

Correct Answer: Summer

ग्रीष्म

QID : 83 - Which mountains separate Asia from Europe? कौन से पर्वत एशिया को यूरोप से अलग करते हैं?

Options:

- 1) Himalayas
हिमालय
- 2) Andes
एन्डीस
- 3) Ural
उरल
- 4) Rocky
रॉकी

Correct Answer: Ural

उरल

एन्डीस

QID : 84 - Which of the following prevents collapsing of trachea?

निम्नलिखित में से कौन सा अंग श्वासनली को नष्ट होने से रोकता है?

Options:

- 1) Diaphragm
डायाफ्राम
- 2) Ribs
पसलियाँ
- 3) Cartilaginous discs
उपस्थि डिस्क
- 4) Muscles
माँस-पेशियाँ

Correct Answer: Cartilaginous discs

उपस्थि डिस्क

डायाफ्राम

QID : 85 - The tricuspid valve occurs between the _____.

त्रिवलन कपाट _____ मौजूद होता है।

Options:

- 1) Right auricle and right ventricle
दायाँ अलिंद और दायाँ निलय के बीच

2) Pulmonary aorta.

फुफ्फुसी महाधमनी में

3) Corotico-systemic aorta and left ventricle

कोरोटिको सिस्टेमैटिक महाधमनी और बायें निलय के बीच में

4) Left ventricle

बायें निलय में

Correct Answer: Right auricle and right ventricle

दायें अलिंद और दायें निलय के बीच

QID : 86 - Which category of compound is the most concentrated energy source?

किस श्रेणी के यौगिक ऊर्जा के सर्वाधिक संकेन्द्रित स्रोत होते हैं?

Options:

1) Fats

वसा

2) Starch

स्टार्च

3) Proteins

प्रोटीन

4) Vitamins

विटामिन

Correct Answer: Fats

वसा

प्रोटीन

QID : 87 - The focal length of a plane mirror is _____.

एक समतल दर्पण की फोकस दूरी _____ होती है।

Options:

1) positive

धनात्मक

2) negative

ऋणात्मक

3) zero

शून्य

4) infinity

असीमित

Correct Answer: infinity

असीमित

असीमित

QID : 88 - What constitutes current in a metal wire?

एक धातु की तार में धारा को क्या संघटित करते हैं?

Options:

1) electrons

इलेक्ट्रॉन

2) protons

प्रोटॉन

3) neutrons

न्यूट्रॉन

4) None of these

इनमें से कोई नहीं

Correct Answer: electrons

इलेक्ट्रॉन

इनमें से कोई नहीं

QID : 89 - What is UBUNTU?

उबुण्टु क्या है?

Options:

1) Operating System

ऑपरेटिंग सिस्टम

2) Programming Languages

प्रोग्रामिंग लैंग्वेज

3) Microprocessor

माइक्रोप्रोसेसर

4) None of these

इनमें से कोई नहीं

Correct Answer: Operating System

ऑपरेटिंग सिस्टम

माइक्रोप्रोसेसर

QID : 90 - Isotopes of an element do not have _____.

एक तत्व के समस्थानिकों में _____ नहीं होती/होते हैं।

Options:

1) Same number of electrons

इलेक्ट्रॉनों की समान संख्या

2) Same physical properties

समान भौतिक गुण

3) Same chemical properties

समान रासायनिक गुण

4) Same number of protons

प्रोटॉन की समान संख्या

Correct Answer: Same physical properties

समान भौतिक गुण

समान रासायनिक गुण

QID : 91 - Gold is alloyed with which metal to make it harder?

मिश्र धातु के रूप में सोने को कठोर करने के लिए कौन सी

धातु मिलायी जाती है?

Options:

1) Cu

2) Sn

3) Ag

4) C

Correct Answer: Cu

QID : 92 - What are the substances which contaminate the air called?

जो पदार्थ वायु को संदूषित करते हैं उन्हें क्या कहते हैं?

Options:

1) Smoke

धुआँ

2) Air pollutants

वायु प्रदूषक

3) Dust

धूल

4) Exhausts

निर्वातक

Correct Answer: Air pollutants

वायु प्रदुषक
धुआँ

QID : 93 - Pradhan Mantri Jeevan Jyoti Bima Yojana is available to all citizens between the ages of 18 to _____ years.

प्रधानमंत्री जीवन ज्योति बीमा योजना 18 से _____ वर्ष तक की आयु के सभी नागरिकों के लिए उपलब्ध है।

Options:

- 1) 50
- 2) 60
- 3) 75
- 4) 80

Correct Answer: 50

QID : 94 - Who invented internet?

इंटरनेट का आविष्कार किसने किया?

Options:

- 1) Steve Jobs
स्टीव जॉब्स
- 2) Jaap Haartsen
जाप हास्टन
- 3) Jan Kourn
जैन कौम
- 4) Vint Cerf
विन्ट सर्फ

Correct Answer: Vint Cerf

विन्ट सर्फ

QID : 95 - 'Skeet' is associated with which sport?

"स्कीट" किस खेल से संबंधित है?

Options:

- 1) Running
दौड़
- 2) Cycling
सायक्लिंग
- 3) Shooting
शूटिंग
- 4) Swimming
तैराकी

Correct Answer: Shooting

शूटिंग

शूटिंग

QID : 96 - Mohiniattam is a classical dance form from which state?

मोहिनीअट्टम किस राज्य का शास्त्रीय नृत्य है?

Options:

- 1) Kerala
केरल
- 2) Goa
गोवा
- 3) Maharashtra

महाराष्ट्र

4) Karnataka

कर्नाटक

Correct Answer: Kerala

केरल

महाराष्ट्र

QID : 97 - Who won the 2016 Sahitya Akademi Award for Hindi?

हिंदी के लिए 2016 साहित्य अकादमी पुरस्कार कौन जीता?

Options:

- 1) Mridula Garg
मृदुला गर्ग
- 2) Amar Kant
अमर कांत
- 3) Nasira Sharma
नासिरा शर्मा
- 4) Kamleshwar
कमलेश्वर

Correct Answer: Nasira Sharma

नासिरा शर्मा

नासिरा शर्मा

QID : 98 - Who is the author of the book named "Not Just an Accountant"?

"नॉट जस्ट एन अकाउंटेंट" नामक पुस्तक के लेखक कौन हैं?

Options:

- 1) Raghuram Rajan
रघुराम राजन
- 2) Vinod Rai
विनोद राय
- 3) Achal Kumar Jyoti
अचल कुमार ज्योति
- 4) C. S. Karnan
सी.एस. कर्णन

Correct Answer: Vinod Rai

विनोद राय

QID : 99 - Association of South East Asian Nations (ASEAN) is a group of 10 South Asian nations which came into existence after _____ declaration.

एसोसिएशन ऑफ साउथ ईस्ट एशियन नेशंस (आसियान) 10 दक्षिण एशियाई राष्ट्रों का एक समूह है जो _____ घोषणापत्र के बाद अस्तित्व में आया?

Options:

- 1) Vienna
वियना
- 2) Kyoto
क्योटो
- 3) Bangkok
बैंकॉक
- 4) Singapore
सिंगापुर

Correct Answer: Bangkok

बैंकाँक

बैंकाँक

QID : 100 - Which dam is called the Afghan India Friendship Dam?

कौन सा बांध अफ़गान भारत मित्रता बांध कहलाता है?

Options:

1) Sawalkot

सवालकोट

2) Barighat

बड़ीघाट

3) Salma

सलमा

4) Upper Karnali

ऊपरी करनाली

Correct Answer: Salma

सलमा