



Staff Selection Commission
(Government Of India)

REGISTRATION NUMBER : 2201290484

CANDIDATES NAME: MOCKTIME.COM

EXAM NAME : SSC CHSL

EXAM DURATION : 01:00 Hrs

TOTAL MARKS : 200

TOTAL NO OF QUESTIONS : 100

QID : 201 -

In the following question, select the number which can be placed at the sign of question mark (?) from the given alternatives.

निम्नलिखित प्रश्न में दिए गए विकल्पों में से प्रश्न चिह्न (?) के स्थान पर आने वाली संख्या को चुनिए।

4	2	2
7	3	4
6	5	5
34	11	?

Options:

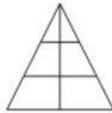
- 1) 12
- 2) 13
- 3) 17
- 4) 15

Correct Answer: 13

QID : 202 -

How many triangles are there in the given figure?

दी गई आकृति में कितने त्रिभुज हैं?



Options:

- 1) 4
- 2) 6
- 3) 7
- 4) 9

Correct Answer: 9

QID : 203 -

A word is represented by only one set of numbers as given in any one of the alternatives. The sets of numbers given in the alternatives are represented by two classes of alphabets as shown in the given two matrices. The columns and rows of **Matrix-I** are numbered from 0 to 4 and that of **Matrix-II** are numbered from 5 to 9. A letter from these matrices can be represented first by its row and next by its column, for example, 'G' can be represented by 30, 86, etc., and 'H' can be represented by 03, 65, etc. Similarly, you have to identify the set for the word "BEAT".

एक शब्द केवल एक संख्या-समूह द्वारा दर्शाया गया है, जैसा कि विकल्पों में से किसी एक में दिया गया है। विकल्पों में दिए गए संख्या-समूह अक्षरों के दो वर्गों द्वारा दर्शाए गए हैं, जैसा कि दिए गए दो आव्यूहों में है। आव्यूह-I के स्तम्भ और पंक्ति की संख्या 0 से 4 है और आव्यूह-II की 5 से 9। इन आव्यूहों से एक अक्षर को पहले उसकी पंक्ति और बाद में स्तम्भ संख्या द्वारा दर्शाया जा सकता है। उदाहरण के लिए 'G' को 30, 86, आदि द्वारा दर्शाया जा सकता है तथा 'H' को 03, 65, आदि द्वारा दर्शाया जा सकता है। इसी तरह से आपको प्रश्न में दिए शब्द "BEAT" के लिए समूह को पहचानना है।

Matrix-I आव्यूह-I						Matrix-II आव्यूह-II					
	0	1	2	3	4		5	6	7	8	9
0	B	D	F	H	J	5	J	L	E	G	Y
1	L	N	P	R	T	6	H	A	C	I	W
2	U	X	Z	C	A	7	F	P	Z	K	U
3	G	I	K	M	O	8	D	G	X	M	S
4	Q	S	E	W	Y	9	B	T	V	O	Q

Options:

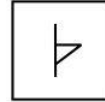
- 1) 00, 57, 24, 32
- 2) 00, 57, 23, 14
- 3) 95, 42, 66, 96
- 4) 95, 59, 66, 14

Correct Answer: 95, 42, 66, 96

QID : 204 -

From the given answer figures, select the one in which the question figure is hidden/embedded.

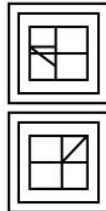
दी गई उत्तर आकृतियों में से उस उत्तर आकृति को चुनिए जिस में प्रश्न आकृति निहित है।



Options:

- 1)
- 2)
- 3)
- 4)

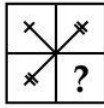
Correct Answer:



QID : 205 -

Which answer figure will complete the pattern in the question figure?

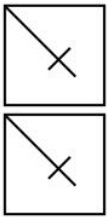
कौन सी उत्तर आकृति प्रश्न आकृति के प्रतिरूप को पूरा करेगी?



Options:

- 1)
- 2)
- 3)
- 4)

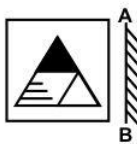
Correct Answer:



QID : 206 -

If a mirror is placed on the line AB, then which of the answer figures is the right image of the given figure?

यदि एक दर्पण को AB रेखा पर रखा जाए, तो दी गई उत्तर आकृतियों में से कौन सी आकृति प्रश्न आकृति की सही प्रतिबिम्ब होगी?



Options:

- 1)
- 2)
- 3)



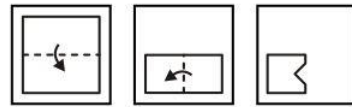
4) Correct Answer:



QID : 207 -

A piece of paper is folded and punched as shown below in the question figures. From the given answer figures, indicate how it will appear when opened?

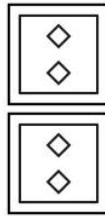
नीचे के प्रश्न आकृतियों में दिखाए अनुसार कागज को मोड़कर छेदने तथा खोलने के बाद वह किस उत्तर आकृति जैसा दिखाई देगा?



Options:

- 1)
- 2)
- 3)
- 4)

Correct Answer:



QID : 208 - What will come in place of question mark (?) in the given equation?

$$10 ? 0 ? 9 ? 5 = 10$$

दिए गए समीकरण में प्रश्न चिह्न (?) के स्थान पर क्या आएगा?

$$10 ? 0 ? 9 ? 5 = 10$$

Options:

- 1) -, + and ÷
-, + तथा ÷
- 2) +, - and ×
+, - तथा ×

3) +, × and ÷
+, × तथा ÷

4) ×, + and ÷
×, + तथा ÷

Correct Answer: +, × and ÷

+, × तथा ÷

-, + तथा ÷

QID : 209 - If $1 \# 3 \# 7 = 21$ and $12 \# 1 \# 3 = 36$, then $14 \# 2 \# 0 = ?$

यदि $1 \# 3 \# 7 = 21$ तथा $12 \# 1 \# 3 = 36$ हो, तो $14 \# 2 \# 0 = ?$

Options:

1) 28

2) 0

3) 16

4) 7

Correct Answer: 0

QID : 210 - Arrange the given words in the sequence in which they occur in the dictionary.

1. Legal

2. Lamp

3. Lizard

4. Lately

5. Limps

निम्नलिखित शब्दों को शब्दकोश में आने वाले क्रम के अनुसार लिखें।

1. Legal

2. Lamp

3. Lizard

4. Lately

5. Limps

Options:

1) 24135

2) 42135

3) 24153

4) 42531

Correct Answer: 24153

QID : 211 - In the following question, select the missing number from the given alternatives.

1, 7, 9, 13, 19, 21, 25, 31, ?

निम्नलिखित प्रश्न में दिए गए विकल्पों में से लुप्त अंक ज्ञात कीजिए।

1, 7, 9, 13, 19, 21, 25, 31, ?

Options:

1) 36

2) 35

3) 33

4) 32

Correct Answer: 33

QID : 212 - A series is given with one term missing. Select the correct alternative from the given ones that will complete the series.

AB, DE, GH, JK, ?

एक अनुक्रम दिया गया है, जिसमें से एक पद लुप्त है। दिए गए विकल्पों में से वह सही विकल्प चुनिए, जो अनुक्रम को पूरा करे।

AB, DE, GH, JK, ?

Options:

1) MN

2) LM

3) NO

4) KL

Correct Answer: MN

QID : 213 - In the following question, select the odd word from the given alternatives.

निम्नलिखित प्रश्न में दिए गए विकल्पों में से विषम शब्द को चुनिए।

Options:

1) Refrigerator

रेफ्रिजरेटर

2) Computer

कम्प्यूटर

3) Windmill

पवन चक्की

4) Television

टेलीविज़न

Correct Answer: Windmill

पवन चक्की

पवन चक्की

QID : 214 - In the following question, select the odd number pair from the given alternatives.

निम्नलिखित प्रश्न में दिए गए विकल्पों में से विषम संख्या युग्म को चुनिए।

Options:

1) 16 – 24

2) 32 – 46

3) 18 – 27

4) 26 – 39

Correct Answer: 32 – 46

QID : 215 - In the following question, select the odd letters pair from the given alternatives.

निम्नलिखित प्रश्न में दिए गए विकल्पों में से विषम अक्षरों के युग्म को चुनिए।

Options:

1) BLOP – OPBL

2) STIR – IRST

3) CANT – NTCA

4) PEST – SEPT

Correct Answer: PEST – SEPT

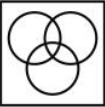



QID : 216 - Identify the diagram that best represents the relationship among the given classes.

Paragraph, Book, Pages


वह आरेख चुनिए जो नीचे दिए गए वर्गों के बीच के संबंध का सही निरूपण करता है।

अनुच्छेद, पुस्तक, पृष्ठ

Options:

- 1) 
- 2) 
- 3) 
- 4) 

Correct Answer:



QID : 217 - In the following question, select the related word from the given alternatives.

Ice : Cold :: Fire : ?

निम्नलिखित प्रश्न में दिए गए विकल्पों में से संबंधित शब्द को चुनिए।

बर्फ : ठंडा :: आग : ?

Options:

- 1) Heat
गर्मी
- 2) Wood
लकड़ी
- 3) Wool
ऊन
- 4) Yellow
पीला

Correct Answer: Heat

गर्मी

गर्मी

QID : 218 - In the following question, select the related number from the given alternatives.

87 : 260 :: 114 : ?

निम्नलिखित प्रश्न में दिए गए विकल्पों में से संबंधित संख्या को चुनिए।

87 : 260 :: 114 : ?

Options:

- 1) 281
- 2) 341
- 3) 293
- 4) 357

Correct Answer: 341

QID : 219 - In the following question, select the related letters from the given alternatives.

NU : MF :: EH : ?

निम्नलिखित प्रश्न में दिए गए विकल्पों में से संबंधित अक्षरों को चुनिए।

NU : MF :: EH : ?

Options:

- 1) IR
- 2) VS
- 3) GT
- 4) DW

Correct Answer: VS

QID : 220 - In the following question, select the word which cannot be formed using the letters of the given word.

BUILDINGS

निम्नलिखित विकल्पों में से वह शब्द चुनिए जो दिए गए शब्द के अक्षरों का प्रयोग करके नहीं बनाया जा सकता।

BUILDINGS

Options:

- 1) BUILD
- 2) BINDS
- 3) SAND
- 4) DUBS

Correct Answer: SAND

QID : 221 - A, B, C, D and E are sitting in a line facing west. A and B sit at adjacent places. C is sitting at south end and D is sitting at north end. E is neighbour of B and C. Who is 2nd from south end?

A, B, C, D तथा E एक पंक्ति में पश्चिम की ओर मुख करके बैठे हैं। A तथा B एक साथ बैठे हैं। C दक्षिण छोर पर बैठा है तथा D उत्तरी छोर पर बैठा है। E, B तथा C का पड़ोसी है। दक्षिणी छोर से दूसरा कौन है?

Options:

- 1) B
- 2) E
- 3) A
- 4) D

Correct Answer: E

QID : 222 - There are 40 cars in a row. White car is 13th from left end. What is its position from right end?
एक पंक्ति में 40 गाड़ियाँ हैं। सफेद गाड़ी बायीं ओर से 13 वीं हैं। उसका स्थान दायीं ओर से क्या है?

Options:

- 1) 29
- 2) 28
- 3) 27
- 4) 26

Correct Answer: 28

QID : 223 - In the following question below are given some statements followed by some conclusions. Taking the given statements to be true even if they seem to be at variance from commonly known facts, read all the conclusions and then decide which of the given conclusion logically follows the given statements.

Statements:

I. All cups are tables.

II. Some cups are chairs.

Conclusions:

I. Some cups are tables.

II. Some tables are chairs.

नीचे दिए गए प्रश्न में कुछ कथन और उनके बाद उन कथनों पर आधारित कुछ निष्कर्ष दिए गए हैं, हालांकि उनमें सामान्य ज्ञात तथ्यों से भिन्नता हो सकती है। सभी निष्कर्ष पढ़ें और फिर निर्धारित करें कि दिए गए कौन से निष्कर्ष, दिए गए कथनों के आधार पर युक्तिसंगत हैं।

कथन:

I. सभी कप मेज़ हैं।

II. कुछ कप कुर्सियाँ हैं।

निष्कर्ष:

I. कुछ कप मेज़ हैं।

II. कुछ मेज़ कुर्सियाँ हैं।

Options:

1) Only conclusion (I) follows.

केवल निष्कर्ष (I) सही है।

2) Only conclusion (II) follows.

केवल निष्कर्ष (II) सही है।

3) Both conclusion follow.

दोनों ही निष्कर्ष सही हैं।

4) Neither conclusion (I) nor conclusion (II) follows.

न तो निष्कर्ष (I) न ही निष्कर्ष (II) सही है।

Correct Answer: Both conclusion follow.

दोनों ही निष्कर्ष सही हैं।

केवल निष्कर्ष (II) सही है।

QID : 224 - In a certain code language, "FUNNY" is written as "DSLLW". How is "PRIDE" written in that code language?

एक विशिष्ट कोड भाषा में, "FUNNY" को "DSLLW" लिखा जाता है। इस कोड भाषा में "PRIDE" को किस प्रकार लिखा जाएगा?

Options:

1) NPGBC

2) NPGBD

3) NQGBC

4) NPGDC

Correct Answer: NPGBC

QID : 225 - In a certain code language, 'green' is written as 'blue', 'blue' is written as 'yellow', 'yellow' is written as 'black', 'black' is written as 'white' and 'white' is written as 'orange'. What is the colour of milk?

एक विशिष्ट कोड भाषा में, 'हरे'

को 'नीला', 'नीले' को 'पीला', 'पीले' को

'काला', 'काले' को 'सफेद' तथा 'सफेद' को 'नारंगी' लिखा जाता

है। दूध का रंग क्या है?

Options:

1) White

सफेद

2) Orange

नारंगी

3) Black

काला

4) Yellow

पीला

Correct Answer: Orange

नारंगी

नारंगी

QID : 226 - What is the value of $6^3 + 7^3 + 8^3 + \dots + 10^3$?
 $6^3 + 7^3 + 8^3 + \dots + 10^3$ का मान क्या है?

Options:

1) 3025

2) 2800

3) 2900

4) 2925

Correct Answer: 2800

QID : 227 - Which of the following statement (s) is/are true?

I. $2^{300} > 3^{200}$ II. $6^{100} > 2^{300}$

निम्नलिखित में से कौन सा/से कथन सत्य है/हैं?

I. $2^{300} > 3^{200}$ II. $6^{100} > 2^{300}$ **Options:**

1) Only I

केवल I

2) Only II

केवल II

3) Both (I) and (II)

(I) तथा (II) दोनों

4) Neither (I) nor (II)

न तो (I) न (II)

Correct Answer: Neither (I) nor (II)

न तो (I) न (II)

न तो (I) न (II)

QID : 228 - What is the largest two digit number which is exactly divisible by both 6 and 5?

दो अंकों की सबसे बड़ी संख्या क्या है, जो 6 तथा 5 दोनों से

पूर्णतयः विभाजित हो?

Options:

1) 90

2) 92

3) 60

4) 96

Correct Answer: 90

QID : 229 - If 34P8 is divisible by 9, then what is the value of P?

यदि 34P8, 9 से विभाजित है, तो P का मान क्या है?

Options:

1) 2

2) 3

3) 4

4) 5

Correct Answer: 3

QID : 230 - What is the unit's digit of 16^{10} ?
 16^{10} का इकाई अंक क्या है?

Options:

- 1) 2
- 2) 4
- 3) 6
- 4) 8

Correct Answer: 6

QID : 231 - If $3^{x+3} + 3^{x-2} = 244$, then what is the value of x ?

यदि $3^{x+3} + 3^{x-2} = 244$ है, तो x का मान क्या है?

Options:

- 1) 2
- 2) 3
- 3) 1
- 4) 4

Correct Answer: 2

QID : 232 - Three taps P, Q and R can fill a tank in 20, 30 and 40 minutes respectively. If all the three taps are opened, then how much time (in minutes) it will take to completely fill the tank?

तीन नल P, Q तथा R एक टंकी को भरने में क्रमशः 20, 30 तथा 40 मिनट लेते हैं। यदि तीनों नल खोल दिए जाए, तो टंकी को पूरा भरने में कितना समय (मिनट में) लगेगा?

Options:

- 1) $9\frac{3}{13}$
- 2) 12
- 3) $8\frac{1}{3}$
- 4) 15

Correct Answer:

- 1) $9\frac{3}{13}$
- 2) $9\frac{3}{13}$

QID : 233 - Two pipes U and V can fill a cistern in 12 hours and 20 hours respectively. Pipe W can empty the tank in 8 hours. If all the three pipes are opened, then in how many hours the cistern will be full?

दो पाइप U तथा V किसी टंकी को क्रमशः 12 घंटे तथा 20 घंटे में भर सकते हैं। पाइप W टंकी को 8 घंटे में खाली कर सकता है। यदि तीनों पाइपों को खोल दिया जाता है, तो कितने घंटों में टंकी पूरी भर जाएगी?

Options:

- 1) 60
- 2) 120
- 3) 150
- 4) 100

Correct Answer: 120

QID : 234 - If the surface area of cube is 294 cm^2 , then what is the volume (in cm^3) of the cube?

यदि घन का पृष्ठीय क्षेत्रफल 294 से.मी.^2 है, तो घन का आयतन (से.मी.³ में) क्या है?

Options:

- 1) 343
- 2) 512
- 3) 379
- 4) 313

Correct Answer: 343

QID : 235 - Marked price of an article is 35% more than its cost price. If a discount of 40% is given, then what will be the loss percentage?

एक वस्तु का अंकित मूल्य उसके क्रय मूल्य से 35% ज्यादा है। यदि 40% की छूट दी जाए, तो हानि प्रतिशत क्या होगा?

Options:

- 1) 19
- 2) 22
- 3) 27
- 4) 16

Correct Answer: 19

QID : 236 - Selling price of an article is Rs 6225. If 17% discount is given, then what is the marked price (in Rs)?

एक वस्तु का विक्रय मूल्य 6225 रु है। यदि 17% की छूट दी गई है, तो अंकित मूल्य (रु में) क्या है?

Options:

- 1) 6900
- 2) 7800
- 3) 7100
- 4) 7500

Correct Answer: 7500

QID : 237 - The ratio of monthly income of Deepak and Raj is 4 : 9 respectively and the ratio of their expenditures is 1 : 3 respectively. If each saves Rs 9000 per month, then what will be the monthly income (in Rs) of Deepak?

दीपक तथा राज की मासिक आय का अनुपात क्रमशः 4 : 9 है तथा उनके खर्च का अनुपात क्रमशः 1 : 3 है। यदि प्रत्येक एक महीने में 9000 रु की बचत करता है, तो दीपक की मासिक आय (रु में) क्या होगी?

दीपक तथा राज की मासिक आय का अनुपात क्रमशः 4 : 9 है तथा उनके खर्च का अनुपात क्रमशः 1 : 3 है। यदि प्रत्येक एक महीने में 9000 रु की बचत करता है, तो दीपक की मासिक आय (रु में) क्या होगी?

दीपक तथा राज की मासिक आय का अनुपात क्रमशः 4 : 9 है तथा उनके खर्च का अनुपात क्रमशः 1 : 3 है। यदि प्रत्येक एक महीने में 9000 रु की बचत करता है, तो दीपक की मासिक आय (रु में) क्या होगी?

Options:

- 1) 54000
- 2) 33000
- 3) 24000
- 4) 42000

Correct Answer: 24000

QID : 238 - The ratio of four numbers U, V, W and X is 2 : 7 : 9 : 11 respectively. The sum of V and W is 45 more than the sum of U and X. What is the value of (U + X)?

चार संख्याओं U, V, W तथा X का अनुपात क्रमशः 2 : 7 : 9 : 11 है। V तथा W का योग U तथा X के योग से 45 अधिक है।

(U + X) का मान क्या है?

Options:

- 1) 165
- 2) 195

3) 205

4) 215

Correct Answer: 195

QID : 239 - Average weight of a group of 11 students is 37 kg. When a student left the group, then average weight of the group becomes 35 kg. What is the weight (in kg) of the student who left?

11 विद्यार्थियों के एक समूह का औसत भार 37 कि.ग्रा. है। जब एक विद्यार्थी समूह को छोड़ कर चला जाता है, तो समूह का औसत भार 35 कि.ग्रा. हो जाता है। समूह छोड़कर गए विद्यार्थी का वजन (कि.ग्रा. में) क्या है?

Options:

1) 65

2) 59

3) 57

4) 70

Correct Answer: 57

QID : 240 - If selling price is 60 more than the cost price and profit is 15%, then what is the cost price (in Rs)?

यदि विक्रय मूल्य क्रय मूल्य से 60 अधिक है तथा लाभ 15% है, तो क्रय मूल्य (रु में) क्या है?

Options:

1) 440

2) 460

3) 520

4) 400

Correct Answer: 400

QID : 241 - If selling price is Rs 144 and profit is 20%, then what is the cost price (in Rs)?

यदि विक्रय मूल्य 144 रु है तथा लाभ 20% है, तो क्रय मूल्य (रु में) क्या है?

Options:

1) 120

2) 110

3) 140

4) 130

Correct Answer: 120

QID : 242 - If 30% of P = 40% of Q, then Q is how much percent less than P?

यदि P का 30% = Q का 40%, तो Q, P से कितने प्रतिशत कम है?

Options:

1) 20

2) 25

3) 12.5

4) 10

Correct Answer: 25

QID : 243 - If P is 30% more than Q and R is 30% less than Q, then R is how much percent less than P?

यदि P, Q से 30% अधिक है तथा R, Q से 30% कम है, तो R, P से कितनी प्रतिशत कम है?

Options:

1) 60

2) 51

3) 46.15

4) 69

Correct Answer: 46.15

QID : 244 - A train crosses a platform in 45 seconds travelling with a speed of 36 km/h. If the length of the train be 200 metres, then what will be the length (in metres) of the platform?

एक रेलगाड़ी 36 कि.मी./घंटा की गति से चलते हुए एक प्लेटफॉर्म को 45 सेकण्ड में पार कर लेती है। यदि रेलगाड़ी की लम्बाई 200 मीटर है, तो प्लेटफॉर्म की लम्बाई (मीटर में) क्या होगी?

Options:

1) 250

2) 200

3) 300

4) 350

Correct Answer: 250

QID : 245 - A goes office at a speed of 10 km/hr and returns home at 40 km/hr. What is his average speed (in km/hr)?

A, 10 कि.मी./घंटा की गति से अपने कार्यालय जाता है तथा 40 कि.मी./घंटा की गति से वापस आता है। उसकी औसत गति (कि.मी./घंटा में) क्या है?

Options:

1) 16

2) 24

3) 25

4) 32

Correct Answer: 16

QID : 246 - A sum amounts to Rs 2420 in 2 years when invested at compound interest. If principal is Rs 2000, then what is the rate of interest (in %)?

एक राशि चक्रवृद्धि ब्याज पर निवेश करने से 2 वर्ष में 2420 रु हो जाती है। यदि मूलधन 2000 रु है, तो ब्याज दर (% में) क्या है?

Options:

1) 15

2) 10

3) 8

4) 12

Correct Answer: 10

QID : 247 -

The table given below shows number of literate people and total population in a village from the year 2011 to 2016.

नीचे दी गई तालिका में एक गाँव में वर्ष 2011 से 2016 तक शिक्षित लोगों तथा कुल जनसंख्या को दर्शाया गया है।

Year वर्ष	Literate people शिक्षित लोग	Total population कुल जनसंख्या
2011	712	3042
2012	814	3072
2013	917	3128
2014	1250	3750
2015	1380	3940
2016	1560	4050

What is the percentage of people who are literate in 2012?

वर्ष 2012 में कितने प्रतिशत लोग शिक्षित हैं?

Options:

- 1) 26.49
- 2) 27.92
- 3) 29.14
- 4) 22.47

Correct Answer: 26.49

QID : 248 -

The table given below shows number of literate people and total population in a village from the year 2011 to 2016.

नीचे दी गई तालिका में एक गाँव में वर्ष 2011 से 2016 तक शिक्षित लोगों तथा कुल जनसंख्या को दर्शाया गया है।

Year वर्ष	Literate people शिक्षित लोग	Total population कुल जनसंख्या
2011	712	3042
2012	814	3072
2013	917	3128
2014	1250	3750
2015	1380	3940
2016	1560	4050

What is the percentage increase (approximately) in the total population in the year 2012 in comparison to year 2011?

वर्ष 2011 की तुलना में, वर्ष 2012 में कुल जनसंख्या में कितने प्रतिशत की वृद्धि (लगभग) हुई है?

Options:

- 1) 1
- 2) 3
- 3) 4
- 4) 7

Correct Answer: 1

QID : 249 -

The table given below shows number of literate people and total population in a village from the year 2011 to 2016.

नीचे दी गई तालिका में एक गाँव में वर्ष 2011 से 2016 तक शिक्षित लोगों तथा कुल जनसंख्या को दर्शाया गया है।

Year वर्ष	Literate people शिक्षित लोग	Total population कुल जनसंख्या
2011	712	3042
2012	814	3072
2013	917	3128
2014	1250	3750
2015	1380	3940
2016	1560	4050

What is the percentage increase in the literate people in the year 2015 in comparison to year 2014?

वर्ष 2014 की तुलना में, वर्ष 2015 में शिक्षित लोगों की संख्या में कितने प्रतिशत की वृद्धि हुई है?

Options:

- 1) 10.4
- 2) 11.5
- 3) 16.5
- 4) 21.2

Correct Answer: 10.4

QID : 250 -

The table given below shows number of literate people and total population in a village from the year 2011 to 2016.

नीचे दी गई तालिका में एक गाँव में वर्ष 2011 से 2016 तक शिक्षित लोगों तथा कुल जनसंख्या को दर्शाया गया है।

Year वर्ष	Literate people शिक्षित लोग	Total population कुल जनसंख्या
2011	712	3042
2012	814	3072
2013	917	3128
2014	1250	3750
2015	1380	3940
2016	1560	4050

What is the average number of literate people from 2011 to 2016?

वर्ष 2011 से वर्ष 2016 तक, शिक्षित लोगों की औसत संख्या क्या है?

Options:

- 1) 1370.6
- 2) 980.5
- 3) 1070.5
- 4) 1105.5

Correct Answer: 1105.5

QID : 251 - In the following question, some part of the sentence may have errors. Find out which part of the sentence has an error and select the appropriate option. If a sentence is free from error, select 'No Error'.

The top court also agree to hear a separate (1)/ PIL, which has raised the issue of lack of (2)/ safety measures in private schools across the country. (3)/ No Error

Options:

- 1) 1
- 2) 2
- 3) 3
- 4) 4

Correct Answer: 1

QID : 252 - In the following question, some part of the sentence may have errors. Find out which part of the sentence has an error and select the appropriate option. If a sentence is free from error, select 'No Error'.

They have claimed to (1)/ have deface 30 websites belonging (2)/ to various countries. (3)/ No Error (4)

Options:

- 1) 1
- 2) 2
- 3) 3
- 4) 4

Correct Answer: 2

QID : 253 - In the following question, the sentence given with blank to be filled in with an appropriate word. Select the correct alternative out of the four and indicate it by electing the appropriate option.

Neha will give you a gift _____ you complete her work in next two hours.

Options:

- 1) though
- 2) as
- 3) if
- 4) till

Correct Answer: if

QID : 254 - In the following question, the sentence given with blank to be filled in with an appropriate word. Select the correct alternative out of the four and indicate it by selecting the appropriate option.

Ashutosh told me not to be afraid _____ his father.

Options:

- 1) of
- 2) from
- 3) with
- 4) to

Correct Answer: of

QID : 255 - In the following question, out of the give four alternatives, select the one which best expresses the meaning of the given word.

Futile

Options:

- 1) Effective
- 2) Hopeful
- 3) Cogent
- 4) Useless

Correct Answer: Useless

QID : 256 - In the following question, out of the give four alternatives, select the one which best expresses the meaning of the given word.

Vigilant

Options:

- 1) Careless
- 2) Impulsive
- 3) Watchful
- 4) Inattentive

Correct Answer: Watchful

QID : 257 - In the following question, out of the give four alternatives, select the one which best expresses the meaning of the given word.

Modest

Options:

- 1) Brave
- 2) Humble
- 3) Proud
- 4) Arrogant

Correct Answer: Humble

QID : 258 - In the following question, out of the give four alternatives, select the one which is opposite in meaning of the given word.

Lucid

Options:

- 1) Clear
- 2) Distinct
- 3) Vague
- 4) Bright

Correct Answer: Vague

QID : 259 - In the following question, out of the give four alternatives, select the one which is opposite in meaning of the given word.

Jovial

Options:

- 1) Happy
- 2) Gay
- 3) Merry
- 4) Sorrowful

Correct Answer: Sorrowful

QID : 260 - In the following question, out of the give four alternatives, select the one which is opposite in meaning of the given word.

Terrible

Options:

- 1) Bad
- 2) Dire
- 3) Nice
- 4) Poor

Correct Answer: Nice

QID : 261 - In the following question, out of the given four alternatives, select the alternative which best expresses the meaning of the Idiom/Phrase.

Spick and span.

Options:

- 1) Short and sweet
- 2) Long and healthy
- 3) Clean and tidy

4) Day and night

Correct Answer: Clean and tidy

QID : 262 - In the following question, out of the given four alternatives, select the alternative which best expresses the meaning of the Idiom/Phrase.

Eat anyone's salt.

Options:

- 1) To be unfair to all
- 2) To be one's guest
- 3) To be flexible
- 4) Eating lot of junk food

Correct Answer: To be one's guest

QID : 263 - In the following question, out of the four alternatives, select the alternative which will improve the bracketed part of the sentence. In case no improvement is needed, select "no improvement".

My father is in **(a teaching profession)**.

Options:

- 1) teaching
- 2) a profession of teaching
- 3) the profession of teaching
- 4) No improvement

Correct Answer: the profession of teaching

QID : 264 - In the following question, out of the four alternatives, select the alternative which will improve the bracketed part of the sentence. In case no improvement is needed, select "no improvement".

The decision **(lies)** in the hands of students and not the teacher.

Options:

- 1) lay
- 2) were
- 3) lie
- 4) No improvement

Correct Answer: No improvement

QID : 265 - In the following question, out of the four alternatives, select the alternative which is the best substitute of the phrase.

One who goes to settle in Foreign Country.

Options:

- 1) Alien
- 2) Emigrant
- 3) Foreigner
- 4) Traitor

Correct Answer: Emigrant

QID : 266 - In the following question, out of the four alternatives, select the alternative which is the best substitute of the phrase.

A book giving meaning of various words.

Options:

- 1) Encyclopaedia
- 2) Textbook
- 3) Dictionary
- 4) Novel

Correct Answer: Dictionary

QID : 267 - In the following question, a word has been written in four different ways out of which only one is correctly spelt. Select the correctly spelt word.

Options:

- 1) Vihecle
- 2) Vehicle
- 3) Vehical
- 4) Vecle

Correct Answer: Vehicle

QID : 268 - In the following question, a word has been written in four different ways out of which only one is correctly spelt. Select the correctly spelt word.

Options:

- 1) Instalment
- 2) Instolmant
- 3) Instalment
- 4) Insttalment

Correct Answer: Instalment

QID : 269 - The question below consists of a set of labelled sentences. Out of the four options given, select the most logical order of the sentences to form a coherent paragraph.

Books never

P: all fair-weather friends

Q: desert us even when

R: have deserted us

Options:

- 1) PQR
- 2) RQP
- 3) QPR
- 4) QRP

Correct Answer: QPR

QID : 270 - The question below consists of a set of labelled sentences. Out of the four options given, select the most logical order of the sentences to form a coherent paragraph.

Progress in life

P: deal on crossing one

Q: depends a good

R: threshold after another

Options:

- 1) RQP
- 2) QPR
- 3) QRP
- 4) RPQ

Correct Answer: QPR

QID : 271 - In the following passage some of the words have been left out. Read the passage carefully and select the correct answer for the given blank out of the four alternatives.

Independence Day is _____ in all the states and Union Territories of India. The National Flag _____ ceremony is also observed in schools, colleges, societies and government offices. Buildings are decorated by tri-color lights. All these events _____ a feeling of patriotism in our heart. The feelings of _____ get blossomed in the heart of all the people of the country. This motivates our people, both young

and old, to come forward and _____ towards the nation.

Independence Day is _____

Options:

- 1) seen
- 2) celebrated
- 3) gathered
- 4) enjoyed

Correct Answer: celebrated

QID : 272 - In the following passage some of the words have been left out. Read the passage carefully and select the correct answer for the given blank out of the four alternatives.

Independence Day is _____ in all the states and Union Territories of India. The National Flag _____ ceremony is also observed in schools, colleges, societies and government offices. Buildings are decorated by tri-color lights. All these events _____ a feeling of patriotism in our heart. The feelings of _____ get blossomed in the heart of all the people of the country. This motivates our people, both young and old, to come forward and _____ towards the nation.

The National Flag _____

Options:

- 1) hoisting
- 2) decoration
- 3) wearing
- 4) bearing

Correct Answer: hoisting

QID : 273 - In the following passage some of the words have been left out. Read the passage carefully and select the correct answer for the given blank out of the four alternatives.

Independence Day is _____ in all the states and Union Territories of India. The National Flag _____ ceremony is also observed in schools, colleges, societies and government offices. Buildings are decorated by tri-color lights. All these events _____ a feeling of patriotism in our heart. The feelings of _____ get blossomed in the heart of all the people of the country. This motivates our people, both young and old, to come forward and _____ towards the nation.

All these events _____ a feeling of patriotism in our heart.

Options:

- 1) show
- 2) witness
- 3) inject
- 4) breeze

Correct Answer: inject

QID : 274 - In the following passage some of the words have been left out. Read the passage carefully and select the correct answer for the given blank out of the four alternatives.

Independence Day is _____ in all the states and Union Territories of India. The National Flag _____ ceremony is also observed in schools, colleges, societies and government offices. Buildings are

decorated by tri-color lights. All these events _____ a feeling of patriotism in our heart. The feelings of _____ get blossomed in the heart of all the people of the country. This motivates our people, both young and old, to come forward and _____ towards the nation.

The feelings of _____ get blossomed

Options:

- 1) enmity
- 2) oneness
- 3) competition
- 4) jealousy

Correct Answer: oneness

QID : 275 - In the following passage some of the words have been left out. Read the passage carefully and select the correct answer for the given blank out of the four alternatives.

Independence Day is _____ in all the states and Union Territories of India. The National Flag _____ ceremony is also observed in schools, colleges, societies and government offices. Buildings are decorated by tri-color lights. All these events _____ a feeling of patriotism in our heart. The feelings of _____ get blossomed in the heart of all the people of the country. This motivates our people, both young and old, to come forward and _____ towards the nation.

come forward and _____ towards

Options:

- 1) die
- 2) kill
- 3) work
- 4) contribute

Correct Answer: contribute

QID : 276 - When does government announces minimum support price?

सरकार न्यूनतम समर्पित कीमत की घोषणा कब करती है?

Options:

- 1) Before sowing of crops
फसलों की बुआई से पहले
- 2) After sowing of crops
फसलों की बुआई के बाद
- 3) After harvesting of crops
फसलों की कटाई के बाद
- 4) Always in the month of January
हमेशा जनवरी माह में

Correct Answer: Before sowing of crops

फसलों की बुआई से पहले

फसलों की बुआई के बाद

QID : 277 - Cultivation of cotton crop comes under which sector of economic activity?

कपास की खेती किस आर्थिक गतिविधि के क्षेत्र के अंतर्गत आती है?

Options:

- 1) Primary sector
प्राथमिक क्षेत्र

2) Secondary sector
द्वितीयक क्षेत्रक

3) Tertiary sector
तृतीयक क्षेत्रक

4) None of these
इनमें से कोई नहीं

Correct Answer: Primary sector

प्राथमिक क्षेत्रक

द्वितीयक क्षेत्रक

QID : 278 - In which type of government, government has to explain its actions and defend its decisions to the people?

किस प्रकार कि सरकार में, सरकार को अपने निर्णयों एवं उठाए गए कदमों का आधार लोगों को बताना होता है?

Options:

1) Democratic

लोकतंत्रिक

2) Monarchic

राजतंत्रिक

3) Aristocratic

कुलीनतंत्रिक

4) Autocratic

एकतंत्रिक

Correct Answer: Democratic

लोकतंत्रिक

लोकतंत्रिक

QID : 279 - Every Village Panchayat is divided into many _____.

हर ग्राम पंचायत कई _____ में बँटी हुई होती है।

Options:

1) Panchs

पंचों

2) Grams

ग्रामों

3) Sabhas

सभाओं

4) Wards

वार्डों

Correct Answer: Wards

वार्डों

पंचों

QID : 280 - Which Act was passed by Britishers to Silenced those who were critical of the government?

अंग्रेजों द्वारा कौन सा एक्ट पारित किया गया था जिससे

सरकार की आलोचना करने वाले को चुप कराया जाता था?

Options:

1) Vernacular Press Act

वर्नाक्यूलर प्रेस एक्ट

2) Ilbert Bill

इल्बर्ट बिल

3) Arms Act

आर्म्स एक्ट

4) Regulating Act, 1773

रेगुलेटिंग एक्ट, 1773

Correct Answer: Vernacular Press Act

वर्नाक्यूलर प्रेस एक्ट

इल्बर्ट बिल

QID : 281 - Raziyya Sultan was the daughter of which ruler?

रज़िया सुल्तान किस शासक के पुत्री थी?

Options:

1) Qutbuddin Aibak

कुतुबुद्दीन ऐबक

2) Shamsuddin Iltutmish

शम्सुद्दीन इल्तुतमिश

3) Ghiyasuddin Balban

गयासुद्दीन बलबन

4) Jalaluddin Khalji

जलालुद्दीन खिलजी

Correct Answer: Shamsuddin Iltutmish

शम्सुद्दीन इल्तुतमिश

शम्सुद्दीन इल्तुतमिश

QID : 282 - The sun is an example of _____.

सूर्य एक प्रकार का _____ है।

Options:

1) Star

तारा

2) Satellite

उपग्रह

3) Planet

ग्रह

4) Meteoroid

उल्का पिंड

Correct Answer: Star

तारा

तारा

QID : 283 - What are the parallel circles from the equator upto the poles called?

विषुवत्त वृत्त से ध्रुवों तक स्थित सभी समानांतर वृत्तों को

क्या कहते हैं?

Options:

1) Latitudes

अक्षांश

2) Longitudes

देशांतर

3) Axis

अक्ष

4) Meridian

याम्योत्तर

Correct Answer: Latitudes

अक्षांश

अक्षांश

QID : 284 - Which type of plants have the hard stem branching out near the base?

किस प्रकार के पौधों में शाखाएँ कठोर तने के आधार के समीप से निकलती हैं?

Options:

1) Shrubs

झाड़ी

2) Herbs

शाक

3) Trees

वृक्ष

4) None of these

इनमें से कोई नहीं

Correct Answer: Shrubs

झाड़ी

झाड़ी

QID : 285 - Most plants can be generally classified into how many categories?

अधिकांश पौधों को आम तौर पर कितने संवर्गों में वर्गीकृत किया जा सकता है?

Options:

1) One

एक

2) Three

तीन

3) Five

पाँच

4) Seven

सात

Correct Answer: Three

तीन

तीन

QID : 286 - The narrowest and most numerous tubes of lungs are termed as _____.

फेफड़ों के संकुचित तथा सबसे बहुसंख्यक ट्यूबों को _____ कहा जाता है।

Options:

1) Bronchus

श्वसनी

2) Alveoli

एल्वियोली

3) Bronchioles

ब्रांकिओल्स

4) Hilum

हाईलम

Correct Answer: Bronchioles

ब्रांकिओल्स

ब्रांकिओल्स

QID : 287 - The rate of change of displacement with time is called as _____.

समय के साथ विस्थापन के परिवर्तन की दर _____ कहलाती है।

Options:

1) Force

बल

2) Acceleration

त्वरण

3) Retardation

अवरोधन

4) Velocity

वेग

Correct Answer: Velocity

वेग

त्वरण

QID : 288 - The SI unit for the average velocity is _____.

औसत वेग के लिए एस.आई. मात्रक _____ है।

Options:

1) m/s

मी./सेकैण्ड

2) km/s

कि.मी./सेकैण्ड

3) m/s²

मी./सेकैण्ड²

4) ms

मी.सेकैण्ड

Correct Answer: m/s

मी./सेकैण्ड

मी./सेकैण्ड²

QID : 289 - Which of the following is an output device?

निम्नलिखित में से कौन सा एक आउटपुट डिवाइस है?

Options:

1) Printer

प्रिंटर

2) RAM

रैम

3) ROM

रोम

4) Joystick

जॉयस्टिक

Correct Answer: Printer

प्रिंटर

जॉयस्टिक

QID : 290 - Which of the following is the symbol of the metal that occurs in liquid form at ordinary temperature?

निम्नलिखित में से कौन-सा धातु का प्रतीक है जो साधारण तापमान पर तरल रूप में पाया जाता है?

Options:

1) K

- 2) Ag
- 3) Pb
- 4) Hg

Correct Answer: Hg

QID : 291 - Which of the following is not a mixture?
निम्नलिखित में से कौन सा एक मिश्रण नहीं है?

Options:

- 1) Milk
दूध
- 2) Lime water
नींबू पानी
- 3) Ice
बर्फ
- 4) Soil
मिट्टी

Correct Answer: Ice

बर्फ

दूध

QID : 292 - What is the water found below water table called?

भौमजल स्तर के नीचे पाया जाने वाला जल क्या कहलाता है?

Options:

- 1) Water cycle
जल चक्र
- 2) Water table
भौमजल स्तर
- 3) Ground water
भौमजल
- 4) Aquifer
जलभर

Correct Answer: Ground water

भौमजल

जल चक्र

QID : 293 - "Mera Khata-Bhagya Vidhata" is the slogan of which scheme?

"मेरा खाता भाग्य विधाता" किस योजना का नारा है?

Options:

- 1) Pradhan Mantri Fasal Bima Yojana
प्रधानमंत्री फसल बीमा योजना
- 2) Pradhan Mantri Sukanya Samridhi Yojana
प्रधानमंत्री सुकन्या समृद्धि योजना
- 3) Pradhan Mantri Mudra Yojana
प्रधानमंत्री मुद्रा योजना
- 4) Pradhan Mantri Jan Dhan Yojana
प्रधानमंत्री जन धन योजना

Correct Answer: Pradhan Mantri Jan Dhan Yojana

प्रधानमंत्री जन धन योजना

प्रधानमंत्री मुद्रा योजना

QID : 294 - Who among the following invented electricity?

निम्नलिखित में से किसने विद्युत (बिजली) का आविष्कार किया था?

Options:

- 1) J.L. Baird
जे. एल. बेयर्ड
- 2) Benjamin Franklin
बेंजामिन फ्रैंकलिन
- 3) E. Rutherford
इ. रदरफर्ड
- 4) J.C. Maxwell
जे. सी. मैक्सवेल

Correct Answer: Benjamin Franklin

बेंजामिन फ्रैंकलिन

जे. एल. बेयर्ड

QID : 295 - Which country hosted the ICC Women's World Cup 2017?

किस देश ने आईसीसी महिला विश्वकप 2017 की मेजबानी की थी?

Options:

- 1) India
भारत
- 2) Sri Lanka
श्रीलंका
- 3) South Africa
दक्षिण अफ्रीका
- 4) England
इंग्लैंड

Correct Answer: England

इंग्लैंड

इंग्लैंड

QID : 296 - Which temple is also known by the name "Black Pagoda"?

किस मंदिर को "ब्लैक पगोडा" के नाम से भी जाना जाता है?

Options:

- 1) Trimbakeshwar Temple, Nasik
त्रिम्बाकेश्वर मंदिर, नासिक
- 2) Banke Bihari Temple, Vrindavan
बांके बिहारी मंदिर, वृन्दावन
- 3) Ramanathaswamy Temple, Rameswaram
रामानाथास्वामी मंदिर, रमेश्वरम
- 4) Sun Temple, Konark
सूर्य मंदिर, कोणार्क

Correct Answer: Sun Temple, Konark

सूर्य मंदिर, कोणार्क

सूर्य मंदिर, कोणार्क

QID : 297 - Who is the First Women to win BCCI lifetime Achievement Award?

बी.सी.सी.आई. लाइफटाइम अचीवमेंट पुरस्कार जीतने वाली प्रथम महिला कौन हैं?

Options:

- 1) Mithali Raj
मिथाली राज
- 2) Shanta Rangaswamy
शांता रंगास्वामी
- 3) Jhulan Goswami
झूलन गोस्वामी
- 4) Neetu David
नीतू डैविड

Correct Answer: Shanta Rangaswamy
शांता रंगास्वामी
झूलन गोस्वामी

QID : 298 - Who is the author of the book named "The Accidental Prime Minister : the making and unmaking of Manmohan Singh"?

"दी एक्सीडेन्टल प्राइम मिनिस्टर : दी मेकिंग एंड अनमेकिंग ऑफ मनमोहन सिंह" नामक पुस्तक के लेखक कौन हैं?

Options:

- 1) Sanjaya Baru
संजय बारु
- 2) Natwar Singh
नटवर सिंह
- 3) Poonam Surie
पूनम सूरी
- 4) Pavan Choudhary
पवन चौधरी

Correct Answer: Sanjaya Baru
संजय बारु
नटवर सिंह

QID : 299 - The Treaty of Jeddah 2000 resolved border dispute between Yemen and _____.

जेद्दा 2000 की संधि ने यमन और _____ के बीच सीमा विवाद का हल किया।

Options:

- 1) Sudan
सूडान
- 2) Afghanistan
अफ़गानिस्तान
- 3) Saudi Arabia
सऊदी अरब
- 4) Iran
ईरान

Correct Answer: Saudi Arabia
सऊदी अरब
ईरान

QID : 300 - Which neighbouring country of India was formerly East Pakistan?

भारत का कौन सा पड़ोसी देश पहले पूर्व पाकिस्तान था?

Options:

- 1) Nepal
नेपाल
- 2) Bhutan

भूटान

- 3) Bangladesh
बांग्लादेश
- 4) Myanmar
म्यांमार

Correct Answer: Bangladesh
बांग्लादेश
बांग्लादेश