



**REGISTRATION NUMBER : 2201327033**  
**CANDIDATES NAME: MOCKTIME.COM**  
**EXAM NAME : SSC CHSL**  
**EXAM DURATION : 01:00 Hrs**  
**TOTAL MARKS : 200**  
**TOTAL NO OF QUESTIONS : 100**

**QID : 201 -**

In the following question, select the number which can be placed at the sign of question mark (?) from the given alternatives.

निम्नलिखित प्रश्न में दिए गए विकल्पों में से प्रश्न चिह्न (?) के स्थान पर आने वाली संख्या को चुनिए।

3	6
2	1

9	2
2	1

3	3
2	?

**Options:**


- 1) 1
- 2) 2
- 3) 3
- 4) 6

**Correct Answer: 2**

**QID : 202 -**

How many triangles are there in the given figure?

दी गई आकृति में कितने त्रिभुज हैं?



**Options:**

- 1) 4
- 2) 6
- 3) 5
- 4) 7

**Correct Answer: 6**

**QID : 203 -**

A word is represented by only one set of numbers as given in any one of the alternatives. The sets of numbers given in the alternatives are represented by two classes of alphabets as shown in the given two matrices. The columns and rows of **Matrix-I** are numbered from 0 to 4 and that of **Matrix-II** are numbered from 5 to 9. A letter from these matrices can be represented first by its row and next by its column, for example, 'X' can be represented by 20, 97, etc., and 'M' can be represented by 13, 68, etc. Similarly, you have to identify the set for the word "HURT".

एक शब्द केवल एक संख्या-समूह द्वारा दर्शाया गया है, जैसा कि विकल्पों में से किसी एक में दिया गया है। विकल्पों में दिए गए संख्या-समूह अक्षरों के दो वर्गों द्वारा दर्शाए गए हैं, जैसा कि दिए गए दो आव्यूहों में है। आव्यूह-I के स्तम्भ और पंक्ति की संख्या 0 से 4 है और आव्यूह-II की 5 से 9। इन आव्यूहों से एक अक्षर को पहले उसकी पंक्ति और बाद में स्तम्भ संख्या द्वारा दर्शाया जा सकता है। उदाहरण के लिए 'X' को 20, 97, आदि द्वारा दर्शाया जा सकता है तथा 'M' को 13, 68, आदि द्वारा दर्शाया जा सकता है। इसी तरह से आपको प्रश्न में दिए शब्द "HURT" के लिए समूह को पहचानना है।

	0	1	2	3	4
0	B	T	F	I	C
1	R	E	I	M	T
2	X	O	U	L	E
3	I	E	Z	B	G
4	S	H	B	O	J

	5	6	7	8	9
5	Z	U	J	S	G
6	H	O	Q	M	J
7	K	P	V	S	N
8	E	G	O	L	R
9	T	F	X	O	A

**Options:**

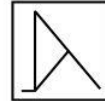
- 1) 41, 56, 10, 95
- 2) 65, 56, 87, 13
- 3) 65, 12, 89, 01
- 4) 41, 22, 87, 01

**Correct Answer: 41, 56, 10, 95**

**QID : 204 -**

From the given answer figures, select the one in which the question figure is hidden/embedded.

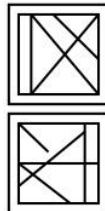
दी गई उत्तर आकृतियों में से उस उत्तर आकृति को चुनिए जिस में प्रश्न आकृति लिहित है।



**Options:**

- 1)
- 2)
- 3)
- 4)

**Correct Answer:**



**QID : 205 -**

Which answer figure will complete the pattern in the question figure?

कौन सी उत्तर आकृति प्रश्न आकृति के प्रतिरूप को पूरा करेगी?



**Options:**

- 1)
- 2)
- 3)
- 4)

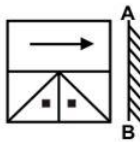
**Correct Answer:**



**QID : 206 -**

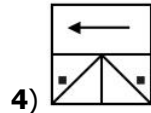
If a mirror is placed on the line AB, then which of the answer figures is the right image of the given figure?

यदि एक दर्पण को AB रेखा पर रखा जाए, तो दी गई उत्तर आकृतियों में से कौन सी आकृति प्रश्न आकृति की सही प्रतिबिम्ब होगी?

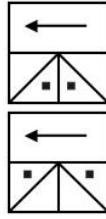


**Options:**

- 1)
- 2)
- 3)



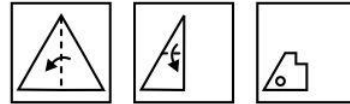
**4) Correct Answer:**



**QID : 207 -**

A piece of paper is folded and punched as shown below in the question figures. From the given answer figures, indicate how it will appear when opened?

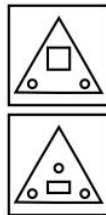
नीचे के प्रश्न आकृतियों में दिखाए अनुसार कागज को मोड़कर छेदने तथा खोलने के बाद वह किस उत्तर आकृति जैसा दिखाई देगा?



**Options:**

- 1)
- 2)
- 3)
- 4)

**Correct Answer:**



**QID : 208 -** If 'N' means 'x', 'L' means '+', 'Q' means '-' and 'P' means '÷', then

**11 L 3 P 4 N 8 = ?**

यदि 'N' का अर्थ 'x', 'L' का अर्थ '+', 'Q' का अर्थ '-' तथा 'P' का अर्थ '÷' हो, तो

**11 L 3 P 4 N 8 = ?**

**Options:**

- 1) 17
- 2) 14
- 3) 11
- 4) 24

**Correct Answer: 17**

**QID : 209** - If  $11 \# 13 = -2$  and  $47 \# 43 = 4$ , then  $11 \# 6 = ?$

यदि  $11 \# 13 = -2$  तथा  $47 \# 43 = 4$  हो, तो

$11 \# 6 = ?$

**Options:**

- 1) 5
- 2) 9
- 3) 3
- 4) 4

**Correct Answer:** 5

**QID : 210** - Arrange the given words in the sequence in which they occur in the dictionary.

1. Count
2. Coach
3. Crown
4. Crazy
5. Craft

निम्नलिखित शब्दों को शब्दकोश में आने वाले क्रम के अनुसार लिखें।

1. Count
2. Coach
3. Crown
4. Crazy
5. Craft

**Options:**

- 1) 25134
- 2) 21534
- 3) 21543
- 4) 23154

**Correct Answer:** 21543

**QID : 211** - In the following question, select the missing number from the given series.

**4, 27, 16, 125, 36, ?**

निम्नलिखित प्रश्न में दिए गए विकल्पों में से लुप्त अंक ज्ञात कीजिए।

**4, 27, 16, 125, 36, ?**

**Options:**

- 1) 49
- 2) 343
- 3) 64
- 4) 512

**Correct Answer:** 343

**QID : 212** - A series is given with one term missing. Select the correct alternative from the given ones that will complete the series.

**S, Q, O, M, ?**

एक अनुक्रम दिया गया है, जिसमें से एक पद लुप्त है। दिए गए विकल्पों में से वह सही विकल्प चुनिए, जो अनुक्रम को पूरा करे।

**S, Q, O, M, ?**

**Options:**

- 1) J
- 2) L
- 3) K
- 4) I

**Correct Answer:** K

**QID : 213** - In the following question, select the odd word from the given alternatives.

निम्नलिखित प्रश्न में दिए गए विकल्पों में से विषम शब्द को चुनिए।

**Options:**

- 1) Cutting  
काटना
- 2) Distribute  
बाँटना
- 3) Divide  
विभाजन
- 4) Together  
एक साथ

**Correct Answer:** Together

एक साथ

एक साथ

**QID : 214** - In the following question, select the odd number pair from the given alternatives.

निम्नलिखित प्रश्न में दिए गए विकल्पों में से विषम संख्या युग्म को चुनिए।

**Options:**

- 1) 7 - 343
- 2) 8 - 512
- 3) 4 - 128
- 4) 5 - 125

**Correct Answer:** 4 - 128

**QID : 215** - In the following question, select the odd letters from the given alternatives.

निम्नलिखित प्रश्न में दिए गए विकल्पों में से विषम अक्षरों को चुनिए।

**Options:**

- 1) ADGJ
- 2) ILOR
- 3) EHKJ
- 4) PSVX

**Correct Answer:** PSVX

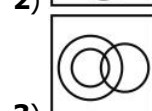
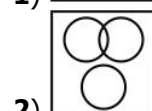
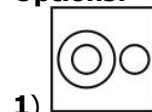
**QID : 216** - Identify the diagram that best represents the relationship among the given classes.

**Stapler, Female, Sister**

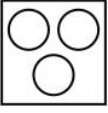
वह आरेख चुनिए जो नीचे दिए गए वर्गों के बीच के संबंध का सही निरूपण करता है।

**स्टेपलर, महिला, बहन**

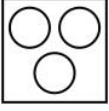
**Options:**



3)



4) **Correct Answer:**



**QID : 217** - In the following question, select the related word from the given alternatives.

**Lethargy : Alertness :: Lazy : ?**

निम्नलिखित प्रश्न में दिए गए विकल्पों में से संबंधित शब्द को चुनिए।

**आलस्य : सतर्कता :: आलसी : ?**

**Options:**

1) Industrious

परिश्रमी

2) Coward

कायर

3) Ignorance

अनभिज्ञता

4) Unclean

अशुद्ध

**Correct Answer:** Industrious

परिश्रमी

परिश्रमी

**QID : 218** - In the following question, select the related number from the given alternatives.

**16 : 49 :: 38 : ?**

निम्नलिखित प्रश्न में दिए गए विकल्पों में से संबंधित संख्या को चुनिए।

**16 : 49 :: 38 : ?**

**Options:**

1) 100

2) 121

3) 144

4) 169

**Correct Answer:** 121

**QID : 219** - In the following question, select the related letters from the given alternatives.

**PT : SX :: ON : ?**

निम्नलिखित प्रश्न में दिए गए विकल्पों में से संबंधित अक्षरों को चुनिए।

**PT : SX :: ON : ?**

**Options:**

1) RQ

2) QQ

3) RR

4) QR

**Correct Answer:** RR

**QID : 220** - In the following question, select the word which cannot be formed using the letters of the given word.

**MANAGEMENT**

निम्नलिखित विकल्पों में से वह शब्द चुनिए जो दिए गए शब्द के अक्षरों का प्रयोग करके नहीं बनाया जा सकता।

**MANAGEMENT**

**Options:**

1) GAME

2) TEAM

3) MANAGE

4) SAGE

**Correct Answer:** SAGE

**QID : 221** - Present age of Q and R is in ratio 3 : 4. After 5 years age of Q will be 23 years. What is the present age (in years) of R?

Q तथा R की वर्तमान आयु 3 : 4 के अनुपात में है। 5 वर्ष पश्चात Q की आयु 23 वर्ष होगी। R की वर्तमान आयु (वर्षों में) क्या है?

**Options:**

1) 20

2) 24

3) 18

4) 26

**Correct Answer:** 24

**QID : 222** - A is 13<sup>th</sup> from left and 19<sup>th</sup> from right in a line of people. How many people are there in the line? व्यक्तियों की एक पंक्ति में A बायें से 13-वां तथा दायें से 19-वां है। पंक्ति में कुल कितने व्यक्ति हैं?

**Options:**

1) 32

2) 31

3) 30

4) 33

**Correct Answer:** 31

**QID : 223** - In the following question below are given some statements followed by some conclusions. Taking the given statements to be true even if they seem to be at variance from commonly known facts, read all the conclusions and then decide which of the given conclusion logically follows the given statements.

**Statements:**

I. Some green are mangoes.

II. No green is yellow.

**Conclusions:**

I. No mango is yellow.

II. No yellow is mango.

नीचे दिए गए प्रश्न में कुछ कथन और उनके बाद उन कथनों पर आधारित कुछ निष्कर्ष दिए गए हैं, हालांकि उनमें सामान्य ज्ञात तथ्यों से भिन्नता हो सकती है। सभी निष्कर्ष पढ़ें और फिर निर्धारित करें कि दिए गए कौन से निष्कर्ष, दिए गए कथनों के आधार पर युक्तिसंगत हैं।

**कथन:**

I. कुछ हरे आम हैं।

II. कोई हरा पीला नहीं है।

**निष्कर्ष:**

I. कोई आम पीला नहीं है।

II. कोई पीला आम नहीं है।

**Options:**

1) Only conclusion (I) follows.

केवल निष्कर्ष (I) सही है।

2) Only conclusion (II) follows.

केवल निष्कर्ष (II) सही है।

3) Both conclusion follow.

दोनों ही निष्कर्ष सही हैं।

4) Neither conclusion (I) nor conclusion (II) follows.

न तो निष्कर्ष (I) न ही निष्कर्ष (II) सही है।

**Correct Answer:** Neither conclusion (I) nor conclusion (II) follows.

न तो निष्कर्ष (I) न ही निष्कर्ष (II) सही है।

केवल निष्कर्ष (I) सही है।

**QID : 224** - In a certain code language, "END" is written as "DMC". How is "FOG" written in that code language?

एक विशिष्ट कोड भाषा में, "END" को "DMC" लिखा जाता है। इस कोड भाषा में "FOG" को किस प्रकार लिखा जाएगा?

**Options:**

1) GNE

2) EME

3) ENF

4) GNF

**Correct Answer:** ENF

**QID : 225** - In a certain code language, "BAT" is written as "23" and "EAR" is written as "24". How is "HEN" written in that code language?

एक विशिष्ट कोड भाषा

में, "BAT" को "23" तथा "EAR" को "24" लिखा जाता है।

इस कोड भाषा में "HEN" को किस प्रकार लिखा जाएगा?

**Options:**

1) 27

2) 24

3) 26

4) 23

**Correct Answer:** 27

**QID : 226** - Which of the following statement is/are true?

I. Odd + Odd = Even

II. Odd + Odd + Odd = Odd

निम्नलिखित में से कौन सा/से कथन सत्य है/हैं?

I. विषम + विषम = सम

II. विषम + विषम + विषम = विषम

**Options:**

1) Only I

केवल I

2) Only II

केवल II

3) Both I and II

I तथा II दोनों

4) Neither I nor II

न तो I न ही II

**Correct Answer:** Both I and II

I तथा II दोनों

केवल I

**QID : 227** - Which of the following is **NOT** a prime number?

निम्नलिखित में से कौन सी एक अभाज्य संख्या नहीं है?

**Options:**

1) 41

2) 47

3) 91

4) 73

**Correct Answer:** 91

**QID : 228** - What will be the remainder when 421 is divided by 11?

जब 421 को 11 से विभाजित किया जाए, तो शेषफल क्या होगा?

**Options:**

1) 3

2) 5

3) 7

4) 4

**Correct Answer:** 3

**QID : 229** - What will be the remainder when  $(401 + 402 + 403 + 404)$  is divided by 4?

जब  $(401 + 402 + 403 + 404)$  को 4 से विभाजित किया जाए, तो शेषफल क्या होगा?

**Options:**

1) 10

2) 2

3) 6

4) 3

**Correct Answer:** 2

**QID : 230** - What is the least number multiplied to 300, so that number becomes multiple of 105?

300 से ऐसी कौन सी सबसे छोटी संख्या गुणा की जाए, ताकि संख्या 105 की गुणज हो जाए?

**Options:**

1) 35

2) 7

3) 21

4) 3

**Correct Answer:** 35

**QID : 231** - The product of two numbers is 225. If one of the number is 45, then what is the another number?

दो संख्याओं का गुणनफल 225 है। यदि एक संख्या 45 है, तो दूसरी संख्या क्या है?

**Options:**

1) 3

2) 15

- 3) 5  
4) 7

**Correct Answer:** 5

**QID : 232** - A and B together can do a piece of work in 10 days and A alone can do it in 15 days. B alone can do the work in how many days?

A तथा B मिलकर एक कार्य को 10 दिनों में पूरा कर सकते हैं तथा A अकेले उसे 15 दिनों में पूरा कर सकता है। B अकेले उस कार्य को कितने दिनों में पूरा कर सकता है?

**Options:**

- 1) 30  
2) 45  
3) 12  
4) 24

**Correct Answer:** 30

**QID : 233** - If  $\frac{2}{7}$ th of a cistern is filled in 18 minute, then what is the time (in minutes) needed to fill the remaining part?

यदि टंकी का  $\frac{2}{7}$ -वां भाग 18 मिनट में भर जाता है, तो बचे हुए भाग को भरने में कितना समय (मिनटों में) लगेगा?

**Options:**

- 1) 45  
2) 30  
3) 90  
4) 60

**Correct Answer:** 45

**QID : 234** - The lengths of two diagonals of a rhombus are 15 cm and 20 cm. What is the area (in  $\text{cm}^2$ ) of the rhombus?

एक समचतुर्भुज के दो विकर्णों की लम्बाई 15 से.मी. तथा 20 से.मी. है। समचतुर्भुज का क्षेत्रफल (से.मी.<sup>2</sup> में) क्या है?

**Options:**

- 1) 120  
2) 150  
3) 190  
4) 180

**Correct Answer:** 150

**QID : 235** - The marked price of a chair is Rs 800 and a discount of 30% is given. What is the selling price (in Rs)?

एक कुर्सी का अंकित मूल्य 800 रु है तथा उस पर 30% की छूट दी जाती है। विक्रय मूल्य (रु में) क्या है?

**Options:**

- 1) 560  
2) 600  
3) 610  
4) 620

**Correct Answer:** 560

**QID : 236** - The marked price of an article is 40% more than its cost price. If a discount of 5% is given, then what is the profit percentage?

एक वस्तु का अंकित मूल्य उसके क्रय मूल्य से 40% अधिक है। यदि 5% की छूट दी जाए, तो लाभ प्रतिशत क्या है?

**Options:**

- 1) 28  
2) 33  
3) 35  
4) 38

**Correct Answer:** 33

**QID : 237** - If  $\frac{2}{7}$  of P =  $\frac{4}{3}$  of Q, then what is P : Q? यदि P का  $\frac{2}{7}$  = Q का  $\frac{4}{3}$  हो, तो P : Q क्या है?

**Options:**

- 1) 14 : 3  
2) 3 : 7  
3) 14 : 5  
4) 7 : 5

**Correct Answer:** 14 : 3

**QID : 238** - If  $\frac{x}{y} = \frac{3}{5}$ , then what is the ratio of  $(3x + 2y)$  and  $(3x - y)$ ?

यदि  $\frac{x}{y} = \frac{3}{5}$  है, तो  $(3x + 2y)$  तथा  $(3x - y)$  का अनुपात क्या है?

**Options:**

- 1) 19 : 4  
2) 19 : 7  
3) 17 : 4  
4) 17 : 7

**Correct Answer:** 19 : 4

**QID : 239** - The average of 21 numbers is 12. If one number is excluded, the average becomes 10.5. What is the excluded number?

21 संख्याओं का औसत 12 है। यदि एक संख्या हटा दी जाए, तो औसत 10.5 हो जाता है। हटाई गई संख्या क्या है?

**Options:**

- 1) 42  
2) 32  
3) 28  
4) 38

**Correct Answer:** 42

**QID : 240** - By selling an article for Rs 416, a shopkeeper gains 30%. To gain 40% what should be the selling price (in Rs)?

एक वस्तु को 416 रु में बेचने पर एक दुकानदार को 30% लाभ होता है। 40% लाभ कमाने के लिए विक्रय मूल्य (रु में) क्या होना चाहिए?

**Options:**

- 1) 426  
2) 448  
3) 472  
4) 442

**Correct Answer:** 448

**QID : 241** - By selling an article for Rs 720, a shopkeeper gains 20%. To gain 40% what should be the selling price (in Rs)?

एक वस्तु को 720 रु में बेचने पर एक दुकानदार को 20% लाभ होता है। 40% लाभ कमाने के लिए विक्रय मूल्य (रु में) क्या होना चाहिए?

**Options:**

- 1) 820

- 2) 840  
3) 860  
4) 960

**Correct Answer:** 840

**QID : 242** - If one-third of a number is 125, then what will be the 64% of that number?

यदि किसी संख्या का एक-तिहाई 125 है, तो उस संख्या का 64% क्या होगा?

**Options:**

- 1) 240  
2) 360  
3) 480  
4) 180

**Correct Answer:** 240

**QID : 243** - If the price of a commodity is decreased by 30% and its consumption is increased by 10%, then what will be the percentage increase or decrease in the expenditure of the commodity?

यदि एक वस्तु की कीमत 30% कम हो जाती है तथा उसकी खपत 10% बढ़ जाती है, तो वस्तु पर खर्च में कितने प्रतिशत की वृद्धि या कमी होगी?

**Options:**

- 1) 23% decrease  
23% की कमी  
2) 23% increase  
23% की वृद्धि  
3) 17% increase  
17% की वृद्धि  
4) 17% decrease  
17% की कमी

**Correct Answer:** 23% decrease

23% की कमी

23% की वृद्धि

**QID : 244** - Ritik can cover a certain distance in 18 hours if he walks at the rate of 10 km/hr. If he covers the same distance by bus at the rate of 45 km/hr, then what is the time (in hours) taken by him?

रितिक यदि 10 कि.मी./घंटा की गति से चले तो वह एक निश्चित दूरी 18 घंटे में तय कर लेता है। यदि वह वही दूरी बस द्वारा 45 कि.मी./घंटा की गति से तय करे, तो उसे कितना समय (घंटों में) लगेगा?

**Options:**

- 1) 2  
2) 4  
3) 8  
4) 6

**Correct Answer:** 4

**QID : 245** - If 300 metres long train takes 30 seconds to cross a pole, then what is the speed (in km/hr) of the train?

यदि एक 300 मीटर लम्बी रेलगाड़ी एक खम्बे को पार करने के लिए 30 सेकण्ड लेती है, तो रेलगाड़ी की गति (कि.मी./घंटा में) क्या है?

**Options:**

- 1) 18  
2) 36  
3) 54  
4) 72

**Correct Answer:** 36

**QID : 246** - Same principal is invested in schemes of compound interest and simple interest. The interest obtained in compound interest and simple interest schemes after 2 years are Rs 3360 and Rs 2800 respectively. If the rate of interest is 40%, then what is the principal (in Rs)?

समान मूलधन चक्रवृद्धि ब्याज तथा साधारण ब्याज की योजनाओं में निवेश किया जाता है। चक्रवृद्धि ब्याज तथा साधारण ब्याज योजना में 2 वर्षों के पश्चात क्रमशः 3360 रु तथा 2800 रु ब्याज प्राप्त होता है। यदि ब्याज दर 40% है, तो मूलधन (रु में) क्या है?

**Options:**

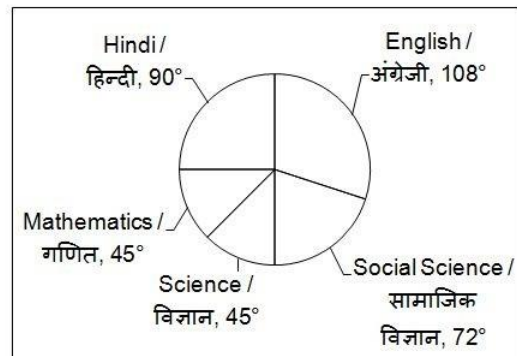
- 1) 3500  
2) 4500  
3) 2500  
4) 5500

**Correct Answer:** 3500

**QID : 247** -

The pie chart given below shows the number of books of 5 different subjects in a library. The total number of books in the library is 360.

नीचे दिए गए वृत्त चित्र में एक पुस्तकालय में 5 विभिन्न विषयों की पुस्तकों की संख्या को दर्शाया गया है। पुस्तकालय में पुस्तकों की कुल संख्या 360 है।



How many books of English are there in the library? पुस्तकालय में अंग्रेजी की कितनी पुस्तकें हैं?

**Options:**

- 1) 75  
2) 180  
3) 108  
4) 1080


**Correct Answer:** 108

**QID : 248** -



The pie chart given below shows the number of books of 5 different subjects in a library. The total number of books in the library is 360.

नीचे दिए गए वृत्त चित्र में एक पुस्तकालय में 5 विभिन्न विषयों की पुस्तकों की संख्या को दर्शाया गया है। पुस्तकालय में पुस्तकों की कुल संख्या 360 है।



Which 2 subject's books are present in equal number in the library?

पुस्तकालय में किन 2 विषयों की पुस्तकें बराबर संख्या में उपस्थित हैं?

**Options:**

- 1) English and Social Science  
अंग्रेजी तथा सामाजिक विज्ञान
- 2) Hindi and Mathematics  
हिन्दी तथा गणित
- 3) English and Hindi  
अंग्रेजी तथा हिन्दी
- 4) Mathematics and Science  
गणित तथा विज्ञान

**Correct Answer:** Mathematics and Science


गणित तथा विज्ञान

अंग्रेजी तथा हिन्दी

**QID : 249 -**

The pie chart given below shows the number of books of 5 different subjects in a library. The total number of books in the library is 360.

नीचे दिए गए वृत्त चित्र में एक पुस्तकालय में 5 विभिन्न विषयों की पुस्तकों की संख्या को दर्शाया गया है। पुस्तकालय में पुस्तकों की कुल संख्या 360 है।



What is the difference between the number of books of English and that of Social Science?

अंग्रेजी की पुस्तकों तथा सामाजिक विज्ञान की पुस्तकों की संख्या के मध्य का अंतर क्या है?

**Options:**


- 1) 72
- 2) 36
- 3) 108
- 4) 90

**Correct Answer:** 36

**QID : 250 -**

The pie chart given below shows the number of books of 5 different subjects in a library. The total number of books in the library is 360.

नीचे दिए गए वृत्त चित्र में एक पुस्तकालय में 5 विभिन्न विषयों की पुस्तकों की संख्या को दर्शाया गया है। पुस्तकालय में पुस्तकों की कुल संख्या 360 है।



What is the total number of books of Hindi and Social Science?

हिन्दी तथा सामाजिक विज्ञान की पुस्तकों की कुल संख्या क्या है?

**Options:**

- 1) 198
- 2) 135
- 3) 160
- 4) 162

**Correct Answer:** 162

**QID : 251 -** In the following question, some part of the sentence may have errors. Find out which part of the sentence has an error and select the appropriate option. If a sentence is free from error, select 'No Error'.

However, the essential services (1)/ and critical staff in a government (2)/ will be on duty today. (3)/ No Error (4)

**Options:**

- 1) 1
- 2) 2
- 3) 3
- 4) 4

**Correct Answer:** 2

**QID : 252 -** In the following question, some part of the sentence may have errors. Find out which part of the sentence has an error and select the appropriate option. If a sentence is free from error, select 'No Error'.

Mumbai were crawling at a (1)/ snail's pace yesterday, is slowly (2)/ returning to normalcy. (3)/ No Error (4)



**Options:**

- 1) 1
- 2) 2
- 3) 3
- 4) 4

**Correct Answer:** 1

**QID : 253** - In the following question, the sentence given with blank to be filled in with an appropriate word. Select the correct alternative out of the four and indicate it by selecting the appropriate option.

**Turn the AC \_\_\_\_\_ before you leave the office**

**Options:**

- 1) out
- 2) off
- 3) down
- 4) in

**Correct Answer:** off

**QID : 254** - In the following question, the sentence given with blank to be filled in with an appropriate word. Select the correct alternative out of the four and indicate it by selecting the appropriate option.

**I dislike eating in a \_\_\_\_\_ restaurant.**

**Options:**

- 1) noiseful
- 2) noising
- 3) noised
- 4) noisy

**Correct Answer:** noisy

**QID : 255** - In the following question, out of the given four alternatives, select the one which best expresses the meaning of the given word.

**Perish**

**Options:**

- 1) Energize
- 2) Revive
- 3) Refresh
- 4) Decease

**Correct Answer:** Decease

**QID : 256** - In the following question, out of the given four alternatives, select the one which best expresses the meaning of the given word.

**Nudge**

**Options:**

- 1) Allow
- 2) Leave alone
- 3) Poke
- 4) Withdraw

**Correct Answer:** Poke

**QID : 257** - In the following question, out of the given four alternatives, select the one which best expresses the meaning of the given word.

**Panic**

**Options:**

- 1) Calm
- 2) Contentment
- 3) Confidence
- 4) Frenzy

**Correct Answer:** Frenzy

**QID : 258** - In the following question, out of the given four alternatives, select the one which is opposite in meaning of the given word.

**Auspicious**

**Options:**

- 1) Bright
- 2) Happy
- 3) Unlucky
- 4) Timely

**Correct Answer:** Unlucky

**QID : 259** - In the following question, out of the given four alternatives, select the one which is opposite in meaning of the given word.

**Spare**

**Options:**

- 1) Necessary
- 2) Free
- 3) Option
- 4) Surplus

**Correct Answer:** Necessary

**QID : 260** - In the following question, out of the given four alternatives, select the one which is opposite in meaning of the given word.

**Remarkable**

**Options:**

- 1) Famous
- 2) Odd
- 3) Rare
- 4) Normal

**Correct Answer:** Normal

**QID : 261** - In the following question, out of the four given alternatives, select the alternative which best expresses the meaning of the Idiom/Phrase.

**Between the devil and the deep sea**

**Options:**

- 1) Go fishing and cause trouble
- 2) Between two great difficulties
- 3) Speaking sharply
- 4) To begin working seriously

**Correct Answer:** Between two great difficulties

**QID : 262** - In the following question, out of the four given alternatives, select the alternative which best expresses the meaning of the Idiom/Phrase.

**A child's play**

**Options:**

- 1) Very innocent
- 2) Very annoying
- 3) Something that is very easy
- 4) Very irritating

**Correct Answer:** Something that is very easy

**QID : 263** - Improve the bracketed part of the sentence.

To conform to a set of rules (**an**) regulations without a real voice in their formulation.

**Options:**

- 1) and
- 2) to

- 3) but  
4) No improvement  
**Correct Answer:** and

**QID : 264** - Improve the bracketed part of the sentence.

It includes a **(decision of the status)** of British and EU migrants resident in their respective territories.

**Options:**

- 1) decision to the status  
2) decision on the status  
3) decision of the status  
4) No improvement

**Correct Answer:** decision on the status

**QID : 265** - In the following question, out of the four given alternatives, select the alternative which is the best substitute of the phrase.

**A man who remains unmarried.**

**Options:**

- 1) Widowed  
2) Councilor  
3) Bachelor  
4) Propeller

**Correct Answer:** Bachelor

**QID : 266** - In the following question, out of the four given alternatives, select the alternative which is the best substitute of the phrase.

**A supreme ruler.**

**Options:**

- 1) Patriarch  
2) Anarchic  
3) Monarch  
4) Matriarch

**Correct Answer:** Monarch

**QID : 267** - In the following question, a word has been written in four different ways out of which only one is correctly spelt. Select the correctly spelt word.

**Options:**

- 1) Sicondary  
2) Secondiry  
3) Secondary  
4) Secondory

**Correct Answer:** Secondary

**QID : 268** - In the following question, a word has been written in four different ways out of which only one is correctly spelt. Select the correctly spelt word.

**Options:**

- 1) Strength  
2) Strenth  
3) Stringth  
4) Strentgh

**Correct Answer:** Strength

**QID : 269** - Rearrange the parts of the sentence in correct order.

The greatest

**P:** is to meet the

**Q:** needs of the society

**R:** challenge for education

**Options:**

- 1) PRQ  
2) PQR  
3) QRP  
4) RPQ

**Correct Answer:** RPQ

**QID : 270** - Rearrange the parts of the sentence in correct order.

The increase of the

**P:** shrinking of forest area

**Q:** has led to the

**R:** population of our country

**Options:**

- 1) QRP  
2) PRQ  
3) QPR  
4) RQP

**Correct Answer:** RQP

**QID : 271** - In the following passage some of the words have been left out. Read the passage carefully and select the correct answer for the given blank out of the four alternatives.

For centuries of human existence, we have believed or are rather \_\_\_\_\_ to believe that humanity has by nature, been divided into \_\_\_\_\_ or castes and that certain races are superior to others in terms of physical or intellectual endowments. The discrimination that follows this belief is called racism or \_\_\_\_\_. Since time immemorial, society has been divided into various classes and communities. In countries like India, there was a caste system. It was believed that God had created people of a particular caste only to do one kind of job. So the castes were developed along occupational lines. The people who performed low-key jobs were treated very \_\_\_\_\_. This attitude has been so strongly ingrained in the Indian psyche that it continues to exist even \_\_\_\_\_, to some measure.

we have believed or are rather \_\_\_\_\_ to believe that

**Options:**

- 1) taught  
2) brought  
3) thought  
4) sort

**Correct Answer:** taught

**QID : 272** - In the following passage some of the words have been left out. Read the passage carefully and select the correct answer for the given blank out of the four alternatives.

For centuries of human existence, we have believed or are rather \_\_\_\_\_ to believe that humanity has by nature, been divided into \_\_\_\_\_ or castes and that certain races are superior to others in terms of physical or intellectual endowments. The discrimination that follows this belief is called racism or \_\_\_\_\_. Since time immemorial, society has been divided into various classes and communities. In countries like India, there was a caste system. It was believed that God had created people of a particular caste only to do one kind of job. So the castes were developed along occupational lines. The people who performed low-key jobs were treated very

\_\_\_\_\_. This attitude has been so strongly ingrained in the Indian psyche that it continues to exist even \_\_\_\_\_, to some measure.

**into \_\_\_\_\_ or castes and that certain races**

**Options:**

- 1) faces
- 2) races
- 3) cases
- 4) braces

**Correct Answer:** races

**QID : 273** - In the following passage some of the words have been left out. Read the passage carefully and select the correct answer for the given blank out of the four alternatives.

For centuries of human existence, we have believed or are rather \_\_\_\_\_ to believe that humanity has by nature, been divided into \_\_\_\_\_ or castes and that certain races are superior to others in terms of physical or intellectual endowments. The discrimination that follows this belief is called racism or \_\_\_\_\_. Since time immemorial, society has been divided into various classes and communities. In countries like India, there was a caste system. It was believed that God had created people of a particular caste only to do one kind of job. So the castes were developed along occupational lines. The people who performed low-key jobs were treated very \_\_\_\_\_. This attitude has been so strongly ingrained in the Indian psyche that it continues to exist even \_\_\_\_\_, to some measure.

**this belief is called racism or \_\_\_\_\_.**

**Options:**

- 1) atheist
- 2) agnostic
- 3) apartheid
- 4) proteid

**Correct Answer:** apartheid

**QID : 274** - In the following passage some of the words have been left out. Read the passage carefully and select the correct answer for the given blank out of the four alternatives.

For centuries of human existence, we have believed or are rather \_\_\_\_\_ to believe that humanity has by nature, been divided into \_\_\_\_\_ or castes and that certain races are superior to others in terms of physical or intellectual endowments. The discrimination that follows this belief is called racism or \_\_\_\_\_. Since time immemorial, society has been divided into various classes and communities. In countries like India, there was a caste system. It was believed that God had created people of a particular caste only to do one kind of job. So the castes were developed along occupational lines. The people who performed low-key jobs were treated very \_\_\_\_\_. This attitude has been so strongly ingrained in the Indian psyche that it continues to exist even \_\_\_\_\_, to some measure.

**were treated very \_\_\_\_\_.**

**Options:**

- 1) lovely
- 2) nicely
- 3) sincerely
- 4) badly

**Correct Answer:** badly

**QID : 275** - In the following passage some of the words have been left out. Read the passage carefully and select the correct answer for the given blank out of the four alternatives.

For centuries of human existence, we have believed or are rather \_\_\_\_\_ to believe that humanity has by nature, been divided into \_\_\_\_\_ or castes and that certain races are superior to others in terms of physical or intellectual endowments. The discrimination that follows this belief is called racism or \_\_\_\_\_. Since time immemorial, society has been divided into various classes and communities. In countries like India, there was a caste system. It was believed that God had created people of a particular caste only to do one kind of job. So the castes were developed along occupational lines. The people who performed low-key jobs were treated very \_\_\_\_\_. This attitude has been so strongly ingrained in the Indian psyche that it continues to exist even \_\_\_\_\_, to some measure.

**it continues to exist even \_\_\_\_\_, to some measure.**

**Options:**

- 1) tomorrow
- 2) today
- 3) present
- 4) weekday

**Correct Answer:** today

**QID : 276** - While calculating GDP, which among the following is **NOT** included?

निम्नलिखित में से कौन सा जीडीपी की गणना में शामिल नहीं किया जाता?

**Options:**

- 1) Final goods  
अंतिम वस्तु
- 2) Final services  
अंतिम सेवाएं
- 3) Intermediate goods  
मध्यवर्ती वस्तु
- 4) None of these  
इनमें से कोई नहीं

**Correct Answer:** Intermediate goods

मध्यवर्ती वस्तु

इनमें से कोई नहीं

**QID : 277** - Where do the banks use the major portion of the deposits?

जमा के बड़े हिस्से का उपयोग बैंक कहाँ करते हैं?

**Options:**

- 1) To pay the depositors  
जमाकर्ताओं का भुगतान
- 2) To extend loans  
ऋण का विस्तार
- 3) To create infrastructure  
बुनियादी ढांचा
- 4) To pay the salaries

वेतन का भुगतान

**Correct Answer:** To extend loans

ऋण का विस्तार

जमाकर्ताओं का भुगतान

**QID : 278** - How many Fundamental Duties are given in Indian Constitution?

भारतीय संविधान में कितने मौलिक कर्तव्य दिये हुए हैं?

**Options:**

1) 10

2) 11

3) 12

4) 14

**Correct Answer:** 11

**QID : 279** - Which among the following is the supreme law that determines the relationship among people living in a territory and also the relationship between the people and government?

निम्नलिखित में से कौन सर्वोच्च कानून है जिससे किसी क्षेत्र में रहने वाले लोगों के बीच के आपसी संबंध तय होने के साथ-साथ लोगों तथा सरकार के बीच के संबंध भी तय होते हैं?

**Options:**

1) The President of India

भारत के राष्ट्रपति

2) The Prime Minister of India

भारत के प्रधानमंत्री

3) The Indian Constitution

भारतीय संविधान

4) The Chief Justice of India

भारत के मुख्य न्यायाधीश

**Correct Answer:** The Indian Constitution

भारतीय संविधान

भारतीय संविधान

**QID : 280** - In which year Simon Commission came to India?

किस वर्ष में साइमन कमीशन भारत आया था?

**Options:**

1) 1919

2) 1925

3) 1927

4) 1932

**Correct Answer:** 1927

**QID : 281** - Which Delhi Sultan planned a campaign to capture a Mongol territory for the first time in the history of the Sultanate?

सल्तनत के इतिहास में पहली बार मंगोल क्षेत्र पर कब्जा करने के लिए दिल्ली के किस सुल्तान ने एक अभियान की योजना बनाई थी?

**Options:**

1) Alauddin Khilji

अलाउद्दीन खिलजी

2) Ghiyasuddin Tughlaq

गयासुद्दीन तुगलक

3) Muhammad Tughlaq

मुहम्मद तुगलक

4) Bahlol Lodi

बहलोल लोदी

**Correct Answer:** Muhammad Tughlaq

मुहम्मद तुगलक

मुहम्मद तुगलक

**QID : 282** - Which is the only continent through which the Tropic of Cancer, the Equator and the Tropic of Capricorn pass?

कौन सा एकमात्र महाद्वीप है जिससे होकर कर्क, विषुवत तथा मकर रेखा गुजरती हैं?

**Options:**

1) Australia

ऑस्ट्रेलिया

2) South America

दक्षिण अमेरिका

3) Asia

एशिया

4) Africa

अफ्रीका

**Correct Answer:** Africa

अफ्रीका

ऑस्ट्रेलिया

**QID : 283** - What is the duration of South-west Monsoon season (Rainy) in India?

भारत में दक्षिण-पश्चिम मानसून का मौसम (वर्षा) की अवधि क्या है?

**Options:**

1) March to May

मार्च से मई

2) October and November

अक्टूबर से नवम्बर

3) December to February

दिसम्बर से फरवरी

4) June to September

जून से सितम्बर

**Correct Answer:** June to September

जून से सितम्बर

जून से सितम्बर

**QID : 284** - Cholesterol is synthesized in \_\_\_\_\_.

कोलेस्ट्रॉल को \_\_\_\_\_ में संश्लेषित किया जाता है।

**Options:**

1) Brunner's

ब्रूनर

2) Kidney

यकृत

3) Liver

जिगर (लीवर)

4) Stomach

अमाशय

**Correct Answer:** Liver

जिगर (लीवर)

यकृत

**QID : 285** - Five-kingdom classification was proposed by \_\_\_\_\_.

पांच जगत वर्गीकरण \_\_\_\_\_ द्वारा प्रस्तावित की गई थी।

**Options:**

1) Whittaker

व्हीट्टेकर

2) Huxley

हक्सले

3) Linnaeus

लिनिअस

4) Lamarck

लैमार्क

**Correct Answer:** Whittaker

व्हीट्टेकर

लिनिअस

**QID : 286** - Kwashiorkor is likely in children who get \_\_\_\_\_.

क्वाशियोरकर ऐसे बच्चों में हो सकता है जो \_\_\_\_\_ लेते हैं।

**Options:**

1) low-carbohydrate diet

कम कार्बोहाइड्रेट भोजन

2) low-vitamin diet

कम विटामिन भोजन

3) low-mineral diet

कम खनिज भोजन

4) low-protein diet

कम प्रोटीन भोजन

**Correct Answer:** low-protein diet

कम प्रोटीन भोजन

कम खनिज भोजन

**QID : 287** - The combined effect of mass and velocity is taken into account by a physical quantity called \_\_\_\_\_.

द्रव्यमान तथा गति का संयुक्त प्रभाव को भौतिक मात्रा के

आधार पर लिया जाता है, जिसे \_\_\_\_\_ कहा जाता है।

**Options:**

1) impulse

आवेग

2) moment of force

शक्ति का क्षण

3) momentum

गति

4) speed

चाल

**Correct Answer:** momentum

गति

चाल

**QID : 288** - Two bodies are in thermal equilibrium if they have same \_\_\_\_\_.

यदि \_\_\_\_\_ समान हैं, तो दो निकाय तापीय संतुलन में हैं।

**Options:**

1) temperature

तापमान

2) amount of heat

ऊष्मा की मात्रा

3) mass

द्रव्यमान

4) velocity

वेग

**Correct Answer:** temperature

तापमान

तापमान

**QID : 289** - What are the list of coded instructions called?

कोड किए गए निर्देशों की सूची को क्या कहते हैं?

**Options:**

1) Algorithm

एल्गोरिदम

2) Computer language

कंप्यूटर भाषा

3) Computer program

कंप्यूटर प्रोग्राम

4) None of these

इनमें से कोई नहीं

**Correct Answer:** Computer program

कंप्यूटर प्रोग्राम

कंप्यूटर प्रोग्राम

**QID : 290** - The size of the nucleus is approximately \_\_\_\_\_.

नाभिक का आकार लगभग \_\_\_\_\_ होता है।

**Options:**

1)  $10^{-18}$  m

$10^{-18}$  मी.

2)  $10^{-10}$  m

$10^{-10}$  मी.

3)  $10^{-8}$  m

$10^{-8}$  मी.

4) None of these

इनमें से कोई नहीं

**Correct Answer:** None of these

इनमें से कोई नहीं

इनमें से कोई नहीं

**QID : 291** - Which of the following is **NOT** a noble gas?

इनमें से कौन सा एक उत्कृष्ट गैस नहीं है?

**Options:**

1) Helium

हीलियम

2) Xenon  
ज़ेनान

3) Argon  
आर्गन

4) Oxygen  
ऑक्सीजन

**Correct Answer:** Oxygen  
ऑक्सीजन  
आर्गन

**QID : 292** - Which one of the following is a terrestrial ecosystem?

निम्नलिखित में से कौन सा एक स्थलीय पारिस्थितिकी तंत्र है?

**Options:**

1) Pond

तालाब

2) Lake

झील

3) Semi-arid area

अर्ध-शुष्क क्षेत्र

4) River

नदी

**Correct Answer:** Semi-arid area  
अर्ध-शुष्क क्षेत्र  
नदी

**QID : 293** - Under which scheme each member of Parliament takes responsibility of developing physical and institutional infrastructure in three villages by 2019?

किस योजना के अंतर्गत प्रत्येक सांसद 2019 तक तीन गांवों में भौतिक तथा संस्थागत बुनियादी ढांचे के विकास की जिम्मेदारी लेंगे?

**Options:**

1) Saansad Adarsh Gram Yojana

सांसद आदर्श ग्राम योजना

2) Indira Awaas Yojana

इंदिरा आवास योजना

3) Unnat Bharat

उन्नत भारत

4) Saraansh

सारांश

**Correct Answer:** Saansad Adarsh Gram Yojana  
सांसद आदर्श ग्राम योजना  
सारांश

**QID : 294** - Who discovered Hydrogen?

हाइड्रोजन की खोज किसने की?

**Options:**

1) Henry Cavendish

हेनरी कैवेन्डिश

2) George Cayley

जॉर्ज केले

3) Samuel Colt

सैमुएल कोल्ट

4) W.C Roentgen

डब्ल्यू. सी. रॉटजेन

**Correct Answer:** Henry Cavendish  
हेनरी कैवेन्डिश  
जॉर्ज केले

**QID : 295** - The First Asian Games took place in which city?

पहली एशियाई खेल किस शहर में हुई थी?

**Options:**

1) New Delhi

नई दिल्ली

2) Shanghai

शंघाई

3) Beijing

बीजिंग

4) Singapore

सिंगापुर

**Correct Answer:** New Delhi  
नई दिल्ली  
नई दिल्ली

**QID : 296** - Kalighat paintings derives its name from its place of origin kalighat in \_\_\_\_\_.

कालीघाट चित्रकारी का नाम \_\_\_\_\_ में अपने मूल स्थान कालीघाट से निकला है।

**Options:**

1) Kanchipuram

कांचीपुरम

2) Kolkata

कोलकाता

3) Kushinagar

कुशीनगर

4) Kathgodam

काठगोदाम

**Correct Answer:** Kolkata  
कोलकाता  
कोलकाता

**QID : 297** - Who won the Pulitzer Prize 2017 for fiction named "The Underground Railroad"?

किसने "द अंडरग्राउंड रेलरोड" नामक कल्पित कथा के लिए पुलित्जर पुरस्कार 2017 जीता?

**Options:**

1) Colson Whitehead

कोलसन व्हाइटहेड

2) J.K. Rowling

जे.के. राउलिंग

3) Salman Rushdie

सलमान रुश्दी

4) Nora Roberts



नोरा रॉबर्ट्स

**Correct Answer:** Colson Whitehead

कोलसन व्हाइटहेड

कोलसन व्हाइटहेड

**QID : 298** - Who is the author of book named "An Idealist View of Life"?

"एन आइडियलिस्ट व्यू ऑफ लाइफ" नामक पुस्तक के लेखक कौन हैं?

**Options:**

1) Jawahar Lal Nehru

जवाहर लाल नेहरू

2) Dr. S Radhakrishnan

डॉ. एस. राधाकृष्णन

3) Jai Shankar Prasad

जय शंकर प्रसाद

4) Mulk Raj Anand

मुल्क राज आनंद

**Correct Answer:** Dr. S Radhakrishnan

डॉ. एस. राधाकृष्णन

जय शंकर प्रसाद

**QID : 299** - Konkan is the annual bilateral maritime exercise between the Indian Navy and the \_\_\_\_\_ Navy.

कोंकण भारतीय नौसेना तथा \_\_\_\_\_ नौसेना के बीच वार्षिक द्विपक्षीय समुद्री अभ्यास है।

**Options:**

1) Chinese

चीनी

2) Russian

रूसी

3) German

जर्मन

4) British

ब्रिटिश

**Correct Answer:** British

ब्रिटिश

चीनी

**QID : 300** - Which is **NOT** among the three rivers of Indus water system over which India got control under Indus Water Treaty with Pakistan?

निम्नलिखित में से कौन सिंधु जल प्रणाली की तीन नदियों में से नहीं है जिस पर भारत को पाकिस्तान के साथ सिंधु जल संधि के तहत नियंत्रण मिला?

**Options:**

1) Ravi

रावी

2) Chenab

चिनाब

3) Beas

ब्यास

4) Satluj

सतलुज

**Correct Answer:** Chenab

चिनाब

ब्यास