



REGISTRATION NUMBER : 2003006937

CANDIDATES NAME: MOCKTIME.COM

EXAM NAME : SSC CHSL

EXAM DURATION : 01:00 Hrs

TOTAL MARKS : 200

TOTAL NO OF QUESTIONS : 100

QID : 101 -

In the following question, select the number which can be placed at the sign of question mark (?) from the given alternatives.

निम्नलिखित प्रश्न में दिए गए विकल्पों में से प्रश्न चिह्न

(?) के स्थान पर आने वाली संख्या को चुनिए।

1	2
3	4

2	6
1	2

2	2
1	?

Options:

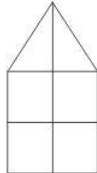
- 1) 1
- 2) 3
- 3) 5
- 4) 6

Correct Answer: 6

QID : 102 -

How many quadrilaterals are there in the given figure?

दी गई आकृति में कितने चतुर्भुज हैं?



Options:

- 1) 9
- 2) 11
- 3) 13
- 4) 15

Correct Answer: 13

QID : 103 -

A word is represented by only one set of numbers as given in any one of the alternatives. The sets of numbers given in the alternatives are represented by two classes of alphabets as shown in the given two matrices. The columns and rows of **Matrix-I** are numbered from 0 to 4 and that of **Matrix-II** are numbered from 5 to 9. A letter from these matrices can be represented first by its row and next by its column, for example, 'B' can be represented by 30, 75, etc., and 'E' can be represented by 32, 69, etc. Similarly, you have to identify the set for the word "PHONE".

एक शब्द केवल एक संख्या-समूह द्वारा दर्शाया गया है, जैसा कि विकल्पों में से किसी एक में दिया गया है। विकल्पों में दिए गए संख्या-समूह अक्षरों के दो वर्गों द्वारा दर्शाए गए हैं, जैसा कि दिए गए दो आव्यूहों में है। आव्यूह-I के स्तम्भ और पंक्ति की संख्या 0 से 4 है और आव्यूह-II की 5 से 9। इन आव्यूहों से एक अक्षर को पहले उसकी पंक्ति और बाद में स्तम्भ संख्या द्वारा दर्शाया जा सकता है। उदाहरण के लिए 'B' को 30, 75, आदि द्वारा दर्शाया जा सकता है तथा 'E' को 32, 69, आदि द्वारा दर्शाया जा सकता है। इसी तरह से आपको प्रश्न में दिए शब्द "PHONE" के लिए समूह को पहचानना है।

Matrix-I
आव्यूह-I

	0	1	2	3	4
0	U	V	F	C	D
1	L	Y	K	E	J
2	X	P	V	M	K
3	B	R	E	U	H
4	A	L	D	X	N

Matrix-II
आव्यूह-II

	5	6	7	8	9
5	S	N	L	A	H
6	U	O	Z	Y	E
7	B	X	D	C	P
8	X	H	S	M	T
9	V	F	A	X	O

Options:

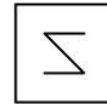
- 1) 21, 86, 98, 57, 32
- 2) 79, 34, 99, 56, 13
- 3) 21, 59, 66, 42, 68
- 4) 79, 87, 66, 44, 10

Correct Answer: 79, 34, 99, 56, 13

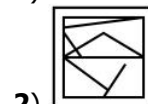
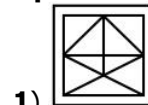
QID : 104 -

From the given answer figures, select the one in which the question figure is hidden/embedded.

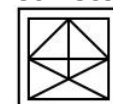
दी गई उत्तर आकृतियों में से उस उत्तर आकृति को चुनिए जिस में प्रश्न आकृति निहित है।



Options:



Correct Answer:



QID : 105 -

Which answer figure will complete the pattern in the question figure?

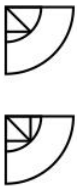
कौन सी उत्तर आकृति प्रश्न आकृति के प्रतिरूप को पूरा करेगी?



Options:

- 1)
- 2)
- 3)
- 4)

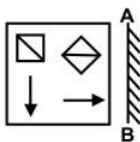
Correct Answer:



QID : 106 -

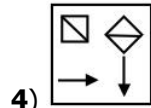
If a mirror is placed on the line AB, then which of the answer figures is the right image of the given figure?

यदि एक दर्पण को AB रेखा पर रखा जाए, तो दी गई उत्तर आकृतियों में से कौन सी आकृति प्रश्न आकृति की सही प्रतिबिम्ब होगी?

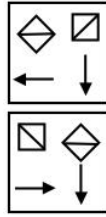


Options:

- 1)
- 2)
- 3)



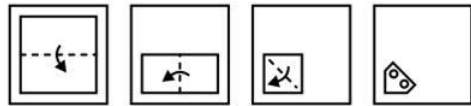
4) Correct Answer:



QID : 107 -

A piece of paper is folded and punched as shown below in the question figures. From the given answer figures, indicate how it will appear when opened?

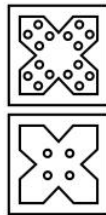
नीचे के प्रश्न आकृतियों में दिखाए अनुसार कागज को मोड़कर छेदने तथा खोलने के बाद वह किस उत्तर आकृति जैसा दिखाई देगा?



Options:

- 1)
- 2)
- 3)
- 4)

Correct Answer:



QID : 108 - By interchanging which two digits the equation will be correct?

$$47 \times 3 \div 2 + 15 = 33$$

किन दो अंकों को आपस में परस्पर बदलने पर समीकरण सही हो जाएगा?

$$47 \times 3 \div 2 + 15 = 33$$

Options:

- 1) 5 and 4
5 तथा 4
- 2) 7 and 5
7 तथा 5

3) 7 and 2
7 तथा 2

4) 3 and 4
3 तथा 4

Correct Answer: 7 and 2
7 तथा 2

QID : 109 - If $4 * 7 * 6 = 698$ and $3 * 5 * 0 = 572$, then

$6 * 2 * 1 = ?$

यदि $4 * 7 * 6 = 698$ तथा $3 * 5 * 0 = 572$ हो, तो

$6 * 2 * 1 = ?$

Options:

1) 438

2) 938

3) 583

4) 843

Correct Answer: 843

QID : 110 - Arrange the given words in the sequence in which they occur in the dictionary.

1. Onion

2. Onset

3. Oxide

4. Overt

5. Opera

निम्नलिखित शब्दों को शब्दकोश में आने वाले क्रम के अनुसार लिखें।

1. Onion

2. Onset

3. Oxide

4. Overt

5. Opera

Options:

1) 12543

2) 13543

3) 21345

4) 12345

Correct Answer: 12543

QID : 111 - In the following question, select the missing number from the given series.

67, 64, 59, 52, ?

निम्नलिखित प्रश्न में दिए गए विकल्पों में से लुप्त अंक ज्ञात कीजिए।

67, 64, 59, 52, ?

Options:

1) 43

2) 47

3) 49

4) 45

Correct Answer: 43

QID : 112 - A series is given with one term missing. Select the correct alternative from the given ones that will complete the series.

CD, FG, IJ, LM, ?

एक अनुक्रम दिया गया है, जिसमें से एक पद लुप्त है। दिए गए विकल्पों में से वह सही विकल्प चुनिए, जो अनुक्रम को पूरा करे।

CD, FG, IJ, LM, ?

Options:

1) OP

2) PQ

3) PO

4) QR

Correct Answer: OP

QID : 113 - In the following question, select the odd word from the given alternatives.

निम्नलिखित प्रश्न में दिए गए विकल्पों में से विषम शब्द को चुनिए।

Options:

1) Lungs

फेफड़े

2) Nose

नाक

3) Air pipe

श्वास नली

4) Liver

यकृत

Correct Answer: Liver

यकृत

यकृत

QID : 114 - In the following question, select the odd number pair from the given alternatives.

निम्नलिखित प्रश्न में दिए गए विकल्पों में से विषम संख्या युग्म को चुनिए।

Options:

1) 11 – 1331

2) 4 – 64

3) 5 – 25

4) 7 – 343

Correct Answer: 5 – 25

QID : 115 - In the following question, select the odd letters from the given alternatives.

निम्नलिखित प्रश्न में दिए गए विकल्पों में से विषम अक्षरों को चुनिए।

Options:

1) W VX

2) Q PR

3) K JL

4) G FI

Correct Answer: GFI





QID : 116 - Identify the diagram that best represents the relationship among the given classes.

Actor, Director, Male

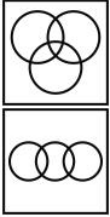
वह आरेख चुनिए जो नीचे दिए गए वर्गों के बीच के संबंध का सही निरूपण करता है।

अभिनेता, निर्देशक, पुरुष

Options:

- 1) 
- 2) 
- 3) 
- 4) 

Correct Answer:



QID : 117 - In the following question, select the related word from the given alternatives.

Wine : Brewery :: Coin : ?

निम्नलिखित प्रश्न में दिए गए विकल्पों में से संबंधित शब्द को चुनिए।

मदिरा : मद्यनिर्माणशाला :: सिक्का : ?

Options:

- 1) Locker
लॉकर
- 2) Wallet
बटुआ
- 3) Mint
टकसाल
- 4) Safe
तिजोरी

Correct Answer: Mint

टकसाल

लॉकर

QID : 118 - In the following question, select the related number from the given alternatives.

4 : 64 :: 6 : ?

निम्नलिखित प्रश्न में दिए गए विकल्पों में से संबंधित संख्या को चुनिए।

4 : 64 :: 6 : ?

Options:

- 1) 216
- 2) 36
- 3) 98
- 4) 156

Correct Answer: 216

QID : 119 - In the following question, select the related letters from the given alternatives.

BD : EH :: PX : ?

निम्नलिखित प्रश्न में दिए गए विकल्पों में से संबंधित अक्षरों को चुनिए।

BD : EH :: PX : ?

Options:

- 1) RA
- 2) SB
- 3) RB
- 4) SA

Correct Answer: SB

QID : 120 - In the following question, select the word which cannot be formed using the letters of the given word.

TRANSFORMED

निम्नलिखित विकल्पों में से वह शब्द चुनिए जो दिए गए शब्द के अक्षरों का प्रयोग करके नहीं बनाया जा सकता।

TRANSFORMED

Options:

- 1) ROSE
- 2) TRADE
- 3) STRAP
- 4) SAND

Correct Answer: STRAP

QID : 121 - If North-East is called East, North is called North-East and North-West is called North, then what will South be called as?

यदि उत्तर-पूर्व को पूर्व कहा जाता है, उत्तर को उत्तर-पूर्व कहा जाता है तथा उत्तर-पश्चिम को उत्तर कहा जाता है, तो दक्षिण को क्या कहा जाएगा?

Options:

- 1) West
पश्चिम
- 2) South-West
दक्षिण-पश्चिम
- 3) North-West
उत्तर-पश्चिम
- 4) East
पूर्व

Correct Answer: South-West

दक्षिण-पश्चिम

उत्तर-पश्चिम

QID : 122 - P is taller than Q. Q is shorter than R. S is taller than P but shorter than R. Who is the shortest? P, Q से लम्बा है। Q, R से छोटा है। S, P से लम्बा है परंतु R से छोटा है। सबसे छोटा कौन है?

Options:

- 1) Q
- 2) P
- 3) S
- 4) R

Correct Answer: Q

QID : 123 - In the following question below are given some statements followed by some conclusions. Taking the given statements to be true even if they seem to be

at variance from commonly known facts, read all the conclusions and then decide which of the given conclusion logically follows the given statements.

Statements:

- I. Some blue are yellow.
- II. Some yellow are green.

Conclusions:

- I. Some blue are green.
- II. Some blue are not green

नीचे दिए गए प्रश्न में कुछ कथन और उनके बाद उन कथनों पर आधारित कुछ निष्कर्ष दिए गए हैं, हालांकि उनमें सामान्य ज्ञात तथ्यों से भिन्नता हो सकती है। सभी निष्कर्ष पढ़ें और फिर निर्धारित करें कि दिए गए कौन से निष्कर्ष, दिए गए कथनों के आधार पर युक्तिसंगत हैं।

कथन:

- I. कुछ नीले पीले हैं।
- II. कुछ पीले हरे हैं।

निष्कर्ष:

- I. कुछ नीले हरे हैं।
- II. कुछ नीले हरे नहीं हैं।

Options:

1) Only conclusion (I) follows.
केवल निष्कर्ष (I) सही है।

2) Only conclusion (II) follows.
केवल निष्कर्ष (II) सही है।

3) Both conclusion follow.
दोनों ही निष्कर्ष सही हैं।

4) Neither conclusion (I) nor conclusion (II) follows.
न तो निष्कर्ष (I) न ही निष्कर्ष (II) सही है।

Correct Answer: Neither conclusion (I) nor conclusion (II) follows.

न तो निष्कर्ष (I) न ही निष्कर्ष (II) सही है।

दोनों ही निष्कर्ष सही हैं।

QID : 124 - In a certain code language, "GOT" is written as "HQW". How is "HEN" written in that code language?

एक विशिष्ट कोड भाषा में, "GOT" को "HQW" लिखा जाता है। इस कोड भाषा में "HEN" को किस प्रकार लिखा जाएगा?

Options:

- 1) IGQ
- 2) GGQ
- 3) IFQ
- 4) IGO

Correct Answer: IGQ

QID : 125 - In a certain code language, "SUN" is written as "55" and "RAT" is written as "40". How is "GUN" written in that code language?

एक विशिष्ट कोड भाषा में, "SUN" को "55" तथा "RAT" को "40" लिखा जाता है। इस कोड भाषा में "GUN" को किस प्रकार लिखा जाएगा?

Options:

- 1) 41
- 2) 42

- 3) 43
- 4) 47

Correct Answer: 43

QID : 126 - The sum of two numbers is 7 and their product is 12. What is the sum of their reciprocals?
दो संख्याओं का योग 7 है तथा उनका गुणनफल 12 है। उनके व्युत्क्रम का योग क्या है?

Options:

- 1) 7/12
- 2) 8/15
- 3) 7/13
- 4) 12/7

Correct Answer: 7/12

QID : 127 - How many multiples of 5 are there from 1 to 200 which are not multiples of 4?
1 से 200 तक 5 के ऐसे कितने गुणज हैं जो 4 के गुणज नहीं हैं?

Options:

- 1) 40
- 2) 30
- 3) 25
- 4) 35

Correct Answer: 30

QID : 128 -

What is the value of $\sqrt{18-2\sqrt{77}}$?

$\sqrt{18-2\sqrt{77}}$ का मान क्या है?

Options:

- 1) $\sqrt{11} + \sqrt{7}$
- 2) $\sqrt{12} - \sqrt{5}$
- 3) $\sqrt{11} - \sqrt{7}$
- 4) $\sqrt{13} - \sqrt{4}$

Correct Answer: $\sqrt{11} - \sqrt{7}$

QID : 129 - How many factors of 420 are prime numbers?

420 के कितने गुणनखण्ड अभाज्य संख्याएँ हैं?

Options:

- 1) 3
- 2) 15
- 3) 7
- 4) 4

Correct Answer: 4

QID : 130 - Which of the following number is divisible by 9?

निम्नलिखित में से कौन सी संख्या 9 से विभाज्य है?

Options:

- 1) 234561
- 2) 444123
- 3) 555231
- 4) 65422

Correct Answer: 444123

QID : 131 -

What is the value of $\frac{(0.4)^3 + (0.6)^3}{[(0.4)^2 + (0.6)^2 - (0.4) \times (0.6)]}$?

$\frac{(0.4)^3 + (0.6)^3}{[(0.4)^2 + (0.6)^2 - (0.4) \times (0.6)]}$ का मान क्या है?

Options:

- 1) 1.2
- 2) 1.1
- 3) 1.0
- 4) 0.9

Correct Answer: 1.0

QID : 132 - A and B together can do a piece of work in 20 days and A alone can do it in 30 days. B alone can do the work in how many days?

A तथा B मिलकर एक कार्य को 20 दिनों में पूरा कर सकते हैं तथा A अकेले उसे 30 दिनों में कर सकता है। B अकेले उस कार्य को कितने दिनों में कर सकता है?

Options:

- 1) 45
- 2) 60
- 3) 75
- 4) 90

Correct Answer: 60

QID : 133 - If $\frac{2}{5}$ th of a cistern is filled in 6 minute, then what is the time (in minutes) needed to fill the remaining part?

यदि टंकी का $\frac{2}{5}$ -वां भाग 6 मिनट में भर जाता है, तो बचा हुआ भाग भरने में कितना समय (मिनटों में) लगेगा?

Options:

- 1) 8
- 2) 9
- 3) 12
- 4) 10

Correct Answer: 9

QID : 134 - The length and breadth of a rectangular field are in the ratio of 6 : 5. If the perimeter of the field is 132 metres, then what is its breadth (in metres)?

एक आयताकार क्षेत्र की लम्बाई तथा चौड़ाई का अनुपात 6 : 5 है। यदि आयताकार क्षेत्र का परिमाप 132 मीटर है, तो उसकी चौड़ाई (मीटर में) क्या है?

Options:

- 1) 24
- 2) 30
- 3) 35
- 4) 36

Correct Answer: 30

QID : 135 - A trader allows two successive discounts of 30% and 40% on selling an article. If he sells that article for Rs 840, then what is the marked price (in Rs) of the article?

एक विक्रेता किसी वस्तु को बेचते समय 30% तथा 40% की दो क्रमिक छूट देता है। यदि वह इस वस्तु को 840 रु में बेचता है, तो वस्तु का अंकित मूल्य (रु में) क्या है?

Options:

- 1) 2000
- 2) 1900
- 3) 1800
- 4) 1700

Correct Answer: 2000

QID : 136 - The marked price of an article is Rs 1050. A shopkeeper gives a discount of 30% and still makes a profit of 40%. What is the cost price (in Rs) of the article?

एक वस्तु का अंकित मूल्य 1050 रु है। दुकानदार 30% की छूट देता है तथा फिर भी वह 40% का लाभ कमाता है। वस्तु का क्रय मूल्य (रु में) क्या है?

Options:

- 1) 495
- 2) 475
- 3) 500
- 4) 525

Correct Answer: 525

QID : 137 - If $\frac{2}{3}$ of P = $\frac{6}{7}$ of Q, then what is P : Q? यदि P का $\frac{2}{3} = Q$ का $\frac{6}{7}$ हो, तो P : Q क्या है?

Options:

- 1) 9 : 7
- 2) 9 : 5
- 3) 7 : 5
- 4) 5 : 7

Correct Answer: 9 : 7

QID : 138 - If $\frac{x}{y} = \frac{3}{5}$, then what is the ratio of $(5x + 2y)$ and $(5x - y)$?

यदि $\frac{x}{y} = \frac{3}{5}$ है, तो $(5x + 2y)$ तथा $(5x - y)$ का अनुपात क्या है?

Options:

- 1) 5 : 2
- 2) 5 : 3
- 3) 5 : 8
- 4) 3 : 8

Correct Answer: 5 : 2

QID : 139 - The mean of 15 numbers is 40. If two numbers 45 and 35 are removed, then what will be the mean of remaining numbers?

15 संख्याओं का औसत 40 है। यदि दो संख्याएँ 45 तथा 35 को हटा दिया जाए, तो शेष संख्याओं का औसत क्या होगा?

Options:

- 1) 37.5
- 2) 40
- 3) 42.5
- 4) 38

Correct Answer: 40

QID : 140 - If chairs are bought at Rs 1200 each and sold at Rs 1500 each, then what will be the profit percentage?

यदि कुर्सियों को 1200 रु प्रति कुर्सी की दर से खरीदकर 1500 रु प्रति कुर्सी की दर से बेच दिया जाये, तो लाभ प्रतिशत क्या होगा?

Options:

- 1) 10
- 2) 15
- 3) 20
- 4) 25

Correct Answer: 25

QID : 141 - If the ratio of the cost price and selling price of an article is 4 : 5, then what will be the profit percentage?

यदि एक वस्तु के क्रय मूल्य तथा विक्रय मूल्य का अनुपात 4 : 5 है, तो लाभ प्रतिशत क्या होगा?

Options:

- 1) 25
- 2) 35
- 3) 40
- 4) 50

Correct Answer: 25

QID : 142 - In a school 55% of the students are girls. If number of boys is 360, then what is the total number of students in the school?

एक विद्यालय में 55% विद्यार्थी लड़कियाँ हैं। यदि लड़कों की संख्या 360 है, तो विद्यालय में कुल कितने विद्यार्थी हैं?

Options:

- 1) 720
- 2) 800
- 3) 1000
- 4) 1200

Correct Answer: 800

QID : 143 - If the price of a commodity is decreased by 40% and its consumption is increased by 30%, then what will be the percentage increase or decrease in the expenditure of the commodity?

यदि एक वस्तु की कीमत 40% कम हो जाती है तथा उसकी खपत 30% बढ़ जाती है, तो वस्तु पर खर्च में कितने प्रतिशत की वृद्धि या कमी होगी?

Options:

- 1) 22% decrease
22% की कमी
- 2) 22% increase
22% की वृद्धि
- 3) 12% increase
12% की वृद्धि
- 4) 12% decrease
12% की कमी

Correct Answer: 22% decrease

22% की कमी

12% की कमी

QID : 144 - Speed of a boat along the current and against the current are 16 km/hr and 10 km/hr respectively. What is the speed (in km/hr) of the current?

एक नाव की गति धारा के अनुकूल तथा धारा के प्रतिकूल क्रमशः 16 कि.मी./घंटा तथा 10 कि.मी./घंटा है। धारा की गति (कि.मी./घंटा में) क्या है?

Options:

- 1) 2
- 2) 3
- 3) 4
- 4) 1

Correct Answer: 3

QID : 145 - If 200 meters long train takes 40 seconds to cross a pole, then what is the speed (in km/h) of the train?

यदि एक 200 मीटर लम्बी रेलगाड़ी एक खम्बे को पार करने के लिए 40 सेकण्ड लेती है, तो रेलगाड़ी की गति (कि.मी./घंटा में) क्या है?

Options:

- 1) 9
- 2) 18
- 3) 36
- 4) 45

Correct Answer: 18

QID : 146 - A sum was invested on simple interest at a certain rate for 5 years. If the interest rate is increased by 2%, then the interest increases by Rs 190. What is the sum (in Rs) invested?

एक धनराशि किसी वार्षिक दर से 5 वर्ष के लिए साधारण ब्याज पर निवेश की जाती है। यदि ब्याज दर 2% से बढ़ा दी जाए, तो ब्याज 190 रु से बढ़ जाता है। निवेश की गई धनराशि (रु में) क्या है?

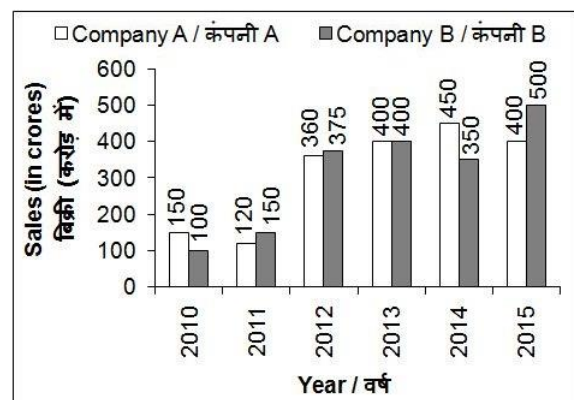
Options:

- 1) 1300
- 2) 1600
- 3) 1900
- 4) 2200

Correct Answer: 1900**QID : 147 -**

The bar chart given below shows the sales (in crores) of 2 companies A and B from years 2010 to 2015.

नीचे दिए गए दण्ड चित्र में वर्ष 2010 से 2015 तक 2 कंपनियों A तथा B की बिक्री (करोड़ में) को दर्शाया गया है।



What is the average sale (in crores) of company A from years 2010 to 2015?

वर्ष 2010 से वर्ष 2015 तक कंपनी A की औसत बिक्री (करोड़ में) क्या है?

Options:

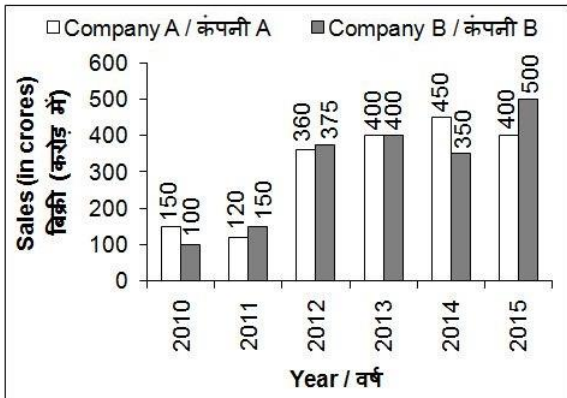
- 1) 315
- 2) 313.27
- 3) 350
- 4) 313.33

Correct Answer: 313.33

QID : 148 -

The bar chart given below shows the sales (in crores) of 2 companies A and B from years 2010 to 2015.

नीचे दिए गए दण्ड चित्र में वर्ष 2010 से 2015 तक 2 कंपनियों A तथा B की बिक्री (करोड़ में) को दर्शाया गया है।



For how many years was the sale of company A greater than that of company B?

कितने वर्षों के लिए कंपनी A की बिक्री कंपनी B की बिक्री से अधिक थी?

Options:

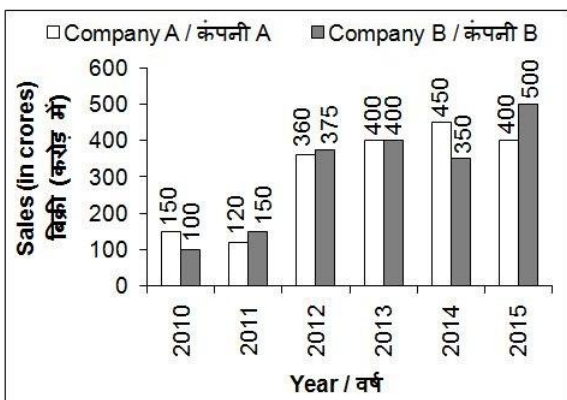
- 1) 1
- 2) 2
- 3) 3
- 4) 4

Correct Answer: 2

QID : 149 -

The bar chart given below shows the sales (in crores) of 2 companies A and B from years 2010 to 2015.

नीचे दिए गए दण्ड चित्र में वर्ष 2010 से 2015 तक 2 कंपनियों A तथा B की बिक्री (करोड़ में) को दर्शाया गया है।



What is the percentage change in sale of company B from year 2011 to 2012?

वर्ष 2011 से वर्ष 2012 तक कंपनी B की बिक्री में प्रतिशत परिवर्तन क्या है?

Options:

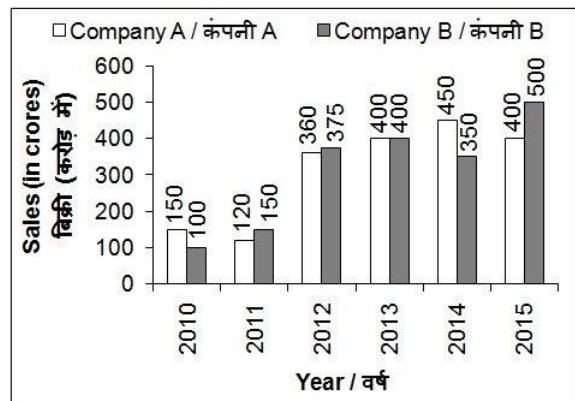
- 1) 100
- 2) 225
- 3) 150
- 4) 125

Correct Answer: 150

QID : 150 -

The bar chart given below shows the sales (in crores) of 2 companies A and B from years 2010 to 2015.

नीचे दिए गए दण्ड चित्र में वर्ष 2010 से 2015 तक 2 कंपनियों A तथा B की बिक्री (करोड़ में) को दर्शाया गया है।



What is the difference (in crores) between the sales of company A in 2012 and company B in 2015?

वर्ष 2012 में कंपनी A की बिक्री तथा वर्ष 2015 में कंपनी B की बिक्री के मध्य क्या (करोड़ में) अंतर है?

Options:

- 1) 15
- 2) 150
- 3) 40
- 4) 140

Correct Answer: 140

QID : 151 - In the following question, some part of the sentence may have errors. Find out which part of the sentence has an error and select the appropriate option.

If a sentence is free from error, select 'No Error'.

We look forward to an (1)/ successful working relationship (2)/ in the future. (3)/ No Error (4)

Options:

- 1) 1
- 2) 2
- 3) 3
- 4) 4

Correct Answer: 1

QID : 152 - In the following question, some part of the sentence may have errors. Find out which part of the sentence has an error and select the appropriate option.

If a sentence is free from error, select 'No Error'.

Teachers Day shall be observed (1)/ as non-teaching day (2)/ in our campus. (3)/ No Error (4)

Options:

- 1) 1

- 2) 2
- 3) 3
- 4) 4

Correct Answer: 2

QID : 153 - In the following question, the sentence given with blank to be filled in with an appropriate word. Select the correct alternative out of the four and indicate it by selecting the appropriate option.

When we got home last night, we found that the guest _____.

Options:

- 1) had arrived
- 2) has arriving
- 3) is arriving
- 4) have arrived

Correct Answer: had arrived

QID : 154 - In the following question, the sentence given with blank to be filled in with an appropriate word. Select the correct alternative out of the four and indicate it by selecting the appropriate option.

Throw a stone _____ the fierce cat.

Options:

- 1) above
- 2) on
- 3) at
- 4) forward

Correct Answer: at

QID : 155 - In the following question, out of the given four alternatives, select the one which best expresses the meaning of the given word.

Obligation

Options:

- 1) Denial
- 2) Refusal
- 3) Commitment
- 4) Declination

Correct Answer: Commitment

QID : 156 - In the following question, out of the given four alternatives, select the one which best expresses the meaning of the given word.

Notorious

Options:

- 1) Disreputable
- 2) Ethical
- 3) Honorable
- 4) Glorious

Correct Answer: Disreputable

QID : 157 - In the following question, out of the given four alternatives, select the one which best expresses the meaning of the given word.

Savage

Options:

- 1) Civilized
- 2) Brutal
- 3) Tame
- 4) Domesticated

Correct Answer: Brutal

QID : 158 - In the following question, out of the given four alternatives, select the one which is opposite in meaning of the given word.

Solace

Options:

- 1) Pity
- 2) Disharmony
- 3) Relief
- 4) Cheer

Correct Answer: Disharmony

QID : 159 - In the following question, out of the given four alternatives, select the one which is opposite in meaning of the given word.

Gather

Options:

- 1) Choose
- 2) Unite
- 3) Crowd
- 4) Divide

Correct Answer: Divide

QID : 160 - In the following question, out of the given four alternatives, select the one which is opposite in meaning of the given word.

Induce

Options:

- 1) Convince
- 2) Activate
- 3) Impel
- 4) Prevent

Correct Answer: Prevent

QID : 161 - In the following question, out of the four given alternatives, select the alternative which best expresses the meaning of the Idiom/Phrase.

A burning question

Options:

- 1) A lengthy question
- 2) An important question
- 3) A useless question
- 4) An easy question

Correct Answer: An important question

QID : 162 - In the following question, out of the four given alternatives, select the alternative which best expresses the meaning of the Idiom/Phrase.

By hook or by crook

Options:

- 1) Causing trouble to
- 2) By all means
- 3) To fight against
- 4) To bear patiently

Correct Answer: By all means

QID : 163 - Improve the bracketed part of the sentence.

Last month (**he makes news with his**) "go whistle" comment to the leaders over outstanding dues.

Options:

- 1) he will make news with him
- 2) he made news with his
- 3) he makes news with him

4) No improvement

Correct Answer: he made news with his

QID : 164 - Improve the bracketed part of the sentence.

The terms of a future partnership would be vastly (**inferior on**) comparison with the benefits of full membership.

Options:

- 1) inferior by
- 2) inferior to
- 3) inferior in
- 4) No improvement

Correct Answer: inferior in

QID : 165 - In the following question, out of the four given alternatives, select the alternative which is the best substitute of the phrase.

A woman who entertains guests.

Options:

- 1) Nurse
- 2) Waiter
- 3) Hostess
- 4) Maid

Correct Answer: Hostess

QID : 166 - In the following question, out of the four given alternatives, select the alternative which is the best substitute of the phrase.

A reminder of something.

Options:

- 1) Information
- 2) Letter
- 3) Brochure
- 4) Memento

Correct Answer: Memento

QID : 167 - In the following question, a word has been written in four different ways out of which only one is correctly spelt. Select the correctly spelt word.

Options:

- 1) Sponsor
- 2) Esponsor
- 3) Sponser
- 4) Sponcer

Correct Answer: Sponsor

QID : 168 - In the following question, a word has been written in four different ways out of which only one is correctly spelt. Select the correctly spelt word.

Options:

- 1) Satellite
- 2) Sattelite
- 3) Satellite
- 4) Sattellite

Correct Answer: Satellite

QID : 169 - Rearrange the parts of the sentence in correct order.

A country cannot

P: development of its citizens

Q: the individual growth and

R: grow and develop without

Options:

- 1) PRQ
- 2) QRP
- 3) PQR
- 4) RQP

Correct Answer: RQP

QID : 170 - Rearrange the parts of the sentence in correct order.

Everyone should

P: the same opportunities

Q: command the same

R: respect and enjoy

Options:

- 1) RQP
- 2) QRP
- 3) PQR
- 4) QPR

Correct Answer: QRP

QID : 171 - In the following passage some of the words have been left out. Read the passage carefully and select the correct answer for the given blank out of the four alternatives.

One of the major problems of India is unemployment. Unemployment means the state of being without _____ opportunity of earning one's livelihood. In the good, old, golden days when the population of the world was _____, there was hardly a person who was not employed in some way or other to earn a _____. But this situation no longer exists. In those days most people lived in the rural areas and depended on agriculture and cottage industries. But industrial _____ brought about a change in the situation. It introduced machines, and as a single machine can do the work of many men, it naturally threw many persons out of employment. No doubt, this industrial civilization has greatly _____ the wants of and opened up many new opportunities for employment

the state of being without _____ opportunity

Options:

- 1) any
- 2) every
- 3) either
- 4) neither

Correct Answer: any

QID : 172 - In the following passage some of the words have been left out. Read the passage carefully and select the correct answer for the given blank out of the four alternatives.

One of the major problems of India is unemployment. Unemployment means the state of being without _____ opportunity of earning one's livelihood. In the good, old, golden days when the population of the world was _____, there was hardly a person who was not employed in some way or other to earn a _____. But this situation no longer exists. In those days most people lived in the rural areas and depended on agriculture and cottage industries. But industrial _____ brought about a change in the situation. It introduced machines, and as a single machine can do the work of many men, it naturally threw many persons out of employment. No

doubt, this industrial civilization has greatly _____ the wants of and opened up many new opportunities for employment

population of the world was _____,

Options:

- 1) popular
- 2) smaller
- 3) larger
- 4) significant

Correct Answer: smaller

QID : 173 - In the following passage some of the words have been left out. Read the passage carefully and select the correct answer for the given blank out of the four alternatives.

One of the major problems of India is unemployment. Unemployment means the state of being without _____ opportunity of earning one's livelihood. In the good, old, golden days when the population of the world was _____, there was hardly a person who was not employed in some way or other to earn a _____. But this situation no longer exists. In those days most people lived in the rural areas and depended on agriculture and cottage industries. But industrial _____ brought about a change in the situation. It introduced machines, and as a single machine can do the work of many men, it naturally threw many persons out of employment. No doubt, this industrial civilization has greatly _____ the wants of and opened up many new opportunities for employment

some way or other to earn a _____.

Options:

- 1) giving
- 2) liking
- 3) living
- 4) searching

Correct Answer: living

QID : 174 - In the following passage some of the words have been left out. Read the passage carefully and select the correct answer for the given blank out of the four alternatives.

One of the major problems of India is unemployment. Unemployment means the state of being without _____ opportunity of earning one's livelihood. In the good, old, golden days when the population of the world was _____, there was hardly a person who was not employed in some way or other to earn a _____. But this situation no longer exists. In those days most people lived in the rural areas and depended on agriculture and cottage industries. But industrial _____ brought about a change in the situation. It introduced machines, and as a single machine can do the work of many men, it naturally threw many persons out of employment. No doubt, this industrial civilization has greatly _____ the wants of and opened up many new opportunities for employment

But industrial _____ brought about a change

Options:

- 1) change
- 2) backwardness
- 3) barbarism
- 4) civilization

Correct Answer: civilization

QID : 175 - In the following passage some of the words have been left out. Read the passage carefully and select the correct answer for the given blank out of the four alternatives.

One of the major problems of India is unemployment. Unemployment means the state of being without _____ opportunity of earning one's livelihood. In the good, old, golden days when the population of the world was _____, there was hardly a person who was not employed in some way or other to earn a _____. But this situation no longer exists. In those days most people lived in the rural areas and depended on agriculture and cottage industries. But industrial _____ brought about a change in the situation. It introduced machines, and as a single machine can do the work of many men, it naturally threw many persons out of employment. No doubt, this industrial civilization has greatly _____ the wants of and opened up many new opportunities for employment

greatly _____ the wants of and opened

Options:

- 1) increased
- 2) balanced
- 3) decreased
- 4) sustained

Correct Answer: increased

QID : 176 - Per-capita income is also called _____.
प्रति व्यक्ति आय को _____ भी कहा जाता है।

Options:

- 1) Gross National Product
सकल राष्ट्रीय उत्पाद
- 2) Gross Domestic Product
सकल घरेलू उत्पाद
- 3) Average income
औसत आय
- 4) Total income
कुल आय

Correct Answer: Average income

औसत आय

औसत आय

QID : 177 - What is a paper instructing the bank to pay a specific amount from one person's account to another person's account called?

एक पेपर जो बैंक को एक विशिष्ट राशि एक व्यक्ति के खाते से किसी अन्य व्यक्ति के खाते में भुगतान करने के लिए निर्देश देता है, क्या कहलाता है?

Options:

- 1) Lease
पट्टा
- 2) Order
क्रम
- 3) Cheque
चेक
- 4) Transfer

हस्तांतरण

Correct Answer: Cheque

चेक

चेक

QID : 178 - Which schedule of the Indian constitution deals with 'languages recognized by constitution? भारतीय संविधान के किस अनुसूची में 'संविधान द्वारा मान्यता प्राप्त भाषाओं' के बारे में बताया गया है?

Options:

1) First Schedule

पहली अनुसूची

2) Second Schedule

दूसरी अनुसूची

3) Eight Schedule

आठवीं अनुसूची

4) Tenth Schedule

दसवीं अनुसूची

Correct Answer: Eight Schedule

आठवीं अनुसूची

आठवीं अनुसूची

QID : 179 - A _____ government rules within limits set by constitutional law and citizens rights.

एक _____ सरकार संवैधानिक कानूनों और नागरिक अधिकारों के दायरे के अंदर ही काम करती है।

Options:

1) Monarchic

राजतांत्रिक

2) Autocratic

एकतांत्रिक

3) Aristocratic

कुलीनतांत्रिक

4) Democratic

लोकतांत्रिक

Correct Answer: Democratic

लोकतांत्रिक

लोकतांत्रिक

QID : 180 - Who devised the Mahalwari Settlement?

महालवाड़ी व्यवस्था किसने तैयार किया था?

Options:

1) Holt Mackenzie

होल्ट मैकेंज़ी

2) Lord Dalhousie

लॉर्ड डलहौज़ी

3) Edmund Burke

एडमंड बर्क

4) Warren Hastings

वॉरेन हेस्टिंग्स

Correct Answer: Holt Mackenzie

होल्ट मैकेंज़ी

लॉर्ड डलहौज़ी

QID : 181 -

Match the following.

निम्नलिखित का मिलान कीजिए।

Term / शब्द	Definition / परिभाषा
A. Sadar सदर	1. Military Commanders सैनिक वेतनाधिकारी
B. Faujdars फौजदार	2. Town Police Commanders नगर का पुलिस अधिकारी
C. Kotwal कोतवाल	3. Minister in charge of religious and charitable patronage धार्मिक तथा धर्मार्थ किए जाने वाले कार्यों का मंत्री

Options:

1) A-1, B-2, C-3

2) A-1, B-3, C-2

3) A-3, B-1, C-2

4) A-2, B-1, C-3

Correct Answer: A-3, B-1, C-2

QID : 182 - What does the 66½ degrees south latitude mark?

66½ अंश दक्षिणी अक्षांश क्या दर्शाता है?

Options:

1) Tropic of Cancer

कर्क रेखा

2) Tropic of Capricorn

मकर रेखा

3) Arctic Circle

उत्तर ध्रुव (आर्कटिक) वृत्त

4) Antarctic Circle

दक्षिण ध्रुव (अंटार्कटिक) वृत्त

Correct Answer: Antarctic Circle

दक्षिण ध्रुव (अंटार्कटिक) वृत्त

कर्क रेखा

QID : 183 - What is the thickness of the crust on the continental masses (in km)?

महाद्वीपीय संहित में पर्पटी की मोटाई (कि.मी. में) कितनी है?

Options:

1) 5

2) 15

3) 25

4) 35

Correct Answer: 35

QID : 184 - What are the changes in our surrounding that makes us respond to them called?

वातावरण में होने वाले परिवर्तन जो हमें उनके प्रति प्रतिक्रिया देने के लिए प्रतिबद्ध करते हैं, क्या कहलाते हैं?

Options:

1) Respiration

श्वसन क्रिया

2) Excretion

उत्सर्जन

3) Stimuli

उद्दीपन

4) Reproduction

प्रजनन

Correct Answer: Stimuli

उद्दीपन

श्वसन क्रिया

QID : 185 - The original function of the vertebrate stomach was _____.

कशेरुकी उदर का मूलभूत कार्य _____ था।

Options:

1) Storage

भण्डारण

2) Digestion

पाचन

3) Bile juice secretion

पित्त रस स्रावण

4) mixing of food

भोजन का मिश्रण

Correct Answer: Storage

भण्डारण

पित्त रस स्रावण

QID : 186 - A deficiency of vitamin A results in _____.

विटामिन ए की कमी का परिणाम _____ होता है।

Options:

1) Pellagra

पेलाग्रा

2) Rickets

रिकेट्स

3) Xerophthalmia

जेरोप्टैल्मिया

4) Colour blindness

कलर ब्लाइंडनेस

Correct Answer: Xerophthalmia

जेरोप्टैल्मिया

पेलाग्रा

QID : 187 - What is the time taken by the pendulum to complete one oscillation called?

लोलक द्वारा एक दोलन पूरा करने में लिए गए समय को

क्या कहते हैं?

Options:

1) Time period

आवर्तकाल

2) Frequency

आवृत्ति

3) Amplitude

आयाम

4) Vibration

कंपन

Correct Answer: Time period

आवर्तकाल

आवर्तकाल

QID : 188 - What happens when an electric current is passed through a wire?

जब किसी तार से कोई विद्युत धारा प्रवाहित होती है, तो क्या होता है?

Options:

1) The wire gets cool

तार ठंडी हो जाती है

2) The wire gets hot

तार गरम हो जाती है

3) The wire gets cool first and then gets hot

तार पहले ठंडी तथा बाद में गरम हो जाती है

4) No change occurs

कोई परिवर्तन नहीं होता

Correct Answer: The wire gets hot

तार गरम हो जाती है

तार गरम हो जाती है

QID : 189 - The discarded file in the Recycle bin gets removed permanently when _____.

रीसाइकल बिन में छोड़े गए फाईल स्थायी रूप से तब हट जाते हैं जब _____।

Options:

1) the computer is shut down

कंप्यूटर बंद हो जाता है

2) it is emptied manually

यह मैनुअल रूप से खाली किया जाता है

3) the user is switched

उपयोगकर्ता बदलता है

4) data changes

डेटा परिवर्तन होता है

Correct Answer: it is emptied manually

यह मैनुअल रूप से खाली किया जाता है

डेटा परिवर्तन होता है

QID : 190 - A metal sulphate has the formula MSO_4 . A chloride of the same metal will have the formula _____.

एक धातु सल्फेट में सूत्र MSO_4 है। उसी धातु के क्लोराइड में सूत्र _____ होगा।

Options:

1) M_2Cl_3

2) M_2Cl

3) MCl_2

4) M_3C_3

Correct Answer: MCl_2

QID : 191 - The general name of the elements of 17th group are _____.

17-वीं समूह के तत्वों का सामान्य नाम _____ है।

Options:

1) Metals

धातु

2) Halogens

हैलोजन

3) Transition elements

संक्रमण तत्व

4) Noble gases

उत्कृष्ट गैस

Correct Answer: Halogens

हैलोजन

हैलोजन

QID : 192 - Which among the following is **NOT** classified under consumers?

निम्नलिखित में से कौन उपभोक्ता के अंतर्गत नहीं आता?

Options:

1) Herbivores

शाकाहारी

2) Carnivores

माँसाहारी

3) Omnivores

सर्वाहारी

4) Autotrophs

स्वपोषी

Correct Answer: Autotrophs

स्वपोषी

स्वपोषी

QID : 193 - Rashtriya Uchcharat Siksha Abhiyan was approved for reforming the state _____ education system.

राष्ट्रीय उच्चतर शिक्षा अभियान को राज्य की _____ शिक्षा

प्रणाली सुधारने के लिए स्वीकृति दी गई थी।

Options:

1) Primary

प्राथमिक

2) Lower

निम्नतर

3) Higher

उच्चतर

4) Middle

माध्यमिक

Correct Answer: Higher

उच्चतर

प्राथमिक

QID : 194 - Who built the first laser?

पहला लेजर किसके द्वारा बनाया गया था?

Options:

1) Theodore H. Maiman

थियोडोर एच. मेमन

2) Henry Great Head

हेनरी ग्रेट हेड

3) Benjamin Franklin

बेंजामिन फ्रैंकलिन

4) Issac Newton

आइजैक न्यूटन

Correct Answer: Theodore H. Maiman

थियोडोर एच. मेमन

आइजैक न्यूटन

QID : 195 - Who was the first Indian to play for any international football club?

किसी भी अंतरराष्ट्रीय फुटबॉल क्लब के लिए खेलने वाले पहले भारतीय कौन थे?

Options:

1) Michael Chopra

माइकल चोपड़ा

2) Sunil Jhingan

सुनिल जिंंगन

3) Bhaichung Bhutia

भाईचुंग भूटिया

4) Sandesh Jhingan

संदेश जिंंगन

Correct Answer: Bhaichung Bhutia

भाईचुंग भूटिया

सुनिल जिंंगन

QID : 196 - The Mahayana text belongs to which religion?

महायान पाठ कौन से सम्बंधित है?

Options:

1) Jainism

जैन धर्म

2) Sikhism

सिख धर्म

3) Buddhsim

बौद्ध धर्म

4) None of these

इनमें से कोई नहीं

Correct Answer: Buddhsim

बौद्ध धर्म

बौद्ध धर्म

QID : 197 - Which company has received Prime Minister's trophy for 'Best Performing Integrated Steel Plant' for the performance years 2014-15 and 2015-16? वर्ष 2014-15 तथा 2015-16 के प्रदर्शन के लिए प्रधानमंत्री की 'बेस्ट परफॉर्मिंग इंटीग्रेटेड स्टील प्लांट' की ट्रॉफी किस कंपनी को मिली है?

Options:

1) Gallant Steel Limited

गैलेंट स्टील लिमिटेड

2) Tata Steel Limited

टाटा स्टील लिमिटेड

3) Bharat Steel Limited

भारत स्टील लिमिटेड

4) Ambuja Steel Limited

अंबुजा स्टील लिमिटेड

Correct Answer: Tata Steel Limited

टाटा स्टील लिमिटेड

टाटा स्टील लिमिटेड

QID : 198 - Who is the author of the book named "My Experiment with Truth"?

"माई एक्सपेरिमेंट विद ट्रूथ" नामक पुस्तक के लेखक कौन हैं?

Options:

1) Harbans Singh

हरबंस सिंह

2) Satyajit Ray

सत्यजीत रे

3) Atal Bihari Vajpayee

अटल बिहारी वाजपेयी

4) M. K. Gandhi

एम. के. गांधी

Correct Answer: M. K. Gandhi

एम. के. गांधी

अटल बिहारी वाजपेयी

QID : 199 - Missile Technology Control Regime (MTCR)

was established in 1987 by _____ countries.

मिसाइल प्रौद्योगिकी नियंत्रण अधिनियम (एम.टी.सी.आर.)

1987 _____ देशों द्वारा स्थापित किया गया था।

Options:

1) G-20

2) G-4

3) NAM

नाम

4) G-7

Correct Answer: G-7

QID : 200 - The Indo-Lanka Economic and Technological cooperation Agreement is a _____ agreement.

भारत-लंका आर्थिक और तकनीकी सहयोग करार एक _____

अनुबंध है।

Options:

1) Trade

व्यापार

2) Cultural

सांस्कृतिक

3) Educational

शिक्षात्मक

4) Information technology

सूचना प्रौद्योगिकी

Correct Answer: Trade

व्यापार

सांस्कृतिक