



**Staff Selection Commission**  
(Government Of India)

**REGISTRATION NUMBER : 2201260731**

**CANDIDATES NAME: MOCKTIME.COM**

**EXAM NAME : SSC CHSL**

**EXAM DURATION : 01:00 Hrs**

**TOTAL MARKS : 200**

**TOTAL NO OF QUESTIONS : 100**

**QID : 1 -**

In the following question, select the number which can be placed at the sign of question mark (?) from the given alternatives.

निम्नलिखित प्रश्न में दिए गए विकल्पों में से प्रश्न चिह्न (?) के स्थान पर आने वाली संख्या को चुनिए।

10	8	5
1	2	6
5	3	4
55	30	?

**Options:**

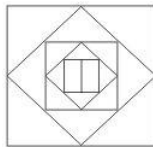
- 1) 33
- 2) 44
- 3) 66
- 4) 55

**Correct Answer: 44**

**QID : 2 -**

How many quadrilaterals are there in the given figure?

दी गई आकृति में कितने चतुर्भुज हैं?



**Options:**

- 1) 6
- 2) 7
- 3) 8
- 4) 9

**Correct Answer: 7**

**QID : 3 -**

A word is represented by only one set of numbers as given in any one of the alternatives. The sets of numbers given in the alternatives are represented by two classes of alphabets as shown in the given two matrices. The columns and rows of **Matrix-I** are numbered from 0 to 4 and that of **Matrix-II** are numbered from 5 to 9. A letter from these matrices can be represented first by its row and next by its column, for example, 'W' can be represented by 30, 95, etc., and 'P' can be represented by 13, 89, etc. Similarly, you have to identify the set for the word "CROWN".

एक शब्द केवल एक संख्या-समूह द्वारा दर्शाया गया है, जैसा कि विकल्पों में से किसी एक में दिया गया है। विकल्पों में दिए गए संख्या-समूह अक्षरों के दो वर्गों द्वारा दर्शाए गए हैं, जैसा कि दिए गए दो आव्यूहों में है। आव्यूह-I के स्तम्भ और पंक्ति की संख्या 0 से 4 है और आव्यूह-II की 5 से 9। इन आव्यूहों से एक अक्षर को पहले उसकी पंक्ति और बाद में स्तम्भ संख्या द्वारा दर्शाया जा सकता है। उदाहरण के लिए 'W' को 30, 95, आदि द्वारा दर्शाया जा सकता है तथा 'P' को 13, 89, आदि द्वारा दर्शाया जा सकता है। इसी तरह से आपको प्रश्न में दिए शब्द "CROWN" के लिए समूह को पहचानना है।

Matrix-I आव्यूह-I						Matrix-II आव्यूह-II					
	0	1	2	3	4		5	6	7	8	9
0	Z	M	V	B	C	5	R	N	P	Z	T
1	L	T	B	P	F	6	G	A	F	B	D
2	K	N	O	M	U	7	O	I	A	K	S
3	W	D	F	G	V	8	L	O	H	R	P
4	C	L	K	V	B	9	W	S	U	I	J

**Options:**

- 1) 40, 57, 76, 95, 56
- 2) 04, 55, 75, 32, 22
- 3) 04, 55, 86, 95, 21
- 4) 40, 88, 75, 31, 57

**Correct Answer: 04, 55, 86, 95, 21**

**QID : 4 -**

From the given answer figures, select the one in which the question figure is hidden/embedded.

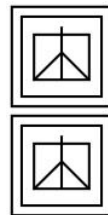
दी गई उत्तर आकृतियों में से उस उत्तर आकृति को चुनिए जिस में प्रश्न आकृति निहित है।



**Options:**

- 1)
- 2)
- 3)
- 4)

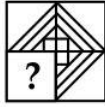
**Correct Answer:**



**QID : 5 -**

Which answer figure will complete the pattern in the question figure?

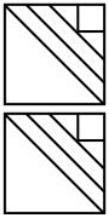
कौन सी उत्तर आकृति प्रश्न आकृति के प्रतिरूप को पूरा करेगी?



Options:

- 1)
- 2)
- 3)
- 4)

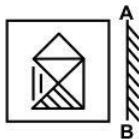
Correct Answer:



QID : 6 -

If a mirror is placed on the line AB, then which of the answer figures is the right image of the given figure?

यदि एक दर्पण को AB रेखा पर रखा जाए, तो दी गई उत्तर आकृतियों में से कौन सी आकृति प्रश्न आकृति की सही प्रतिबिम्ब होगी?



Options:

- 1)
- 2)
- 3)



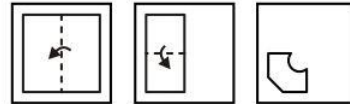
4) Correct Answer:



QID : 7 -

A piece of paper is folded and cut as shown below in the question figures. From the given answer figures, indicate how it will appear when opened?

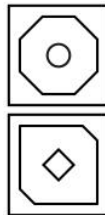
नीचे के प्रश्न आकृतियों में दिखाए अनुसार कागज को मोड़कर काटने तथा खोलने के बाद वह किस उत्तर आकृति जैसा दिखाई देगा?



Options:

- 1)
- 2)
- 3)
- 4)

Correct Answer:



QID : 8 - If 'L' means 'x', 'N' means '+', 'O' means '÷' and 'P' means '-', then

15 L 4 N 6 O 3 = ?

यदि 'L' का अर्थ 'x', 'N' का अर्थ '+', 'O' का अर्थ '÷' तथा 'P' का अर्थ '-' हो, तो

15 L 4 N 6 O 3 = ?

Options:

- 1) 32
- 2) 74
- 3) 50
- 4) 62

Correct Answer: 62

**QID : 9** - If  $9 \# 4 \# 1 = 419$  and  $9 \# 1 \# 6 = 169$ , then

$5 \# 3 \# 1 = ?$

यदि  $9 \# 4 \# 1 = 419$  तथा  $9 \# 1 \# 6 = 169$  हो, तो

$5 \# 3 \# 1 = ?$

**Options:**

- 1) 315
- 2) 153
- 3) 351
- 4) 135

**Correct Answer:** 315

**QID : 10** - Arrange the given words in the sequence in which they occur in the dictionary.

1. Fight
2. Fifth
3. Fifty
4. Frank
5. Faith

निम्नलिखित शब्दों को शब्दकोश में आने वाले क्रम के अनुसार लिखें।

1. Fight
2. Fifth
3. Fifty
4. Frank
5. Faith

**Options:**

- 1) 54123
- 2) 53124
- 3) 52314
- 4) 54321

**Correct Answer:** 52314

**QID : 11** - In the following question, select the missing number from the given series.

**11, 12, 16, 25, 41, ?**

निम्नलिखित प्रश्न में दिए गए विकल्पों में से लुप्त अंक ज्ञात कीजिए।

**11, 12, 16, 25, 41, ?**

**Options:**

- 1) 61
- 2) 66
- 3) 64
- 4) 68

**Correct Answer:** 66

**QID : 12** - A series is given with one term missing. Select the correct alternative from the given ones that will complete the series.

**AC, DF, GI, ?**

एक अनुक्रम दिया गया है, जिसमें से एक पद लुप्त है। दिए गए विकल्पों में से वह सही विकल्प चुनिए, जो अनुक्रम को पूरा करे।

**AC, DF, GI, ?**

**Options:**

- 1) JK
- 2) JL
- 3) JM
- 4) KL

**Correct Answer:** JL

**QID : 13** - In the following question, select the odd word from the given alternatives.

निम्नलिखित प्रश्न में दिए गए विकल्पों में से विषम शब्द को चुनिए।

**Options:**

- 1) Arrow  
तीर
- 2) Knife  
चाकू
- 3) Gun  
बंदूक
- 4) Soldier  
सैनिक

**Correct Answer:** Soldier

सैनिक

सैनिक

**QID : 14** - In the following question, select the odd number pair from the given alternatives.

निम्नलिखित प्रश्न में दिए गए विकल्पों में से विषम संख्या युग्म को चुनिए।

**Options:**

- 1) 13 - 172
- 2) 15 - 228
- 3) 16 - 259
- 4) 17 - 282

**Correct Answer:** 17 - 282

**QID : 15** - In the following question, select the odd letters from the given alternatives.

निम्नलिखित प्रश्न में दिए गए विकल्पों में से विषम अक्षरों को चुनिए।

**Options:**

- 1) ACEG
- 2) KMOQ
- 3) SUWY
- 4) GILN

**Correct Answer:** GILN

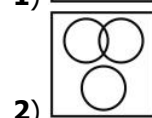
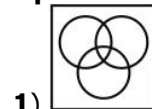
**QID : 16** - Identify the diagram that best represents the relationship among the given classes.

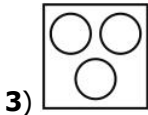
**Pencil, Lead, Ink**

वह आरेख चुनिए जो नीचे दिए गए वर्गों के बीच के संबंध का सही निरूपण करता है।

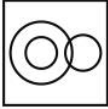
**पेंसिल, सीसा, स्याही**

**Options:**



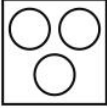
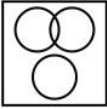


3)



4)

**Correct Answer:**



**QID : 17** - In the following question, select the related word from the given alternatives.

**Force : Newton :: Area : ?**

निम्नलिखित प्रश्न में दिए गए विकल्पों में से संबंधित शब्द को चुनिए।

**बल : न्यूटन :: क्षेत्रफल : ?**

**Options:**

- 1) Hertz  
हर्ट्ज़
- 2) Volume  
आयतन
- 3) Metre  
मीटर
- 4) Hectare  
हेक्टेयर

**Correct Answer:** Hectare

हेक्टेयर

हर्ट्ज़

**QID : 18** - In the following question, select the related number from the given alternatives.

**29 : 59 :: 76 : ?**

निम्नलिखित प्रश्न में दिए गए विकल्पों में से संबंधित संख्या को चुनिए।

**29 : 59 :: 76 : ?**

**Options:**

- 1) 147
- 2) 151
- 3) 153
- 4) 149

**Correct Answer:** 153

**QID : 19** - In the following question, select the related letters from the given alternatives.

**SN : VR :: AJ : ?**

निम्नलिखित प्रश्न में दिए गए विकल्पों में से संबंधित अक्षरों को चुनिए।

**SN : VR :: AJ : ?**

**Options:**

- 1) CN
- 2) DN
- 3) CM

4) DM

**Correct Answer:** DN

**QID : 20** - In the following question, select the word which cannot be formed using the letters of the given word.

**BROADCASTING**

निम्नलिखित विकल्पों में से वह शब्द चुनिए जो दिए गए शब्द के अक्षरों का प्रयोग करके नहीं बनाया जा सकता।

**BROADCASTING**

**Options:**

- 1) STAR
- 2) CAPS
- 3) GRAND
- 4) BROAD

**Correct Answer:** CAPS

**QID : 21** - Ankit is 5 times as heavy as Suraj. Suraj is one third the weight of Imran. Imran is 4/3 times as heavy as Shrey. Shrey is half the weight of Gagan. Who is the lightest?

अंकित, सूरज से 5 गुना भारी है। सूरज, इमरान के भार का एक तिहाई है। इमरान, श्रेय से 4/3 गुना भारी है। श्रेय, गगन के भार का आधा है। सबसे हल्का कौन है?

**Options:**

- 1) Imran  
इमरान
- 2) Shrey  
श्रेय
- 3) Suraj  
सूरज
- 4) Suraj or Shrey  
सूरज अथवा श्रेय

**Correct Answer:** Suraj

सूरज

श्रेय

**QID : 22** - The ratio of present ages of R and S is 5 : 7, 5 years ago R was 30 years old. What was the age (in years) of S 10 years ago?

R तथा S की वर्तमान आयु का अनुपात 5 : 7 है, 5 वर्ष पूर्व R की आयु 30 वर्ष थी। 10 वर्ष पहले S की आयु (वर्षों में) क्या थी?

**Options:**

- 1) 39
- 2) 32
- 3) 49
- 4) 42

**Correct Answer:** 39

**QID : 23** - In the following question below are given some statements followed by some conclusions. Taking the given statements to be true even if they seem to be at variance from commonly known facts, read all the conclusions and then decide which of the given conclusion logically follows the given statements.

**Statements:**

I. All oranges are sweet.

II. Some sweet are round.

**Conclusions:**

I. Some oranges are round.

II. Some oranges are not round.

नीचे दिए गए प्रश्न में कुछ कथन और उनके बाद उन कथनों पर आधारित कुछ निष्कर्ष दिए गए हैं, हालांकि उनमें सामान्य ज्ञात तथ्यों से भिन्नता हो सकती है। सभी निष्कर्ष पढ़ें और फिर निर्धारित करें कि दिए गए कौन से निष्कर्ष, दिए गए कथनों के आधार पर युक्तिसंगत हैं।

**कथन:**

I. सभी संतरे मीठे हैं।

II. कुछ मीठे गोल हैं।

**निष्कर्ष:**

I. कुछ संतरे गोल हैं।

II. कुछ संतरे गोल नहीं हैं।

**Options:**

1) Only conclusion (I) follows.

केवल निष्कर्ष (I) सही है।

2) Only conclusion (II) follows.

केवल निष्कर्ष (II) सही है।

3) Both conclusion follow.

दोनों ही निष्कर्ष सही हैं।

4) Neither conclusion (I) nor conclusion (II) follows.

न तो निष्कर्ष (I) न ही निष्कर्ष (II) सही है।

**Correct Answer:** Neither conclusion (I) nor conclusion (II) follows.

न तो निष्कर्ष (I) न ही निष्कर्ष (II) सही है।

दोनों ही निष्कर्ष सही हैं।

**QID : 24** - In a certain code language, "ARMS" is written as "BQNR". How is "BELT" written in that code language?

एक विशिष्ट कोड भाषा में, "ARMS" को "BQNR" लिखा जाता है। इस कोड भाषा में "BELT" को किस प्रकार लिखा जाएगा?

**Options:**

1) CDMS

2) CDKS

3) AFMS

4) CFMU

**Correct Answer:** CDMS

**QID : 25** - In a certain code language, "AGO" is written as "26" and "SUN" is written as "57". How is "CRY" written in that code language?

एक विशिष्ट कोड भाषा में, "AGO" को "26" तथा "SUN" को "57" लिखा जाता है। इस कोड भाषा में "CRY" को किस प्रकार लिखा जाएगा?

**Options:**

1) 47

2) 48

3) 49

4) 50

**Correct Answer:** 49

**QID : 26** - A number when divided by 36 leaves remainder 25. What is the remainder when the same number is divided by 6?

एक संख्या को जब 36 से विभाजित किया जाता है, तो शेषफल 25 प्राप्त होता है। उसी संख्या को जब 6 से विभाजित किया जाए, तो शेषफल क्या होगा?

**Options:**

1) 0

2) 1

3) 2

4) 4

**Correct Answer:** 1

**QID : 27** - If 2785P3 is divisible by 11, then what will be the digit in place of P?

यदि 2785P3, 11 से विभाजित है, तो P के स्थान पर कौन सा अंक आएगा?

**Options:**

1) 2

2) 5

3) 8

4) 6

**Correct Answer:** 5

**QID : 28** -

What is the value of  $\sqrt[3]{340 + \sqrt{9}}$  ?

$\sqrt[3]{340 + \sqrt{9}}$  का मान क्या है?

**Options:**

1) 9

2) 7

3) 5

4) 19

**Correct Answer:** 7

**QID : 29** - What is the least number multiplied to 200, so that number obtained becomes multiple of 60?

200 से ऐसी कौन सी सबसे छोटी संख्या गुणा की जाए, ताकि प्राप्त संख्या 600 की गुणज हो जाए?

**Options:**

1) 5

2) 15

3) 3

4) 8

**Correct Answer:** 3

**QID : 30** - What is the value of  $26 \times 34$ ?

$26 \times 34$  का मान क्या है?

**Options:**

1) 904

2) 896

3) 908

4) 884

**Correct Answer:** 884

**QID : 31** - How many zeroes are there in product  $4^6 \times 15^{10}$ ?

$4^6 \times 15^{10}$  के गुणनफल में कितने शून्य हैं?

**Options:**

- 1) 10
- 2) 12
- 3) 11
- 4) 6

**Correct Answer:** 10

**QID : 32** - A can do a piece of work in 20 days. He worked for 5 days and B finished the remaining work in 42 days. B alone can do the whole work in how many days?

A किसी कार्य को 20 दिनों में कर सकता है। उसने 5 दिन कार्य किया तथा शेष काम B ने 42 दिनों में पूरा किया। B अकेला पूरे कार्य को कितने दिनों में पूरा कर सकता है?

**Options:**

- 1) 56
- 2) 52
- 3) 46
- 4) 64

**Correct Answer:** 56

**QID : 33** - Three taps A, B and C can fill an tank in 40, 48 and 60 hours respectively. How long (in hours) would the three taps take to fill the tank if all of them are opened together?

तीन नल A, B तथा C किसी टंकी को क्रमशः 40, 48 तथा 60 घंटे में भर सकते हैं। यदि तीनों नल एक साथ खोल दिए जाते हैं, तो सभी टंकी को भरने में कितना समय (घंटों में) लेंगे?

**Options:**

- 1) 12
- 2) 16
- 3) 10
- 4) 8

**Correct Answer:** 16

**QID : 34** - If the ratio of edges of two cubes is 4 : 9, then what is the ratio of the volume of the two cubes? यदि दो घनों की भुजाओं का अनुपात 4 : 9 है, तो दोनों घनों के आयतन का अनुपात क्या है?

**Options:**

- 1) 64 : 729
- 2) 16 : 81
- 3) 4 : 9
- 4) 2 : 3

**Correct Answer:** 64 : 729

**QID : 35** - The marked price of a chair is Rs 900 and a discount of 10% is given. What is the selling price (in Rs)?

एक कुर्सी का अंकित मूल्य 900 रु है तथा उस पर 10% की छूट दी जाती है। विक्रय मूल्य (रु में) क्या है?

**Options:**

- 1) 810
- 2) 890
- 3) 900
- 4) 870

**Correct Answer:** 810

**QID : 36** - The marked price of an article is Rs 550 and a customer pays Rs 495 for it. What is the discount percentage?

एक वस्तु का अंकित मूल्य 550 रु है तथा एक ग्राहक इसके लिए 495 रु देता है। छूट प्रतिशत क्या है?

**Options:**

- 1) 10
- 2) 12
- 3) 15
- 4) 8

**Correct Answer:** 10

**QID : 37** - If  $(2/3)P = (4/5)Q = (3/2)R$ , then what is P : Q : R?

यदि  $(2/3)P = (4/5)Q = (3/2)R$  हो, तो P : Q : R क्या है?

**Options:**

- 1) 18 : 15 : 8
- 2) 15 : 8 : 18
- 3) 2 : 4 : 3
- 4) 3 : 5 : 2

**Correct Answer:** 18 : 15 : 8

**QID : 38** - If  $3A = 4B = 12C$ , then what is A : B : C?

यदि  $3A = 4B = 12C$  हो, तो A : B : C क्या है?

**Options:**

- 1) 4 : 3 : 1
- 2) 4 : 3 : 2
- 3) 3 : 4 : 12
- 4) 12 : 4 : 3

**Correct Answer:** 4 : 3 : 1

**QID : 39** - The mean of 20 numbers is 35. If four numbers 24, 20, 21 and 27 are removed, then what will be the mean of remaining numbers?

20 संख्याओं का औसत 35 है। यदि चार संख्याओं 24, 20, 21 तथा 27 को हटा दिया जाए, तो शेष संख्याओं का औसत क्या होगा?

**Options:**

- 1) 38
- 2) 40
- 3) 33
- 4) 37

**Correct Answer:** 38

**QID : 40** - An article is sold at 5% profit instead of 8% loss, the man gains Rs 260 more. What is the cost price (in Rs) of the article?

एक वस्तु को 8% हानि के बदले 5% लाभ पर बेचने पर एक व्यक्ति को 260 रु अधिक प्राप्त होते हैं। वस्तु का क्रय मूल्य (रु में) क्या है?

**Options:**

- 1) 1800
- 2) 2000
- 3) 1500
- 4) 1400

**Correct Answer:** 2000

**QID : 41** - If the profit is 10%, then what will be the ratio of cost price to selling price respectively?

यदि लाभ 10% है, तो क्रमशः क्रय मूल्य तथा विक्रय मूल्य का अनुपात क्या होगा?

**Options:**

- 1) 10 : 9
- 2) 10 : 11
- 3) 10 : 13
- 4) 4 : 5

**Correct Answer:** 10 : 11

**QID : 42** - If the price of a commodity is decreased by 20% and its consumption is increased by 30%, then what will be the percentage increase or decrease in the expenditure of the commodity?

एक वस्तु की कीमत 20% कम हो जाती है तथा उसकी खपत 30% बढ़ जाती है, तो वस्तु पर खर्च में कितने प्रतिशत की वृद्धि या कमी होगी?

**Options:**

- 1) 10% decrease  
10% की कमी
- 2) 10% increase  
10% की वृद्धि
- 3) 4% increase  
4% की वृद्धि
- 4) 4% decrease  
4% की कमी

**Correct Answer:** 4% increase

4% की वृद्धि

4% की वृद्धि

**QID : 43** - If the price of a commodity is decreased by 30% and its consumption is increased by 30%, then what will be the percentage increase or decrease in the expenditure of the commodity?

एक वस्तु की कीमत 30% कम हो जाती है तथा उसकी खपत 30% बढ़ जाती है, तो वस्तु पर खर्च में कितने प्रतिशत की वृद्धि या कमी होगी?

**Options:**

- 1) 9% decrease  
9% की कमी
- 2) 9% increase  
9% की वृद्धि
- 3) 11% increase  
11% की वृद्धि
- 4) 11% decrease  
11% की कमी

**Correct Answer:** 9% decrease

9% की कमी

9% की कमी

**QID : 44** - Speed of a boat along the current and against the current are 16 km/hr and 12 km/hr respectively. What is the speed of boat (in km/hr) in still water?

एक नाव की गति धारा के अनुकूल तथा धारा के प्रतिकूल क्रमशः 16 कि.मी./घंटा तथा 12 कि.मी./घंटा है। शांत जल में नाव की गति (कि.मी./घंटा में) क्या है?

**Options:**

- 1) 2
- 2) 7
- 3) 14
- 4) 12

**Correct Answer:** 14

**QID : 45** - A man travels 3 hours of the journey at a speed of 100 km/hr and remaining 2 hours of the journey at 120 km/hr. What is the average speed (in km/hr) of the entire journey?

एक व्यक्ति यात्रा के 3 घंटे, 100 कि.मी./घंटा की गति से तथा शेष 2 घंटे, 120 कि.मी./घंटा की गति से तय करता है। सम्पूर्ण यात्रा की औसत गति (कि.मी./घंटा में) क्या है?

**Options:**

- 1) 105
- 2) 110
- 3) 108
- 4) 107

**Correct Answer:** 108

**QID : 46** - An amount invested at simple interest gives Rs 4200 interest at rate of 15% in 4 years. What is the principal (in Rs)?

एक धनराशि साधारण ब्याज पर निवेश की जाती है जोकि 4 वर्ष में 15% की दर से 4200 रु का ब्याज देती है। मूलधन (रु में) क्या है?

**Options:**

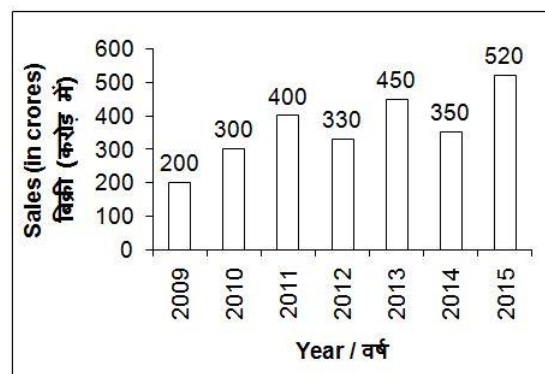
- 1) 7000
- 2) 6000
- 3) 8000
- 4) 9000

**Correct Answer:** 7000

**QID : 47** -

The bar chart given below shows the sales (in crores) of company P from years 2009 to 2015.

नीचे दिए गए दण्ड चित्र में वर्ष 2009 से 2015 तक कंपनी P की बिक्री (करोड़ में) को दर्शाया गया है।



What is the percentage change in sales from year 2010 to 2014?

वर्ष 2010 से वर्ष 2014 तक बिक्री में कितना प्रतिशत परिवर्तन हुआ है?

**Options:**

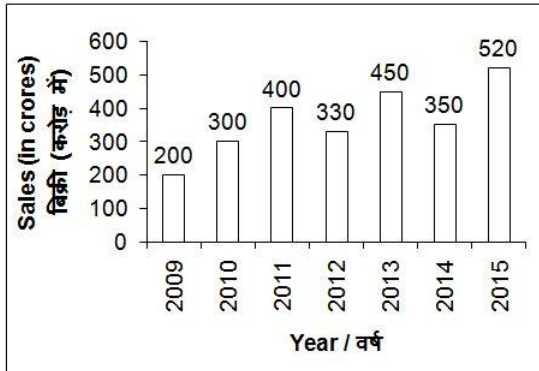
- 1) 75
- 2) 175
- 3) 16.67
- 4) 25

**Correct Answer:** 16.67

**QID : 48 -**

The bar chart given below shows the sales (in crores) of company P from years 2009 to 2015.

नीचे दिए गए दण्ड चित्र में वर्ष 2009 से 2015 तक कंपनी P की बिक्री (करोड़ में) को दर्शाया गया है।



What is the average sale (in crores) from year 2009 to 2013?

वर्ष 2009 से वर्ष 2013 तक औसत बिक्री (करोड़ में) क्या है?

**Options:**

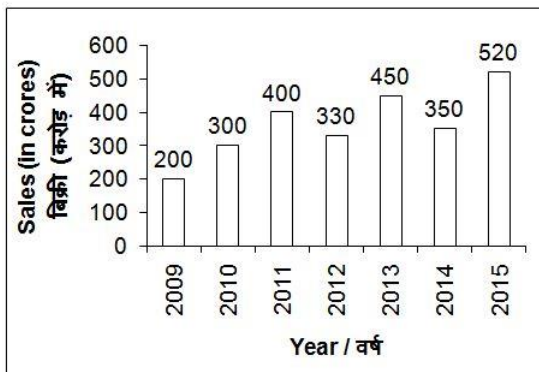
- 1) 340
- 2) 336
- 3) 360
- 4) 350

**Correct Answer:** 336

**QID : 49 -**

The bar chart given below shows the sales (in crores) of company P from years 2009 to 2015.

नीचे दिए गए दण्ड चित्र में वर्ष 2009 से 2015 तक कंपनी P की बिक्री (करोड़ में) को दर्शाया गया है।



In how many years, the sale was more than that in year 2012?

कितने वर्षों में, बिक्री वर्ष 2012 से अधिक थी?

**Options:**

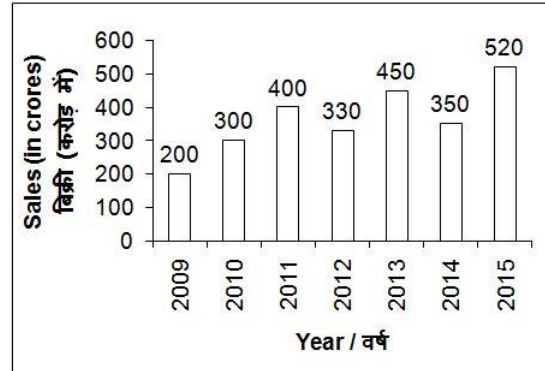
- 1) 2
- 2) 3
- 3) 4
- 4) 5

**Correct Answer:** 4

**QID : 50 -**

The bar chart given below shows the sales (in crores) of company P from years 2009 to 2015.

नीचे दिए गए दण्ड चित्र में वर्ष 2009 से 2015 तक कंपनी P की बिक्री (करोड़ में) को दर्शाया गया है।



What is the percentage change in the sale from year 2009 to 2013?

वर्ष 2009 से वर्ष 2013 तक बिक्री में कितना प्रतिशत परिवर्तन हुआ है?

**Options:**

- 1) 225
- 2) 150
- 3) 100
- 4) 125

**Correct Answer:** 125

**QID : 51 -** In the following question, some part of the sentence may have errors. Find out which part of the sentence has an error and select the appropriate option. If a sentence is free from error, select 'No Error'.

These are super-interesting activities (1)/ keep your little one engaged, (2)/ thrilled and off TV. (3)/ No Error (4)

**Options:**

- 1) 1
- 2) 2
- 3) 3
- 4) 4

**Correct Answer:** 2

**QID : 52 -** In the following question, some part of the sentence may have errors. Find out which part of the sentence has an error and select the appropriate option. If a sentence is free from error, select 'No Error'.

Since they got something (1)/ different each month, (2)/ they keep coming back to it. (3)/ No Error (4)

**Options:**

- 1) 1
- 2) 2
- 3) 3
- 4) 4

**Correct Answer:** 1



**QID : 53** - In the following question, the sentence given with blank to be filled in with an appropriate word. Select the correct alternative out of the four and indicate it by selecting the appropriate option.

**They look like \_\_\_\_\_.**

**Options:**

- 1) our
- 2) ours
- 3) us
- 4) we

**Correct Answer:** us

**QID : 54** - In the following question, the sentence given with blank to be filled in with an appropriate word. Select the correct alternative out of the four and indicate it by selecting the appropriate option.

**Both Sushant \_\_\_\_\_ Rohit are handsome.**

**Options:**

- 1) as well as
- 2) and
- 3) or
- 4) neither

**Correct Answer:** and

**QID : 55** - In the following question, out of the given four alternatives, select the one which best expresses the meaning of the given word.

**Subside**

**Options:**

- 1) Descend
- 2) Enlarge
- 3) Prolong
- 4) Ascend

**Correct Answer:** Descend

**QID : 56** - In the following question, out of the given four alternatives, select the one which best expresses the meaning of the given word.

**Invade**

**Options:**

- 1) Abuse
- 2) Ravage
- 3) Trash
- 4) Shred

**Correct Answer:** Ravage

**QID : 57** - In the following question, out of the given four alternatives, select the one which best expresses the meaning of the given word.

**Steady**

**Options:**

- 1) Vulnerable
- 2) Flexible
- 3) Abiding
- 4) Wobbly

**Correct Answer:** Abiding

**QID : 58** - In the following question, out of the given four alternatives, select the one which is opposite in meaning of the given word.

**Immaculate**

**Options:**

- 1) Clean
- 2) Bright
- 3) Pure
- 4) Foul

**Correct Answer:** Foul

**QID : 59** - In the following question, out of the given four alternatives, select the one which is opposite in meaning of the given word.

**Impute**

**Options:**

- 1) Defend
- 2) Accuse
- 3) Assign
- 4) Blame

**Correct Answer:** Defend

**QID : 60** - In the following question, out of the given four alternatives, select the one which is opposite in meaning of the given word.

**Forsake**

**Options:**

- 1) Desert
- 2) Forgo
- 3) Give up
- 4) Revert

**Correct Answer:** Revert

**QID : 61** - In the following question, out of the four given alternatives, select the alternative which best expresses the meaning of the Idiom/Phrase.

**To doctor the accounts**

**Options:**

- 1) Very costly treatment
- 2) To manipulate the accounts
- 3) High class treatment
- 4) Auditing of accounts

**Correct Answer:** To manipulate the accounts

**QID : 62** - In the following question, out of the four given alternatives, select the alternative which best expresses the meaning of the Idiom/Phrase.

**On the brink of disaster**

**Options:**

- 1) Something still in hand
- 2) Natural destruction
- 3) To die
- 4) Very close to failure

**Correct Answer:** Very close to failure

**QID : 63** - Improve the bracketed part of the sentence. Nothing (**shows on**) the ineptness of the state more than unpreparedness in the face of predictable events.

**Options:**

- 1) shows off
- 2) shows in
- 3) shows up
- 4) No improvement

**Correct Answer:** shows up

**QID : 64** - Improve the bracketed part of the sentence. Prohibitory orders (**will not**) enforced, with the government evidently viewing the looming protests as

pressure relief valves instead of as trigger points for violence.

**Options:**

- 1) were not
- 2) willingly
- 3) were be
- 4) No improvement

**Correct Answer:** were not

**QID : 65** - In the following question, out of the four given alternatives, select the alternative which is the best substitute of the phrase.

**A place where arms are kept.**

**Options:**

- 1) Auditory
- 2) Armoury
- 3) Apiary
- 4) Actuary

**Correct Answer:** Armoury

**QID : 66** - In the following question, out of the four given alternatives, select the alternative which is the best substitute of the phrase.

**A medical examination of a dead body.**

**Options:**

- 1) Premortem
- 2) Postmortem
- 3) Prenatal
- 4) Postnatal

**Correct Answer:** Postmortem

**QID : 67** - In the following question, a word has been written in four different ways out of which only one is correctly spelt. Select the correctly spelt word.

**Options:**

- 1) Eighth
- 2) Eaight
- 3) Aight
- 4) Eihght

**Correct Answer:** Eighth

**QID : 68** - In the following question, a word has been written in four different ways out of which only one is correctly spelt. Select the correctly spelt word.

**Options:**

- 1) Grammar
- 2) Grammer
- 3) Grammured
- 4) Grammor

**Correct Answer:** Grammar

**QID : 69** - Rearrange the parts of the sentence in correct order.

If you shun responsibility

**P:** accept slavery in

**Q:** some way or other

**R:** you have to

**Options:**

- 1) PQR
- 2) RQP
- 3) QPR
- 4) RPQ

**Correct Answer:** RPQ

**QID : 70** - Rearrange the parts of the sentence in correct order.

Digital India programme

**P:** government of India to make this

**Q:** is a big step taken by the

**R:** country a digitally empowered country

**Options:**

- 1) QPR
- 2) RPQ
- 3) PQR
- 4) RQP

**Correct Answer:** QPR

**QID : 71** - In the following passage some of the words have been left out. Read the passage carefully and select the correct answer for the given blank out of the four alternatives.

Today, when India is \_\_\_\_\_, these officials representing all government departments are very close to the most corrupt businessmen who are too \_\_\_\_\_ to let any opportunity of amassing profits \_\_\_\_\_. This collusion broadens the base of the vicious circle and corruption spreads 'like wild fire to \_\_\_\_\_ the entire society. The political and social guardians depend only too much on the richer communities and they look indulgently on while these communities hold the entire society and the government to \_\_\_\_\_.

**Today, when India is \_\_\_\_\_,**

**Options:**

- 1) free
- 2) bound
- 3) restricted
- 4) chained

**Correct Answer:** free

**QID : 72** - In the following passage some of the words have been left out. Read the passage carefully and select the correct answer for the given blank out of the four alternatives.

Today, when India is \_\_\_\_\_, these officials representing all government departments are very close to the most corrupt businessmen who are too \_\_\_\_\_ to let any opportunity of amassing profits \_\_\_\_\_. This collusion broadens the base of the vicious circle and corruption spreads 'like wild fire to \_\_\_\_\_ the entire society. The political and social guardians depend only too much on the richer communities and they look indulgently on while these communities hold the entire society and the government to \_\_\_\_\_.

**who are too \_\_\_\_\_ to let any opportunity**

**Options:**

- 1) ethical
- 2) unscrupulous
- 3) principal
- 4) trustworthy

**Correct Answer:** unscrupulous

**QID : 73** - In the following passage some of the words have been left out. Read the passage carefully and select the correct answer for the given blank out of the four alternatives.

Today, when India is \_\_\_\_\_, these officials representing all government departments are very close to the most corrupt businessmen who are too \_\_\_\_\_ to let any opportunity of amassing profits \_\_\_\_\_. This collusion broadens the base of the vicious circle and corruption spreads 'like wild fire to \_\_\_\_\_ the entire society. The political and social guardians depend only too much on the richer communities and they look indulgently on while these communities hold the entire society and the government to \_\_\_\_\_.

**of amassing profits \_\_\_\_\_.**

**Options:**

- 1) inflates
- 2) rises
- 3) slip
- 4) surges

**Correct Answer:** slip

**QID : 74** - In the following passage some of the words have been left out. Read the passage carefully and select the correct answer for the given blank out of the four alternatives.

Today, when India is \_\_\_\_\_, these officials representing all government departments are very close to the most corrupt businessmen who are too \_\_\_\_\_ to let any opportunity of amassing profits \_\_\_\_\_. This collusion broadens the base of the vicious circle and corruption spreads 'like wild fire to \_\_\_\_\_ the entire society. The political and social guardians depend only too much on the richer communities and they look indulgently on while these communities hold the entire society and the government to \_\_\_\_\_.

**'like wild fire to \_\_\_\_\_ the entire society.**

**Options:**

- 1) complete
- 2) finish
- 3) engulf
- 4) deteriorate

**Correct Answer:** engulf

**QID : 75** - In the following passage some of the words have been left out. Read the passage carefully and select the correct answer for the given blank out of the four alternatives.

Today, when India is \_\_\_\_\_, these officials representing all government departments are very close to the most corrupt businessmen who are too \_\_\_\_\_ to let any opportunity of amassing profits \_\_\_\_\_. This collusion broadens the base of the vicious circle and corruption spreads 'like wild fire to \_\_\_\_\_ the entire society. The political and social guardians depend only too much on the richer communities and they look indulgently on while these communities hold the entire society and the government to \_\_\_\_\_.

**society and the government to \_\_\_\_\_.**

**Options:**

- 1) restrain
- 2) detain
- 3) restrict
- 4) ransom

**Correct Answer:** ransom

**QID : 76** - Average income is also called \_\_\_\_\_.

औसत आय को \_\_\_\_\_ भी कहा जाता है।

**Options:**

- 1) Net National Income  
शुद्ध राष्ट्रीय आय
- 2) Net National Product  
निवल (नेट) राष्ट्रीय उत्पाद
- 3) Per-capita income  
प्रति व्यक्ति आय
- 4) Total income  
कुल आय

**Correct Answer:** Per-capita income

प्रति व्यक्ति आय

प्रति व्यक्ति आय

**QID : 77** - Which among the following constitute money in the modern economy?

निम्नलिखित में से कौन आधुनिक अर्थव्यवस्था में मुद्रा के घटक हैं?

**Options:**

- 1) Only currency – paper notes and coins  
केवल मुद्रा - कागज़ के नोट तथा सिक्कों
- 2) Only demand deposits  
केवल डिमांड डिपोजिट
- 3) Both currency – paper notes and coins and demand deposits  
मुद्रा - कागज़ के नोट तथा सिक्कों एवं डिमांड डिपोजिट दोनों
- 4) None of these  
इनमें से कोई नहीं

**Correct Answer:** Both currency – paper notes and coins and demand deposits

मुद्रा - कागज़ के नोट तथा सिक्कों एवं डिमांड डिपोजिट दोनों

**QID : 78** - What is the amount reduced by a token cut in case of a financial bill (in Rs)?

वित्तीय बिल के मामले में टोकन कटौती द्वारा कम की जाने वाली राशि (रुपये में) क्या है?

**Options:**

- 1) 1
- 2) 100
- 3) 150
- 4) 1000

**Correct Answer:** 100

**QID : 79** - A \_\_\_\_\_ government is a better government because it is a more accountable form of government.

एक \_\_\_\_\_ शासन पद्धति दूसरो से बेहतर है, क्योंकि यह शासन का अधिक ज़वाबदेही वाला स्वरूप है।

**Options:**

- 1) Democratic  
लोकतांत्रिक
- 2) Monarchic  
राजतांत्रिक
- 3) Aristocratic  
कुलीनतांत्रिक
- 4) Autocratic

एकतांत्रिक

**Correct Answer:** Democratic

लोकतांत्रिक

लोकतांत्रिक

**QID : 80** - In how many Varnas people were divided in Ancient India?

प्राचीन भारत में लोगों को कितने वर्णों में विभाजित किया था?

**Options:**

1) 2

2) 6

3) 4

4) 5

**Correct Answer:** 4

**QID : 81** - The government complex in New Delhi consisted of a two mile avenue which is present day Rajpath, was known as \_\_\_\_\_.

नई दिल्ली स्थित सरकारी परिसर में दो मील चौड़ा रास्ता जो वर्तमान में राजपथ है, \_\_\_\_\_ नाम से जाना जाता था।

**Options:**

1) Durbar

दरबार

2) Civil lines

सिविल लाईन

3) Kingsway

किंग्सवे

4) Bylane

बाइलेन

**Correct Answer:** Kingsway

किंग्सवे

सिविल लाईन

**QID : 82** - The movement of the Earth around the Sun in a fixed path or orbit is called \_\_\_\_\_.

सूर्य के चारों ओर एक स्थिर कक्ष में पृथ्वी की गति को \_\_\_\_\_ कहते हैं।

**Options:**

1) Revolution

परिक्रमण

2) Rotation

घूर्णन

3) Translation

अंतरण

4) Illumination

प्रदीप्ति

**Correct Answer:** Revolution

परिक्रमण

परिक्रमण

**QID : 83** - What is the duration of hot weather season (summer) in India?

भारत में गर्म मौसम (गर्मी) की अवधि क्या है?

**Options:**

1) March to May

मार्च से मई

2) October and November

अक्टूबर से नवम्बर

3) December to February

दिसम्बर से फरवरी

4) June to September

जून से सितम्बर

**Correct Answer:** March to May

मार्च से मई

जून से सितम्बर

**QID : 84** - About 70% of our energy requirements should be met by \_\_\_\_\_.

ऊर्जा, जरूरतों का 70% \_\_\_\_\_ द्वारा पूरा किया जाना चाहिए।

**Options:**

1) Amino acids

अमीनो अम्ल

2) Fats

वसा

3) Lipids

लिपिड

4) Carbohydrates

कार्बोहाइड्रेट्स

**Correct Answer:** Carbohydrates

कार्बोहाइड्रेट्स

**QID : 85** - Gastric digestion takes place efficiently in \_\_\_\_\_.

उठरीन पाचन प्रभावी ढंग से \_\_\_\_\_ होता है।

**Options:**

1) acidic medium

अम्लीय माध्यम में

2) basic medium

क्षारीय माध्यम में

3) neutral medium

उदासीन माध्यम में

4) None of these

इनमें से कोई नहीं

**Correct Answer:** acidic medium

अम्लीय माध्यम में

**QID : 86** - Rh factor is named after a species of \_\_\_\_\_.

Rh फैक्टर का नाम एक \_\_\_\_\_ की जाति पर रखा गया है।

**Options:**

1) Rat

चूहा

2) Monkey

बंदर

3) Whale

व्हेल

4) Snake

साँप

**Correct Answer:** Monkey

बंदर  
व्हेल

**QID : 87** - The meter that measures the speed of the vehicle is called \_\_\_\_\_.

मीटर जो वाहन की चाल मापता है, \_\_\_\_\_ कहलाता है।

**Options:**

1) Speedometer

चालमापी

2) Odometer

पथमापी

3) Chronometer

कालमापी

4) Barometer

वायुदाबमापी

**Correct Answer:** Speedometer

चालमापी

चालमापी

**QID : 88** - The image formed by a plane mirror is always \_\_\_\_\_.

समतल दर्पण द्वारा बनने वाला प्रतिबिंब सदैव \_\_\_\_\_ होता है।

**Options:**

1) Inverted

उल्टा

2) Erect

सीधा

3) Tilted

झुका

4) Bent

मुड़ा

**Correct Answer:** Erect

सीधा

उल्टा

**QID : 89** - Where is the taskbar placed in Microsoft Windows in the default settings?

माइक्रोसॉफ्ट विंडोज की डिफॉल्ट सेटिंग में टास्कबार कहाँ होता है?

**Options:**

1) At the top of the screen

स्क्रीन के शीर्ष पर

2) At the bottom of the screen

स्क्रीन के नीचे

3) At the center of the screen

स्क्रीन के केंद्र में

4) At no place on the screen

स्क्रीन पर किसी भी जगह नहीं

**Correct Answer:** At the bottom of the screen

स्क्रीन के नीचे

स्क्रीन पर किसी भी जगह नहीं

**QID : 90** - The formula for potassium permanganate is \_\_\_\_\_.

पोटेशियम परमैंगनेट का सूत्र \_\_\_\_\_ है।

**Options:**

1)  $KMnO_4$

2)  $KMn_2O_4$

3)  $K_2Mn_2O_4$

4)  $K_2Mn_2O_2$

**Correct Answer:**  $KMnO_4$

**QID : 91** - The elements in the middle of the periodic table are called \_\_\_\_\_.

आवधिक तालिका के मध्य में तत्वों को \_\_\_\_\_ कहा जाता है।

**Options:**

1) Metalloids

मेटलओईड्स

2) Transition elements

संक्रमण तत्व

3) Rare earth element

दुर्लभ पृथ्वी तत्व

4) Noble gases

उत्कृष्ट गैस

**Correct Answer:** Transition elements

संक्रमण तत्व

मेटलओईड्स

**QID : 92** - A series of organisms feeding on one another at various biotic levels form a \_\_\_\_\_.

विभिन्न जैविक स्तरों पर भाग लेने वाले जीवों की एक दूसरे का आहार करने वाली श्रृंखला \_\_\_\_\_ का निर्माण करती है।

**Options:**

1) Food chain

आहार श्रृंखला

2) Food cycle

आहार चक्र

3) Food web

आहार जाल

4) Food level

आहार चरण

**Correct Answer:** Food chain

आहार श्रृंखला

आहार श्रृंखला

**QID : 93** - Which organisation had helped for the development of Digital Gender Atlas for Girls Education in India?

भारत में डिजिटल जेंडर एटलस फॉर गर्ल्स एजुकेशन के विकास के लिए किस संस्थान ने सहयोग किया था?

**Options:**

1) UNICEF

यू. एन. आई. सी. ई. एफ

2) WTO

डब्ल्यू. टी. ओ.

3) WHO

डब्लू. एच. ओ.

4) NATO

एन. ए. टी. ओ.

**Correct Answer:** UNICEF

यू. एन. आई. सी. ई. एफ

यू. एन. आई. सी. ई. एफ

**QID : 94** - Who invented the lightning conductor?

तड़ित चालक का आविष्कार किसने किया था?

**Options:**

1) Edward Priestly

एडवर्ड प्रेस्टी

2) Vint Cerf

विंट सर्फ

3) Benjamin Franklin

बेंजामिन फ्रैंकलिन

4) John Dalton

जॉन डाल्टन

**Correct Answer:** Benjamin Franklin

बेंजामिन फ्रैंकलिन

**QID : 95** - Who is popularly called the "Payyoli Express"?

लोकप्रिय रूप से "पायोली एक्सप्रेस" कौन कहलाता है?

**Options:**

1) Anju Bobby George

अंजू बॉबी जॉर्ज

2) P.T Usha

पी. टी. उषा

3) Jhulan Goswami

झूलन गोस्वामी

4) Deepa Malik

दीपा मलिक

**Correct Answer:** P.T Usha

पी. टी. उषा

पी. टी. उषा

**QID : 96** - Which is the most important work of the Hinayana school?

हिनायान स्कूल का सबसे महत्वपूर्ण काम कौन सा है?

**Options:**

1) Panchatantra

पंचतंत्र

2) Mahavastu

महावस्तु

3) Ashtadhyayi

अष्टाध्यायी

4) Zend Avesta

ज़ेंड अवेस्ता

**Correct Answer:** Mahavastu

महावस्तु

**QID : 97** - Who is the first Indian women leader to have been honoured with the "Social Entrepreneur of the year" award at the 7<sup>th</sup> Asian Awards in London?

लंदन में 7-वें एशियाई पुरस्कारों में "भारतीय सामाजिक उद्यमी" पुरस्कार से सम्मानित होने वाली पहली भारतीय महिला नेता कौन हैं?

**Options:**

1) Asha Bhosle

आशा भोसले

2) Paul Sagoo

पॉल सागू

3) Nisha Dutt

निशा दत्त

4) Neeta Ambani

नीता अंबानी

**Correct Answer:** Nisha Dutt

निशा दत्त

नीता अंबानी

**QID : 98** - Who is the author of the book named "Prison Diary"?

"प्रिज़न डायरी" नामक पुस्तक के लेखक कौन हैं?

**Options:**

1) J.P Narayan

जे. पी. नारायण

2) Harbhajan Singh

हरभजन सिंह

3) Javed Akhtar

जावेद अख्तर

4) Amitav Ghosh

अमिताव घोष

**Correct Answer:** J.P Narayan

जे. पी. नारायण

अमिताव घोष

**QID : 99** - India became the \_\_\_\_\_ full member of Missile Technology Control Regime (MTCR).

भारत मिसाइल प्रौद्योगिकी नियंत्रण व्यवस्था (एमटीसीआर)

का \_\_\_\_\_ सदस्य बना है।

**Options:**

1) 35<sup>th</sup>

35-वां

2) 1<sup>st</sup>

पहला

3) 20<sup>th</sup>

20-वां

4) 8<sup>th</sup>

8-वां

**Correct Answer:** 35<sup>th</sup>

35-वां

**QID : 100** - India and \_\_\_\_\_ have set a joint working group on fisheries to address long standing issues of fishermen from Tamil Nadu.

तमिलनाडु के मछुआरों के लंबे समय से विवादित मुद्दे पर भारत तथा \_\_\_\_\_ ने एक संयुक्त कार्य समूह स्थापित किया है।

**Options:**

1) Pakistan

पाकिस्तान

2) Maldives

मालदीव

3) Bangladesh

बांग्लादेश

4) Sri-Lanka

श्रीलंका

**Correct Answer:** Sri-Lanka

श्रीलंका

श्रीलंका