



**REGISTRATION NUMBER : 2405085787**

**CANDIDATES NAME: MOCKTIME.COM**

**EXAM NAME : SSC CHSL**

**EXAM DURATION : 01:00 Hrs**

**TOTAL MARKS : 200**

**TOTAL NO OF QUESTIONS : 100**

**QID : 201 -**

In the following question, select the number which can be placed at the sign of question mark (?) from the given alternatives.

निम्नलिखित प्रश्न में दिए गए विकल्पों में से प्रश्न चिह्न (?) के स्थान पर आने वाली संख्या को चुनिए।

2	3
3	4

9	2
2	2

6	3
2	?

**Options:**

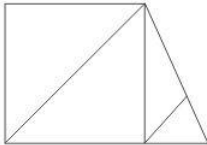
- 1) 1
- 2) 2
- 3) 3
- 4) 6

**Correct Answer: 2**

**QID : 202 -**

How many triangles are there in the given figure?

दी गई आकृति में कितने त्रिभुज हैं?



**Options:**

- 1) 4
- 2) 5
- 3) 6
- 4) 7

**Correct Answer: 6**

**QID : 203 -**

A word is represented by only one set of numbers as given in any one of the alternatives. The sets of numbers given in the alternatives are represented by two classes of alphabets as shown in the given two matrices. The columns and rows of **Matrix-I** are numbered from 0 to 4 and that of **Matrix-II** are numbered from 5 to 9. A letter from these matrices can be represented first by its row and next by its column, for example, 'F' can be represented by 24, 85, etc., and 'K' can be represented by 41, 57, etc. Similarly, you have to identify the set for the word "YATCH".

एक शब्द केवल एक संख्या-समूह द्वारा दर्शाया गया है, जैसा कि विकल्पों में से किसी एक में दिया गया है। विकल्पों में दिए गए संख्या-समूह अक्षरों के दो वर्गों द्वारा दर्शाए गए हैं, जैसा कि दिए गए दो आव्यूहों में है। **आव्यूह-I** के स्तम्भ और पंक्ति की संख्या 0 से 4 है और **आव्यूह-II** की 5 से 9। इन आव्यूहों से एक अक्षर को पहले उसकी पंक्ति और बाद में स्तम्भ संख्या द्वारा दर्शाया जा सकता है। उदाहरण के लिए 'F' को 24, 85, आदि द्वारा दर्शाया जा सकता है तथा 'K' को 41, 57, आदि द्वारा दर्शाया जा सकता है। इसी तरह से आपको प्रश्न में दिए शब्द "YATCH" के लिए समूह को पहचानना है।

Matrix-I आव्यूह-I						Matrix-II आव्यूह-II					
	0	1	2	3	4		5	6	7	8	9
0	C	U	G	J	D	5	A	V	K	T	H
1	S	F	J	N	U	6	L	R	T	O	N
2	Y	P	V	M	F	7	I	Q	W	Y	P
3	I	E	A	C	H	8	F	H	R	M	S
4	T	K	D	Q	L	9	U	G	A	Q	B

**Options:**


- 1) 78, 55, 40, 01, 55
- 2) 20, 55, 58, 33, 86
- 3) 78, 32, 57, 34, 33
- 4) 20, 32, 67, 00, 33

**Correct Answer: 20, 55, 58, 33, 86**

**QID : 204 -**

From the given answer figures, select the one in which the question figure is hidden/embedded.

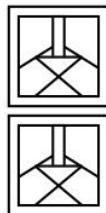
दी गई उत्तर आकृतियों में से उस उत्तर आकृति को चुनिए जिस में प्रश्न आकृति निहित है।



**Options:**

- 1)
- 2)
- 3)
- 4)

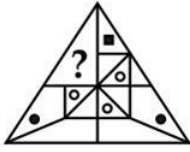
**Correct Answer:**



**QID : 205 -**

Which answer figure will complete the pattern in the question figure?

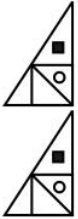
कौन सी उत्तर आकृति प्रश्न आकृति के प्रतिरूप को पूरा करेगी?



**Options:**

- 1)
- 2)
- 3)
- 4)

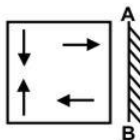
**Correct Answer:**



**QID : 206 -**

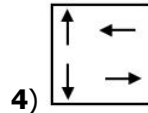
If a mirror is placed on the line AB, then which of the answer figures is the right image of the given figure?

यदि एक दर्पण को AB रेखा पर रखा जाए, तो दी गई उत्तर आकृतियों में से कौन सी आकृति प्रश्न आकृति की सही प्रतिबिम्ब होगी?

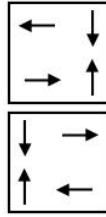


**Options:**

- 1)
- 2)
- 3)



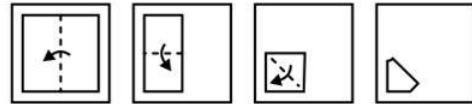
**4) Correct Answer:**



**QID : 207 -**

A piece of paper is folded and punched as shown below in the question figures. From the given answer figures, indicate how it will appear when opened?

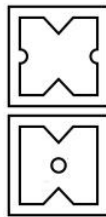
नीचे के प्रश्न आकृतियों में दिखाए अनुसार कागज को मोड़कर छेदने तथा खोलने के बाद वह किस उत्तर आकृति जैसा दिखाई देगा?



**Options:**

- 1)
- 2)
- 3)
- 4)

**Correct Answer:**



**QID : 208 -** By interchanging which two digits the equation will be correct?

$$38 \times 6 \div 19 + 4 = 17$$

किन दो अंकों को आपस में परस्पर बदलने पर समीकरण सही हो जाएगा?

$$38 \times 6 \div 19 + 4 = 17$$

**Options:**

- 1) 9 and 7  
9 तथा 7
- 2) 3 and 6  
3 तथा 6

3) 4 and 6

4 तथा 6

4) 8 and 9

8 तथा 9

**Correct Answer:** 8 and 9

8 तथा 9

8 तथा 9

**QID : 209** - If  $19 @ 2 \# 13 = 51$  and  $14 @ 3 \# 9 = 51$ , then

$15 @ 3 \# 6 = ?$

यदि  $19 @ 2 \# 13 = 51$  तथा  $14 @ 3 \# 9 = 51$  हो, तो

$15 @ 3 \# 6 = ?$

**Options:**

1) 55

2) 69

3) 51

4) 76

**Correct Answer:** 51

**QID : 210** - Arrange the given words in the sequence in which they occur in the dictionary.

1. Yellow

2. Yester

3. Yours

4. Yocto

5. Yards

निम्नलिखित शब्दों को शब्दकोश में आने वाले क्रम के अनुसार लिखें।

1. Yellow

2. Yester

3. Yours

4. Yocto

5. Yards

**Options:**

1) 52134

2) 51243

3) 52413

4) 51342

**Correct Answer:** 51243

**QID : 211** - In the following question, select the missing number from the given series.

1, 8, 9, 64, 25, 216, ?

निम्नलिखित प्रश्न में दिए गए विकल्पों में से लुप्त अंक ज्ञात कीजिए।

1, 8, 9, 64, 25, 216, ?

**Options:**

1) 36

2) 343

3) 49

4) 64

**Correct Answer:** 49

**QID : 212** - A series is given with one term missing. Select the correct alternative from the given ones that will complete the series.

T, R, P, N, L, ?

एक अनुक्रम दिया गया है, जिसमें से एक पद लुप्त है। दिए गए विकल्पों में से वह सही विकल्प चुनिए, जो अनुक्रम को पूरा करे।

T, R, P, N, L, ?

**Options:**

1) G

2) H

3) I

4) J

**Correct Answer:** J

**QID : 213** - In the following question, select the odd word from the given alternatives.

निम्नलिखित प्रश्न में दिए गए विकल्पों में से विषम शब्द को चुनिए।

**Options:**

1) See

देखना

2) Run

दौड़ना

3) Walk

चलना

4) Jump

छलाँग

**Correct Answer:** See

देखना

चलना

**QID : 214** - In the following question, select the odd number pair from the given alternatives.

निम्नलिखित प्रश्न में दिए गए विकल्पों में से विषम संख्या युग्म को चुनिए।

**Options:**

1) 9 – 27

2) 121 – 1331

3) 4 – 16

4) 25 – 125

**Correct Answer:** 4 – 16

**QID : 215** - In the following question, select the odd letters from the given alternatives.

निम्नलिखित प्रश्न में दिए गए विकल्पों में से विषम अक्षरों को चुनिए।

**Options:**

1) PMJ

2) TQM

3) NKH

4) HEB

**Correct Answer:** TQM


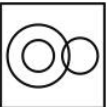


**QID : 216** - Identify the diagram that best represents the relationship among the given classes.

Male, Doctor, Engineer

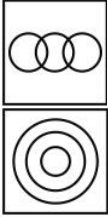
वह आरेख चुनिए जो नीचे दिए गए वर्गों के बीच के संबंध का सही निरूपण करता है।

पुरुष, डॉक्टर, इंजीनियर

**Options:**

- 1) 
- 2) 
- 3) 
- 4) 

**Correct Answer:**



**QID : 217** - In the following question, select the related word from the given alternatives.

**Cold : Warm :: Dubious : ?**

निम्नलिखित प्रश्न में दिए गए विकल्पों में से संबंधित शब्द को चुनिए।

**ठंडा : गर्म :: संदिग्ध : ?**

**Options:**

- 1) Certain  
असंदिग्ध
- 2) Angry  
अप्रसन्न
- 3) Relation  
संबंध
- 4) Elongated  
लम्बा

**Correct Answer:** Certain

असंदिग्ध

असंदिग्ध

**QID : 218** - In the following question, select the related number from the given alternatives.

**2568 : 428 :: 4170 : ?**

निम्नलिखित प्रश्न में दिए गए विकल्पों में से संबंधित संख्या को चुनिए।

**2568 : 428 :: 4170 : ?**

**Options:**

- 1) 719
- 2) 671
- 3) 695
- 4) 731

**Correct Answer:** 695

**QID : 219** - In the following question, select the related letters from the given alternatives.

**RJ : OF :: BT : ?**

निम्नलिखित प्रश्न में दिए गए विकल्पों में से संबंधित अक्षरों को चुनिए।

**RJ : OF :: BT : ?**

**Options:**

- 1) ZQ
- 2) YP
- 3) YQ
- 4) ZP

**Correct Answer:** YP

**QID : 220** - In the following question, select the word which cannot be formed using the letters of the given word.

**TRUCCALLER**

निम्नलिखित विकल्पों में से वह शब्द चुनिए जो दिए गए शब्द के अक्षरों का प्रयोग करके नहीं बनाया जा सकता।

**TRUCCALLER**

**Options:**

- 1) TRUE
- 2) LURE
- 3) REAL
- 4) RAIL

**Correct Answer:** RAIL

**QID : 221** - Ram is 18<sup>th</sup> from left and 23<sup>rd</sup> from right in a line of people. How many people are there in the line? व्यक्तियों की एक पंक्ति में राम बायें से 18-वां तथा दायें से 23-वां है। पंक्ति में कुल कितने व्यक्ति हैं?

**Options:**

- 1) 40
- 2) 41
- 3) 42
- 4) 39

**Correct Answer:** 40

**QID : 222** - A is taller than B. B is shorter than C. D is taller than A but shorter than C. Who is the tallest? A, B से लम्बा है। B, C से छोटा है। D, A से लम्बा है परंतु C से छोटा है। सबसे लम्बा कौन है?

**Options:**

- 1) A
- 2) B
- 3) C
- 4) D

**Correct Answer:** C

**QID : 223** - In the following question below are given some statements followed by some conclusions. Taking the given statements to be true even if they seem to be at variance from commonly known facts, read all the conclusions and then decide which of the given conclusion logically follows the given statements.

**Statements:**

- I. No white is coal.
- II. No coal is black.

**Conclusions:**

- I. No white is black.
- II. Some white are black.

नीचे दिए गए प्रश्न में कुछ कथन और उनके बाद उन कथनों पर आधारित कुछ निष्कर्ष दिए गए हैं, हालांकि उनमें सामान्य ज्ञात तथ्यों से भिन्नता हो सकती है। सभी निष्कर्ष पढ़ें और फिर निर्धारित करें कि दिए गए कौन से निष्कर्ष, दिए गए कथनों के आधार पर युक्तिसंगत हैं।

**कथन:**

I. कोई सफेद कोयला नहीं है।

II. कोई कोयला काला नहीं है।

**निष्कर्ष:**

I. कोई सफेद काला नहीं है।

II. कुछ सफेद काले हैं।

**Options:**

1) Only conclusion (I) follows.

केवल निष्कर्ष (I) सही है।

2) Only conclusion (II) follows.

केवल निष्कर्ष (II) सही है।

3) Both conclusion follow.

दोनों ही निष्कर्ष सही हैं।

4) Neither conclusion (I) nor conclusion (II) follows.

न तो निष्कर्ष (I) न ही निष्कर्ष (II) सही है।

**Correct Answer:** Neither conclusion (I) nor conclusion (II) follows.

न तो निष्कर्ष (I) न ही निष्कर्ष (II) सही है।

केवल निष्कर्ष (I) सही है।

**QID : 224** - In a certain code language, "EMU" is written as "DLT". How is "FIN" written in that code language?

एक विशिष्ट कोड भाषा में, "EMU" को "DLT" लिखा जाता है।

इस कोड भाषा में "FIN" को किस प्रकार लिखा जाएगा?

**Options:**

1) GJM

2) EHM

3) GHM

4) EJM

**Correct Answer:** EHM

**QID : 225** - In a certain code language, "MAN" is written as "28" and "SUN" is written as "54". How is "BIT" written in that code language?

एक विशिष्ट कोड भाषा

में, "MAN" को "28" तथा "SUN" को "54" लिखा जाता है।

इस कोड भाषा में "BIT" को किस प्रकार लिखा जाएगा?

**Options:**

1) 29

2) 31

3) 34

4) 37

**Correct Answer:** 31

**QID : 226** - If the difference of squares of two consecutive odd numbers is 64, then what is their sum? यदि दो क्रमागत विषम संख्याओं के वर्गों का अंतर 64 है, तो उनका योग क्या होगा?

**Options:**

1) 34

2) 32

3) 30

4) 17

**Correct Answer:** 32

**QID : 227** - Which of the following is greatest?

11/12, 3/4, 10/11

निम्नलिखित में से कौन सबसे बड़ा है?

11/12, 3/4, 10/11

**Options:**

1) 11/12

2) 3/4

3) 10/11

4) All are equal

सभी बराबर हैं

**Correct Answer:** 11/12

**QID : 228** - If  $y$  is an integer, then  $(y^3 - y)$  is always multiple of \_\_\_\_.

यदि  $y$  एक पूर्णांक है, तो  $(y^3 - y)$  सदैव \_\_\_\_ का गुणज होगा?

**Options:**

1) 5

2) 7

3) 9

4) 6

**Correct Answer:** 6

**QID : 229** - Which of the following number is divisible by 6?

निम्नलिखित में से कौन सी संख्या 6 से विभाज्य है?

**Options:**

1) 23562

2) 43742

3) 53422

4) 44444

**Correct Answer:** 23562

**QID : 230** -

What is the value of  $\frac{(0.7)^3 - (0.4)^3}{[(0.7)^2 + (0.4)^2 + (0.7) \times (0.4)]}$ ?

$\frac{(0.7)^3 - (0.4)^3}{[(0.7)^2 + (0.4)^2 + (0.7) \times (0.4)]}$  का मान क्या है?

**Options:**

1) 0.5

2) 0.2

3) 0.3

4) 0.1

**Correct Answer:** 0.3

**QID : 231** - The product of two numbers is 630. If one of the number is 18, then what is the another number? दो संख्याओं का गुणनफल 630 है। यदि एक संख्या 18 है, तो दूसरी संख्या क्या है?

**Options:**

1) 34

2) 36

- 3) 35  
4) 38

**Correct Answer:** 35

**QID : 232** - A and B together can do a piece of work in 10 days and A alone can do it in 30 days. B alone can do the work in how many days?

A तथा B मिलकर एक कार्य को 10 दिनों में पूरा कर सकते हैं तथा A अकेले उसे 30 दिनों में कर सकता है। B अकेले उस कार्य को कितने दिनों में पूरा कर सकता है?

**Options:**

- 1) 15  
2) 12  
3) 18  
4) 24

**Correct Answer:** 15

**QID : 233** - Three taps A, B and C can fill a tank in 20, 24 and 30 hours respectively. How long (in hours) would the three taps take to fill the tank if all of them are opened together?

तीन नल A, B तथा C किसी टंकी को क्रमशः 20, 24 तथा 30 घंटे में भर सकते हैं। यदि तीनों नल एक साथ खोल दिए जाते हैं, तो वह सभी टंकी को भरने में कितना समय (घंटों में) में लेंगे?

**Options:**

- 1) 8  
2) 12  
3) 9  
4) 6

**Correct Answer:** 8

**QID : 234** - The length and breadth of a rectangular field are in the ratio of 5 : 4. If the perimeter of the field is 90 m, then what is its breadth (in metres)?

एक आयताकार क्षेत्र की लम्बाई तथा चौड़ाई का अनुपात 5 : 4 है। यदि क्षेत्र का परिमाण 90 मीटर है, तो उसकी चौड़ाई (मीटर में) क्या है?

**Options:**

- 1) 12  
2) 15  
3) 20  
4) 30

**Correct Answer:** 20

**QID : 235** - A trader allows two successive discounts of 10% and 10% on selling an article. If he sells that article for Rs 405, then what is the marked price (in Rs) of the article?

एक विक्रेता किसी वस्तु को बेचते समय दो क्रमिक छूट 10% तथा 10% देता है। यदि वह इस वस्तु को 405 रु में बेचता है, तो वस्तु का अंकित मूल्य (रु में) क्या है?

**Options:**

- 1) 500  
2) 560  
3) 640  
4) 700

**Correct Answer:** 500

**QID : 236** - What is the net discount (in %) for successive discounts of 30% and 50%?

30% तथा 50% की दो क्रमागत छूटों की निवल (नेट) छूट (% में) क्या है?

**Options:**

- 1) 65  
2) 70  
3) 75  
4) 80

**Correct Answer:** 65

**QID : 237** - If  $P : Q = 3 : 4$  and  $Q : R = 2 : 5$ , then what is  $(P + Q) : (Q + R)$ ?

यदि  $P : Q = 3 : 4$  तथा  $Q : R = 2 : 5$  है, तो  $(P + Q) : (Q + R)$  क्या है?

**Options:**

- 1) 1 : 2  
2) 1 : 3  
3) 2 : 3  
4) 2 : 5

**Correct Answer:** 1 : 2

**QID : 238** - If  $(3/2)P = (4/5)Q = (2/3)R$ , then what is  $P : Q : R$ ?

यदि  $(3/2)P = (4/5)Q = (2/3)R$  हो, तो  $P : Q : R$  क्या है?

**Options:**

- 1) 8 : 15 : 18  
2) 3 : 4 : 2  
3) 2 : 4 : 3  
4) 8 : 15 : 6

**Correct Answer:** 8 : 15 : 18

**QID : 239** - The average of 104, 102, 109, A and 112 is 109. What is the value of A?

104, 102, 109, A तथा 112 का औसत 109 है। A का मान क्या है?

**Options:**

- 1) 114  
2) 116  
3) 118  
4) 120

**Correct Answer:** 118

**QID : 240** - If chairs are bought at Rs 600 each and sold at Rs 500 each, then what will be the loss percentage?

यदि कुर्सियों को 600 रु प्रति कुर्सी की दर से खरीदकर 500 रु प्रति कुर्सी की दर से बेच दिया जाता है, तो हानि प्रतिशत क्या होगा?

**Options:**

- 1) 12.53  
2) 16.66  
3) 18.52  
4) 21.62

**Correct Answer:** 16.66

**QID : 241** - An article is sold at 20% profit instead of 5% loss, the man gains Rs 120 more. What is the cost price (in Rs) of that article?

एक वस्तु को 20% हानि के बदले 5% लाभ पर बेचने पर एक व्यक्ति को 120 रु अधिक प्राप्त होते हैं। वस्तु का क्रय मूल्य (रु में) क्या है?

**Options:**

- 1) 480
- 2) 720
- 3) 1020
- 4) 1080

**Correct Answer:** 480

**QID : 242** - If the price of a commodity is decreased by 20% and its consumption is increased by 10%, then what will be the percentage increase or decrease in the expenditure of the commodity?

यदि एक वस्तु की कीमत 20% कम हो जाती है तथा उसकी खपत 10% बढ़ जाती है, तो वस्तु पर खर्च में कितने प्रतिशत की वृद्धि या कमी होगी?

**Options:**

- 1) 10% decrease  
10% की कमी
- 2) 10% increase  
10% की वृद्धि
- 3) 12% increase  
12% की वृद्धि
- 4) 12% decrease  
12% की कमी

**Correct Answer:** 12% decrease

12% की कमी

**QID : 243** - What is the value of 20% of 30% of 1200?  
1200 के 30% के 20% का मान क्या है?

**Options:**

- 1) 36
- 2) 72
- 3) 108
- 4) 144

**Correct Answer:** 72

**QID : 244** - Speed of a boat along the current and against the current are 10 km/hr and 8 km/hr respectively. What is the speed of boat (in km/hr) in still water?

एक नाव की गति धारा के अनुकूल तथा धारा के प्रतिकूल क्रमशः 10 कि.मी./घंटा तथा 8 कि.मी./घंटा है। शांत जल में नाव की गति (कि.मी./घंटा में) क्या है?

**Options:**

- 1) 2
- 2) 9
- 3) 4.5
- 4) 6

**Correct Answer:** 9

**QID : 245** - A train travels some distance at a speed of 15 km/hr and returns at a speed of 9 km/hr. If the total

time taken by the train is 8 hours, then what is the distance (in km)?

एक रेलगाड़ी 15 कि.मी./घंटा की गति से कुछ दूरी तय करती है तथा 9 कि.मी./घंटा की गति से वापस आती है। यदि रेलगाड़ी को इसे तय करने में कुल 8 घंटे का समय लगता है, तो दूरी (कि.मी. में) क्या है?

**Options:**

- 1) 45
- 2) 36
- 3) 42
- 4) 60

**Correct Answer:** 45

**QID : 246** - An amount invested at simple interest gives Rs 2400 interest at rate of 12% in 5 years. What is the principal (in Rs)?

एक धनराशि साधारण ब्याज पर निवेश की जाती है जोकि 5 वर्ष में 12% की दर से 2400 रु का ब्याज देती है। मूलधन (रु में) क्या है?

**Options:**

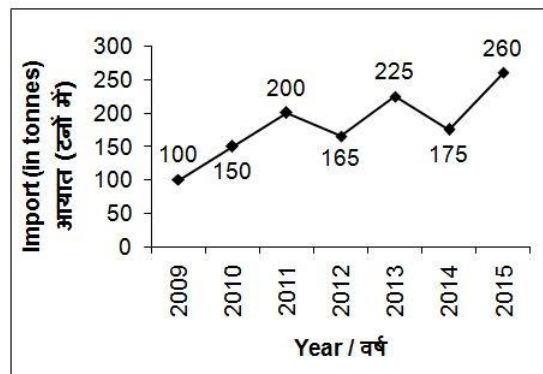
- 1) 3000
- 2) 4000
- 3) 5000
- 4) 6000

**Correct Answer:** 4000

**QID : 247** -

The line chart given below shows the wheat imported (in tonnes) by the flour manufacturing company A from years 2009 to 2015.

नीचे दिए गए रेखा चित्र में वर्ष 2009 से 2015 तक एक आटा उत्पादक कंपनी A द्वारा गेहूँ के आयात (टनों में) को दर्शाया गया है।



What is the percentage change in import of wheat from year 2010 to 2014?

वर्ष 2010 से वर्ष 2014 तक गेहूँ के आयात में कितना प्रतिशत परिवर्तन हुआ है?

**Options:**

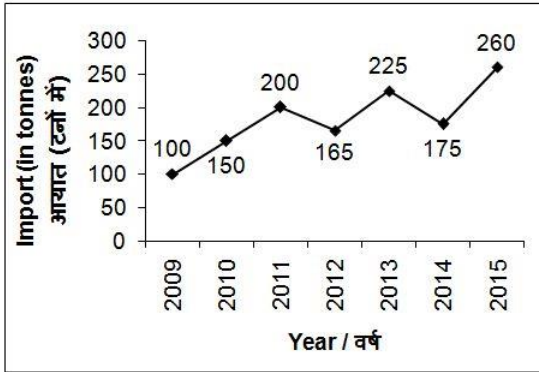
- 1) 75
- 2) 175
- 3) 16.67
- 4) 25

**Correct Answer:** 16.67

**QID : 248** -

The line chart given below shows the wheat imported (in tonnes) by the flour manufacturing company A from years 2009 to 2015.

नीचे दिए गए रेखा चित्र में वर्ष 2009 से 2015 तक एक आटा उत्पादक कंपनी A द्वारा गेहूँ के आयात (टनों में) को दर्शाया गया है।



What is the average wheat import (in tonnes) from year 2009 to 2013?

वर्ष 2009 से वर्ष 2013 तक गेहूँ का औसत आयात (टनों में) क्या है?

**Options:**

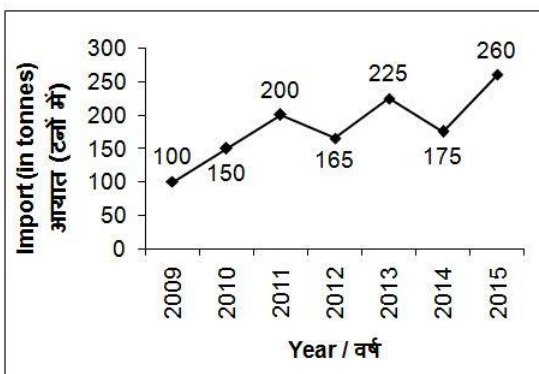
- 1) 170
- 2) 168
- 3) 180
- 4) 165

**Correct Answer:** 168

**QID : 249 -**

The line chart given below shows the wheat imported (in tonnes) by the flour manufacturing company A from years 2009 to 2015.

नीचे दिए गए रेखा चित्र में वर्ष 2009 से 2015 तक एक आटा उत्पादक कंपनी A द्वारा गेहूँ के आयात (टनों में) को दर्शाया गया है।



In how many years, the import was more than the import in 2012?

कितने वर्षों में, आयात वर्ष 2012 के आयात से अधिक था?

**Options:**

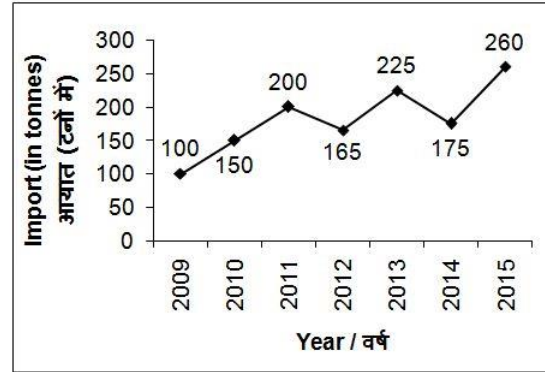
- 1) 2
- 2) 3
- 3) 4
- 4) 5

**Correct Answer:** 4

**QID : 250 -**

The line chart given below shows the wheat imported (in tonnes) by the flour manufacturing company A from years 2009 to 2015.

नीचे दिए गए रेखा चित्र में वर्ष 2009 से 2015 तक एक आटा उत्पादक कंपनी A द्वारा गेहूँ के आयात (टनों में) को दर्शाया गया है।



What is the percentage change in the wheat imported from year 2009 to 2013?

वर्ष 2009 से वर्ष 2013 तक आयातित गेहूँ में कितना प्रतिशत परिवर्तन हुआ है?

**Options:**

- 1) 225
- 2) 150
- 3) 100
- 4) 125

**Correct Answer:** 125

**QID : 251 -** In the following question, some part of the sentence may have errors. Find out which part of the sentence has an error and select the appropriate option. If a sentence is free from error, select 'No Error'.

Even if we missed a day's work, (1)/ our salaries are not cut and we (2)/ were paid in full. (3)/ No Error (4)

**Options:**

- 1) 1
- 2) 2
- 3) 3
- 4) 4

**Correct Answer:** 2

**QID : 252 -** In the following question, some part of the sentence may have errors. Find out which part of the sentence has an error and select the appropriate option. If a sentence is free from error, select 'No Error'.

A ethos of equality was one (1)/ of the major reasons for their (2)/ belief in 'satguru'. (3)/ No Error (4)

**Options:**

- 1) 1
- 2) 2
- 3) 3
- 4) 4

**Correct Answer:** 1

**QID : 253 -** In the following question, the sentence given with blank to be filled in with an appropriate word.



Select the correct alternative out of the four and indicate it by selecting the appropriate option.

**He killed three \_\_\_\_\_ for dinner.**

**Options:**

- 1) forl
- 2) fowls
- 3) fool
- 4) flour

**Correct Answer:** fowls

**QID : 254** - In the following question, the sentence given with blank to be filled in with an appropriate word. Select the correct alternative out of the four and indicate it by selecting the appropriate option.

**Mr. Jain has been in this college \_\_\_\_\_ 2000.**

**Options:**

- 1) for
- 2) since
- 3) of
- 4) off

**Correct Answer:** since

**QID : 255** - In the following question, out of the given four alternatives, select the one which best expresses the meaning of the given word.

**Cavalier**

**Options:**

- 1) Nobleman
- 2) Gentleman
- 3) Rude boy
- 4) Patrician

**Correct Answer:** Gentleman

**QID : 256** - In the following question, out of the given four alternatives, select the one which best expresses the meaning of the given word.

**Sneer**

**Options:**

- 1) Mock
- 2) Compliment
- 3) Praise
- 4) Applaud

**Correct Answer:** Mock

**QID : 257** - In the following question, out of the given four alternatives, select the one which best expresses the meaning of the given word.

**Solemn**

**Options:**

- 1) Funny
- 2) Pensive
- 3) Laughing
- 4) Light

**Correct Answer:** Pensive

**QID : 258** - In the following question, out of the given four alternatives, select the one which is opposite in meaning of the given word.

**Repulsive**

**Options:**

- 1) Creepy
- 2) Hateful
- 3) Ugly

4) Pleasing

**Correct Answer:** Pleasing

**QID : 259** - In the following question, out of the given four alternatives, select the one which is opposite in meaning of the given word.

**Taciturn**

**Options:**

- 1) Silent
- 2) Talkative
- 3) Reticent
- 4) Reserved

**Correct Answer:** Talkative

**QID : 260** - In the following question, out of the given four alternatives, select the one which is opposite in meaning of the given word.

**Cease**

**Options:**

- 1) Pause
- 2) Desist
- 3) Terminate
- 4) Continue

**Correct Answer:** Continue

**QID : 261** - In the following question, out of the four given alternatives, select the alternative which best expresses the meaning of the Idiom/Phrase.

**Do or die**

**Options:**

- 1) To deceive someone
- 2) To make a final effort
- 3) To criticize one
- 4) To interrupt one

**Correct Answer:** To make a final effort

**QID : 262** - In the following question, out of the four given alternatives, select the alternative which best expresses the meaning of the Idiom/Phrase.

**On account of**

**Options:**

- 1) Instead of
- 2) Despite
- 3) Because of
- 4) Rejecting something

**Correct Answer:** Because of

**QID : 263** - Improve the bracketed part of the sentence.

Sindhu's latest medal, to go with the Rio Olympics silver last year, has clearly **(took her past)** Nehwal.

**Options:**

- 1) taking her past
- 2) takes her past
- 3) taken her past
- 4) No improvement

**Correct Answer:** taken her past

**QID : 264** - Improve the bracketed part of the sentence.

And makes it a point to remind **(eachone)** that her recovery is still incomplete, and that she would be back at her best in upcoming competitions.

**Options:**

- 1) everyone
- 2) each people
- 3) every people
- 4) No improvement

**Correct Answer:** everyone

**QID : 265** - In the following question, out of the four given alternatives, select the alternative which is the best substitute of the phrase.

**Something that serves as a reminder.**

**Options:**

- 1) Moderato
- 2) Obligato
- 3) Momento
- 4) Crypto

**Correct Answer:** Momento

**QID : 266** - In the following question, out of the four given alternatives, select the alternative which is the best substitute of the phrase.

**A building which is constructed to keep alive one's memory.**

**Options:**

- 1) Monument
- 2) Fort
- 3) Kingdom
- 4) Statue

**Correct Answer:** Monument

**QID : 267** - In the following question, a word has been written in four different ways out of which only one is correctly spelt. Select the correctly spelt word.

**Options:**

- 1) Micsellaneous
- 2) Miscelaneous
- 3) Miscellanious
- 4) Miscellaneous

**Correct Answer:** Miscellaneous

**QID : 268** - In the following question, a word has been written in four different ways out of which only one is correctly spelt. Select the correctly spelt word.

**Options:**

- 1) Maintane
- 2) Maintain
- 3) Muntain
- 4) Maintein

**Correct Answer:** Maintain

**QID : 269** - Rearrange the parts of the sentence in correct order.

Time management

**P:** one's time efficiently so as

**Q:** to be more productive and organized

**R:** is the ability to utilize

**Options:**

- 1) RPQ
- 2) PQR
- 3) QPR
- 4) PRQ

**Correct Answer:** RPQ

**QID : 270** - Rearrange the parts of the sentence in correct order.

Disaster management is a

**P:** well-planned strategy for

**Q:** hazards caused by the disaster

**R:** making efforts to reduce the

**Options:**

- 1) PQR
- 2) RQP
- 3) PRQ
- 4) QRP

**Correct Answer:** PRQ

**QID : 271** - In the following passage some of the words have been left out. Read the passage carefully and select the correct answer for the given blank out of the four alternatives.

Child labour is commonly seen at various places in India. From roadside tea stalls to big and small factories producing \_\_\_\_\_ products like cement, handloom and jute products, carpets, fashionable tawdry ornaments and fireworks and many other hazardous jobs. Children are working in \_\_\_\_\_ condition. There have been cases where child labours were severely beaten and offered no medical help, in case they complained or try to \_\_\_\_\_. There are practical difficulties in the way of abolishing child labor overnight. Without \_\_\_\_\_ poverty child labor cannot be abolished. There must be a special \_\_\_\_\_ to check the evil.

**factories producing \_\_\_\_\_ products**

**Options:**

- 1) waste
- 2) sundry
- 3) bring
- 4) producing

**Correct Answer:** sundry

**QID : 272** - In the following passage some of the words have been left out. Read the passage carefully and select the correct answer for the given blank out of the four alternatives.

Child labour is commonly seen at various places in India. From roadside tea stalls to big and small factories producing \_\_\_\_\_ products like cement, handloom and jute products, carpets, fashionable tawdry ornaments and fireworks and many other hazardous jobs. Children are working in \_\_\_\_\_ condition. There have been cases where child labours were severely beaten and offered no medical help, in case they complained or try to \_\_\_\_\_. There are practical difficulties in the way of abolishing child labor overnight. Without \_\_\_\_\_ poverty child labor cannot be abolished. There must be a special \_\_\_\_\_ to check the evil.

**are working in \_\_\_\_\_ condition.**

**Options:**

- 1) neat and clean
- 2) abysmal
- 3) hopeful
- 4) good

**Correct Answer:** abysmal

**QID : 273** - In the following passage some of the words have been left out. Read the passage carefully and select

the correct answer for the given blank out of the four alternatives.

Child labour is commonly seen at various places in India. From roadside tea stalls to big and small factories producing \_\_\_\_\_ products like cement, handloom and jute products, carpets, fashionable tawdry ornaments and fireworks and many other hazardous jobs. Children are working in \_\_\_\_\_ condition. There have been cases where child labours were severely beaten and offered no medical help, in case they complained or try to \_\_\_\_\_. There are practical difficulties in the way of abolishing child labor overnight. Without \_\_\_\_\_ poverty child labor cannot be abolished. There must be a special \_\_\_\_\_ to check the evil.

**complain or try to \_\_\_\_\_.**

**Options:**

- 1) relate
- 2) negotiate
- 3) escape
- 4) innate

**Correct Answer:** escape

**QID : 274** - In the following passage some of the words have been left out. Read the passage carefully and select the correct answer for the given blank out of the four alternatives.

Child labour is commonly seen at various places in India. From roadside tea stalls to big and small factories producing \_\_\_\_\_ products like cement, handloom and jute products, carpets, fashionable tawdry ornaments and fireworks and many other hazardous jobs. Children are working in \_\_\_\_\_ condition. There have been cases where child labours were severely beaten and offered no medical help, in case they complained or try to \_\_\_\_\_. There are practical difficulties in the way of abolishing child labor overnight. Without \_\_\_\_\_ poverty child labor cannot be abolished. There must be a special \_\_\_\_\_ to check the evil.

**Without \_\_\_\_\_ poverty child labor**

**Options:**

- 1) initiating
- 2) decreasing
- 3) referring
- 4) eradicating

**Correct Answer:** eradicating

**QID : 275** - In the following passage some of the words have been left out. Read the passage carefully and select the correct answer for the given blank out of the four alternatives.

Child labour is commonly seen at various places in India. From roadside tea stalls to big and small factories producing \_\_\_\_\_ products like cement, handloom and jute products, carpets, fashionable tawdry ornaments and fireworks and many other hazardous jobs. Children are working in \_\_\_\_\_ condition. There have been cases where child labours were severely beaten and offered no medical help, in case they complained or try to \_\_\_\_\_. There are practical difficulties in the way of abolishing child labor overnight. Without \_\_\_\_\_ poverty child labor cannot be abolished. There must be a special \_\_\_\_\_ to check the evil.

**must be a special \_\_\_\_\_ to check the evil.**

**Options:**

- 1) war
- 2) divine
- 3) force
- 4) source

**Correct Answer:** war

**QID : 276** - In an economy there could be \_\_\_\_\_ sector/sectors, which are dominant in terms of total production & employment.

एक अर्थव्यवस्था में \_\_\_\_\_ क्षेत्र हो सकते हैं, जो कुल उत्पादन तथा रोजगार के मामले में प्रधान है।

**Options:**

- 1) only one  
केवल एक
- 2) only two  
केवल दो
- 3) one or more  
एक या अधिक
- 4) None of these  
इनमें से कोई नहीं

**Correct Answer:** one or more

एक या अधिक

इनमें से कोई नहीं

**QID : 277** - Banks keep a small proportion of their deposits in cash with themselves as provision to pay the \_\_\_\_\_ who might come to withdraw money.

बैंक अपनी जमा राशि का एक छोटा हिस्सा स्वयं के साथ नकदी में, धन वापस लेने के लिए आने वाले \_\_\_\_\_ को भुगतान करने के प्रावधान के रूप में रखते हैं।

**Options:**

- 1) Borrowers  
उधारकर्ताओं
- 2) Lenders  
ऋणदाताओं
- 3) Other banks  
अन्य बैंक
- 4) Depositors  
जमाकर्ताओं

**Correct Answer:** Depositors

जमाकर्ताओं

जमाकर्ताओं

**QID : 278** - Which section of Indian Constitution has often been referred to as its 'conscience'?

भारतीय संविधान के किस खंड को आम तौर पर उसकी 'अंतरात्मा' भी कहते हैं?

**Options:**

- 1) Fundamental Duties  
मौलिक कर्तव्य
- 2) Fundamental Rights  
मौलिक अधिकार
- 3) Directive Principles of State Policy  
राज्य के नीति निर्देशक तत्व

4) None of these  
इनमें से कोई नहीं

**Correct Answer:** Fundamental Rights  
मौलिक अधिकार  
मौलिक अधिकार

**QID : 279** - \_\_\_\_\_ is better than other forms of government because it allows us to correct its own mistakes.

\_\_\_\_\_ व्यवस्था दूसरों से बेहतर है, क्योंकि वह हमें उसकी गलतियों को ठीक करने का अवसर प्रदान करती है।

**Options:**

- 1) Democracy  
लोकतांत्रिक
- 2) Monarchy  
राजतांत्रिक
- 3) Aristocracy  
कुलीनतांत्रिक
- 4) Autocracy  
एकतांत्रिक

**Correct Answer:** Democracy  
लोकतांत्रिक  
लोकतांत्रिक

**QID : 280** - Which city was the capital of British India upto 1911?

1911 तक ब्रिटिश भारत की राजधानी कौन सा शहर था?

**Options:**

- 1) Calcutta  
कलकत्ता
- 2) Delhi  
दिल्ली
- 3) Lucknow  
लखनऊ
- 4) Patliputra  
पाटलीपुत्र

**Correct Answer:** Calcutta  
कलकत्ता  
दिल्ली

**QID : 281** - What were the two major cities under control of the Chahamanas?

कौन से दो प्रमुख शहर चाहमानों के नियंत्रण में थे?

**Options:**

- 1) Delhi and Ajmer  
दिल्ली तथा अजमेर
- 2) Lahore and Amritsar  
लाहौर तथा अमृतसर
- 3) Alwar and Ujjain  
अलवर तथा उज्जैन
- 4) Panipat and Kurukshetra  
पानीपत तथा कुरुक्षेत्र

**Correct Answer:** Delhi and Ajmer  
दिल्ली तथा अजमेर

पानीपत तथा कुरुक्षेत्र

**QID : 282** - What is the angle made by the axis of the Earth with its orbital plane?

पृथ्वी का अक्ष अपनी कक्षीय सतह से क्या कोण बनाता है?

**Options:**

- 1) 11°
- 2) 33°
- 3) 66°
- 4) 15°

**Correct Answer:** 66°

**QID : 283** - What is the thickness of the crust (in km) on the ocean floors?

समुद्र सतह में पर्पटी की मोटाई (कि.मी. में) कितनी है?

**Options:**

- 1) 5-10
- 2) 15-20
- 3) 25-30
- 4) 35-40

**Correct Answer:** 5-10

**QID : 284** - In Goitre, there is swelling of the \_\_\_\_\_.

घेघा रोग में \_\_\_\_\_ सूज जाती है।

**Options:**

- 1) Eyes  
आँखें
- 2) Jaw's  
जबड़ा
- 3) Stomach  
अमाशय
- 4) Thyroid gland  
थायराइड ग्रंथि

**Correct Answer:** Thyroid gland

थायराइड ग्रंथि

जबड़ा

**QID : 285** - For immediate energy production in cells one should take \_\_\_\_\_.

कोशिकाओं में तत्काल ऊर्जा उत्पादन के लिए \_\_\_\_\_ लेना चाहिए।

**Options:**

- 1) Glucose  
ग्लूकोज़
- 2) Vitamin K  
विटामिन K
- 3) Vitamin C  
विटामिन C
- 4) Roughage  
चारा

**Correct Answer:** Glucose

ग्लूकोज़

ग्लूकोज़

**QID : 286** - An erythrocyte lives for approximately \_\_\_\_\_.

एक एरिथ्रोसाइट लगभग \_\_\_\_\_ जीवित रहता है।

**Options:**

- 1) One week  
एक सप्ताह
- 2) Twelve months  
बारह महीने
- 3) Four months  
चार महीने
- 4) Four years  
चार वर्ष

**Correct Answer:** Four months

चार महीने

बारह महीने

**QID : 287** - An iron ball and a wooden ball of the same radius are released from a height H in vacuum. The times taken by both of them to reach the ground are \_\_\_\_\_.

एक लोहे की गेंद तथा समान त्रिज्या की एक लकड़ी की गेंद को निर्वात में ऊँचाई H से छोड़ा गया है। भूमि पर पहुंचने के लिए उन दोनों द्वारा लिए गए समय \_\_\_\_\_ हैं।

**Options:**

- 1) different  
अलग-अलग
- 2) unequal  
असमान
- 3) exactly equal  
ठीक बराबर
- 4) Exactly not equal  
ठीक बराबर नहीं

**Correct Answer:** exactly equal

ठीक बराबर

अलग-अलग

**QID : 288** - Combination of two or more cells such that the positive terminal of one cell is connected to the negative terminal of the next cell are called \_\_\_\_\_.

दो या दो से अधिक सेलों के ऐसे संयोजन जिसमें एक सेल का धन टर्मिनल दूसरे सेल के ऋण टर्मिनल से संयोजित किया जाता है, \_\_\_\_\_ कहलाता है।

**Options:**

- 1) Multicell  
मल्टीसेल
- 2) Wire  
संयोजी तार
- 3) Battery  
बैटरी
- 4) Fuse  
फ्यूज

**Correct Answer:** Battery

बैटरी

फ्यूज

**QID : 289** - In computer coding, power of 2 are used in \_\_\_\_\_ system.

कम्प्यूटर कोडिंग में, 2 की घात का प्रयोग \_\_\_\_\_ प्रणाली में किया जाता है।

**Options:**

- 1) Binary  
बाइनरी
- 2) Decimal  
दशमलव
- 3) Octadecimal  
ऑक्टा दशमलव
- 4) Hexadecimal  
हेक्सा दशमलव

**Correct Answer:** Binary

बाइनरी

बाइनरी

**QID : 290** - The law of multiple proportion was discovered by \_\_\_\_\_.

लॉ ऑफ मल्टीपल प्रपोर्शन की खोज \_\_\_\_\_ द्वारा की गई थी।

**Options:**

- 1) John Dalton  
जॉन डाल्टन
- 2) Robert Brown  
रॉबर्ट ब्राउन
- 3) Joseph Proust  
जोसेफ प्रोउस्ट
- 4) Way Kanada  
वे कनाडा

**Correct Answer:** John Dalton

जॉन डाल्टन

**QID : 291** - Amongst the following elements which has the largest atomic size?

निम्नलिखित तत्वों में सबसे बड़ा परमाणु आकार किसका है?

**Options:**

- 1) Magnesium  
मैगनीशियम
- 2) Phosphorus  
फास्फोरस
- 3) Lithium  
लिथियम
- 4) Sodium  
सोडियम

**Correct Answer:** Magnesium

मैगनीशियम

फास्फोरस

**QID : 292** - What can be taken as average value for the amount of organic matter that is present at each step and reaches the next level of consumers?

प्रत्येक कदम पर मौजूद तथा उपभोक्ताओं के अगले स्तर तक पहुंचने वाले कार्बनिक पदार्थ की मात्रा के लिए औसत मूल्य के रूप में क्या लिया जा सकता है?

**Options:**

- 1) 1%
- 2) 10%
- 3) 50%
- 4) 100%

**Correct Answer:** 10%

**QID : 293** - Which of the following scheme is aimed to track the entire education journey of students?

निम्नलिखित में से कौन सी योजना का लक्ष्य विद्यार्थियों के पूरे शिक्षात्मक यात्रा को चिन्हित करना है?

**Options:**

- 1) Padhe Bharat Badhe Bharat  
पढ़े भारत बढ़े भारत
- 2) Saransh  
सारांश
- 3) Shala Asmita Yojana  
शाला अस्मिता योजना
- 4) Saksham  
सक्षम

**Correct Answer:** Shala Asmita Yojana

शाला अस्मिता योजना

पढ़े भारत बढ़े भारत

**QID : 294** - What was discovered by Thomas Edison?

थॉमस एडिसन द्वारा किसका आविष्कार किया गया था?

**Options:**

- 1) Electric motor  
विद्युत मोटर
- 2) Electricity  
विद्युत
- 3) Electric fan  
विद्युत पंखा
- 4) Electric Bulb  
विद्युत बल्ब

**Correct Answer:** Electric Bulb

विद्युत बल्ब

विद्युत बल्ब

**QID : 295** - Which sport is correctly paired with its other name?

कौन सा खेल सही ढंग से इसके अन्य नाम के साथ रखा गया है?

**Options:**

- 1) Cricket-Baseball  
क्रिकेट-बेसबॉल
- 2) Golf-Polo  
गोल्फ-पोलो
- 3) Tennis-Squash  
टेनिस-स्क्वैश
- 4) Football-Soccer

फुटबाल-सॉकर

**Correct Answer:** Football-Soccer

फुटबाल-सॉकर

गोल्फ-पोलो

**QID : 296** - Warli paintings derive its name from a small tribe of \_\_\_\_\_.

वारली चित्रकारी \_\_\_\_\_ की एक छोटी जनजाति का नाम है।

**Options:**

- 1) Maharashtra  
महाराष्ट्र
- 2) West Bengal  
पश्चिम बंगाल
- 3) Chhattisgarh  
छत्तीसगढ़
- 4) Jharkhand  
झारखंड

**Correct Answer:** Maharashtra

महाराष्ट्र

छत्तीसगढ़

**QID : 297** - Which state is **NOT** among the three states to be selected for Krishi Karman Award for their record performance in the production of food grains during 2015-16?

2015-16 के दौरान अनाज के उत्पादन में उनके रिकॉर्ड प्रदर्शन के लिए कृषि कर्मन पुरस्कार के लिए कौन-सा राज्य चुने गए

तीन राज्यों में से नहीं है?

**Options:**

- 1) Tamil Nadu  
तमिलनाडु
- 2) Himachal Pradesh  
हिमाचल प्रदेश
- 3) Maharashtra  
महाराष्ट्र
- 4) Tripura  
त्रिपुरा

**Correct Answer:** Maharashtra

महाराष्ट्र

महाराष्ट्र

**QID : 298** - Who is the author of book named "A Suitable Boy"?

"ए सुटेबल बॉय" नामक किताब के लेखक कौन हैं?

**Options:**

- 1) Vikram Seth  
विक्रम सेठ
- 2) Laxmi Sehgal  
लक्ष्मी सेहगल
- 3) V.S Naipaul  
वी.एस. नायपॉल
- 4) Kapil Dev  
कपिल देव

**Correct Answer:** Vikram Seth

विक्रम सेठ

कपिल देव

**QID : 299** - Which among the following is the first military exercise between Russia and Pakistan?

निम्नलिखित में से कौन रूस तथा पाकिस्तान के बीच पहला सैन्य अभ्यास है?

**Options:**

1) Druzhba

द्रुजबा

2) Khanjar

खंजर

3) Tropex

ट्रोपेक्स

4) Al-Nagah

अल-नागाह

**Correct Answer:** Druzhba

द्रुजबा

अल-नागाह

**QID : 300** - India has removed its which neighbouring country from prior referral category (PRC) for issuing of research visas?

भारत ने अपने किस पड़ोसी देश को पूर्व रेफरल श्रेणी (पीआरसी) से अनुसंधान वीजा जारी करने के लिए हटा दिया है?

**Options:**

1) Bhutan

भूटान

2) China

चीन

3) Bangladesh

बांग्लादेश

4) Sri-Lanka

श्रीलंका

**Correct Answer:** China

चीन

भूटान