



**Staff Selection Commission**  
(Government Of India)

**REGISTRATION NUMBER : 2405102932**

**CANDIDATES NAME: MOCKTIME.COM**

**EXAM NAME : SSC CHSL**

**EXAM DURATION : 01:00 Hrs**

**TOTAL MARKS : 200**

**TOTAL NO OF QUESTIONS : 100**

**QID : 101 -**

In the following question, select the number which can be placed at the sign of question mark (?) from the given alternatives.

निम्नलिखित प्रश्न में दिए गए विकल्पों में से प्रश्न चिह्न (?) के स्थान पर आने वाली संख्या को चुनिए।

|    |    |   |
|----|----|---|
| 2  | 5  | 4 |
| 3  | 4  | 3 |
| 7  | 6  | 2 |
| 15 | 18 | ? |

**Options:**

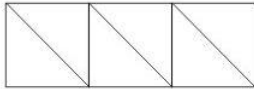
- 1) 10
- 2) 11
- 3) 12
- 4) 13

**Correct Answer: 12**

**QID : 102 -**

How many triangles are there in the given figure?

दी गई आकृति में कितने त्रिभुज हैं?



**Options:**

- 1) 4
- 2) 6
- 3) 5
- 4) 7

**Correct Answer: 6**

**QID : 103 -**

A word is represented by only one set of numbers as given in any one of the alternatives. The sets of numbers given in the alternatives are represented by two classes of alphabets as shown in the given two matrices. The columns and rows of **Matrix-I** are numbered from 0 to 4 and that of **Matrix-II** are numbered from 5 to 9. A letter from these matrices can be represented first by its row and next by its column, for example, 'A' can be represented by 21, 59, etc., and 'N' can be represented by 32, 78, etc. Similarly, you have to identify the set for the word "GOAT".

एक शब्द केवल एक संख्या-समूह द्वारा दर्शाया गया है, जैसा कि विकल्पों में से किसी एक में दिया गया है। विकल्पों में दिए गए संख्या-समूह अक्षरों के दो वर्गों द्वारा दर्शाए गए हैं, जैसा कि दिए गए दो आव्यूहों में है। आव्यूह-I के स्तम्भ और पंक्ति की संख्या 0 से 4 है और आव्यूह-II की 5 से 9। इन आव्यूहों से एक अक्षर को पहले उसकी पंक्ति और बाद में स्तम्भ संख्या द्वारा दर्शाया जा सकता है। उदाहरण के लिए 'A' को 21, 59, आदि द्वारा दर्शाया जा सकता है तथा 'N' को 32, 78, आदि द्वारा दर्शाया जा सकता है। इसी तरह से आपको प्रश्न में दिए शब्द "GOAT" के लिए समूह को पहचानना है।

| Matrix-I<br>आव्यूह-I |   |   |   |   | Matrix-II<br>आव्यूह-II |   |   |   |   |   |   |
|----------------------|---|---|---|---|------------------------|---|---|---|---|---|---|
|                      | 0 | 1 | 2 | 3 | 4                      |   | 5 | 6 | 7 | 8 | 9 |
| 0                    | E | G | I | K | M                      | 5 | M | O | H | J | A |
| 1                    | O | Q | S | U | W                      | 6 | K | D | Q | L | Z |
| 2                    | Y | A | C | F | D                      | 7 | I | S | C | N | X |
| 3                    | J | L | N | P | R                      | 8 | G | U | A | P | V |
| 4                    | T | V | X | Z | B                      | 9 | E | W | Y | R | T |

**Options:**

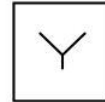
- 1) 85, 10, 22, 99
- 2) 01, 10, 21, 41
- 3) 85, 56, 58, 99
- 4) 01, 56, 87, 99

**Correct Answer: 01, 56, 87, 99**

**QID : 104 -**

From the given answer figures, select the one in which the question figure is hidden/embedded.

दी गई उत्तर आकृतियों में से उस उत्तर आकृति को चुनिए जिस में प्रश्न आकृति निहित है।



**Options:**

- 1)
- 2)
- 3)
- 4)

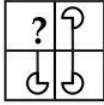
**Correct Answer:**



**QID : 105 -**

Which answer figure will complete the pattern in the question figure?

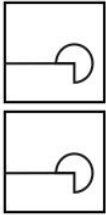
कौन सी उत्तर आकृति प्रश्न आकृति के प्रतिरूप को पूरा करेगी?



**Options:**

- 1)
- 2)
- 3)
- 4)

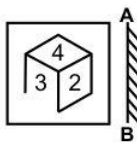
**Correct Answer:**



**QID : 106 -**

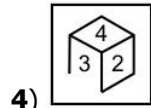
If a mirror is placed on the line AB, then which of the answer figures is the right image of the given figure?

यदि एक दर्पण को AB रेखा पर रखा जाए, तो दी गई उत्तर आकृतियों में से कौन सी आकृति प्रश्न आकृति की सही प्रतिबिम्ब होगी?

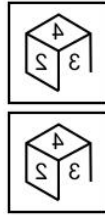


**Options:**

- 1)
- 2)
- 3)




**4) Correct Answer:**



**QID : 107 -**

A piece of paper is folded and punched as shown below in the question figures. From the given answer figures, indicate how it will appear when opened?

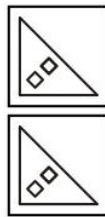
नीचे के प्रश्न आकृतियों में दिखाए अनुसार कागज को मोड़कर छेदने तथा खोलने के बाद वह किस उत्तर आकृति जैसा दिखाई देगा?



**Options:**

- 1)
- 2)
- 3)
- 4)

**Correct Answer:**



**QID : 108 -** If 'J' means '+', 'K' means '-', 'T' means 'x' and 'U' means '÷', then

**18 T 3 U 27 J 2 = ?**

यदि 'J' का अर्थ '+', 'K' का अर्थ '-', 'T' का अर्थ 'x' तथा 'U' का अर्थ '÷' हो, तो

**18 T 3 U 27 J 2 = ?**

**Options:**

- 1) 6
- 2) 2
- 3) 4
- 4) 3

**Correct Answer: 4**

**QID : 109** - If  $8 \times 16 \times 9 = 8169$  and  $9 \times 23 \times 4 = 9234$ , then  $4 \times 10 \times 11 = ?$

यदि  $8 \times 16 \times 9 = 8169$  तथा  $9 \times 23 \times 4 = 9234$  हो, तो  $4 \times 10 \times 11 = ?$

**Options:**

- 1) 11014
- 2) 41011
- 3) 14610
- 4) 10114

**Correct Answer:** 41011

**QID : 110** - Arrange the given words in the sequence in which they occur in the dictionary.

1. Paper
2. Parade
3. Postal
4. Praise
5. Picture

निम्नलिखित शब्दों को शब्दकोश में आने वाले क्रम के अनुसार लिखें।

1. Paper
2. Parade
3. Postal
4. Praise
5. Picture

**Options:**

- 1) 12543
- 2) 21543
- 3) 21534
- 4) 12534

**Correct Answer:** 12534

**QID : 111** - In the following question, select the missing number from the given series ( need to write options).

**104, 52, 26, 13, 6.5, ?**

निम्नलिखित प्रश्न में दिए गए विकल्पों में से लुप्त अंक ज्ञात कीजिए।

**104, 52, 26, 13, 6.5, ?**

**Options:**

- 1) 3.5
- 2) 3.75
- 3) 4.25
- 4) 3.25

**Correct Answer:** 3.25

**QID : 112** - In the following question, which one set of letters when sequentially placed at the gaps in the given letter series shall complete it?

**\_ b c a b \_ a b c \_ b \_**

निम्नलिखित प्रश्न में अक्षरों का कौन सा समूह खाली स्थानों पर क्रमवार रखने से दी गई अक्षर श्रृंखला को पूरा करेगा?

**\_ b c a b \_ a b c \_ b \_**

**Options:**

- 1) acac
- 2) bbca
- 3) caca
- 4) aacc

**Correct Answer:** acac

**QID : 113** - In the following question, select the odd word pair from the given alternatives.

निम्नलिखित प्रश्न में दिए गए विकल्पों में से विषम शब्द युग्म को चुनिए।

**Options:**

- 1) Ground : Play  
मैदान : खेल
- 2) Solar system : Sun  
सौर-मण्डल : सूर्य
- 3) Body : Hand  
शरीर : हाथ
- 4) Tree : Stem  
पेड़ : तना

**Correct Answer:** Ground : Play

मैदान : खेल

सौर-मण्डल : सूर्य

**QID : 114** - In the following question, select the odd number pair from the given alternatives.

निम्नलिखित प्रश्न में दिए गए विकल्पों में से विषम संख्या युग्म को चुनिए।

**Options:**

- 1) 13 : 25
- 2) 31 : 63
- 3) 21 : 41
- 4) 19 : 37

**Correct Answer:** 31 : 63

**QID : 115** - In the following question, select the odd letters from the given alternatives.

निम्नलिखित प्रश्न में दिए गए विकल्पों में से विषम अक्षरों को चुनिए।

**Options:**

- 1) QP
- 2) DC
- 3) XY
- 4) ML

**Correct Answer:** XY

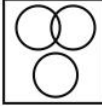
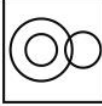

**QID : 116** - Identify the diagram that best represents the relationship among the given classes.

**Haryana, Chandigarh, Uttar Pradesh**

वह आरेख चुनिए जो नीचे दिए गए वर्गों के बीच के संबंध का सही निरूपण करता है।

**हरियाणा, चंडीगढ़, उत्तर प्रदेश**

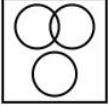
**Options:**

- 1) 
- 2) 
- 3) 



4)

**Correct Answer:**



**QID : 117** - In the following question, select the related word from the given alternatives.

**Liver : Organ :: Earth : ?**

निम्नलिखित प्रश्न में दिए गए विकल्पों में से संबंधित शब्द को चुनिए।

**यकृत : अंग :: पृथ्वी : ?**

**Options:**

- 1) Round  
गोल
- 2) Brown  
भूरी
- 3) Home  
घर
- 4) Planet  
ग्रह

**Correct Answer:** Planet

ग्रह

ग्रह

**QID : 118** - In the following question, select the related number from the given alternatives.

**100 : 121 :: 36 : ?**

निम्नलिखित प्रश्न में दिए गए विकल्पों में से संबंधित संख्या को चुनिए।

**100 : 121 :: 36 : ?**

**Options:**

- 1) 64
- 2) 49
- 3) 25
- 4) 16

**Correct Answer:** 49

**QID : 119** - In the following question, select the related letters from the given alternatives.

**EI : AE :: UO : ?**

निम्नलिखित प्रश्न में दिए गए विकल्पों में से संबंधित अक्षरों को चुनिए।

**EI : AE :: UO : ?**

**Options:**

- 1) PK
- 2) QJ
- 3) PJ
- 4) QK

**Correct Answer:** QK

**QID : 120** - In the following question, select the word which cannot be formed using the letters of the given word.

**PRECITIPATE**

निम्नलिखित विकल्पों में से वह शब्द चुनिए जो दिए गए शब्द के अक्षरों का प्रयोग करके नहीं बनाया जा सकता।

**PRECITIPATE**

**Options:**

- 1) PAIR
- 2) PART
- 3) RECITE
- 4) PAIN

**Correct Answer:** PAIN

**QID : 121** - Vilas remembers his marriage is after 4<sup>th</sup> July. While his sister remembers his marriage is before 6<sup>th</sup> July. On which date of July is his marriage?

विलास को याद है कि उसका विवाह 4 जुलाई के बाद है। जबकि उसकी बहन को याद है कि उसका विवाह 6 जुलाई से पहले है। उसका विवाह जुलाई की किस तिथि को है?

**Options:**

- 1) 4
- 2) 5
- 3) 6
- 4) 7

**Correct Answer:** 5

**QID : 122** - In a row of 63 cars, black car is 32<sup>nd</sup> from the right end. What is its position from left end?

63 कारों की एक पंक्ति में, काली रंग की कार दायीं ओर से 32 वीं है। बायीं ओर से उसका स्थान क्या है?

**Options:**

- 1) 32
- 2) 31
- 3) 33
- 4) 34

**Correct Answer:** 32

**QID : 123** - In the following question below are given some statements followed by some conclusions. Taking the given statements to be true even if they seem to be at variance from commonly known facts, read all the conclusions and then decide which of the given conclusion logically follows the given statements Some tables are chairs.

**Statements:**

I. Some tables are chairs.

II. Some chairs are pens.

**Conclusions:**

I. Some pens are chairs.

II. Some pens are tables.

नीचे दिए गए प्रश्न में कुछ कथन और उनके बाद उन कथनों पर आधारित कुछ निष्कर्ष दिए गए हैं, हालांकि उनमें सामान्य ज्ञात तथ्यों से भिन्नता हो सकती है। सभी निष्कर्ष पढ़ें और फिर निर्धारित करें कि दिए गए कौन से निष्कर्ष, दिए गए कथनों के आधार पर युक्तिसंगत हैं।

**कथन:**

I. कुछ मेज़ कुर्सियाँ हैं।

II. कुछ कुर्सियाँ कलम हैं।

**निष्कर्ष:**

I. कुछ कलम कुर्सियाँ हैं।

II. कुछ कलम मेज़ हैं।

**Options:**

1) Only conclusion (I) follows.

केवल निष्कर्ष (I) सही है।

2) Only conclusion (II) follows.

केवल निष्कर्ष (II) सही है।

3) Both conclusion follows.

दोनों ही निष्कर्ष सही हैं।

4) Neither conclusion (I) nor conclusion (II) follows.

न तो निष्कर्ष (I) न ही निष्कर्ष (II) सही है।

**Correct Answer:** Only conclusion (I) follows.

केवल निष्कर्ष (I) सही है।

दोनों ही निष्कर्ष सही हैं।

**QID : 124** - In a certain code language, "PHONE" is written as "RJQPG". How is "STAMP" written in that code language?

एक विशिष्ट कोड भाषा में, "PHONE" को "RJQPG" लिखा जाता है। इस कोड भाषा में "STAMP" को किस प्रकार लिखा जाएगा?

**Options:**

1) UVCOR

2) CVCOS

3) UVDOR

4) UVCPS

**Correct Answer:** UVCOR

**QID : 125** - In a certain code language, "PARK" is written as "92" and "WALK" is written as "94". How is "LOSS" written in that code language?

एक विशिष्ट कोड भाषा

में, "PARK" को "92" तथा "WALK" को "94" लिखा जाता है। इस कोड भाषा में "LOSS" को किस प्रकार लिखा जाएगा?

**Options:**

1) 65

2) 130

3) 195

4) 180

**Correct Answer:** 130

**QID : 126** - If 432P1 is completely divisible by 9, then what is the value of P?

यदि 432P1, 9 से पूर्णतः विभाजित है, तो P का मान क्या होगा?

**Options:**

1) 1

2) 8

3) 7

4) 2

**Correct Answer:** 8

**QID : 127** - Which smallest number must be added to 100, so that the resulting number is completely divisible by 6?

100 में ऐसी कौन सी सबसे छोटी संख्या जोड़ी जाए, ताकि परिणामी संख्या 6 से पूर्णतः विभाजित हो जाए?

**Options:**

1) 2

2) 3

3) 5

4) 4

**Correct Answer:** 2

**QID : 128** - What is the value of  $51 + 52 + 53 + \dots + 100$ ?

$51 + 52 + 53 + \dots + 100$  का मान क्या है?

**Options:**

1) 1325

2) 5050

3) 3775

4) 3325

**Correct Answer:** 3775

**QID : 129** -

What is the value of  $9\frac{1}{3} + 19\frac{2}{3} + 20\frac{3}{4} + 19\frac{1}{4}$ ?

$9\frac{1}{3} + 19\frac{2}{3} + 20\frac{3}{4} + 19\frac{1}{4}$  का मान क्या है?

**Options:**

1) 67

2) 65

3) 59

4) 69

**Correct Answer:** 69

**QID : 130** - What is the sum of first 15 odd natural number?

प्रथम 15 विषम प्राकृत संख्याओं का योग क्या है?

**Options:**

1) 255

2) 225

3) 235

4) 215

**Correct Answer:** 225

**QID : 131** - What is the sum of all natural numbers between 1 and 100 which are multiples of 7?

1 से 100 के मध्य आने वाली सभी प्राकृत संख्याएँ जो 7 का गुणज हैं, का योग क्या है?

**Options:**

1) 735

2) 675

3) 745

4) 705

**Correct Answer:** 735

**QID : 132** - Working 6 hours a day, Raman can complete a piece of work in 24 days. How many hours a day should he work so as to finish the work in 18 days?

6 घंटे प्रतिदिन कार्य करके, रमन किसी कार्य को 24 दिनों में पूरा कर सकता है, कार्य को 18 दिनों में समाप्त करने के लिए उसे प्रतिदिन कितने घंटे काम करना होगा?

**Options:**

- 1) 8
- 2) 10
- 3) 12
- 4) 16

**Correct Answer:** 8

**QID : 133** - A can do a piece of work in 48 days. If B is 50% more efficient than A, then in how many days can B do the same work?

A किसी कार्य को 48 दिनों में कर सकता है। यदि B की कार्य क्षमता A से 50% अधिक है, तो उसी कार्य को B कितने दिनों में करेगा?

**Options:**

- 1) 24
- 2) 32
- 3) 18
- 4) 15

**Correct Answer:** 32

**QID : 134** - The length and breadth of a rectangular field are in the ratio of 4 : 3. If the perimeter of the field is 70 m, then what will be the breadth (in metres)?

किसी आयताकार क्षेत्र की लम्बाई तथा चौड़ाई का अनुपात 4 : 3 है। यदि आयताकार क्षेत्र का परिमाण 70 मीटर हो, तो उसकी चौड़ाई (मीटर में) क्या होगी?

**Options:**

- 1) 12
- 2) 15
- 3) 18
- 4) 24

**Correct Answer:** 15

**QID : 135** - The marked price of an article is Rs 650 and a customer pays Rs 585 for it. What is the discount percentage?

एक वस्तु का अंकित मूल्य 650 रु है तथा एक ग्राहक इसके लिए 585 रु देता है। छूट प्रतिशत क्या है?

**Options:**

- 1) 10
- 2) 12
- 3) 9
- 4) 15

**Correct Answer:** 10

**QID : 136** - The marked price of an article is twice the cost price. For a gain of 30%, what should be the discount percentage?

एक वस्तु का अंकित मूल्य इसकी लागत मूल्य से दोगुना है। 30% लाभ प्राप्त करने के लिए, छूट प्रतिशत क्या होगी?

**Options:**

- 1) 30
- 2) 35
- 3) 25
- 4) 40

**Correct Answer:** 35

**QID : 137** - If  $B : A = 2 : 3$  and  $A : C = 5 : 7$ , then what is  $(A + B) : (B + C)$ ?

यदि  $B : A = 2 : 3$  तथा  $A : C = 5 : 7$  है, तो  $(A + B) : (B + C)$  क्या होगा?

**Options:**

- 1) 25 : 26
- 2) 25 : 36
- 3) 25 : 31
- 4) 27 : 43

**Correct Answer:** 25 : 31

**QID : 138** - Two numbers are in the ratio of 5 : 3. If 9 be subtracted from each, then the new ratio is 9 : 5. What are the two numbers?

दो संख्याएँ 5 : 3 अनुपात में हैं। यदि प्रत्येक में से 9 घटाया जाए तो नया अनुपात 9 : 5 हो जाता है। दोनों संख्याएँ क्या हैं?

**Options:**

- 1) 50 and 30  
50 तथा 30
- 2) 45 and 27  
45 तथा 27
- 3) 90 and 54  
90 तथा 54
- 4) 15 and 45  
15 तथा 45

**Correct Answer:** 90 and 54

90 तथा 54

90 तथा 54

**QID : 139** - The average of 20 numbers is 30 and that of other 30 numbers is 50. What is the average of all the numbers?

20 संख्याओं का औसत 30 तथा अन्य 30 संख्याओं का औसत 50 है। सभी संख्याओं का औसत क्या है?

**Options:**

- 1) 42
- 2) 47
- 3) 44
- 4) 45

**Correct Answer:** 42

**QID : 140** - If the cost price of 10 articles is equal to the selling price of 15 articles, then what is the loss percentage?

यदि 10 वस्तुओं का क्रय मूल्य 15 वस्तुओं के विक्रय मूल्य के बराबर है, तो हानि प्रतिशत क्या होगा?

**Options:**

- 1) 25%
- 2) 50%
- 3) 33.33%
- 4) 20%

**Correct Answer:** 33.33%

**QID : 141** - If the ratio of the cost price and selling price of an article is 20 : 21, then what will be the profit percentage?

यदि एक वस्तु के क्रय मूल्य तथा विक्रय मूल्य का अनुपात 20 : 21 है, तो लाभ प्रतिशत क्या होगा?

**Options:**

- 1) 5%
- 2) 4.5%
- 3) 6%
- 4) 7.5%

**Correct Answer:** 5%

**QID : 142** - If income of R is 30% more than the income of Q and the income of Q is 20% more than the income of P, then the income of R is how much percent more than the income of P?

यदि R की आय, Q की आय से 30% अधिक है तथा Q की आय, P की आय से 20% अधिक है, तो R की आय, P की आय से कितने प्रतिशत अधिक होगी?

**Options:**

- 1) 50
- 2) 10
- 3) 56
- 4) 55

**Correct Answer:** 56

**QID : 143** - When 40 is subtracted from 30% of a number, the result is 50. What is the value of the number?

किसी संख्या के 30% में से 40 घटाने पर परिणाम 50 आता है। संख्या का मान क्या है?

**Options:**

- 1) 150
- 2) 180
- 3) 300
- 4) 450

**Correct Answer:** 300

**QID : 144** - Speeds of a boat along the current and against the current are 10 km/hr and 8 km/hr respectively. What is the speed (in km/hr) of the current?

एक नाव की गति धारा के अनुकूल तथा धारा के प्रतिकूल दिशा में क्रमशः 10 कि.मी./घंटा तथा 8 कि.मी./घंटा है। धारा की गति (कि.मी./घंटा में) क्या है?

**Options:**

- 1) 1
- 2) 2
- 3) 3
- 4) 9

**Correct Answer:** 1

**QID : 145** - A person goes from point A to B with a speed of 55 km/hr and returns back with a speed 65 km/hr. What is the average speed (in km/hr) of the person while going and coming back from A to B?

एक व्यक्ति 55 कि.मी./घंटा की रफ्तार से बिंदु A से B तक जाता है तथा 65 कि.मी./घंटा की गति से वापस लौटता है। A

से B तक जाने तथा वापस आने में व्यक्ति की औसत गति (कि.मी./घंटा में) क्या है?

**Options:**

- 1) 59.58
- 2) 62.31
- 3) 60
- 4) 63

**Correct Answer:** 59.58

**QID : 146** - A sum was invested on simple interest at a certain rate for 2 years. If the interest rate is increased by 4%, then the interest increases by Rs 160. What is the sum (in Rs) invested?

एक धनराशि ब्याज की किसी वार्षिक दर से 2 वर्ष के लिए साधारण ब्याज में निवेशित की जाती है। यदि ब्याज दर 4% से बढ़ा दी जाए तो ब्याज 160 रु से बढ़ जाता है। निवेशित की गयी धनराशि (रु में) क्या है?

**Options:**

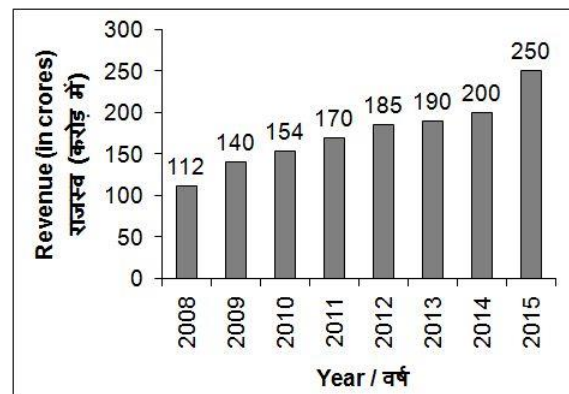
- 1) 2000
- 2) 3000
- 3) 3500
- 4) 4000

**Correct Answer:** 2000

**QID : 147** -

The bar chart given below shows the revenue (in crores) of company A for the years 2008 to 2015.

नीचे दिए गए दण्ड चित्र में वर्ष 2008 से वर्ष 2015 तक कंपनी A के राजस्व (करोड़ में) को दर्शाया गया है।



In how many years from 2009 to 2015 the increase in revenue is more than 15 crores with respect to previous years?

वर्ष 2009 से वर्ष 2015 तक कितने वर्षों में गत वर्षों की तुलना में राजस्व में वृद्धि 15 करोड़ से अधिक रही है?

**Options:**

- 1) 3
- 2) 2
- 3) 5
- 4) 1

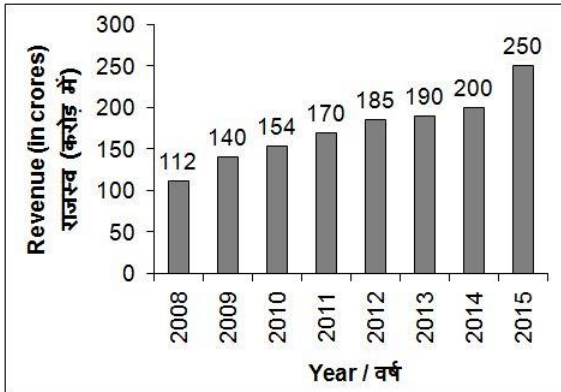
**Correct Answer:** 3

**QID : 148** -



The bar chart given below shows the revenue (in crores) of company A for the years 2008 to 2015.

नीचे दिए गए दण्ड चित्र में वर्ष 2008 से वर्ष 2015 तक कंपनी A के राजस्व (करोड़ में) को दर्शाया गया है।



What is the percentage increase in revenue in the year 2010 in comparison to the previous year?

वर्ष 2010 में, गत वर्ष की तुलना में राजस्व में कितने प्रतिशत वृद्धि हुई है?

**Options:**

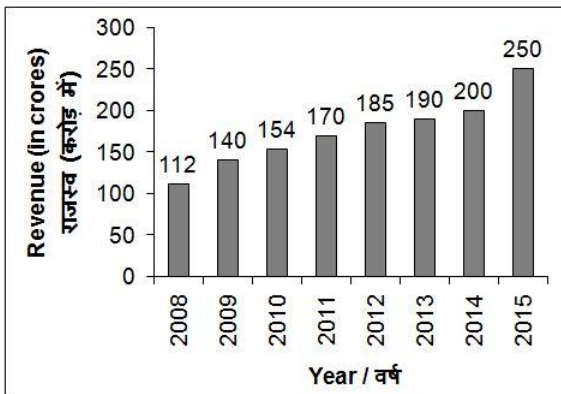
- 1) 10
- 2) 12
- 3) 20
- 4) 25

**Correct Answer: 10**

**QID : 149 -**

The bar chart given below shows the revenue (in crores) of company A for the years 2008 to 2015.

नीचे दिए गए दण्ड चित्र में वर्ष 2008 से वर्ष 2015 तक कंपनी A के राजस्व (करोड़ में) को दर्शाया गया है।



The revenue in 2015 is what percent of the revenue in 2014?

वर्ष 2015 का राजस्व वर्ष 2014 के राजस्व का कितना प्रतिशत है?

**Options:**

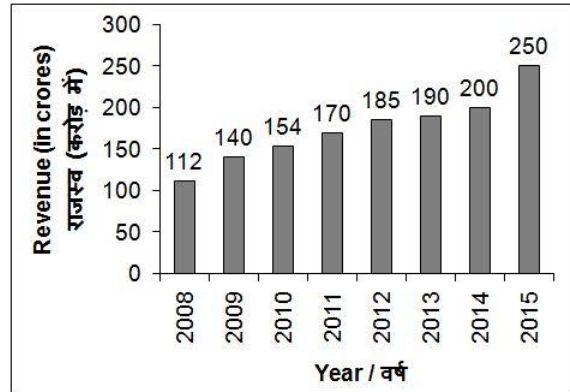
- 1) 75
- 2) 115
- 3) 125
- 4) 135

**Correct Answer: 125**

**QID : 150 -**

The bar chart given below shows the revenue (in crores) of company A for the years 2008 to 2015.

नीचे दिए गए दण्ड चित्र में वर्ष 2008 से वर्ष 2015 तक कंपनी A के राजस्व (करोड़ में) को दर्शाया गया है।



What is the average revenue (in crore Rs) per year from 2011 to 2015?

वर्ष 2011 से वर्ष 2015 तक, प्रति वर्ष औसत राजस्व (करोड़ रुपये में) क्या है?

**Options:**

- 1) 199
- 2) 203
- 3) 192
- 4) 189

**Correct Answer: 199**

**QID : 151 -** In the following question, some part of the sentence may have errors. Find out which part of the sentence has an error and select the appropriate option. If a sentence is free from error, select 'No Error'.

Our specialist school is (1)/ home to children with (2)/ different intellectual abilities. (3)/ No Error (4)

**Options:**

- 1) 1
- 2) 2
- 3) 3
- 4) 4

**Correct Answer: 1**

**QID : 152 -** In the following question, some part of the sentence may have errors. Find out which part of the sentence has an error and select the appropriate option. If a sentence is free from error, select 'No Error'.

You can control them (1)/ by setting a maximum limit (2)/ for each one bill. (3)/ No Error (4)

**Options:**

- 1) 1
- 2) 2
- 3) 3
- 4) 4

**Correct Answer: 3**

**QID : 153 -** In the following question, the sentence given with blank to be filled in with an appropriate word. Select the correct alternative out of the four and indicate it by selecting the appropriate option.

His teacher \_\_\_\_\_ an explanation of his conduct.

**Options:**



- 1) called up
- 2) called for
- 3) called off
- 4) on

**Correct Answer:** called for

**QID : 154** - In the following question, the sentence given with blank to be filled in with an appropriate word. Select the correct alternative out of the four and indicate it by selecting the appropriate option.

**Put your signature \_\_\_\_\_ red ink.**

**Options:**

- 1) through
- 2) in
- 3) with
- 4) by

**Correct Answer:** in

**QID : 155** - In the following question, out of the given four alternatives, select the one which best expresses the meaning of the given word.

**Extinct**

**Options:**

- 1) Alive
- 2) Living
- 3) Abolished
- 4) Existing

**Correct Answer:** Abolished

**QID : 156** - In the following question, out of the given four alternatives, select the one which best expresses the meaning of the given word.

**Malice**

**Options:**

- 1) Friendly
- 2) Kind
- 3) Bitterness
- 4) Thoughtful

**Correct Answer:** Bitterness

**QID : 157** - In the following question, out of the given four alternatives, select the one which best expresses the meaning of the given word.

**Sustain**

**Options:**

- 1) Halt
- 2) Stop
- 3) Abstain
- 4) Continue

**Correct Answer:** Continue

**QID : 158** - In the following question, out of the given four alternatives, select the one which is opposite in meaning of the given word.

**Flourish**

**Options:**

- 1) Garnish
- 2) Hinder
- 3) Amplify
- 4) Develop

**Correct Answer:** Hinder

**QID : 159** - In the following question, out of the given four alternatives, select the one which is opposite in meaning of the given word.

**Triumph**

**Options:**

- 1) Joy
- 2) Jubilee
- 3) Pride
- 4) Sorrow

**Correct Answer:** Sorrow

**QID : 160** - In the following question, out of the given four alternatives, select the one which is opposite in meaning of the given word.

**Elementary**

**Options:**

- 1) Easy
- 2) Fundamental
- 3) Primary
- 4) Complex

**Correct Answer:** Complex

**QID : 161** - In the following question, out of the four given alternatives, select the alternative which best expresses the meaning of the Idiom/Phrase.

**Yeoman service**

**Options:**

- 1) Service for short period
- 2) Very costly service
- 3) Useful help in need
- 4) Work without preparation

**Correct Answer:** Useful help in need

**QID : 162** - In the following question, out of the four given alternatives, select the alternative which best expresses the meaning of the Idiom/Phrase.

**Once and for all**

**Options:**

- 1) Bring to an end
- 2) Remain alive
- 3) Forever
- 4) Something good for people

**Correct Answer:** Bring to an end

**QID : 163** - Improve the bracketed part of the sentence.

**(This market were)** crowded with people.

**Options:**

- 1) This markets were
- 2) These market were
- 3) This market was
- 4) No improvement

**Correct Answer:** This market was

**QID : 164** - Improve the bracketed part of the sentence.

**(He have quitted)** the organization.

**Options:**

- 1) He has quit
- 2) He have quit
- 3) He had quitted
- 4) No improvement

**Correct Answer:** He has quit

**QID : 165** - In the following question, out of the four given alternatives, select the alternative which is the best substitute of the phrase.

**As opposed to reality imagined not real.**

**Options:**

- 1) Ennui
- 2) Heretic
- 3) Fictitious
- 4) Indict

**Correct Answer:** Fictitious

**QID : 166** - In the following question, out of the four given alternatives, select the alternative which is the best substitute of the phrase.

**A state of sleeplessness**

**Options:**

- 1) Irritable
- 2) Insurgent
- 3) Imputation
- 4) Insomnia

**Correct Answer:** Insomnia

**QID : 167** - In the following question, a word has been written in four different ways out of which only one is correctly spelt. Select the correctly spelt word.

**Options:**

- 1) Quarrel
- 2) Quaarel
- 3) Qurarel
- 4) Quarell

**Correct Answer:** Quarrel

**QID : 168** - In the following question, a word has been written in four different ways out of which only one is correctly spelt. Select the correctly spelt word.

**Options:**

- 1) Recommend
- 2) Reccomend
- 3) Reccommend
- 4) Ricommend

**Correct Answer:** Recommend

**QID : 169** - Rearrange the parts of the sentence in correct order.

It takes

**P:** to change their

**Q:** way of thinking

**R:** time for people

**Options:**

- 1) RQP
- 2) QPR
- 3) RPQ
- 4) PRQ

**Correct Answer:** RPQ

**QID : 170** - Rearrange the parts of the sentence in correct order.

Politeness is

**P:** possessed by only

**Q:** one nation or race

**R:** not a quality

**Options:**

1) RPQ

2) PRQ

3) QPR

4) QRP

**Correct Answer:** RPQ

**QID : 171** - In the following passage some of the words have been left out. Read the passage carefully and select the correct answer for the given blank out of the four alternatives.

Mother Teresa was a \_\_\_\_\_ woman and famous as "one woman, one mission" who had taken a big step to change the \_\_\_\_\_. She was born as Agnes Gnocchi Bojaxhin on 26th of August in 1910 in the Macedonia. She came \_\_\_\_\_ Kolkata when she was just 18 years old and continued \_\_\_\_\_ life's mission of caring poorest people. She had helped a lot of the poor people of Kolkata \_\_\_\_\_ from leprosy.

**Mother Teresa was a \_\_\_\_\_ woman and**

**Options:**

- 1) big
- 2) beautiful
- 3) fair
- 4) great

**Correct Answer:** great

**QID : 172** - In the following passage some of the words have been left out. Read the passage carefully and select the correct answer for the given blank out of the four alternatives.

Mother Teresa was a \_\_\_\_\_ woman and famous as "one woman, one mission" who had taken a big step to change the \_\_\_\_\_. She was born as Agnes Gnocchi Bojaxhin on 26th of August in 1910 in the Macedonia. She came \_\_\_\_\_ Kolkata when she was just 18 years old and continued \_\_\_\_\_ life's mission of caring poorest people. She had helped a lot of the poor people of Kolkata \_\_\_\_\_ from leprosy.

**Step to change the \_\_\_\_\_.**

**Options:**

- 1) universe
- 2) globe
- 3) world
- 4) religion

**Correct Answer:** world

**QID : 173** - In the following passage some of the words have been left out. Read the passage carefully and select the correct answer for the given blank out of the four alternatives.

Mother Teresa was a \_\_\_\_\_ woman and famous as "one woman, one mission" who had taken a big step to change the \_\_\_\_\_. She was born as Agnes Gnocchi Bojaxhin on 26th of August in 1910 in the Macedonia. She came \_\_\_\_\_ Kolkata when she was just 18 years old and continued \_\_\_\_\_ life's mission of caring poorest people. She had helped a lot of the poor people of Kolkata \_\_\_\_\_ from leprosy.

**She came \_\_\_\_\_ Kolkata when**

**Options:**

- 1) to
- 2) in
- 3) at

4) on

**Correct Answer:** to

**QID : 174** - In the following passage some of the words have been left out. Read the passage carefully and select the correct answer for the given blank out of the four alternatives.

Mother Teresa was a \_\_\_\_\_ woman and famous as "one woman, one mission" who had taken a big step to change the \_\_\_\_\_. She was born as Agnes Gnocchi Bojaxhin on 26th of August in 1910 in the Macedonia. She came \_\_\_\_\_ Kolkata when she was just 18 years old and continued \_\_\_\_\_ life's mission of caring poorest people. She had helped a lot of the poor people of Kolkata \_\_\_\_\_ from leprosy.

**Years old and continued \_\_\_\_\_**

**Options:**

- 1) here's
- 2) her
- 3) their
- 4) our

**Correct Answer:** her

**QID : 175** - In the following passage some of the words have been left out. Read the passage carefully and select the correct answer for the given blank out of the four alternatives.

Mother Teresa was a \_\_\_\_\_ woman and famous as "one woman, one mission" who had taken a big step to change the \_\_\_\_\_. She was born as Agnes Gnocchi Bojaxhin on 26th of August in 1910 in the Macedonia. She came \_\_\_\_\_ Kolkata when she was just 18 years old and continued \_\_\_\_\_ life's mission of caring poorest people. She had helped a lot of the poor people of Kolkata \_\_\_\_\_ from leprosy.

**Of Kolkata \_\_\_\_\_ from the leprosy.**

**Options:**

- 1) enjoying
- 2) suffering
- 3) caring
- 4) containing

**Correct Answer:** suffering

**QID : 176** - Which type of unemployment is generally seen in urban areas?

शहरी क्षेत्रों में आम तौर पर किस प्रकार की बेरोज़गारी दिखाई देती है?

**Options:**

- 1) Educated unemployment  
शिक्षित बेरोज़गारी
- 2) Seasonal unemployment  
मौसमी बेरोज़गारी
- 3) Disguised unemployment  
प्रच्छन्न बेरोज़गारी
- 4) None of these  
इनमें से कोई नहीं

**Correct Answer:** Educated unemployment

शिक्षित बेरोज़गारी

शिक्षित बेरोज़गारी

**QID : 177** - Dairy comes under which sector of economic activity?

डेयरी किस आर्थिक गतिविधि के क्षेत्रक के अंतर्गत आती है?

**Options:**

- 1) Tertiary sector  
तृतीयक क्षेत्रक
- 2) Primary sector  
प्राथमिक क्षेत्रक
- 3) Secondary sector  
द्वितीयक क्षेत्रक
- 4) Quaternary sector  
चतुर्मागात्मक क्षेत्रक

**Correct Answer:** Primary sector

प्राथमिक क्षेत्रक

प्राथमिक क्षेत्रक

**QID : 178** - Who is also known as Panchayat President?

किसे पंचायत का मुखिया भी कहा जाता है?

**Options:**

- 1) Ward Member  
वार्ड मेम्बर
- 2) Sarpanch  
सरपंच
- 3) Secretary of Gram Sabha  
ग्राम सभा का सचिव
- 4) None of these  
इनमें से कोई नहीं

**Correct Answer:** Sarpanch

सरपंच

सरपंच

**QID : 179** - Who was the chairman of Drafting Committee?

प्रारूप समिति के अध्यक्ष कौन थे?

**Options:**

- 1) Dr. Rajendra Prasad  
डॉ. राजेन्द्र प्रसाद
- 2) Dr. B. R. Ambedkar  
डॉ. बी. आर. अम्बेडकर
- 3) Mahatma Gandhi  
महात्मा गाँधी
- 4) M.A. Jinnah  
एम. ए. जिन्नाह

**Correct Answer:** Dr. B. R. Ambedkar

डॉ. बी. आर. अम्बेडकर

डॉ. बी. आर. अम्बेडकर

**QID : 180** - Where was the first Session of Indian National Congress held at?

भारतीय राष्ट्रीय कांग्रेस का प्रथम अधिवेशन किस शहर में आयोजित किया गया था?

**Options:**

- 1) Calcutta  
कलकत्ता

2) Madras  
मद्रास

3) Lahore  
लाहौर

4) Bombay  
बम्बई

**Correct Answer:** Bombay  
बम्बई  
लाहौर

**QID : 181** - Ibn Battuta was a fourteenth-century traveler to India from which place?

चौदहवीं सदी का यात्री इब्न बतूता किस जगह से भारत आया था?

**Options:**

1) China

चीन

2) Tibet

तिब्बत

3) Morocco

मोरक्को

4) Greece

ग्रीस

**Correct Answer:** Morocco

मोरक्को

तिब्बत

**QID : 182** - Ursa Major or Big bear is an example of \_\_\_\_\_.

अर्सा मेजर अथवा बिग बियर एक प्रकार का \_\_\_\_\_ है।

**Options:**

1) Star

तारा

2) Constellation

नक्षत्रमंडल

3) Planet

ग्रह

4) Satellite

उपग्रह

**Correct Answer:** Constellation

नक्षत्रमंडल

नक्षत्रमंडल

**QID : 183** - What causes day and night cycle on Earth?

पृथ्वी पर दिन तथा रात का चक्र किस कारण होता है?

**Options:**

1) Rotation

घूर्णन

2) Revolution

परिक्रमण

3) Rotation and Revolution both

घूर्णन तथा परिक्रमण दोनों

4) None of these

इनमें से कोई नहीं

**Correct Answer:** Rotation

घूर्णन

घूर्णन तथा परिक्रमण दोनों

**QID : 184** - Which part of plant conducts water in plants?

पौधों का कौन सा भाग पौधों में जल का संवहन करता है?

**Options:**

1) Leaves

पत्तियाँ

2) Fruits

फल

3) Flowers

फूल

4) Stem

तना

**Correct Answer:** Stem

तना

पत्तियाँ

**QID : 185** - Which type of plants have weak stems and take support on neighbouring structures to climb up?

किस प्रकार के पौधों में तना कमजोर होता है तथा ये आस-

पास के ढाँचे की सहायता से ऊपर चढ़ते हैं?

**Options:**

1) Shrubs

झाड़ी

2) Climbers

आरोही

3) Trees

वृक्ष

4) Herbs

शाक

**Correct Answer:** Climbers

आरोही

आरोही

**QID : 186** - Which type of plants are very tall and have hard and thick brown stem?

किस प्रकार के पौधे बहुत ऊँचे होते हैं तथा इनके तने सुदृढ़

एवं गहरे भूरे होते हैं?

**Options:**

1) Trees

वृक्ष

2) Herbs

शाक

3) Shrubs

झाड़ी

4) None of these

इनमें से कोई नहीं

**Correct Answer:** Trees

वृक्ष

वृक्ष

**QID : 187** - If the momentum of a body is doubled, the kinetic energy is \_\_\_\_\_.

यदि एक पिण्ड का संवेग दोगुना कर दिया जाए तो गतिज ऊर्जा \_\_\_\_\_ हो जाती है।

**Options:**

1) becomes 1/4 times

एक चौथाई

2) Unchanged

अपरिवर्तित

3) Doubled

दोगुनी

4) becomes 4 times

चार गुनी

**Correct Answer:** becomes 4 times

चार गुनी

अपरिवर्तित

**QID : 188** - If action and reaction were to act on the same body, \_\_\_\_\_.

यदि क्रिया तथा प्रतिक्रिया एक ही पिण्ड पर कार्य करती हैं तो \_\_\_\_\_।

**Options:**

1) the resultant would be zero

परिणाम शून्य होगा

2) the body would not move at all

पिण्ड गतिशील नहीं होगा

3) body will start moving

पिण्ड चलना आरंभ कर देगा

4) Only (A) and (B) is correct

केवल (A) तथा (B) सही है

**Correct Answer:** the resultant would be zero

परिणाम शून्य होगा

केवल (A) तथा (B) सही है

**QID : 189** - Which is the first supercomputer of India?

भारत का पहला सुपरकम्प्यूटर कौन सा है?

**Options:**

1) CDC 8600

सी.डी.सी. 8600

2) Cray Titan

क्रय टाइटन

3) PARAM 800

परम 800

4) Cray Jaguar

क्रय जैगुआर

**Correct Answer:** PARAM 800

परम 800

क्रय जैगुआर

**QID : 190** - Soil is an example of which of the following?

मृदा निम्नलिखित में से किसका एक उदाहरण है?

**Options:**

1) Homogeneous mixture

समांगी मिश्रण

2) Molecule

अणु

3) Compound

यौगिक

4) Heterogeneous mixture

विषमांगी मिश्रण

**Correct Answer:** Heterogeneous mixture

विषमांगी मिश्रण

अणु

**QID : 191** - An atom is \_\_\_\_\_.

एक परमाणु \_\_\_\_\_ होता है।

**Options:**

1) the smallest particle of matter known

पदार्थ का सबसे छोटा ज्ञात कण

2) the smallest particle of a gas

एक गैस का सबसे छोटा कण

3) the smallest indivisible particle of an element that can take part in a chemical change

एक तत्व का सबसे छोटा अविभाज्य कण जो एक रासायनिक परिवर्तन में भाग ले सकता है

4) charged particle

एक आवेशित कण

**Correct Answer:** the smallest indivisible particle of an element that can take part in a chemical change

एक तत्व का सबसे छोटा अविभाज्य कण जो एक रासायनिक परिवर्तन में भाग ले सकता है

पदार्थ का सबसे छोटा ज्ञात कण

**QID : 192** - What is the process of seeping of water into the ground called?

भूमि में जल के रिसाव की प्रक्रिया क्या कहलाती है?

**Options:**

1) Infiltration

अंतः स्पंदन

2) Filtration

स्यंदन

3) Percolation

टपकन

4) Sedimentation

अवसादन

**Correct Answer:** Infiltration

अंतः स्पंदन

अंतः स्पंदन

**QID : 193** - When was "Make in India" initiative launched?

"मेक-इन-इंडिया" पहल का शुभआरंभ कब किया गया था?

**Options:**

1) December 2013

दिसंबर 2013

2) March 2014

मार्च 2014

3) September 2014

सितंबर 2014

4) June 2015

जून 2015

**Correct Answer:** September 2014

सितंबर 2014

जून 2015

**QID : 194** - Who among the following invented steam engine?

निम्नलिखित में से किसने भाप का इंजन का आविष्कार किया था?

**Options:**

1) Enrico Fermi

एन्नीको फर्मी

2) James Boyle

जेम्स बॉयल

3) Max Born

मैक्स बॉर्न

4) James Watt

जेम्स वॉट

**Correct Answer:** James Watt

जेम्स वॉट

मैक्स बॉर्न

**QID : 195** - Dhyanchand was associated with which sport?

ध्यानचंद किस खेल से जुड़े थे?

**Options:**

1) Kabbadi

कबड्डी

2) Hockey

हॉकी

3) Cricket

क्रिकेट

4) Football

फुटबॉल

**Correct Answer:** Hockey

हॉकी

**QID : 196** - Who among the following is famous for playing flute?

निम्नलिखित में से कौन बाँसुरी बजाने के लिए प्रसिद्ध हैं?

**Options:**

1) Zakir Hussain

ज़ाकिर हुसैन

2) Ravi Shankar

रवि शंकर

3) Bismillah Khan

बिसमिल्लाह खान

4) Hari Prasad Chaurasia

हरि प्रसाद चौरसिया

**Correct Answer:** Hari Prasad Chaurasia

हरि प्रसाद चौरसिया

ज़ाकिर हुसैन

**QID : 197** - Who among the following is not a recipient of the 2017 Ramon Magsaysay Awards?

निम्नलिखित में से कौन 2017 के रेमन मैगसेसे पुरस्कार का प्राप्तकर्ता नहीं है?

**Options:**

1) Ishizawa Yoshiaki

इशिज़ावा योशियाकी

2) Nababan Abdon

नबाबन अब्दन

3) Tay Toni

टे टोनी

4) Sanjiv Chaturvedi

संजीव चतुर्वेदी

**Correct Answer:** Sanjiv Chaturvedi

संजीव चतुर्वेदी

टे टोनी

**QID : 198** - Who is the author of the book named "True Colours"?

"ट्रू कलर्स" नामक पुस्तक के लेखक कौन हैं?

**Options:**

1) Bette Dam

बेट्टे डाम

2) Alexander Bard

एलेग्जेंडर बार्ड

3) Christina Lamb

क्रिस्टिना लैंब

4) Adam Gilchrist

एडम गिलक्रिस्ट

**Correct Answer:** Adam Gilchrist

एडम गिलक्रिस्ट

एलेग्जेंडर बार्ड

**QID : 199** - Minsk protocol is agreement between Ukraine, the Russian Federation, the Donetsk People's Republic and the Lugansk peoples republic to halt the war in the donbass region of \_\_\_\_\_.

मिन्स्क प्रोटोकॉल, यूक्रेन, रूसी संघ, डोनेट्स्क पीपुल्स रिपब्लिक और लुंगान्स्क लोक गणराज्य के बीच एक समझौता है, जो \_\_\_\_\_ के डॉनबस क्षेत्र में युद्ध की समाप्ति के लिए किया गया था।

**Options:**

1) Ukraine

यूक्रेन

2) Russia

रूस

3) The Donetsk people's republic

डोनेट्स्क लोगों का गणतंत्र



4) The Lungansk people's republic

लुंगान्स्क लोगो का गणतंत्र

**Correct Answer:** Ukraine

यूक्रेन

रूस

**QID : 200** - Palk strait separates India with which country?

पाक जलसंधि भारत को किस देश से अलग करती है?

**Options:**

1) Pakistan

पाकिस्तान

2) Bangladesh

बांग्लादेश

3) Indonesia

इंडोनेशिया

4) Sri Lanka

श्रीलंका

**Correct Answer:** Sri Lanka

श्रीलंका

पाकिस्तान