



REGISTRATION NUMBER : 2201301178

CANDIDATES NAME: MOCKTIME.COM

EXAM NAME : SSC CHSL

EXAM DURATION : 01:00 Hrs

TOTAL MARKS : 200

TOTAL NO OF QUESTIONS : 100

QID : 101 -

In the following question, select the number which can be placed at the sign of question mark (?) from the given alternatives.

निम्नलिखित प्रश्न में दिए गए विकल्पों में से प्रश्न चिह्न (?) के स्थान पर आने वाली संख्या को चुनिए।

4	3	2	9
1	5	11	17
6	5	2	?

Options:

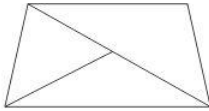
- 1) 14
- 2) 13
- 3) 9
- 4) 10

Correct Answer: 13

QID : 102 -

How many triangles are there in the given figure?

दी गई आकृति में कितने त्रिभुज हैं?



Options:

- 1) 3
- 2) 4
- 3) 5
- 4) 0

Correct Answer: 4

QID : 103 -

A word is represented by only one set of numbers as given in any one of the alternatives. The sets of numbers given in the alternatives are represented by two classes of alphabets as shown in the given two matrices. The columns and rows of **Matrix-I** are numbered from 0 to 4 and that of **Matrix-II** are numbered from 5 to 9. A letter from these matrices can be represented first by its row and next by its column, for example, 'C' can be represented by 01, 85, etc., and 'U' can be represented by 20, 97, etc. Similarly, you have to identify the set for the word "GEEK".

एक शब्द केवल एक संख्या-समूह द्वारा दर्शाया गया है, जैसा कि विकल्पों में से किसी एक में दिया गया है। विकल्पों में दिए गए संख्या-समूह अक्षरों के दो वर्गों द्वारा दर्शाए गए हैं, जैसा कि दिए गए दो आव्यूहों में है। **आव्यूह-I** के स्तम्भ और पंक्ति की संख्या 0 से 4 है और **आव्यूह-II** की 5 से 9। इन आव्यूहों से एक अक्षर को पहले उसकी पंक्ति और बाद में स्तम्भ संख्या द्वारा दर्शाया जा सकता है। उदाहरण के लिए 'C' को 01, 85, आदि द्वारा दर्शाया जा सकता है तथा 'U' को 20, 97, आदि द्वारा दर्शाया जा सकता है। इसी तरह से आपको प्रश्न में दिए शब्द "GEEK" के लिए समूह को पहचानना है।

Matrix-I						Matrix-II					
आव्यूह-I						आव्यूह-II					
	0	1	2	3	4		5	6	7	8	9
0	Y	C	W	G	I	5	X	K	D	F	R
1	E	M	O	Q	S	6	G	W	N	H	V
2	U	W	Y	B	A	7	E	O	Y	J	T
3	F	H	G	L	N	8	C	F	I	L	E
4	D	R	T	V	O	9	K	S	U	N	P

Options:

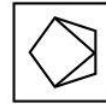
- 1) 32, 01, 89, 56
- 2) 03, 89, 10, 33
- 3) 65, 10, 75, 95
- 4) 58, 75, 59, 56

Correct Answer: 65, 10, 75, 95

QID : 104 -

From the given answer figures, select the one in which the question figure is hidden/embedded.

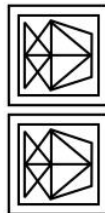
दी गई उत्तर आकृतियों में से उस उत्तर आकृति को चुनिए जिस में प्रश्न आकृति निहित है।



Options:

- 1)
- 2)
- 3)
- 4)

Correct Answer:



QID : 105 -

Which answer figure will complete the pattern in the question figure?

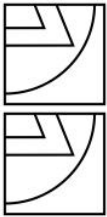
कौन सी उत्तर आकृति प्रश्न आकृति के प्रतिरूप को पूरा करेगी?



Options:

- 1)
- 2)
- 3)
- 4)

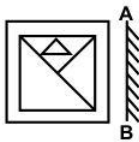
Correct Answer:



QID : 106 -

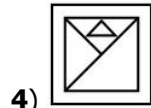
If a mirror is placed on the line AB, then which of the answer figures is the right image of the given figure?

यदि एक दर्पण को AB रेखा पर रखा जाए, तो दी गई उत्तर आकृतियों में से कौन सी आकृति प्रश्न आकृति की सही प्रतिबिम्ब होगी?

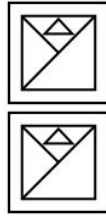


Options:

- 1)
- 2)
- 3)




4) Correct Answer:



QID : 107 -

A piece of paper is folded and punched as shown below in the question figures. From the given answer figures, indicate how it will appear when opened?

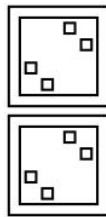
नीचे के प्रश्न आकृतियों में दिखाए अनुसार कागज को मोड़कर छेदने तथा खोलने के बाद वह किस उत्तर आकृति जैसा दिखाई देगा?



Options:

- 1)
- 2)
- 3)
- 4)

Correct Answer:



QID : 108 - What will come in place of question mark (?) in the given equation?

$16 ? 13 ? 3 ? 18 = 94$

दिए गए समीकरण में प्रश्न चिह्न (?) के स्थान पर क्या आएगा?

$16 ? 13 ? 3 ? 18 = 94$

Options:

- 1) \times, \div and $-$
 \times, \div तथा $-$
- 2) $+, \div$ and \times
 $+, \div$ तथा \times

3) +, - and ÷
+, - तथा ÷

4) -, x and +
-, x तथा +

Correct Answer: +, ÷ and x

+, ÷ तथा x

+, ÷ तथा x

QID : 109 - If $7 + 14 - 2 = 1$ and $9 + 27 - 3 = 1$, then

$3 + 39 - 13 = ?$

यदि $7 + 14 - 2 = 1$ तथा $9 + 27 - 3 = 1$ हो, तो

$3 + 39 - 13 = ?$

Options:

1) 0

2) 1

3) 3

4) 9

Correct Answer: 1

QID : 110 - Arrange the given words in the sequence in which they occur in the dictionary.

1. Racing

2. Rowing

3. Risking

4. Ranking

5. Rigging

निम्नलिखित शब्दों को शब्दकोश में आने वाले क्रम के अनुसार लिखें।

1. Racing

2. Rowing

3. Risking

4. Ranking

5. Rigging

Options:

1) 41352

2) 14352

3) 14532

4) 41532

Correct Answer: 14532

QID : 111 - In the following question, select the missing number from the given series.

37, 39, 42, 47, 54, ?

निम्नलिखित प्रश्न में दिए गए विकल्पों में से लुप्त अंक ज्ञात कीजिए।

37, 39, 42, 47, 54, ?

Options:

1) 60

2) 65

3) 63

4) 69

Correct Answer: 65

QID : 112 - A series is given with one term missing. Select the correct alternative from the given ones that will complete the series.

MO, PR, SU, ?

एक अनुक्रम दिया गया है, जिसमें से एक पद लुप्त है। दिए गए विकल्पों में से वह सही विकल्प चुनिए, जो अनुक्रम को पूरा करे।

MO, PR, SU, ?

Options:

1) VW

2) WX

3) WY

4) VX

Correct Answer: VX

QID : 113 - In the following question, select the odd word from the given alternatives.

निम्नलिखित प्रश्न में दिए गए विकल्पों में से विषम शब्द को चुनिए।

Options:

1) Feel

महसूस करना

2) Smell

सूंघना

3) Taste

चखना

4) Hands

हाथ

Correct Answer: Hands

हाथ

हाथ

QID : 114 - In the following question, select the odd number from the given alternatives.

निम्नलिखित प्रश्न में दिए गए विकल्पों में से विषम संख्या को चुनिए।

Options:

1) 25

2) 125

3) 625

4) 15625

Correct Answer: 125

QID : 115 - In the following question, select the odd letters from the given alternatives.

निम्नलिखित प्रश्न में दिए गए विकल्पों में से विषम अक्षरों को चुनिए।

Options:

1) KJ

2) BA

3) FC

4) ED

Correct Answer: FC




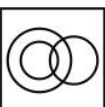
QID : 116 - Identify the diagram that best represents the relationship among the given classes.

House, Family members, Road

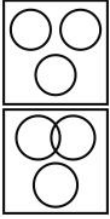
वह आरेख चुनिए जो नीचे दिए गए वर्गों के बीच के संबंध का सही निरूपण करता है।

घर, परिवार के सदस्य, सड़क

Options:

- 1) 
- 2) 
- 3) 
- 4) 

Correct Answer:



QID : 117 - In the following question, select the related word from the given alternatives.

Wood : Oak :: Metal : ?

निम्नलिखित प्रश्न में दिए गए विकल्पों में से संबंधित शब्द को चुनिए।

लकड़ी : बलूत (ओक) :: धातु : ?

Options:

- 1) Gold
सोना
- 2) Oxygen
ऑक्सीजन
- 3) Bromine
ब्रोमिन
- 4) Carbon
कार्बन

Correct Answer: Gold

सोना

सोना

QID : 118 - In the following question, select the related number from the given alternatives.

81 : 729 :: 121 : ?

निम्नलिखित प्रश्न में दिए गए विकल्पों में से संबंधित संख्या को चुनिए।

81 : 729 :: 121 : ?

Options:

- 1) 968
- 2) 144
- 3) 1000
- 4) 1331

Correct Answer: 1331

QID : 119 - In the following question, select the related letters from the given alternatives.

RTW : XZC :: ACF : ?

निम्नलिखित प्रश्न में दिए गए विकल्पों में से संबंधित अक्षरों को चुनिए।

RTW : XZC :: ACF : ?

Options:

- 1) GHI
- 2) GHK
- 3) GIL
- 4) JKL

Correct Answer: GIL

QID : 120 - In the following question, select the word which cannot be formed using the letters of the given word.

FACSIMILE

निम्नलिखित विकल्पों में से वह शब्द चुनिए जो दिए गए शब्द के अक्षरों का प्रयोग करके नहीं बनाया जा सकता।

FACSIMILE

Options:

- 1) SMILE
- 2) MILES
- 3) COME
- 4) FACE

Correct Answer: COME

QID : 121 - Present age of A is 56 years. 4 years hence ages of A and B will be in ratio 6 : 7. What is the present age (in years) of B?

A की वर्तमान आयु 56 वर्ष है। 4 वर्ष बाद A तथा B की आयु 6 : 7 के अनुपात में होगी। B की वर्तमान आयु (वर्षों में) क्या है?

Options:

- 1) 64
- 2) 60
- 3) 66
- 4) 58

Correct Answer: 66

QID : 122 - Uma walks 19 km towards north. She turns right and walks another 19 km. She turns right and walks another 19 km. In which direction is she from her starting point?

उमा उत्तर की ओर 19 कि.मी. चलती है। वह दायीं ओर मुड़ती है तथा 19 कि.मी. और चलती है। वह दायीं ओर मुड़ती है तथा 19 कि.मी. और चलती है। वह अपने आरंभिक बिन्दु से किस दिशा में है?

Options:

- 1) West
पश्चिम
- 2) North
उत्तर
- 3) South
दक्षिण
- 4) East
पूर्व

Correct Answer: East

पूर्व

दक्षिण

QID : 123 - In the following question below are given some statements followed by some conclusions. Taking the given statements to be true even if they seem to be at variance from commonly known facts, read all the conclusions and then decide which of the given conclusion logically follows the given statements.

Statements:

- I. Some circle are toys.
II. Some green are circles.

Conclusions:

- I. Some green are toys.
II. Some toys are circles.

नीचे दिए गए प्रश्न में कुछ कथन और उनके बाद उन कथनों पर आधारित कुछ निष्कर्ष दिए गए हैं, हालांकि उनमें सामान्य ज्ञात तथ्यों से भिन्नता हो सकती है। सभी निष्कर्ष पढ़ें और फिर निर्धारित करें कि दिए गए कौन से निष्कर्ष, दिए गए कथनों के आधार पर युक्तिसंगत हैं।

कथन:

- I. कुछ वृत्त खिलौने हैं।
II. कुछ हरे वृत्त हैं।

निष्कर्ष:

- I. कुछ हरे खिलौने हैं।
II. कुछ खिलौने वृत्त हैं।

Options:

- 1) Only conclusion (I) follows.
केवल निष्कर्ष (I) सही है।
2) Only conclusion (II) follows.
केवल निष्कर्ष (II) सही है।
3) Both conclusion follow.
दोनों ही निष्कर्ष सही हैं।
4) Neither conclusion (I) nor conclusion (II) follows.
न तो निष्कर्ष (I) न ही निष्कर्ष (II) सही है।

Correct Answer: Only conclusion (II) follows.
केवल निष्कर्ष (II) सही है।

न तो निष्कर्ष (I) न ही निष्कर्ष (II) सही है।

QID : 124 - In a certain code language, "LUNCH" is written as "OFMXS". How is "TEARS" written in that code language?

एक विशिष्ट कोड भाषा में, "LUNCH" को "OFMXS" लिखा जाता है। इस कोड भाषा में "TEARS" को किस प्रकार लिखा जाएगा?

Options:

- 1) HIZVH
2) GVZIH
3) LHIVK
4) KTPQA

Correct Answer: GVZIH

QID : 125 - In a certain code language, "PHONE" is written as "64321" and "ROLL" is written as "7355". How is "PRONE" written in that code language?

एक विशिष्ट कोड भाषा

में, "PHONE" को "64321" तथा "ROLL" को "7355" लिखा

जाता है। इस कोड भाषा में "PRONE" को किस प्रकार लिखा जाएगा?

Options:

- 1) 67321
2) 45376
3) 12376
4) 67123

Correct Answer: 67321

QID : 126 - How many positive factors of 40 are there? 40 के धनात्मक गुणनखंड कितने हैं?

Options:

- 1) 6
2) 5
3) 8
4) 10

Correct Answer: 8

QID : 127 - How many numbers are there from 300 to 390 which are divisible by both 5 and 7? 300 से 390 तक ऐसी कितनी संख्याएँ हैं जो 5 तथा 7 दोनों से विभाजित होती हैं?

Options:

- 1) 2
2) 3
3) 4
4) 5

Correct Answer: 3

QID : 128 -

Which of the following statement(s) is/are true?

- I. $\sqrt[4]{3} > \sqrt[5]{7}$
II. $\sqrt[3]{7} > \sqrt[5]{11}$

निम्नलिखित में से कौन सा/से कथन सत्य है/हैं?

- I. $\sqrt[4]{3} > \sqrt[5]{7}$
II. $\sqrt[3]{7} > \sqrt[5]{11}$

Options:

- 1) Only I
केवल I
2) Only II
केवल II
3) Both I and II
I तथा II दोनों
4) Neither I nor II
न तो I न ही II

Correct Answer: Only II
केवल II

QID : 129 - If $N = \sqrt{11} - \sqrt{3}$, then what is the value of $(1/N)$?

यदि $N = \sqrt{11} - \sqrt{3}$ है, तो $(1/N)$ का मान क्या है?

Options:

- 1) $(\sqrt{3} - \sqrt{11})/2$
2) $(\sqrt{11} - \sqrt{3})/8$
3) $(\sqrt{11} + \sqrt{3})/8$
4) $(\sqrt{11} + 8\sqrt{3})$

Correct Answer: $(\sqrt{11} + \sqrt{3})/8$

QID : 130 - For what value of P, $225P9$ is completely divisible by 9?

P के किस मान के लिए $225P9$, 9 से पूर्णतः विभाजित है?

Options:

- 1) 1
- 2) 0
- 3) 3
- 4) 4

Correct Answer: 0

QID : 131 - Which of the following statement(s) is/are true?

I. $(\sqrt{7} + \sqrt{9}) > (\sqrt{9} + \sqrt{6})$

II. $(\sqrt{7} - \sqrt{5}) > (\sqrt{6} - \sqrt{3})$

निम्नलिखित में से कौन सा/से कथन सत्य है/हैं?

I. $(\sqrt{7} + \sqrt{9}) > (\sqrt{9} + \sqrt{6})$

II. $(\sqrt{7} - \sqrt{5}) > (\sqrt{6} - \sqrt{3})$

Options:

1) Only I

केवल I

2) Only II

केवल II

3) Both I and II

I तथा II दोनों

4) Neither I nor II

न तो I न ही II

Correct Answer: Only I

केवल I

QID : 132 - Two pipes L and J can alone fill a tank in 12 hours and 15 hours respectively. Pipe P can alone empty the same tank in 20 hours. If all three pipes are opened together, then in how many hours will the tank be filled?

दो पाईप L तथा J अकेले एक टंकी को क्रमशः 12 घंटे तथा 15 घंटे में भर सकते हैं। पाईप P उसी टंकी को अकेला 20 घंटे में खाली कर सकता है। यदि सभी तीनों पाईपों को एक साथ खोल दिया जाये, तो टंकी कितने घंटे में भर जायेगी?

Options:

- 1) 10
- 2) 15
- 3) 20
- 4) 12

Correct Answer: 10

QID : 133 - A pipe can fill a tank in 12 hours. Due to the leak in its bottom, the tank is filled in 15 hours. If the tank is full, then that leak can empty the tank in how many hours?

एक पाईप एक टंकी को 12 घंटे में भर सकता है। टंकी की सतह में छिद्र होने के कारण, टंकी को भरने में 15 घंटे लगते हैं। यदि टंकी पूरी भरी हो, तो वह छिद्र टंकी को कितने घंटे में खाली कर सकता है?

Options:

- 1) 65
- 2) 72
- 3) 45

4) 60

Correct Answer: 60

QID : 134 - The ratio of the length and breadth of a rectangle is 3 : 4. If the perimeter of the rectangle is 140 cm, then what is the length (in cm) of the rectangle?

एक आयत की लम्बाई तथा चौड़ाई का अनुपात 3 : 4 है। यदि आयत का परिमाण 140 से.मी. है, तो आयत की लम्बाई (से.मी. में) क्या है?

Options:

- 1) 30
- 2) 50
- 3) 35
- 4) 45

Correct Answer: 30

QID : 135 - A profit of 30% is made after giving a discount of 10% on an article. If the marked price of the article is Rs 2730, then what is its cost price (in Rs)?

एक वस्तु पर 10% की छूट देने के पश्चात 30% का लाभ होता है। यदि वस्तु का अंकित मूल्य 2730 रु है, तो उसका क्रय मूल्य (रु में) क्या है?

Options:

- 1) 2000
- 2) 1850
- 3) 2100
- 4) 1890

Correct Answer: 1890

QID : 136 - Akash purchased an article at a discount of 20% and sold it to Ram at 20% profit. What is the ratio between the marked price and the price for which Ram purchased the article?

आकाश किसी वस्तु को 20% की छूट पर खरीदता है तथा उसे राम को 20% के लाभ पर बेच देता है। अंकित मूल्य तथा जिस मूल्य पर राम ने वस्तु को खरीदा है, के मध्य का अनुपात क्या है?

Options:

- 1) 27 : 31
- 2) 25 : 22
- 3) 24 : 23
- 4) 25 : 24

Correct Answer: 25 : 24

QID : 137 - In what ratio a man must mix rice at Rs 12.30 per kg with rice at Rs 16.70 per kg so as to make a mixture worth Rs 14.40 per kg?

एक व्यक्ति किस अनुपात में 12.30 रु प्रति कि.ग्रा. वाले चावल को 16.70 रु प्रति कि.ग्रा. वाले चावल के साथ मिलाये ताकि मिश्रण की कीमत 14.40 रु प्रति कि.ग्रा. हो जाये?

Options:

- 1) 8 : 7
- 2) 23 : 21
- 3) 3 : 4
- 4) 1 : 7

Correct Answer: 23 : 21

QID : 138 - B starts a business with Rs 15000. After 6 months, D joins business by investing Rs 40000. At the end of the year, in what ratio will they share the profit? B, 15000 रु की पूँजी निवेश करके एक व्यापार आरंभ करता है। 6 माह के पश्चात D, 40000 रु निवेश कर उस व्यापार में शामिल हो जाता है। वर्ष के अंत में वह किस अनुपात में लाभ बाँटेंगे?

Options:

- 1) 4 : 5
- 2) 11 : 14
- 3) 33 : 16
- 4) 3 : 4

Correct Answer: 3 : 4

QID : 139 - Average of 9 consecutive even numbers is 18. Which number is the smallest of the 9 numbers? 9 क्रमागत सम संख्याओं का औसत 18 है। 9 संख्याओं में से सबसे छोटी संख्या कौन सी है?

Options:

- 1) 8
- 2) 10
- 3) 12
- 4) 6

Correct Answer: 10

QID : 140 - By selling 90 litres of petrol, a person loses the cost price of 30 litres of petrol. What is his loss percent?

90 लीटर पेट्रोल बेचकर एक व्यक्ति को 30 लीटर पेट्रोल के क्रय मूल्य के बराबर हानि होती है। उसका हानि प्रतिशत क्या है?

Options:

- 1) 18.18
- 2) 28.56
- 3) 33.33
- 4) 22.22

Correct Answer: 33.33

QID : 141 - A sold a toy T.V. to B at a profit of 20%. B sold the T.V. to C at a profit of 15%. If C pays Rs 276 for T.V., then for how much (in Rs) A bought the T.V.?

A ने B को 20% के लाभ पर एक खिलौना टी.वी. बेचा। B ने C को 15% के लाभ पर टी.वी. बेचा। यदि C टी.वी. के लिए 276 रु चुकाता है, तो A ने कितने (रु में) टी.वी. खरीदा था?

Options:

- 1) 250
- 2) 200
- 3) 300
- 4) 320

Correct Answer: 200

QID : 142 - A number is increased first by 10% and then it is again increased by 10%. What is the percentage change in the number?

एक संख्या को पहले 10% से बढ़ाया जाता है तथा फिर उसे 10% से पुनः बढ़ाया जाता है। संख्या में कितना प्रतिशत परिवर्तन हुआ है?

Options:

- 1) 21% increase
21% की वृद्धि
- 2) 21% decrease
21% की कमी
- 3) 20% increase
20% की वृद्धि
- 4) 19% increase
19% की वृद्धि

Correct Answer: 21% increase

21% की वृद्धि

21% की वृद्धि

QID : 143 - L is 25% more than M. M is 20% less than N. N is 25% more than O. If O is 800, then what is the value of L?

L, M से 25% अधिक है। M, N से 20% कम है। N, O से 25% अधिक है। यदि O, 800 है, तो L का मान क्या है?

Options:

- 1) 1000
- 2) 1200
- 3) 1150
- 4) 950

Correct Answer: 1000

QID : 144 - A 400 metre long train crosses an 800 metre long platform. If the speed of train 60 km/hr, then what is the time taken (in seconds) to cross the platform?

एक 400 मीटर लम्बी रेलगाड़ी, एक 800 मीटर लम्बा प्लेटफार्म पार करती है। यदि रेलगाड़ी की गति 60 कि.मी./घंटा है, तो प्लेटफार्म पार करने में कितना समय (सेकण्डों में) लगता है?

Options:

- 1) 80
- 2) 75
- 3) 72
- 4) 85

Correct Answer: 72

QID : 145 - Raman goes to a place at a speed of 7 km/hr and returns back at 3 km/hr. What is his average speed (in km/hr)?

रमन 7 कि.मी./घंटे की गति से एक स्थान पर जाता है तथा 3 कि.मी./घंटे की गति से वापस आता है। उसकी औसत गति (कि.मी./घंटा में) क्या है?

Options:

- 1) 4.4
- 2) 4.2
- 3) 4.8
- 4) 4

Correct Answer: 4.2

QID : 146 - The population of a country increases at the rate of 8% per annum. If the present population of the country is 58320, then what was the population 2 years ago?

एक देश की जनसंख्या में 8% की वार्षिक दर से वृद्धि होती है। यदि देश की वर्तमान जनसंख्या 58320 है, तो 2 वर्ष पहले शहर की जनसंख्या क्या थी?

Options:

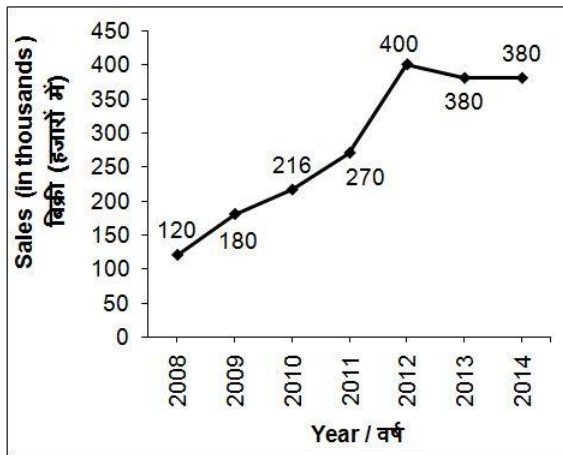
- 1) 15000
- 2) 500000
- 3) 50000
- 4) 180000

Correct Answer: 50000

QID : 147 -

The line chart given below shows the sales (in thousands) of company A from year 2008 to 2014.

नीचे दिए गए रेखा चित्र में वर्ष 2008 से 2014 तक कंपनी A की बिक्री (हजारों में) को दर्शाया गया है।



What is the percentage change in sales from year 2008 to year 2011?

वर्ष 2008 से वर्ष 2011 तक बिक्री में प्रतिशत परिवर्तन क्या है?

Options:

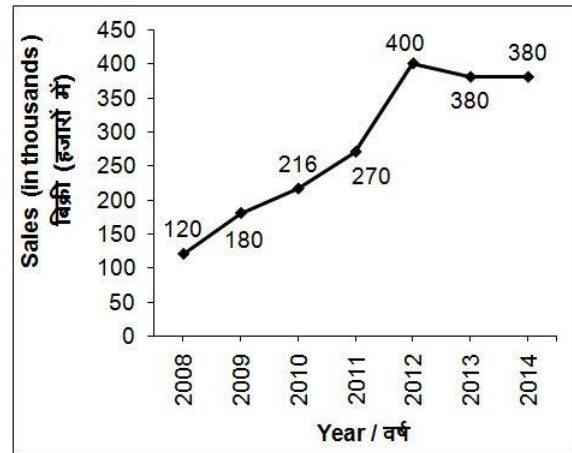
- 1) 125
- 2) 75
- 3) 135
- 4) 130

Correct Answer: 125

QID : 148 -

The line chart given below shows the sales (in thousands) of company A from year 2008 to 2014.

नीचे दिए गए रेखा चित्र में वर्ष 2008 से 2014 तक कंपनी A की बिक्री (हजारों में) को दर्शाया गया है।



What is the average sales (in thousands) from year 2008 to year 2014?

वर्ष 2008 से वर्ष 2014 तक औसत बिक्री (हजारों में) क्या है?

Options:

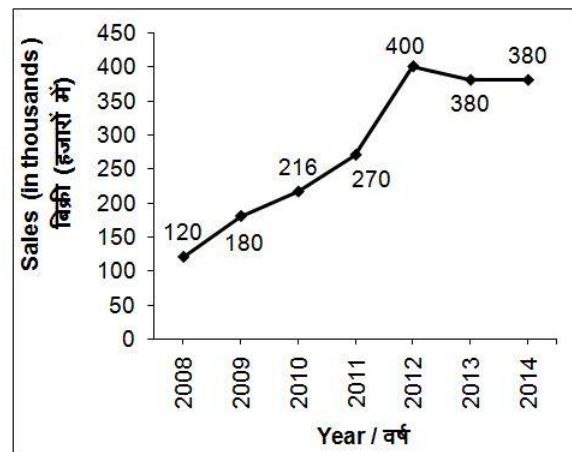
- 1) 276
- 2) 280
- 3) 286
- 4) 278

Correct Answer: 278

QID : 149 -

The line chart given below shows the sales (in thousands) of company A from year 2008 to 2014.

नीचे दिए गए रेखा चित्र में वर्ष 2008 से 2014 तक कंपनी A की बिक्री (हजारों में) को दर्शाया गया है।



During how many years the sales was more than 320 thousand?

कितने वर्षों के दौरान बिक्री 320 हजार से अधिक थी?

Options:

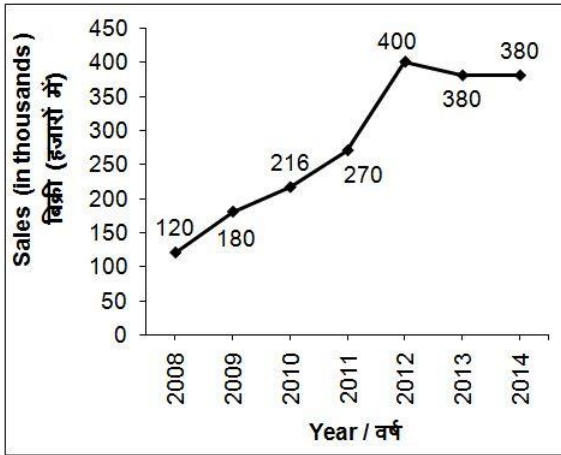
- 1) 3
- 2) 4
- 3) 5
- 4) 0

Correct Answer: 3

QID : 150 -

The line chart given below shows the sales (in thousands) of company A from year 2008 to 2014.

नीचे दिए गए रेखा चित्र में वर्ष 2008 से 2014 तक कंपनी A की बिक्री (हजारों में) को दर्शाया गया है।



What is the difference (in thousands) between second highest sales year and the least sales year?

दूसरे सबसे अधिक बिक्री वाले वर्ष तथा सबसे कम बिक्री वाले वर्ष के मध्य अंतर (हजारों में) क्या है?

Options:

- 1) 280
- 2) 150
- 3) 260
- 4) 200

Correct Answer: 260

QID : 151 - In the following question, some part of the sentence may have errors. Find out which part of the sentence has an error and select the appropriate option. If a sentence is free from error, select 'No Error'.

The regime clear a floor test as a (1)/ result, the courts can still set (2)/ aside the disqualification. (3)/ No error (4)

Options:

- 1) 1
- 2) 2
- 3) 3
- 4) 4

Correct Answer: 1

QID : 152 - In the following question, some part of the sentence may have errors. Find out which part of the sentence has an error and select the appropriate option. If a sentence is free from error, select 'No Error'.

Thereby, necessitate a fresh (1)/ test in the basis of (2)/ the original strength. (3)/ No error (4)

Options:

- 1) 1
- 2) 2
- 3) 3
- 4) 4

Correct Answer: 2

QID : 153 - In the following question, the sentence given with blank to be filled in with an appropriate word.

Select the correct alternative out of the four and indicate it by selecting the appropriate option.

I went to congratulate my cousin _____ his success in GMAT.

Options:

- 1) for
- 2) at
- 3) in
- 4) over

Correct Answer: for

QID : 154 - In the following question, the sentence given with blank to be filled in with an appropriate word. Select the correct alternative out of the four and indicate it by selecting the appropriate option.

Japan as well as Philippines _____ hit by an earthquake.

Options:

- 1) were
- 2) have
- 3) was
- 4) are

Correct Answer: was

QID : 155 - In the following question, out of the given four alternatives, select the one which best expresses the meaning of the given word.

Tempest

Options:

- 1) Calm
- 2) Quiet
- 3) Stillness
- 4) Storm

Correct Answer: Storm

QID : 156 - In the following question, out of the given four alternatives, select the one which best expresses the meaning of the given word.

Vintage

Options:

- 1) Inferior
- 2) Classic
- 3) Minor
- 4) Fresh

Correct Answer: Classic

QID : 157 - In the following question, out of the given four alternatives, select the one which best expresses the meaning of the given word.

Tinsel

Options:

- 1) Plain
- 2) Simple
- 3) Unflashy
- 4) Garnish

Correct Answer: Garnish

QID : 158 - In the following question, out of the given four alternatives, select the one which is opposite in meaning of the given word.

Defuse

Options:

- 1) Disarm

- 2) Diminish
- 3) Lessen
- 4) Agitate

Correct Answer: Agitate

QID : 159 - In the following question, out of the given four alternatives, select the one which is opposite in meaning of the given word.

Thwart

Options:

- 1) Assist
- 2) Linder
- 3) Check
- 4) Confuse

Correct Answer: Assist

QID : 160 - In the following question, out of the given four alternatives, select the one which is opposite in meaning of the given word.

Copious

Options:

- 1) Scarce
- 2) Abundant
- 3) Ample
- 4) Plenty

Correct Answer: Scarce

QID : 161 - In the following question, out of the four given alternatives, select the alternative which best expresses the meaning of the Idiom/Phrase.

Hit the jackpot

Options:

- 1) To find exactly what was sought
- 2) In favour of both sides
- 3) To help someone silently
- 4) The evil intension

Correct Answer: To find exactly what was sought

QID : 162 - In the following question, out of the four given alternatives, select the alternative which best expresses the meaning of the Idiom/Phrase.

To bring to light

Options:

- 1) To switch on
- 2) To remove strains on something
- 3) To reveal
- 4) To be able to look beautiful

Correct Answer: To reveal

QID : 163 - Improve the bracketed part of the sentence.

The problem is most acute for exporters, (**from whom**) the Council has now formed a special committee under the Revenue Secretary.

Options:

- 1) for who
- 2) from who
- 3) for whom
- 4) No improvement

Correct Answer: for whom

QID : 164 - Improve the bracketed part of the sentence.

An ever-changing policy landscape is (**hard**) conducive for attracting investment.

Options:

- 1) harding
- 2) hardly
- 3) hard-on
- 4) No improvement

Correct Answer: hardly

QID : 165 - In the following question, out of the four given alternatives, select the alternative which is the best substitute of the phrase.

Literary theft.

Options:

- 1) Absenteeism
- 2) Plagiarism
- 3) Academicism
- 4) Adventurism

Correct Answer: Plagiarism

QID : 166 - In the following question, out of the four given alternatives, select the alternative which is the best substitute of the phrase.

One who speaks on behalf of others.

Options:

- 1) Salesman
- 2) Spokesman
- 3) Chairman
- 4) Superman

Correct Answer: Spokesman

QID : 167 - In the following question, a word has been written in four different ways out of which only one is correctly spelt. Select the correctly spelt word.

Options:

- 1) Haorizontal
- 2) Horizonetal
- 3) Horizontal
- 4) Horisontal

Correct Answer: Horizontal

QID : 168 - In the following question, a word has been written in four different ways out of which only one is correctly spelt. Select the correctly spelt word.

Options:

- 1) Inconvenience
- 2) Inconwenience
- 3) Inconvenceince
- 4) Inconvineince

Correct Answer: Inconvenience

QID : 169 - Rearrange the parts of the sentence in correct order.

The economic development plans

P: of energy to remain operational

Q: necessarily required increasing amount

R: and implemental since independence

Options:

- 1) PQR
- 2) RQP
- 3) QPR
- 4) PRQ

Correct Answer: QPR

QID : 170 - Rearrange the parts of the sentence in correct order.

Salina was

P: summer camp she

Q: excited about the

R: was attending

Options:

1) QPR

2) RPQ

3) PQR

4) PRQ

Correct Answer: QPR

QID : 171 - In the following passage some of the words have been left out. Read the passage carefully and select the correct answer for the given blank out of the four alternatives.

Women should be given equal opportunity in education like men and they should not be _____ from any development activities. Women cover almost half the population of the country which means if women are uneducated half of the country is uneducated which bring poor _____ condition. Through the women education the social and economic development will be _____ in India. To spread the importance and improve the level of women education all over the country, countrywide national propaganda and awareness programmes are very _____. An educated woman can educate her _____ family and thus whole country.

should not be _____ from

Options:

1) isolated

2) included

3) incorporated

4) publicised

Correct Answer: isolated

QID : 172 - In the following passage some of the words have been left out. Read the passage carefully and select the correct answer for the given blank out of the four alternatives.

Women should be given equal opportunity in education like men and they should not be _____ from any development activities. Women cover almost half the population of the country which means if women are uneducated half of the country is uneducated which bring poor _____ condition. Through the women education the social and economic development will be _____ in India. To spread the importance and improve the level of women education all over the country, countrywide national propaganda and awareness programmes are very _____. An educated woman can educate her _____ family and thus whole country.

bring poor _____ condition.

Options:

1) socio-politico

2) socio-economic

3) politico-socio

4) politico-communal

Correct Answer: socio-economic

QID : 173 - In the following passage some of the words have been left out. Read the passage carefully and select the correct answer for the given blank out of the four alternatives.

Women should be given equal opportunity in education like men and they should not be _____ from any development activities. Women cover almost half the population of the country which means if women are uneducated half of the country is uneducated which bring poor _____ condition. Through the women education the social and economic development will be _____ in India. To spread the importance and improve the level of women education all over the country, countrywide national propaganda and awareness programmes are very _____. An educated woman can educate her _____ family and thus whole country.

development will be _____ in India.

Options:

1) bigger

2) faster

3) slower

4) pace

Correct Answer: faster

QID : 174 - In the following passage some of the words have been left out. Read the passage carefully and select the correct answer for the given blank out of the four alternatives.

Women should be given equal opportunity in education like men and they should not be _____ from any development activities. Women cover almost half the population of the country which means if women are uneducated half of the country is uneducated which bring poor _____ condition. Through the women education the social and economic development will be _____ in India. To spread the importance and improve the level of women education all over the country, countrywide national propaganda and awareness programmes are very _____. An educated woman can educate her _____ family and thus whole country.

programmes are very _____.

Options:

1) inessential

2) useless

3) necessary

4) ordinary

Correct Answer: necessary

QID : 175 - In the following passage some of the words have been left out. Read the passage carefully and select the correct answer for the given blank out of the four alternatives.

Women should be given equal opportunity in education like men and they should not be _____ from any development activities. Women cover almost half the population of the country which means if women are uneducated half of the country is uneducated which bring poor _____ condition. Through the women education the social and economic development will be _____ in India. To spread the importance and improve the level of women education all over the country, countrywide national propaganda and awareness

programmes are very _____. An educated woman can educate her _____ family and thus whole country.

educate her _____ family

Options:

- 1) part
- 2) some
- 3) whole
- 4) incomplete

Correct Answer: whole

QID : 176 - Which of the following sectors have some formal processes and procedures?

निम्नलिखित में से किन क्षेत्रों में कुछ औपचारिक प्रक्रियाएं तथा कार्यप्रणाली होती हैं?

Options:

- 1) Unorganised sector
असंगठित क्षेत्र
- 2) Organised sector
संगठित क्षेत्र
- 3) Both organised and unorganised sector
संगठित तथा असंगठित दोनों क्षेत्र
- 4) Neither organized nor unorganised sector
न तो संगठित तथा न असंगठित क्षेत्र

Correct Answer: Organised sector
संगठित क्षेत्र

QID : 177 - Which one of the following is correct?
निम्न में से कौन सा सही है?

Options:

- 1) Income of bank = Interest charged from borrowers + interest paid to depositors
बैंक की आय = उधारकर्ताओं से लिया गया ब्याज + जमाकर्ताओं को दिया गया ब्याज
- 2) Income of bank = Interest charged from borrowers × interest paid to depositors
बैंक की आय = उधारकर्ताओं से लिया गया ब्याज × जमाकर्ताओं को दिया गया ब्याज
- 3) Income of bank = Interest charged from borrowers ÷ interest paid to depositors
बैंक की आय = उधारकर्ताओं से लिया गया ब्याज ÷ जमाकर्ताओं को दिया गया ब्याज
- 4) Income of bank = Interest charged from borrowers – interest paid to depositors
बैंक की आय = उधारकर्ताओं से लिया गया ब्याज – जमाकर्ताओं को दिया गया ब्याज

Correct Answer: Income of bank = Interest charged from borrowers – interest paid to depositors
बैंक की आय = उधारकर्ताओं से लिया गया ब्याज – जमाकर्ताओं को दिया गया ब्याज

QID : 178 - What is the total strength of (Council of state) Rajya Sabha of India?

भारत के राज्य सभा में कुल कितने सदस्य हैं?

Options:

- 1) 245
- 2) 275

3) 258

4) 260

Correct Answer: 245

QID : 179 - When did Indian constitution came into effect?

भारतीय संविधान कब से लागू हुआ?

Options:

- 1) 26th November 1949
26 नवम्बर 1949
- 2) 26th January 1950
26 जनवरी 1950
- 3) 15th August 1950
15 अगस्त 1950
- 4) 15th August 1949
15 अगस्त 1949

Correct Answer: 26th January 1950

26 जनवरी 1950

26 जनवरी 1950

QID : 180 - In which battle against Mysore the East India Company ultimately win a victory?

मैसूर के विरुद्ध किस युद्ध में ईस्ट इंडिया कंपनी ने आखिरकार विजय प्राप्त की थी?

Options:

- 1) First Anglo-Mysore War
पहला आंग्ल-मैसूर युद्ध
- 2) Second Anglo-Mysore War
दूसरा आंग्ल-मैसूर युद्ध
- 3) Third Anglo-Mysore War
तृतीय आंग्ल-मैसूर युद्ध
- 4) Fourth Anglo-Mysore War
चतुर्थ आंग्ल-मैसूर युद्ध

Correct Answer: Fourth Anglo-Mysore War

चतुर्थ आंग्ल-मैसूर युद्ध

पहला आंग्ल-मैसूर युद्ध

QID : 181 - How many volumes of history of Akbar's reign were written by Abul Fazl?

अबुल फजल द्वारा अकबर के शासन के इतिहास की कितनी जिल्दें लिखी गई थीं?

Options:

- 1) 1
- 2) 2
- 3) 3
- 4) 4

Correct Answer: 3

QID : 182 -

Match the following.

निम्नलिखित का मिलान कीजिए।

Zone / क्षेत्र	Temperature condition / तापमान स्थिति
A. Torrid Zone उष्ण क्षेत्र	1. Moderate Temperature मध्यम तापमान
B. Temperate Zone समशीतोष्ण क्षेत्र	2. Very cold अधिक ठंडा
C. Frigid Zone ठंडा क्षेत्र	3. Maximum Heat उच्च ताप

Options:

- 1) A-2, B-1, C-3
- 2) A-1, B-3, C-2
- 3) A-3, B-1, C-2
- 4) A-3, B-2, C-1

Correct Answer: A-3, B-1, C-2

QID : 183 - What are the mountains arranged in a line called?

एक रेखा में व्यवस्थित पहाड़ों को क्या कहा जाता है?

Options:

- 1) Plateau
पठार
- 2) Peak
चोटी
- 3) Range
पर्वत श्रृंखला
- 4) Plains
मैदान

Correct Answer: Range

पर्वत श्रृंखला
पर्वत श्रृंखला

QID : 184 - The molecule used by most animals for long term energy storage is _____.

दीर्घकालिक ऊर्जा भंडारण के लिए अधिकांश जानवरों द्वारा इस्तेमाल अणु _____ है।

Options:

- 1) vitamin
विटामिन
- 2) fat
वसा
- 3) cholesterol
कोलेस्ट्रॉल
- 4) roughage
चारा

Correct Answer: fat

वसा
चारा

QID : 185 - Phenylmercuric acetate _____.

फेनिलमैरिक्यूरिक एसिटेट _____।

Options:

- 1) Reduces transpiration rate

वाष्पोत्सर्जन दर कम करता है

2) Increases transpiration rate

वाष्पोत्सर्जन दर बढ़ाता है

3) Kills the plant

पौधे को मारता है

4) Reduces respiration

श्वसन कम करता है

Correct Answer: Reduces transpiration rate

वाष्पोत्सर्जन दर कम करता है

वाष्पोत्सर्जन दर बढ़ाता है

QID : 186 - Deformed bones are associated with which disease?

विकृत हड्डियाँ किस रोग से संबंधित हैं?

Options:

- 1) Cholera
हैजा
- 2) Scurvy
स्कर्वी
- 3) Anemia
एनीमिया
- 4) Rickets
रिकेट्स

Correct Answer: Rickets

रिकेट्स

रिकेट्स

QID : 187 - Momentum has the same units as that of _____.

गति में _____ के समान इकाइयाँ हैं।

Options:

- 1) impulse
आवेग
- 2) force
बल
- 3) acceleration
त्वरण
- 4) speed
गति

Correct Answer: impulse

आवेग
बल

QID : 188 - One joule is approximately equal to _____.

एक जूल लगभग _____ के बराबर होता है।

Options:

- 1) 0.28 calorie
0.28 कैलोरी
- 2) 54 calorie
54 कैलोरी
- 3) 0.24 calorie
0.24 कैलोरी
- 4) 42 calorie

42 कैलोरी

Correct Answer: 0.24 calorie

0.24 कैलोरी

42 कैलोरी

QID : 189 - What is the pictorial representation of algorithm called?

एल्गोरिथम का सचित्र निरूपण क्या कहलाता है?

Options:

1) Image

चित्र

2) Graph

ग्राफ

3) Flow chart

प्रवाह चार्ट

4) Design

डिज़ाइन

Correct Answer: Flow chart

प्रवाह चार्ट

QID : 190 - Which of the following acids is called the king of the acids?

निम्नलिखित में से किस अम्ल को अम्लों का राजा कहा जाता है?

Options:

1) Carbonic acid

कार्बोनिक अम्ल

2) Phosphoric acid

फॉस्फोरिक अम्ल

3) Nitric acid

नाइट्रिक अम्ल

4) Sulphuric acid

सल्फ्यूरिक अम्ल

Correct Answer: Sulphuric acid

सल्फ्यूरिक अम्ल

सल्फ्यूरिक अम्ल

QID : 191 - Members of which of the following have similar chemical properties?

निम्नलिखित में से किसके सदस्यों में समान रासायनिक गुण होते हैं?

Options:

1) Isotope

आइसोटोप

2) Isobars

आइसोबार

3) Isotones

आइसोटोन

4) All options are correct

सभी विकल्प सही हैं

Correct Answer: Isotope

आइसोटोप

सभी विकल्प सही हैं

QID : 192 - Which among the following constitute the upper part of aquatic ecosystem?

निम्नलिखित में से कौन जलीय पारिस्थितिकी तंत्र का ऊपरी हिस्सा बनाते हैं?

Options:

1) Fishes

मछलियाँ

2) Planktons

प्लवक

3) Algae

शैवाल

4) Crustaceans

क्रस्टेशियन

Correct Answer: Planktons

प्लवक

QID : 193 - Which among the following is a nationwide campaign for achieving universal accessibility for persons with disabilities?

निम्नलिखित में से कौन सा विकलांग व्यक्तियों के लिए सार्वभौमिक पहुँच प्राप्त कराने के लिए राष्ट्रव्यापी अभियान है?

Options:

1) Deendayal Disabled Rehabilitation Scheme

दीनदयाल विकलांग पुनर्वास योजना

2) Manual Scavenging Act

हाथ से सफाई का कानून

3) Sugamya Bharat Abhiyan

सुगम्य भारत अभियान

4) Integrated Disabled Development Services

एकीकृत विकलांग विकास सेवाएं

Correct Answer: Sugamya Bharat Abhiyan

सुगम्य भारत अभियान

सुगम्य भारत अभियान

QID : 194 - Who invented Polio Vaccine?

पोलिओ वैक्सीन की खोज किसने की?

Options:

1) Ernest Rutherford

अर्नेस्ट रदरफोर्ड

2) Jonas E. Salk

जोनास ई. साल्क

3) Richard Taylor

रिचर्ड टेलर

4) Karl Jansky

कार्ल जांस्की

Correct Answer: Jonas E. Salk

जोनास ई. साल्क

जोनास ई. साल्क

QID : 195 - Who among the following is associated with Badminton?

निम्नलिखित में से कौन बैडमिंटन से संबंधित है?

Options:

1) R.S. Brar
आर. एस. ब्रार

2) Leander Paes
लिएंडर पेस

3) Prakash Padukone
प्रकाश पदुकोण

4) Jaspal Rana
जसपाल राणा

Correct Answer: Prakash Padukone
प्रकाश पदुकोण
लिएंडर पेस

QID : 196 - The figures of the Mathura school of arts were made of _____.
मथुरा कला विद्यालय की आकृतियाँ _____ की बनी होती थी।

Options:

1) Marble
संगमरमर

2) Bricks
ईंटें

3) Spotted red stones
धब्बेदार लाल पथर

4) Granite
ग्रेनाइट

Correct Answer: Spotted red stones
धब्बेदार लाल पथर

QID : 197 - Who won the best actress award in the 64th National film award?

64-वाँ राष्ट्रीय फिल्म पुरस्कार में सर्वश्रेष्ठ अभिनेत्री का पुरस्कार किसने दिया?

Options:

1) Priyanka chopra
प्रियंका चोपडा

2) Alia Bhatt
आलिया भट्ट

3) Surabhi Lakshmi
सुरभी लक्ष्मी

4) Daizy Shah
डेज़ी शाह

Correct Answer: Surabhi Lakshmi
सुरभी लक्ष्मी

QID : 198 - Who is the author of book named "Voice of Conscience"?

"वॉयस ऑफ कॉन्शन्स" नामक पुस्तक के लेखक कौन हैं?

Options:

1) Indira Gandhi
इंदिरा गांधी

2) Satyajit Ray
सत्यजीत रे

3) Kiran Bedi
किरण बेदी

4) V. V. Giri
वी. वी. गिरि

Correct Answer: V. V. Giri
वी. वी. गिरि
किरण बेदी

QID : 199 - What is the name of bilateral maritime exercises held between navies of India and Oman?
भारत और ओमान की नौसेना के बीच आयोजित द्विपक्षीय समुद्री अभ्यासों का नाम क्या है?

Options:

1) Naseem Al-Bahr
नसीम अल-बहर

2) Al-Nagah
अल-नगाह

3) Druzhba
द्रुजबा

4) Khanjar
खंजर

Correct Answer: Naseem Al-Bahr
नसीम अल-बहर
द्रुजबा

QID : 200 - Who brokered the Indus Water Treaty between India and Pakistan?

भारत और पाकिस्तान के बीच सिंधु जल संधि की मध्यस्थता किसने की थी?

Options:

1) World Bank
विश्व बैंक

2) International Monetary Fund
अंतरराष्ट्रीय मुद्रा कोष

3) World Trade Organisation
विश्व व्यापार संगठन

4) World Health Organisation
विश्व स्वास्थ्य संगठन

Correct Answer: World Bank
विश्व बैंक
विश्व बैंक