



**Staff Selection Commission**  
(Government Of India)

**REGISTRATION NUMBER : 2201256048**  
**CANDIDATES NAME: MOCKTIME.COM**  
**EXAM NAME : SSC CHSL**  
**EXAM DURATION : 01:00 Hrs**  
**TOTAL MARKS : 200**  
**TOTAL NO OF QUESTIONS : 100**

**QID : 201 -**

In the following question, select the number which can be placed at the sign of question mark (?) from the given alternatives.

निम्नलिखित प्रश्न में दिए गए विकल्पों में से प्रश्न चिह्न (?) के स्थान पर आने वाली संख्या को चुनिए।

4	7	3	7	6	?
3	12	5	13	8	17

**Options:**

- 1) 5
- 2) 4
- 3) 3
- 4) 7

**Correct Answer: 5**

**QID : 202 -**

How many quadrilaterals are there in the given figure?

दी गई आकृति में कितने चतुर्भुज हैं?



**Options:**

- 1) 4
- 2) 5
- 3) 6
- 4) 8

**Correct Answer: 6**

**QID : 203 -**

A word is represented by only one set of numbers as given in any one of the alternatives. The sets of numbers given in the alternatives are represented by two classes of alphabets as shown in the given two matrices. The columns and rows of **Matrix-I** are numbered from 0 to 4 and that of **Matrix-II** are numbered from 5 to 9. A letter from these matrices can be represented first by its row and next by its column, for example, 'A' can be represented by 24, 95, etc., and 'M' can be represented by 11, 66, etc. Similarly, you have to identify the set for the word "MONK".

एक शब्द केवल एक संख्या-समूह द्वारा दर्शाया गया है, जैसा कि विकल्पों में से किसी एक में दिया गया है। विकल्पों में दिए गए संख्या-समूह अक्षरों के दो वर्गों द्वारा दर्शाए गए हैं, जैसा कि दिए गए दो आव्यूहों में है। आव्यूह-I के स्तम्भ और पंक्ति की संख्या 0 से 4 है और आव्यूह-II की 5 से 9। इन आव्यूहों से एक अक्षर को पहले उसकी पंक्ति और बाद में स्तम्भ संख्या द्वारा दर्शाया जा सकता है। उदाहरण के लिए 'A' को 24, 95, आदि द्वारा दर्शाया जा सकता है तथा 'M' को 11, 66, आदि द्वारा दर्शाया जा सकता है। इसी तरह से आपको प्रश्न में दिए शब्द "MONK" के लिए समूह को पहचानना है।

Matrix-I आव्यूह-I						Matrix-II आव्यूह-II					
	0	1	2	3	4	5	6	7	8	9	
0	T	Q	W	G	K	5	Z	O	D	C	X
1	K	M	O	P	S	6	G	M	N	H	V
2	I	P	X	K	A	7	E	O	Y	K	T
3	F	H	J	L	N	8	D	F	W	L	R
4	A	R	Q	V	X	9	A	E	U	N	P

**Options:**

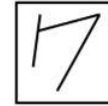
- 1) 11, 12, 34, 86
- 2) 11, 56, 98, 04
- 3) 66, 76, 88, 10
- 4) 86, 02, 32, 31

**Correct Answer: 11, 56, 98, 04**

**QID : 204 -**

From the given answer figures, select the one in which the question figure is hidden/embedded.

दी गई उत्तर आकृतियों में से उस उत्तर आकृति को चुनिए जिस में प्रश्न आकृति निहित है।



**Options:**

- 1)
- 2)
- 3)
- 4)

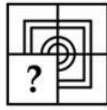
**Correct Answer:**



**QID : 205 -**

Which answer figure will complete the pattern in the question figure?

कौन सी उत्तर आकृति प्रश्न आकृति के प्रतिरूप को पूरा करेगी?



**Options:**

- 1)
- 2)
- 3)
- 4)

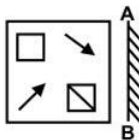
**Correct Answer:**



**QID : 206 -**

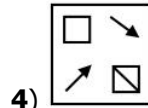
If a mirror is placed on the line AB, then which of the answer figures is the right image of the given figure?

यदि एक दर्पण को AB रेखा पर रखा जाए, तो दी गई उत्तर आकृतियों में से कौन सी आकृति प्रश्न आकृति की सही प्रतिबिम्ब होगी?

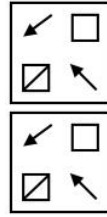


**Options:**

- 1)
- 2)
- 3)



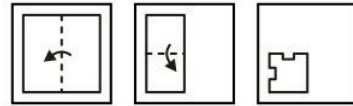
**4) Correct Answer:**



**QID : 207 -**

A piece of paper is folded and punched as shown below in the question figures. From the given answer figures, indicate how it will appear when opened?

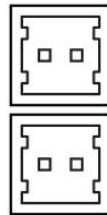
नीचे के प्रश्न आकृतियों में दिखाए अनुसार कागज को मोड़कर छेदने तथा खोलने के बाद वह किस उत्तर आकृति जैसा दिखाई देगा?



**Options:**

- 1)
- 2)
- 3)
- 4)

**Correct Answer:**



**QID : 208 -** By interchanging which two signs the equation will be correct?

$$19 \times 3 - 6 \times 4 + 4 = 77$$

किन दो चिह्नों को आपस में परस्पर बदलने पर समीकरण सही हो जाएगा?

$$19 \times 3 - 6 \times 4 + 4 = 77$$

**Options:**

- 1) + and x  
+ तथा x
- 2) = and x  
= तथा x

3) + and -  
+ तथा -

4) - and x  
- तथा x

**Correct Answer:** + and -

+ तथा -

+ तथा -

**QID : 209** - If  $5 \# 6 \# 7 = 9$  and  $6 \# 9 \# 5 = 10$ , then

$7 \# 3 \# 6 = ?$

यदि  $5 \# 6 \# 7 = 9$  तथा  $6 \# 9 \# 5 = 10$  हो, तो

$7 \# 3 \# 6 = ?$

**Options:**

- 1) 8
- 2) 10
- 3) 12
- 4) 6

**Correct Answer:** 8

**QID : 210** - Arrange the given words in the sequence in which they occur in the dictionary.

1. Owl
2. Ornament
3. Orange
4. Oxidation
5. Omnious

निम्नलिखित शब्दों को शब्दकोश में आने वाले क्रम के अनुसार लिखें।

1. Owl
2. Ornament
3. Orange
4. Oxidation
5. Omnious

**Options:**

- 1) 53241
- 2) 53214
- 3) 52341
- 4) 52314

**Correct Answer:** 53214

**QID : 211** - In the following question, select the missing number from the given series.

**16, 25, 36, 49, ?**

निम्नलिखित प्रश्न में दिए गए विकल्पों में से लुप्त अंक ज्ञात कीजिए।

**16, 25, 36, 49, ?**

**Options:**

- 1) 64
- 2) 65
- 3) 81
- 4) 66

**Correct Answer:** 64

**QID : 212** - A series is given with one term missing. Select the correct alternative from the given ones that will complete the series.

**ABC, DEF, HIJ, MNO, ?**

एक अनुक्रम दिया गया है, जिसमें से एक पद लुप्त है। दिए गए विकल्पों में से वह सही विकल्प चुनिए, जो अनुक्रम को पूरा करे।

**ABC, DEF, HIJ, MNO, ?**

**Options:**

- 1) RST
- 2) PQR
- 3) STV
- 4) STU

**Correct Answer:** STU

**QID : 213** - In the following question, select the odd word from the given alternatives.

निम्नलिखित प्रश्न में दिए गए विकल्पों में से विषम शब्द को चुनिए।

**Options:**

- 1) Axe  
कुल्हाड़ी
- 2) Tube  
नली
- 3) Light  
प्रकाश
- 4) Mirror  
शीशा

**Correct Answer:** Light

प्रकाश

प्रकाश

**QID : 214** - In the following question, select the odd number from the given alternatives.

निम्नलिखित प्रश्न में दिए गए विकल्पों में से विषम संख्या को चुनिए।

**Options:**

- 1) 225
- 2) 169
- 3) 625
- 4) 615

**Correct Answer:** 615

**QID : 215** - In the following question, select the odd letters from the given alternatives.

निम्नलिखित प्रश्न में दिए गए विकल्पों में से विषम अक्षरों को चुनिए।

**Options:**

- 1) DB
- 2) TR
- 3) YX
- 4) OM

**Correct Answer:** YX



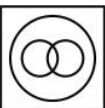

**QID : 216** - Identify the diagram that best represents the relationship among the given classes.

**Father, Brother, Male**

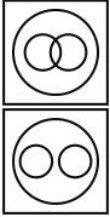
वह आरेख चुनिए जो नीचे दिए गए वर्गों के बीच के संबंध का सही निरूपण करता है।

पिता, भाई, पुरुष

**Options:**

- 1) 
- 2) 
- 3) 
- 4) 

**Correct Answer:**



**QID : 217** - In the following question, select the related word from the given alternatives.

**Knife : Cut :: Spoon : ?**

निम्नलिखित प्रश्न में दिए गए विकल्पों में से संबंधित शब्द को चुनिए।

**चाकू : काटना :: चम्मच : ?**

**Options:**

- 1) Steel  
इस्पात
- 2) Eat  
खाना
- 3) Plate  
प्लेट
- 4) Plastic  
प्लास्टिक

**Correct Answer:** Eat

खाना

खाना

**QID : 218** - In the following question, select the related number from the given alternatives.

**115 : 7 :: 638 : ?**

निम्नलिखित प्रश्न में दिए गए विकल्पों में से संबंधित संख्या को चुनिए।

**115 : 7 :: 638 : ?**

**Options:**

- 1) 15
- 2) 17
- 3) 10
- 4) 0

**Correct Answer:** 17

**QID : 219** - In the following question, select the related letters from the given alternatives.

**ZAB : YZA :: XYZ : ?**

निम्नलिखित प्रश्न में दिए गए विकल्पों में से संबंधित अक्षरों को चुनिए।

**ZAB : YZA :: XYZ : ?**

**Options:**

- 1) WXZ
- 2) WXY
- 3) ABC
- 4) MNO

**Correct Answer:** WXY

**QID : 220** - In the following question, select the word which cannot be formed using the letters of the given word.

**STEADFAST**

निम्नलिखित विकल्पों में से वह शब्द चुनिए जो दिए गए शब्द के अक्षरों का प्रयोग करके नहीं बनाया जा सकता।

**STEADFAST**

**Options:**

- 1) DEAN
- 2) DEAF
- 3) FAST
- 4) FED

**Correct Answer:** DEAN

**QID : 221** - Present ages of P and Q are in the ratio 5 : 7 respectively. After eight years this ratio becomes 3 : 4. What is the present age (in years) of P?

P तथा Q की वर्तमान आयु क्रमशः 5 : 7 के अनुपात में है।

आठ वर्ष पश्चात यह अनुपात 3 : 4 हो जाता है। P की वर्तमान आयु (वर्षों में) क्या है?

**Options:**

- 1) 32
- 2) 48
- 3) 40
- 4) 56

**Correct Answer:** 40

**QID : 222** - P remembers his birthday is before 23<sup>rd</sup> March. P's father remembers his birthday is after 21<sup>st</sup> March. On which date of March is his birthday?

P को याद है कि उसका जन्मदिन 23 मार्च से पूर्व है। P के पिता को याद है कि उसका जन्मदिन 21 मार्च के पश्चात है।

उसका जन्मदिन मार्च की कौन सी तिथि को है?

**Options:**

- 1) 21
- 2) 22
- 3) 23
- 4) 24

**Correct Answer:** 22

**QID : 223** - In the following question below are given some statements followed by some conclusions. Taking the given statements to be true even if they seem to be at variance from commonly known facts, read all the conclusions and then decide which of the given conclusion logically follows the given statements

**Statements:**

- I. All blue are black.
- II. Some red are black.

**Conclusions:**

I. All red are black.

II. No red is black.

नीचे दिए गए प्रश्न में कुछ कथन और उनके बाद उन कथनों पर आधारित कुछ निष्कर्ष दिए गए हैं, हालांकि उनमें सामान्य ज्ञात तथ्यों से भिन्नता हो सकती है। सभी निष्कर्ष पढ़ें और फिर निर्धारित करें कि दिए गए कौन से निष्कर्ष, दिए गए कथनों के आधार पर युक्तिसंगत हैं।

**कथन:**

I. सभी नीले काले हैं।

II. कुछ लाल काले हैं।

**निष्कर्ष:**

I. सभी लाल काले हैं।

II. कोई लाल काले नहीं है।

**Options:**

1) Only conclusion (I) follows.

केवल निष्कर्ष (I) सही है।

2) Only conclusion (II) follows.

केवल निष्कर्ष (II) सही है।

3) Both conclusion follow.

दोनों ही निष्कर्ष सही हैं।

4) Neither conclusion (I) nor conclusion (II) follows.

न तो निष्कर्ष (I) न ही निष्कर्ष (II) सही है।

**Correct Answer:** Neither conclusion (I) nor conclusion (II) follows.

न तो निष्कर्ष (I) न ही निष्कर्ष (II) सही है।

न तो निष्कर्ष (I) न ही निष्कर्ष (II) सही है।

**QID : 224** - In a certain code language, "GAIN" is written as "HCLR". How is "HOUR" written in that code language?

एक विशिष्ट कोड भाषा में, "GAIN" को "HCLR" लिखा जाता है। इस कोड भाषा में "HOUR" को किस प्रकार लिखा जाएगा?

**Options:**

1) IQXV

2) IQXU

3) IPXV

4) IPWU

**Correct Answer:** IQXV

**QID : 225** - In a certain code language, "KIT" is written as "39" and "KAT" is written as "31". How is "MIX" written in that code language?

एक विशिष्ट कोड भाषा

में, "KIT" को "39" तथा "KAT" को "31" लिखा जाता है। इस कोड भाषा में "MIX" को किस प्रकार लिखा जाएगा?

**Options:**

1) 44

2) 46

3) 45

4) 47

**Correct Answer:** 45

**QID : 226** - If product of two numbers is 432 and one number is 16. What is the second number?

यदि दो संख्याओं का गुणनफल 432 है तथा एक संख्या 16 है।

दूसरी संख्या क्या है?

**Options:**

1) 17

2) 23

3) 33

4) 27

**Correct Answer:** 27

**QID : 227** - How many positive factors of 425 are there? 425 के कितने धनात्मक गुणनखंड हैं?

**Options:**

1) 4

2) 6

3) 9

4) 10

**Correct Answer:** 6

**QID : 228** - How many times digit '0' appears in the number from 1 to 100?

1 से 100 तक की संख्या में अंक '0' कितनी बार आता है?

**Options:**

1) 11

2) 17

3) 10

4) 13

**Correct Answer:** 11

**QID : 229** - What is the units digit of  $(311)^{51} \times (25)^{36}$ ?  $(311)^{51} \times (25)^{36}$  का इकाई अंक क्या है?

**Options:**

1) 0

2) 2

3) 5

4) 6

**Correct Answer:** 5**QID : 230** -What is the value of  $\sqrt{645} - \sqrt{400}$ ? $\sqrt{645} - \sqrt{400}$  का मान क्या है?**Options:**

1) 24

2) 30

3) 25

4) 20

**Correct Answer:** 25

**QID : 231** - Which of the following statement is true?

I.  $7^4$  is odd.II.  $4^7$  is odd.

निम्नलिखित में से कौन सा कथन सत्य है?

I.  $7^4$  विषम है।II.  $4^7$  विषम है।**Options:**

1) Only I

केवल I

2) Only II

केवल II

3) Both I and II

I तथा II दोनों

4) Neither I nor II

न तो I न ही II

**Correct Answer:** Only I

केवल I

केवल I

**QID : 232** - P can do a piece of work in 20 days and Q can do the same piece of work in 30 days. They start working together and work for 5 days and then both leave the work. R alone finishes the remaining work in 21 days. In how many days will R alone finish the whole work?

P एक कार्य को 20 दिनों में पूरा कर सकता है तथा Q उसी कार्य को 30 दिनों में पूरा कर सकता है। दोनों एक साथ कार्य करना प्रारंभ करते हैं तथा 5 दिनों कार्य पूरा करते हैं तथा फिर दोनों कार्य छोड़ देते हैं। R शेष कार्य को अकेला 21 दिनों में पूरा करता है। R अकेला पूरे कार्य को कितने दिनों में पूरा करेगा?

**Options:**

1) 30

2) 33

3) 36

4) 42

**Correct Answer:** 36

**QID : 233** - Suraj and Ratan together can do a work in 12 days. Suraj alone can do the work in 15 days. In how many days can Ratan alone do the work?

रतन तथा सूरज एक कार्य को मिलकर 12 दिनों में पूरा कर सकते हैं। सूरज अकेला कार्य को 15 दिनों में पूरा कर सकता है। रतन अकेला उस कार्य को कितने दिनों में पूरा करेगा?

**Options:**

1) 70

2) 60

3) 65

4) 75

**Correct Answer:** 60

**QID : 234** - If the area of an equilateral triangle is  $36\sqrt{3} \text{ m}^2$ , then what is the value (in metres) of its height?

यदि किसी समबाहु त्रिभुज का क्षेत्रफल  $36\sqrt{3} \text{ मी.}^2$  है, तो उसकी ऊंचाई का मान (मीटर में) क्या है?

**Options:**

1) 6

2)  $6\sqrt{3}$

3) 18

4)  $3\sqrt{3}$

**Correct Answer:**  $6\sqrt{3}$

**QID : 235** - If the difference between discount of 25% and two successive discounts of 10% on a certain bill is Rs 84, then what is the amount (in Rs) of the bill?

यदि एक बिल में 25% तथा दो 10% की क्रमागत छूटों के बीच 84 रु का अंतर आता है, तो बिल की राशि (रु में) कितनी है?

**Options:**

1) 1600

2) 1400

3) 1250

4) 1380

**Correct Answer:** 1400

**QID : 236** - If a shopkeeper marks the price of goods 60% more than their cost price and allows a discount of 30%, then what is his gain or loss percent?

यदि एक दुकानदार अपने सामान पर उसके क्रय मूल्य से 60% अधिक मूल्य अंकित करता है तथा 30% की छूट देता है, तो उसका लाभ अथवा हानि प्रतिशत क्या है?

**Options:**

1) 12%, Profit

12%, लाभ

2) 12%, Loss

12%, हानि

3) 10%, Loss

10%, हानि

4) 20%, Profit

20%, लाभ

**Correct Answer:** 12%, Profit

12%, लाभ

12%, लाभ

**QID : 237** - If  $7.7$  of  $a = 1.21$  of  $b$ , then what is  $a : b$ ?

यदि  $a$  का  $7.7 = b$  का  $1.21$  हो, तो  $a : b$  क्या है?

**Options:**

1) 11 : 70

2) 11 : 77

3) 7 : 11

4) 7 : 3

**Correct Answer:** 11 : 70

**QID : 238** - Of three positive numbers, the ratio of  $1^{\text{st}}$  and  $2^{\text{nd}}$  is  $7 : 3$ , that of  $2^{\text{nd}}$  and  $3^{\text{rd}}$  is  $4 : 5$ . The product of  $1^{\text{st}}$  and  $3^{\text{rd}}$  is 10500. What is the sum of the three numbers?

तीन धनात्मक संख्याओं में, पहली तथा दूसरी का अनुपात 7 : 3, दूसरी तथा तीसरी का अनुपात 4 : 5 है। पहली तथा तीसरी का गुणनफल 10500 है। तीनों संख्याओं का योग क्या है?

**Options:**

1) 1600

2) 275

3) 1675

4) 1375

**Correct Answer:** 275

**QID : 239** - The average age of students in a class is 9 years. If a student with age 19 years joins the class, then new average age becomes 10 years. How many students are there in the class?

एक कक्षा में छात्रों की औसत आयु 9 वर्ष है। यदि 19 वर्ष आयु वाला एक छात्र कक्षा में शामिल हो जाता है, तो नयी औसत आयु 10 वर्ष हो जाती है। कक्षा में कितने छात्र हैं?

**Options:**

- 1) 7
- 2) 9
- 3) 8
- 4) 10

**Correct Answer:** 10

**QID : 240** - By selling an article for Rs 252 there is a loss of 16%. What is the cost price (in Rs) of the article?  
एक वस्तु को 252 रु में बेचने पर 16% की हानि होती है।

वस्तु का क्रय मूल्य (रु में) क्या है?

**Options:**

- 1) 325
- 2) 300
- 3) 280
- 4) 295

**Correct Answer:** 300

**QID : 241** - By Selling 2 articles for 1 rupee, a man gains 20%. Had he sold 4 articles per rupee, then what will be the loss percentage?

1 रुपये में 2 वस्तुओं को बेचने पर एक व्यक्ति को 20% का लाभ होता है। यदि वह एक रुपये में 4 वस्तुएँ बेचे, तो हानि प्रतिशत क्या होगा?

**Options:**

- 1) 25
- 2) 20
- 3) 30
- 4) 40

**Correct Answer:** 40

**QID : 242** - A number is increased first by 20% and then it is decreased by 20%. What is the percentage change in the number?

एक संख्या को पहले 20% से बढ़ाया जाता है तथा फिर उसे 20% से घटाया जाता है। संख्या में कितना प्रतिशत परिवर्तन हुआ है?

**Options:**

- 1) 4% decrease  
4% की कमी
- 2) 4% increase  
4% की वृद्धि
- 3) 40% increase  
40% की वृद्धि
- 4) No change  
कोई परिवर्तन नहीं

**Correct Answer:** 4% decrease

4% की कमी

4% की कमी

**QID : 243** - Total cost of 70 fans is Rs 56000. If cost of each fan decreases by 10% and number of fans decrease by 10%, then what will be the total cost (in Rs) of fans?

70 पंखों का कुल मूल्य 56000 रु है। यदि प्रत्येक पंखे का मूल्य 10% से कम कर दिया जाए तथा पंखों की संख्या 10% से कम हो जाए, तो पंखों का कुल मूल्य (रु में) क्या होगा?

**Options:**

- 1) 45360
- 2) 48200
- 3) 46680
- 4) 47420

**Correct Answer:** 45360

**QID : 244** - The speed of a stream is 3 km/hr. A boat goes 55 km and comes back to the starting point in 16 hours. What is the speed (in km/hr) of the boat in still water?

धारा की गति 3 कि.मी./घंटा है। एक नाव 55 कि.मी. की दूरी तय करती है और अपने आरंभिक बिंदु पर 16 घंटे में वापस आ जाती है। शांत जल में नाव की गति (कि.मी./घंटा में) क्या है?

**Options:**

- 1) 16
- 2) 8
- 3) 10
- 4) 9

**Correct Answer:** 8

**QID : 245** - Two men are standing on opposite ends of a bridge 1500 metres long. If they walk towards each other with speeds of 5 m/s and 7 m/s respectively, then in how much time (in minutes) will they meet each other?

दो व्यक्ति 1500 मीटर लम्बे पुल के विपरीत किनारों पर खड़े हैं। यदि वे क्रमशः 5 मी./से. तथा 7 मी./से. की गति से एक दूसरे की ओर चलना प्रारंभ करें, तो वे आपस में मिलने में कितना समय (मिनटों में) लेंगे?

**Options:**

- 1) 125
- 2) 175
- 3) 200
- 4) 225

**Correct Answer:** 125

**QID : 246** - In how much time (in years) will Rs 8000 amount to Rs 9600 at simple interest at the rate of 5% per annum?

कितने समय (वर्षों में) में 8000 रु की राशि 5% की वार्षिक दर से साधारण ब्याज पर 9600 रु हो जाएगी?

**Options:**

- 1) 6
- 2) 4
- 3) 3
- 4) 2

**Correct Answer:** 4

**QID : 247** -



The table given below shows the number of tourists (in 000') visiting Delhi in year 2017 from the month of January to June.

नीचे दी गई तालिका में वर्ष 2017 में जनवरी माह से जून माह तक दिल्ली में आने वाले पर्यटकों की संख्या (000' में) को दर्शाया गया है।

Month / माह	Number of tourists (in 000') / पर्यटकों की संख्या (000' में)
January / जनवरी	100
February / फरवरी	200
March / मार्च	150
April / अप्रैल	400
May / मई	300
June / जून	260

What is the difference (in 000') between the maximum and minimum number of tourists visited in any month as a percentage of the tourists visited in March? मार्च में आने वाले पर्यटकों के प्रतिशत के रूप में किसी भी माह में आने वाले पर्यटकों की अधिकतम तथा न्यूनतम संख्या के मध्य क्या अंतर (000' में) है?

**Options:**

- 1) 250
- 2) 300
- 3) 150
- 4) 200

**Correct Answer:** 200

**QID : 248 -**

The table given below shows the number of tourists (in 000') visiting Delhi in year 2017 from the month of January to June.

नीचे दी गई तालिका में वर्ष 2017 में जनवरी माह से जून माह तक दिल्ली में आने वाले पर्यटकों की संख्या (000' में) को दर्शाया गया है।

Month / माह	Number of tourists (in 000') / पर्यटकों की संख्या (000' में)
January / जनवरी	100
February / फरवरी	200
March / मार्च	150
April / अप्रैल	400
May / मई	300
June / जून	260

What is the percentage change in the number of tourist visited in June to that in January?

जनवरी की तुलना में जून में आने वाले पर्यटकों की संख्या में प्रतिशत परिवर्तन क्या है?

**Options:**

- 1) 150
- 2) 80

3) 160

4) 130

**Correct Answer:** 160

**QID : 249 -**

The table given below shows the number of tourists (in 000') visiting Delhi in year 2017 from the month of January to June.

नीचे दी गई तालिका में वर्ष 2017 में जनवरी माह से जून माह तक दिल्ली में आने वाले पर्यटकों की संख्या (000' में) को दर्शाया गया है।

Month / माह	Number of tourists (in 000') / पर्यटकों की संख्या (000' में)
January / जनवरी	100
February / फरवरी	200
March / मार्च	150
April / अप्रैल	400
May / मई	300
June / जून	260

In how many months was the number of tourists who visited Delhi is a multiple of 10,000?

कितने महीनों में दिल्ली आने वाले पर्यटकों की संख्या 10,000 का गुणज थी?

**Options:**

- 1) 6
- 2) 5
- 3) 4
- 4) 3

**Correct Answer:** 6

**QID : 250 -**

The table given below shows the number of tourists (in 000') visiting Delhi in year 2017 from the month of January to June.

नीचे दी गई तालिका में वर्ष 2017 में जनवरी माह से जून माह तक दिल्ली में आने वाले पर्यटकों की संख्या (000' में) को दर्शाया गया है।

Month / माह	Number of tourists (in 000') / पर्यटकों की संख्या (000' में)
January / जनवरी	100
February / फरवरी	200
March / मार्च	150
April / अप्रैल	400
May / मई	300
June / जून	260

What is the average number of tourists (in 000') visited Delhi from January to May?

जनवरी से मई तक दिल्ली आने वाले पर्यटकों की औसत संख्या (000' में) क्या है?



**Options:**

- 1) 210
- 2) 200
- 3) 230
- 4) 282

**Correct Answer:** 230

**QID : 251** - In the following question, some part of the sentence may have errors. Find out which part of the sentence has an error and select the appropriate option.

If a sentence is free from error, select 'No Error'.

First in the lower house in **(1)/** parliament and then in **(2)/** unelected upper chamber, the bill was rejected. **(3)/** No Error **(4)**

**Options:**

- 1) 1
- 2) 2
- 3) 3
- 4) 4

**Correct Answer:** 1

**QID : 252** - In the following question, some part of the sentence may have errors. Find out which part of the sentence has an error and select the appropriate option.

If a sentence is free from error, select 'No Error'.

The Parliament took a historic **(1)/** decision to back the will of **(2)/** the people and vote to the bill **(3)/** No Error **(4)**

**Options:**

- 1) 1
- 2) 2
- 3) 3
- 4) 4

**Correct Answer:** 3

**QID : 253** - In the following question, the sentence given with blank to be filled in with an appropriate word. Select the correct alternative out of the four and indicate it by selecting the appropriate option.

**Kareena is totally satisfied \_\_\_\_\_ her salary.**

**Options:**

- 1) for
- 2) with
- 3) of
- 4) at

**Correct Answer:** with

**QID : 254** - In the following question, the sentence given with blank to be filled in with an appropriate word. Select the correct alternative out of the four and indicate it by selecting the appropriate option.

**I settled \_\_\_\_\_ in Paris last year.**

**Options:**

- 1) on
- 2) above
- 3) off
- 4) down

**Correct Answer:** down

**QID : 255** - In the following question, out of the given four alternatives, select the one which best expresses the meaning of the given word.

**Junk**

**Options:**

- 1) Waste
- 2) Keep
- 3) Purity
- 4) Neat

**Correct Answer:** Waste

**QID : 256** - In the following question, out of the given four alternatives, select the one which best expresses the meaning of the given word.

**Lurid**

**Options:**

- 1) Over-bright
- 2) Humble
- 3) Modest
- 4) Clean

**Correct Answer:** Over-bright

**QID : 257** - In the following question, out of the given four alternatives, select the one which best expresses the meaning of the given word.

**Imprudent**

**Options:**

- 1) Cautious
- 2) Careless
- 3) Wise
- 4) Discreet

**Correct Answer:** Careless

**QID : 258** - In the following question, out of the given four alternatives, select the one which is opposite in meaning of the given word.

**Premium**

**Options:**

- 1) Superior
- 2) Inferior
- 3) Choice
- 4) Excellent

**Correct Answer:** Inferior

**QID : 259** - In the following question, out of the given four alternatives, select the one which is opposite in meaning of the given word.

**Probationer**

**Options:**

- 1) Tyro
- 2) Master
- 3) Recruit
- 4) Novice

**Correct Answer:** Master

**QID : 260** - In the following question, out of the given four alternatives, select the one which is opposite in meaning of the given word.

**Rambling**

**Options:**

- 1) Direct
- 2) Diffuse
- 3) Irregular
- 4) Wordy

**Correct Answer:** Direct

**QID : 261** - In the following question, out of the four given alternatives, select the alternative which best expresses the meaning of the Idiom/Phrase.

**Laughing stock**

**Options:**

- 1) An object of ridicule
- 2) A subject of peace
- 3) Finding fault in others
- 4) Profitable deal

**Correct Answer:** An object of ridicule

**QID : 262** - In the following question, out of the four given alternatives, select the alternative which best expresses the meaning of the Idiom/Phrase.

**Pay through the nose**

**Options:**

- 1) Have patience with
- 2) To pay attention
- 3) Problem in breathing
- 4) Pay much more than a fair price

**Correct Answer:** Pay much more than a fair price

**QID : 263** - Improve the bracketed part of the sentence.

Initially, I had wanted to set up **(many)** high-tech foundry in India.

**Options:**

- 1) a
- 2) an
- 3) most
- 4) No improvement

**Correct Answer:** a

**QID : 264** - Improve the bracketed part of the sentence.

I have **(all long been)** a fan of the former President, who told me when he was in Dubai long back.

**Options:**

- 1) longing been
- 2) all along been
- 3) always had been
- 4) No improvement

**Correct Answer:** all along been

**QID : 265** - In the following question, out of the four given alternatives, select the alternative which is the best substitute of the phrase.

**Loss of sleep**

**Options:**

- 1) Hypertonia
- 2) Insomnia
- 3) Urania
- 4) Dipsomania

**Correct Answer:** Insomnia

**QID : 266** - In the following question, out of the four given alternatives, select the alternative which is the best substitute of the phrase.

**Inserting new matter in a book**

**Options:**

- 1) Articulate
- 2) Manipulate
- 3) Interpolate

4) Assimilate

**Correct Answer:** Interpolate

**QID : 267** - In the following question, a word has been written in four different ways out of which only one is correctly spelt. Select the correctly spelt word.

**Options:**

- 1) Appropriate
- 2) Aproprate
- 3) Aproprieate
- 4) Appropreiate

**Correct Answer:** Appropriate

**QID : 268** - In the following question, a word has been written in four different ways out of which only one is correctly spelt. Select the correctly spelt word.

**Options:**

- 1) Capeble
- 2) Capable
- 3) Capabal
- 4) Capeable

**Correct Answer:** Capable

**QID : 269** - Rearrange the parts of the sentence in correct order.

It requires

**P:** a voluntary effort and

**Q:** participation of one and all

**R:** struggle involving the

**Options:**

- 1) PQR
- 2) RQP
- 3) RPQ
- 4) QPR

**Correct Answer:** RPQ

**QID : 270** - Rearrange the parts of the sentence in correct order.

The aim of

**P:** services that we want

**Q:** production is to

**R:** produce the goods and

**Options:**

- 1) PQR
- 2) QRP
- 3) PRQ
- 4) RPQ

**Correct Answer:** QRP

**QID : 271** - In the following passage some of the words have been left out. Read the passage carefully and select the correct answer for the given blank out of the four alternatives.

Well-read man is \_\_\_\_\_ by all. He is a storehouse of information. He knows \_\_\_\_\_ of everything. A well-read man can be a very good talker. He can entertain us with his good talks. He shows his worth at a \_\_\_\_\_ function. He can talk about \_\_\_\_\_ things. So, we do not feel dullness and \_\_\_\_\_ in the company of such persons. This is another advantage of reading books.

**Well-read man is \_\_\_\_\_ by all.**

**Options:**

- 1) loved

- 2) hated
- 3) neglected
- 4) ignored

**Correct Answer:** loved

**QID : 272** - In the following passage some of the words have been left out. Read the passage carefully and select the correct answer for the given blank out of the four alternatives.

Well-read man is \_\_\_\_\_ by all. He is a storehouse of information. He knows \_\_\_\_\_ of everything. A well-read man can be a very good talker. He can entertain us with his good talks. He shows his worth at a \_\_\_\_\_ function. He can talk about \_\_\_\_\_ things. So, we do not feel dullness and \_\_\_\_\_ in the company of such persons. This is another advantage of reading books.

**He knows \_\_\_\_\_ of everything.**

**Options:**

- 1) nothing
- 2) something
- 3) everything
- 4) anything

**Correct Answer:** something

**QID : 273** - In the following passage some of the words have been left out. Read the passage carefully and select the correct answer for the given blank out of the four alternatives.

Well-read man is \_\_\_\_\_ by all. He is a storehouse of information. He knows \_\_\_\_\_ of everything. A well-read man can be a very good talker. He can entertain us with his good talks. He shows his worth at a \_\_\_\_\_ function. He can talk about \_\_\_\_\_ things. So, we do not feel dullness and \_\_\_\_\_ in the company of such persons. This is another advantage of reading books.

**He shows his worth at a \_\_\_\_\_ function.**

**Options:**

- 1) economical
- 2) social
- 3) marriage
- 4) political

**Correct Answer:** social

**QID : 274** - In the following passage some of the words have been left out. Read the passage carefully and select the correct answer for the given blank out of the four alternatives.

Well-read man is \_\_\_\_\_ by all. He is a storehouse of information. He knows \_\_\_\_\_ of everything. A well-read man can be a very good talker. He can entertain us with his good talks. He shows his worth at a \_\_\_\_\_ function. He can talk about \_\_\_\_\_ things. So, we do not feel dullness and \_\_\_\_\_ in the company of such persons. This is another advantage of reading books.

**He can talk about \_\_\_\_\_ things.**

**Options:**

- 1) much
- 2) more
- 3) mere
- 4) many

**Correct Answer:** many

**QID : 275** - In the following passage some of the words have been left out. Read the passage carefully and select the correct answer for the given blank out of the four alternatives.

Well-read man is \_\_\_\_\_ by all. He is a storehouse of information. He knows \_\_\_\_\_ of everything. A well-read man can be a very good talker. He can entertain us with his good talks. He shows his worth at a \_\_\_\_\_ function. He can talk about \_\_\_\_\_ things. So, we do not feel dullness and \_\_\_\_\_ in the company of such persons. This is another advantage of reading books.

**So, we do not feel dullness and \_\_\_\_\_ in the company**

**Options:**

- 1) kingdom
- 2) freedom
- 3) stardom
- 4) boredom

**Correct Answer:** boredom

**QID : 276** - What is the process of rapid integration or interconnection between countries called?

देशों के बीच तेजी से एकीकरण या संयोजन की प्रक्रिया क्या है?

**Options:**

- 1) Industrialisation  
औद्योगीकरण
- 2) Globalisation  
वैश्वीकरण
- 3) Liberalisation  
उदारीकरण
- 4) Modernisation  
आधुनिकीकरण

**Correct Answer:** Globalisation

वैश्वीकरण

वैश्वीकरण

**QID : 277** - Which among the following is **NOT** an impact of unemployment?

निम्न में से कौन बेरोजगारी का प्रभाव नहीं है?

**Options:**

- 1) Wastage of manpower resources  
जनशक्ति संसाधनों का अपव्यय
- 2) Increase in economic overload  
आर्थिक अधिभार में वृद्धि
- 3) Hamper the overall growth of an economy  
एक अर्थव्यवस्था के समग्र विकास में बाधा
- 4) Increase in per capita income  
प्रति व्यक्ति आय में वृद्धि

**Correct Answer:** Increase in per capita income

प्रति व्यक्ति आय में वृद्धि

जनशक्ति संसाधनों का अपव्यय

**QID : 278** - Who among the following is head of the state?

निम्नलिखित में से कौन राज्य का प्रमुख है?

**Options:**

1) Vice President of India

भारत के उपराष्ट्रपति

2) President of India

भारत के राष्ट्रपति

3) Prime Minister of India

भारत के प्रधानमंत्री

4) Loksabha Speaker

लोकसभा अध्यक्ष

**Correct Answer:** President of India

भारत के राष्ट्रपति

भारत के राष्ट्रपति

**QID : 279** - According to constitution, Indian parliament has been divided into how many parts?

संविधान के अनुसार, भारतीय संसद को कितने हिस्सों में

विभाजित किया गया है?

**Options:**

1) 3

2) 5

3) 7

4) 11

**Correct Answer:** 3

**QID : 280** - Dhamma' is the \_\_\_\_\_ word for the Sanskrit term 'Dharma'.

धम्म' संस्कृत शब्द धर्म का \_\_\_\_\_ रूप है।

**Options:**

1) Hindi

हिन्दी

2) Prakrit

प्राकृत

3) Pali

पाली

4) Urdu

ऊर्दू

**Correct Answer:** Pali

पाली

पाली

**QID : 281** - In which year the Sisodiya Capital of Chittor was seized by Akbar?

अकबर द्वारा सिसौदियों की राजधानी चित्तौड़ पर किस वर्ष

कब्जा कर लिया गया था?

**Options:**

1) 1550

2) 1568

3) 1585

4) 1591

**Correct Answer:** 1568

**QID : 282** - At which meridian it will be midnight when it is 12 noon at Greenwich?

किस याम्योत्तर पर मध्यरात्री होगी जब ग्रीनवीच पर दोपहर

के 12 बजे होंगे?

**Options:**

1) 90° E

90° पू.

2) 90° W

90° प.

3) 180° E

180° पू.

4) 0° W

0° प.

**Correct Answer:** 180° E

180° पू.

180° पू.

**QID : 283** - What are the mineral constituents of oceanic crust?

महासागर की पर्पटी के मुख्य खनिज घटक क्या है?

**Options:**

1) Silica and Magnesium

सिलिका तथा मैग्नीशियम

2) Magnesium and Alumina

मैग्नीशियम तथा एलुमिना

3) Silica and Stones

सिलिका तथा पत्थर

4) Nickel and Iron

निकिल तथा लोहा

**Correct Answer:** Silica and Magnesium

सिलिका तथा मैग्नीशियम

सिलिका तथा मैग्नीशियम

**QID : 284** - The correct sequence of taxonomic categories is \_\_\_\_\_.

टैक्सोनॉमिक श्रेणियों का सही क्रम \_\_\_\_\_ है।

**Options:**

1) Division-family-class-order-genus-species

डिवीजन-परिवार-वर्ग-आदेश-जीनस-प्रजातियों

2) Division-class-order-family-genus-species

डिवीजन स्तर के आदेश-परिवार-जीनस-प्रजातियों

3) Phylum-order-family-class-genus-species

जाति-आदेश-परिवार-वर्ग-जीनस-प्रजातियों

4) Class-phylum-order-genus-family-species

कक्षा-जाति-आदेश-जीनस-परिवार-प्रजाति

**Correct Answer:** Division-class-order-family-genus-species

डिवीजन स्तर के आदेश-परिवार-जीनस-प्रजातियों

कक्षा-जाति-आदेश-जीनस-परिवार-प्रजाति

कक्षा-जाति-आदेश-जीनस-परिवार-प्रजाति

**QID : 285** - Ileum is \_\_\_\_\_.

इलियम \_\_\_\_\_ है।

**Options:**

1) first part of the large intestine

बड़ी आँत का पहला भाग

2) middle part of the large intestine

बड़ी आँत का मध्य भाग

3) last part of the small intestine

छोटी आँत का अन्तिम भाग

4) not a part of the small intestine

छोटी आँत का एक भाग नहीं है

**Correct Answer:** last part of the small intestine  
छोटी आँत का अन्तिम भाग

**QID : 286** - In humans, exhaled air contains oxygen about \_\_\_\_\_.

मनुष्यों में, साँस द्वारा छोड़ी हुई हवा में लगभग \_\_\_\_\_ ऑक्सीजन होता है।

**Options:**

- 1) 40%
- 2) 44%
- 3) 16%
- 4) 64%

**Correct Answer:** 16%

**QID : 287** - The effect of an impulse force on the body is measured only in terms of its \_\_\_\_\_.

शरीर पर एक आवेग बल का प्रभाव केवल उसके \_\_\_\_\_ के संदर्भ में मापा जाता है।

**Options:**

- 1) weight  
भार
- 2) mass  
द्रव्यमान
- 3) impulse  
आवेग
- 4) velocity  
वेग

**Correct Answer:** impulse

आवेग

वेग

**QID : 288** - When water is heated from 0°C, its volume \_\_\_\_\_.

जब पानी को 0° डिग्री सेल्सियस से गरम किया जाता है, तो इसकी आयतन \_\_\_\_\_।

**Options:**

- 1) only increases  
केवल बढ़ता है
- 2) decreased till 4°C, then increases  
4° डिग्री सेल्सियस तक की कमी हुई, फिर बढ़ जाती है
- 3) remains constant, always  
हमेशा स्थिर रहता है
- 4) first increases then decreases  
पहले बढ़ता है फिर घटता है

**Correct Answer:** decreased till 4°C, then increases

4° डिग्री सेल्सियस तक की कमी हुई, फिर बढ़ जाती है

4° डिग्री सेल्सियस तक की कमी हुई, फिर बढ़ जाती है

**QID : 289** - In a computer, where do all the deleted files go?

एक कंप्यूटर में, सभी हटाई गयी फाइलें कहाँ जाती हैं?

**Options:**

- 1) Desktop  
डेस्कटॉप

2) Recycle bin

रीसाईकिल बिन

3) My computer

माई कंप्यूटर

4) Control panel

कंट्रोल पैनल

**Correct Answer:** Recycle bin

रीसाईकिल बिन

रीसाईकिल बिन

**QID : 290** - The gas used in the welding and cutting of metals is \_\_\_\_\_.

वेल्डिंग तथा धातुओं को काटने में उपयोग किया जाने वाला गैस \_\_\_\_\_ है।

**Options:**

- 1) ethane  
इथेन
  - 2) methene  
मीथेन
  - 3) acetylene  
एसिटिलीन
  - 4) butene  
ब्यूटीन
- Correct Answer:** acetylene  
एसिटिलीन  
ब्यूटीन

**QID : 291** - Compounds of carbon and hydrogen are called \_\_\_\_\_.

कार्बन तथा हाइड्रोजन के यौगिकों को \_\_\_\_\_ कहा जाता है।

**Options:**

- 1) hydrocarbon  
हाइड्रोकार्बन
  - 2) fuel  
ईंधन
  - 3) fat  
वसा
  - 4) carbohydrates  
कार्बोहाइड्रेट
- Correct Answer:** hydrocarbon  
हाइड्रोकार्बन  
हाइड्रोकार्बन

**QID : 292** - The small carnivores are also called \_\_\_\_\_.

छोटे मांसाहारी भी \_\_\_\_\_ कहा जाता है।

**Options:**

- 1) Primary consumers  
प्राथमिक उपभोक्ता
- 2) Secondary consumers  
माध्यमिक उपभोक्ताओं
- 3) Tertiary consumers  
तृतीयक उपभोक्ताओं
- 4) No option is correct

कोई विकल्प सही नहीं है

**Correct Answer:** Secondary consumers  
माध्यमिक उपभोक्ताओं  
प्राथमिक उपभोक्ता

**QID : 293** - Which is a dedicated web portal launched by the government for Sarva Sikhsha Abhiyan?  
सर्व शिक्षा अभियान के लिए सरकार द्वारा शुरू की गई एक समर्पित वेब पोर्टल कौन सा है?

**Options:**

- 1) Shala  
शाला
- 2) Shishu  
शिशु
- 3) Shagun  
शगुन
- 4) Visaka  
विसाका

**Correct Answer:** Shagun

शगुन

शगुन

**QID : 294** - Who deduced the principle of geometry and is also known as "Father of Geometry"?  
किसने ज्यामिति का सिद्धांत बनाया तथा इसे "ज्यामिति के पिता" के रूप में भी जाने जाते हैं?

**Options:**

- 1) Archimedes  
आर्किमिडीज
- 2) Euclid  
यूक्लिड
- 3) Srinivasa Ramanujan  
श्रीनिवास रामानुजन
- 4) Aryabhata  
आर्यभट्ट

**Correct Answer:** Euclid

यूक्लिड

यूक्लिड

**QID : 295** - Which games are also known as Asiad?  
कौन से खेलों को एशियाड भी कहा जाता है?

**Options:**

- 1) Commonwealth Games  
राष्ट्रमंडल खेल
- 2) Olympics  
ओलंपिक
- 3) Asian Games  
एशियाई खेलों
- 4) No option is correct  
कोई विकल्प सही नहीं है

**Correct Answer:** Asian Games

एशियाई खेलों

राष्ट्रमंडल खेल

**QID : 296** - Jahangir's autobiography (Tuzuk-i-Jahangiri) is in which language?

जहांगीर की आत्मकथा (तुजुक-ए-जहांगीरी) किस भाषा में है?

**Options:**

- 1) Urdu  
उर्दू
- 2) Pali  
पाली
- 3) Persian  
फ़ारसी
- 4) Hindi  
हिंदी

**Correct Answer:** Persian

फ़ारसी

फ़ारसी

**QID : 297** - Which institute has bagged PM's Yoga award?

किस संस्थान ने प्रधानमंत्री का योग पुरस्कार जीता है?

**Options:**

- 1) Ramamani Iyengar Memorial Yoga Institutes, Pune  
राममनी अयंगर मेमोरियल योग संस्थान, पुणे
- 2) Swami Ram Yoga Institute, Noida  
स्वामी राम योग संस्थान, नोएडा
- 3) Shree Bal Krishna Yoga Institute, Kolkata  
श्री बल कृष्णा योग संस्थान, कोलकाता
- 4) None of these  
इनमें से कोई नहीं

**Correct Answer:** Ramamani Iyengar Memorial Yoga Institutes, Pune

राममनी अयंगर मेमोरियल योग संस्थान, पुणे

राममनी अयंगर मेमोरियल योग संस्थान, पुणे

**QID : 298** - Who is the author of the book named "Ain-i-Akbari"?

"आइन-ए-अकबरी" नामक पुस्तक के लेखक कौन हैं?

**Options:**

- 1) S. M. Ali  
एस. एम. अली
- 2) Abul Fazl  
अबुल फज़ल
- 3) Saghar Nizami  
सागर निजामी
- 4) Ibn-batuta  
इब्न बतूता

**Correct Answer:** Abul Fazl

अबुल फज़ल

अबुल फज़ल

**QID : 299** - Which country had severed its connection with the commonwealth in 2016?

किस देश ने 2016 में राष्ट्रमंडल के साथ अपना संबंध तोड़ा था?



**Options:**

1) Bangladesh

बांग्लादेश

2) Maldives

मालदीव

3) Oman

ओमान

4) Egypt

मिस्र

**Correct Answer:** Maldives

मालदीव

**QID : 300** - The Madhesi tribe is related to India and its neighbouring country \_\_\_\_\_.

मधेसी जनजाति भारत तथा उसके पड़ोसी देश \_\_\_\_\_ से

संबंधित है।

**Options:**

1) Nepal

नेपाल

2) Sri Lanka

श्रीलंका

3) Bangladesh

बांग्लादेश

4) Pakistan

पाकिस्तान

**Correct Answer:** Nepal

नेपाल

नेपाल