



**REGISTRATION NUMBER : 2201158392**

**CANDIDATES NAME: MOCKTIME.COM**

**EXAM NAME : SSC CHSL**

**EXAM DURATION : 01:00 Hrs**

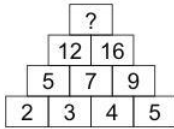
**TOTAL MARKS : 200**

**TOTAL NO OF QUESTIONS : 100**

**QID : 201 -**

In the following question, select the number which can be placed at the sign of question mark (?) from the given alternatives.

निम्नलिखित प्रश्न में दिए गए विकल्पों में से प्रश्न चिह्न (?) के स्थान पर आने वाली संख्या को चुनिए।



**Options:**

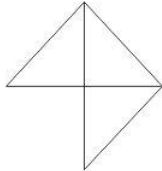
- 1) 27
- 2) 28
- 3) 26
- 4) 25

**Correct Answer: 28**

**QID : 202 -**

How many triangles are there in the given figure?

दी गई आकृति में कितने त्रिभुज हैं?



**Options:**

- 1) 3
- 2) 4
- 3) 5
- 4) 7

**Correct Answer: 5**

**QID : 203 -**

A word is represented by only one set of numbers as given in any one of the alternatives. The sets of numbers given in the alternatives are represented by two classes of alphabets as shown in the given two matrices. The columns and rows of **Matrix-I** are numbered from 0 to 4 and that of **Matrix-II** are numbered from 5 to 9. A letter from these matrices can be represented first by its row and next by its column, for example, 'J' can be represented by 42, 87, etc., and 'N' can be represented by 04, 89, etc. Similarly, you have to identify the set for the word "REACT".

एक शब्द केवल एक संख्या-समूह द्वारा दर्शाया गया है, जैसा कि विकल्पों में से किसी एक में दिया गया है। विकल्पों में दिए गए संख्या-समूह अक्षरों के दो वर्गों द्वारा दर्शाए गए हैं, जैसा कि दिए गए दो आव्यूहों में है। **आव्यूह-I** के स्तम्भ और पंक्ति की संख्या 0 से 4 है और **आव्यूह-II** की 5 से 9। इन आव्यूहों से एक अक्षर को पहले उसकी पंक्ति और बाद में स्तम्भ संख्या द्वारा दर्शाया जा सकता है। उदाहरण के लिए 'J' को 42, 87, आदि द्वारा दर्शाया जा सकता है तथा 'N' को 04, 89, आदि द्वारा दर्शाया जा सकता है। इसी तरह से आपको प्रश्न में दिए शब्द "REACT" के लिए समूह को पहचानना है।

Matrix-I आव्यूह-I						Matrix-II आव्यूह-II					
	0	1	2	3	4		5	6	7	8	9
0	A	E	T	S	N	5	Z	G	W	I	Q
1	L	M	I	C	I	6	Y	M	B	T	A
2	U	E	S	V	X	7	L	Q	Z	Y	D
3	D	G	W	L	R	8	F	E	J	T	N
4	O	K	J	C	Z	9	U	I	Y	V	G

**Options:**

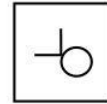
- 1) 34, 01, 00, 88, 02
- 2) 13, 21, 31, 02, 44
- 3) 34, 86, 69, 13, 68
- 4) 34, 23, 21, 43, 88

**Correct Answer: 34, 86, 69, 13, 68**

**QID : 204 -**

From the given answer figures, select the one in which the question figure is hidden/embedded.

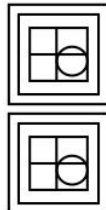
दी गई उत्तर आकृतियों में से उस उत्तर आकृति को चुनिए जिस में प्रश्न आकृति निहित है।



**Options:**

- 1)
- 2)
- 3)
- 4)

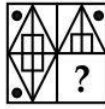
**Correct Answer:**



**QID : 205 -**

Which answer figure will complete the pattern in the question figure?

कौन सी उत्तर आकृति प्रश्न आकृति के प्रतिरूप को पूरा करेगी?



Options:

- 1)
- 2)
- 3)
- 4)

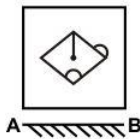
Correct Answer:



QID : 206 -

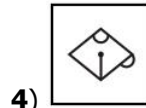
If a mirror is placed on the line AB, then which of the answer figures is the right image of the given figure?

यदि एक दर्पण को AB रेखा पर रखा जाए, तो दी गई उत्तर आकृतियों में से कौन सी आकृति प्रश्न आकृति की सही प्रतिबिम्ब होगी?

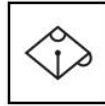


Options:

- 1)
- 2)
- 3)



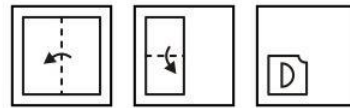
4) Correct Answer:



QID : 207 -

A piece of paper is folded and punched as shown below in the question figures. From the given answer figures, indicate how it will appear when opened?

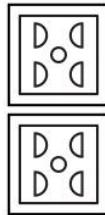
नीचे के प्रश्न आकृतियों में दिखाए अनुसार कागज को मोड़कर छेदने तथा खोलने के बाद वह किस उत्तर आकृति जैसा दिखाई देगा?



Options:

- 1)
- 2)
- 3)
- 4)

Correct Answer:



QID : 208 - By interchanging given two signs and two numbers which equation will be correct?

x and +, 2 and 6

दिए गए दो चिह्नों तथा दो अंकों को आपस में परस्पर बदलने पर कौन सा समीकरण सही हो जाएगा?

x तथा +, 2 तथा 6

Options:

- 1)  $2 + 3 \div 6 \times 4 = 13$
- 2)  $2 \div 6 + 3 \times 4 = 10$
- 3)  $4 \times 3 + 2 - 6 = 11$
- 4)  $3 + 4 \div 6 \times 2 = 9$

Correct Answer:  $2 + 3 \div 6 \times 4 = 13$

QID : 209 - If  $8 @ 4 @ 2 = 1$  and  $27 @ 9 @ 3 = 1$ , then

49 @ 7 @ 7 = ?

यदि 8 @ 4 @ 2 = 1 तथा 27 @ 9 @ 3 = 1 हो, तो

49 @ 7 @ 7 = ?

**Options:**

- 1) 2
- 2) - 1
- 3) 3
- 4) 1

**Correct Answer:** 1

**QID : 210** - Arrange the given words in the sequence in which they occur in the dictionary.

1. Monday
2. Murder
3. Muggot
4. Monkey
5. Monster

निम्नलिखित शब्दों को शब्दकोश में आने वाले क्रम के अनुसार लिखें।

1. Monday
2. Murder
3. Muggot
4. Monkey
5. Monster

**Options:**

- 1) 15432
- 2) 14532
- 3) 15423
- 4) 14523

**Correct Answer:** 14532

**QID : 211** - In the following question, select the missing number from the given series.

5, 8, 14, 23, ?, 50

निम्नलिखित प्रश्न में दिए गए विकल्पों में से लुप्त अंक ज्ञात कीजिए।

5, 8, 14, 23, ?, 50

**Options:**

- 1) 34
- 2) 35
- 3) 36
- 4) 37

**Correct Answer:** 35

**QID : 212** - A series is given with one term missing. Select the correct alternative from the given ones that will complete the series.

pam, qcn, reo, ?, tiq

एक अनुक्रम दिया गया है, जिसमें से एक पद लुप्त है। दिए गए विकल्पों में से वह सही विकल्प चुनिए, जो अनुक्रम को पूरा करे।

pam, qcn, reo, ?, tiq

**Options:**

- 1) sfq
- 2) sgp
- 3) shq
- 4) sfp

**Correct Answer:** sgp

**QID : 213** - In the following question, select the odd word from the given alternatives.

निम्नलिखित प्रश्न में दिए गए विकल्पों में से विषम शब्द को चुनिए।

**Options:**

- 1) Shirt  
कमीज़
- 2) Socks  
मोज़े
- 3) Pant  
पतलून
- 4) Sweater  
स्वेटर

**Correct Answer:** Pant

पतलून

**QID : 214** - In the following question, select the odd number from the given alternatives.

निम्नलिखित प्रश्न में दिए गए विकल्पों में से विषम संख्या को चुनिए।

**Options:**

- 1) 83
- 2) 93
- 3) 65
- 4) 35

**Correct Answer:** 83

**QID : 215** - In the following question, select the odd letters from the given alternatives.

निम्नलिखित प्रश्न में दिए गए विकल्पों में से विषम अक्षरों को चुनिए।

**Options:**

- 1) mark
- 2) shell
- 3) mall
- 4) bark

**Correct Answer:** shell

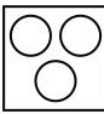
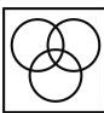
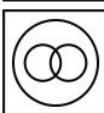
**QID : 216** - Identify the diagram that best represents the relationship among the given classes.

**Guava, Apple, Banana**

वह आरेख चुनिए जो नीचे दिए गए वर्गों के बीच के संबंध का सही निरूपण करता है।

अमरूद, सेब, केला

**Options:**

- 1) 
- 2) 
- 3) 



4) **Correct Answer:**



**QID : 217** - In the following question, select the related word pair from the given alternatives.

**Time : Seconds :: ? : ?**

निम्नलिखित प्रश्न में दिए गए विकल्पों में से संबंधित शब्द युग्म को चुनिए।

**समय : सेकण्ड :: ? : ?**

**Options:**

1) Distance : Kilometre

दूरी : किलोमीटर

2) Speed : Time

गति : समय

3) Pressure : Seconds

दाब : सेकण्ड

4) Temperature : Metre

तापमान : मीटर

**Correct Answer:** Distance : Kilometre

दूरी : किलोमीटर

दूरी : किलोमीटर

**QID : 218** - In the following question, select the related number from the given alternatives.

**288 : 72 :: 576 : ?**

निम्नलिखित प्रश्न में दिए गए विकल्पों में से संबंधित संख्या को चुनिए।

**288 : 72 :: 576 : ?**

**Options:**

1) 500

2) 144

3) 140

4) 134

**Correct Answer:** 144

**QID : 219** - In the following question, select the related letters from the given alternatives.

**mate : ncug :: goat : ?**

निम्नलिखित प्रश्न में दिए गए विकल्पों में से संबंधित अक्षरों को चुनिए।

**mate : ncug :: goat : ?**

**Options:**

1) iqbv

2) hpbu

3) ipcw

4) hqbw

**Correct Answer:** hqbw

**QID : 220** - In the following question, select the word which cannot be formed using the letters of the given word.

**IMPATIENCE**

निम्नलिखित विकल्पों में से वह शब्द चुनिए जो दिए गए शब्द के अक्षरों का प्रयोग करके नहीं बनाया जा सकता।

**IMPATIENCE**

**Options:**

1) TIME

2) CRATE

3) TAPE

4) MATE

**Correct Answer:** CRATE

**QID : 221** - In a row of 67 students, B is 24<sup>th</sup> from left end. What is his place from the right end?

67 छात्रों की एक पंक्ति में, B बायीं ओर से 24-वां है। दायीं ओर से उसका स्थान क्या है?

**Options:**

1) 43

2) 44

3) 42

4) 45

**Correct Answer:** 44

**QID : 222** - P is brother of Q. Q is sister of R. R is son of S. T is sister of S. How is T related to Q?

P, Q का भाई है। Q, R की बहन है। R, S का पुत्र है। T, S की बहन है। T, Q से किस प्रकार संबंधित है?

**Options:**

1) Aunty

बुआ

2) Mother

माता

3) Sister

बहन

4) Grandmother

दादी

**Correct Answer:** Aunty

बुआ

बुआ

**QID : 223** - In the following question below are given some statements followed by some conclusions. Taking the given statements to be true even if they seem to be at variance from commonly known facts, read all the conclusions and then decide which of the given conclusion logically follows the given statements.

**Statements:**

I. Some W are V.

II. All V are T.

**Conclusions:**

I. Some T are W.

II. Some V are not W.

नीचे दिए गए प्रश्न में कुछ कथन और उनके बाद उन कथनों पर आधारित कुछ निष्कर्ष दिए गए हैं, हालांकि उनमें सामान्य ज्ञात तथ्यों से भिन्नता हो सकती है। सभी निष्कर्ष पढ़ें और फिर निर्धारित करें कि दिए गए कौन से निष्कर्ष, दिए गए कथनों के आधार पर युक्तिसंगत हैं।

**कथन:**

I. कुछ W, V हैं।

II. सभी V, T हैं।

**निष्कर्ष:**

I. कुछ T, W हैं।

II. कुछ V, W नहीं हैं।

**Options:**

1) Only conclusion (I) follows.

केवल निष्कर्ष (I) सही है।

2) Only conclusion (II) follows.

केवल निष्कर्ष (II) सही है।

3) Both conclusion follow.

दोनों ही निष्कर्ष सही हैं।

4) Neither conclusion (I) nor conclusion (II) follows.

न तो निष्कर्ष (I) न ही निष्कर्ष (II) सही है।

**Correct Answer:** Only conclusion (I) follows.

केवल निष्कर्ष (I) सही है।

केवल निष्कर्ष (II) सही है।

**QID : 224** - In a certain code language, "ACID" is written as "BELH". How is "LETS" written in that code language?

एक विशिष्ट कोड भाषा में, "ACID" को "BELH" लिखा जाता है। इस कोड भाषा में "LETS" को किस प्रकार लिखा जाएगा?

**Options:**

1) MGWW

2) MFWW

3) MGWV

4) NGYW

**Correct Answer:** MGWW

**QID : 225** - In a certain code language, "CUP" is written as "45" and "CUM" is written as "42". How is "ICE" written in that code language?

एक विशिष्ट कोड भाषा में, "CUP" को "45" तथा "CUM" को "42" लिखा जाता है। इस कोड भाषा में "ICE" को किस प्रकार लिखा जाएगा?

**Options:**

1) 22

2) 23

3) 20

4) 17

**Correct Answer:** 22

**QID : 226** - Irfan bought a chair for Rs 517 with a discount of 6% on the marked price. Find the marked price of the chair.

इरफान ने एक कुर्सी अंकित मूल्य पर 6% की छूट के बाद 517 रु में खरीदी। कुर्सी का अंकित मूल्य बताएं।

**Options:**

1) Rs 580

580 रु

2) Rs 520

520 रु

3) Rs 550

550 रु

4) Rs 540

540 रु

**Correct Answer:** Rs 550

550 रु

**QID : 227** - The sum of all odd whole numbers between 8 and 32 is \_\_\_\_\_.

8 और 32 के बीच के सभी पूर्ण विषम संख्याओं का योग \_\_\_\_\_ है।

**Options:**

1) 240

2) 320

3) 360

4) 260

**Correct Answer:** 240

**QID : 228** - How many whole numbers are there between 52 and 356 which are exactly divisible by 6? 52 और 356 के बीच 6 से पूर्णतः विभाजित होने वाली कितनी पूर्ण संख्याएं हैं?

**Options:**

1) 49

2) 51

3) 53

4) 55

**Correct Answer:** 51

**QID : 229** - What is the sum of all 3-digit natural numbers divisible by 17?

17 से विभाजित होने वाली 3 अंकों की सभी प्राकृत संख्याओं का योग क्या है?

**Options:**

1) 28736

2) 28632

3) 28832

4) 28732

**Correct Answer:** 28832

**QID : 230** - When a manufacturer allows 10% commission on the wholesale price of Rs 5000 for a particular item, he earns a profit of 25%. How much profit does the manufacturer earn on that item?

जब एक निर्माता 5000 रु के किसी खास वस्तु के थोक मूल्य पर 10% कमीशन देता है, तो उसे 25% लाभ होता है। निर्माता उस वस्तु पर कितना लाभ कमाता है?

**Options:**

1) Rs 1000

1000 रु

2) Rs 800

800 रु

3) Rs 500

500 रु

4) Rs 900

900 रु

**Correct Answer:** Rs 900

900 रु

**QID : 231** - A bus runs at an average speed of 32 kms/hr. If it completes 304 km long-journey with a break of 30 minutes, what is the total time taken during the journey?

एक बस 32 किमी/घंटा की औसत गति से चलती है। यदि यह 304 किमी की यात्रा 30 मिनट के विराम के साथ पूरा करती है, तो यात्रा पूरा होने में कितना समय लगेगा?

**Options:**

- 1) 12 hrs  
12 घंटे
- 2) 11 hrs  
11 घंटे
- 3) 10 hrs  
10 घंटे
- 4) 9 hrs  
9 घंटे

**Correct Answer:** 10 hrs

10 घंटे

10 घंटे

**QID : 232** - Find value of (62% of 650) + (45% of 340). (650 का 62%) + (340 का 45%) का मान ज्ञात करें।

**Options:**

- 1) 556
- 2) 506
- 3) 553
- 4) 453

**Correct Answer:** 556

**QID : 233** - A can do a piece of work in 4 days. B and C together can do it in 3 days, while A and C together can do it in 2 days. How many days will B take to do the work alone?

A किसी काम को 4 दिनों में कर सकता है। B और C साथ मिलकर उसी काम को 3 दिनों में कर सकते हैं, जबकि A और C साथ मिलकर उसी काम को 2 दिनों में कर सकते हैं। B अकेले उस काम को कितने दिनों में करेगा?

**Options:**

- 1) 8 days  
8 दिन
- 2) 12 days  
12 दिन
- 3) 10 days  
10 दिन
- 4) 16 days  
16 दिन

**Correct Answer:** 12 days

12 दिन

8 दिन

**QID : 234** - The average of 5, 7, 12, 15 and X is 10. What will be the value of Y if the average of 9, 12, 13, 17, X and Y is 14?

5, 7, 12, 15 और X का औसत 10 है। यदि 9, 12, 13, 17, X और Y का औसत 14 है, तो Y का मान क्या होगा?

**Options:**

- 1) 12
- 2) 13
- 3) 20
- 4) 22

**Correct Answer:** 22

**QID : 235** - A shopkeeper offers 23% discount on a bag with a marked price of Rs 4500. If he still earns a profit of Rs 600, what is the cost price of the bag?

एक दुकानदार 4500 रु अंकित मूल्य वाले एक बैग पर 23% छूट देता है। अगर फिर भी वह 600 रु का लाभ कमाता है, तो बैग का क्रय मूल्य क्या है?

**Options:**

- 1) Rs 3900  
3900 रु
- 2) Rs 2865  
2865 रु
- 3) Rs 2965  
2965 रु
- 4) Rs 3465  
3465 रु

**Correct Answer:** Rs 2865

2865 रु

2865 रु

**QID : 236** - The total surface area of a cube is  $726 \text{ cm}^2$ . What is the volume of this cube?

एक घन का सम्पूर्ण पृष्ठ क्षेत्रफल  $726 \text{ सेमी}^2$  है। इस घन का आयतन क्या है?

**Options:**

- 1)  $1231 \text{ cm}^3$   
 $1231 \text{ सेमी}^3$
- 2)  $1331 \text{ cm}^3$   
 $1331 \text{ सेमी}^3$
- 3)  $1431 \text{ cm}^3$   
 $1431 \text{ सेमी}^3$
- 4)  $1531 \text{ cm}^3$   
 $1531 \text{ सेमी}^3$

**Correct Answer:**  $1331 \text{ cm}^3$

$1331 \text{ सेमी}^3$

**QID : 237** - What least number must be added to 748 so that the sum is completely divisible by 59?

748 में कम से कम कितनी संख्या जोड़नी चाहिए ताकि कुल योग 59 से पूर्ण विभाज्य हो जाए?

**Options:**

- 1) 21
- 2) 13
- 3) 19
- 4) 7

**Correct Answer:** 19

**QID : 238** - What will be the annual simple interest rate if a principal amount of Rs 88,000 becomes Rs 1,61,920 in 6 years?

अगर 88,000 रु का मूलधन 6 वर्षों में 1,61,920 रु हो जाता है, तो साधारण ब्याज की वार्षिक दर क्या होगी?

**Options:**

- 1) 11%
- 2) 12%
- 3) 13%
- 4) 14%

**Correct Answer:** 14%

**QID : 239** - The monthly salaries of A and B are in the ratio 5:6. If both of them get a salary increment of Rs 2000 per month, the new ratio becomes 11:13. What is the new monthly salary of A?

A तथा B के मासिक वेतनों का अनुपात 5:6 है। अगर दोनों को 2000 रु की मासिक वेतन वृद्धि मिलती है, तो नया अनुपात 11:13 हो जाता है। A का नया मासिक वेतन क्या है?

**Options:**

- 1) Rs 20000  
20000 रु
- 2) Rs 24000  
24000 रु
- 3) Rs 26000  
26000 रु
- 4) Rs 22000  
22000 रु

**Correct Answer:** Rs 22000

22000 रु

24000 रु

**QID : 240** - A bullock cart covers a distance of 10 kms in 4 hours. What is the average speed of the bullock cart?

एक बैलगाड़ी 10 किमी की दूरी 4 घंटे में तय करती है। उसकी औसत गति क्या है?

**Options:**

- 1) 8 km  
8 किमी.
- 2) 2.5 km/hr  
2.5 किमी./घंटा
- 3) 2 km/hr  
2 किमी./घंटा
- 4) 10 km/hr  
10 किमी./घंटा

**Correct Answer:** 2.5 km/hr

2.5 किमी./घंटा

2.5 किमी./घंटा

**QID : 241** - How many of the following numbers are divisible by 32?

**192, 1008, 832, 656, 1264, 1822**

निम्नांकित में से कितनी संख्याएँ 32 से विभाज्य हैं?

**192, 1008, 832, 656, 1264, 1822**

**Options:**

- 1) 2
- 2) 3

3) 4

4) 5

**Correct Answer:** 2

**QID : 242** - Price of a house came down by 10% during recession. After one year, the price increased by 15%. What was the effective percentage change over the original price?

मंदी के दौरान एक घर की कीमत 10% कम हो गई। एक साल बाद कीमत में 15% की वृद्धि हुई। घर के मूल कीमत में कितने प्रतिशत का बदलाव हुआ?

**Options:**

- 1) 5%
- 2) 8%
- 3) 3.5%
- 4) 4.5%

**Correct Answer:** 3.5%

**QID : 243** - A shopkeeper buys a dozen umbrella for Rs 1200. Two of the umbrellas were damaged during transportation. Find his profit percentage, if he sells rest of the umbrellas at Rs 150 each?

एक दुकानदार एक दर्जन छाते 1200 रु में खरीदता है। दो छाते टूलाई के दौरान टूट गए। अब अगर दुकानदार प्रति छाता 150 रु में बेचता है, तो उसका लाभ प्रतिशत ज्ञात करें।

**Options:**

- 1) 20%
- 2) 15%
- 3) 25%
- 4) 10%

**Correct Answer:** 25%

**QID : 244** - Rahul does complete a work in 25 hours. If Rajesh is 25% more efficient than Rahul then how much hours will Rajesh take to complete the same work?

राहुल एक काम को 25 घंटे में पूरा करता है। यदि राजेश, राहुल से 25% अधिक कार्य कुशल है तो राजेश उस काम को पूरा करने के लिए कितने घंटे लेता है?

**Options:**

- 1) 20 hrs  
20 घंटे
- 2) 30 hrs  
30 घंटे
- 3) 21 hrs  
21 घंटे
- 4) 22 hrs  
22 घंटे

**Correct Answer:** 20 hrs

20 घंटे

**QID : 245** - If Rs 1638 is divided in the ratio of 8:7:11 among A, B and C respectively, what will be the share of C?

अगर 1638 रु को A, B तथा C के बीच 8:7:11 के अनुपात में विभाजित किया जाता है, तो C का हिस्सा क्या होगा?

**Options:**

- 1) Rs 693

693 रु

2) Rs 504

504 रु

3) Rs 593

593 रु

4) Rs 441

441 रु

**Correct Answer:** Rs 693

693 रु

**QID : 246** - The largest 5-digit number divisible by 21 is \_\_\_\_\_.

21 से विभाज्य होने वाली 5 अंकों की सबसे बड़ी संख्या

\_\_\_\_\_ है।

**Options:**

1) 99981

2) 9988

3) 9991

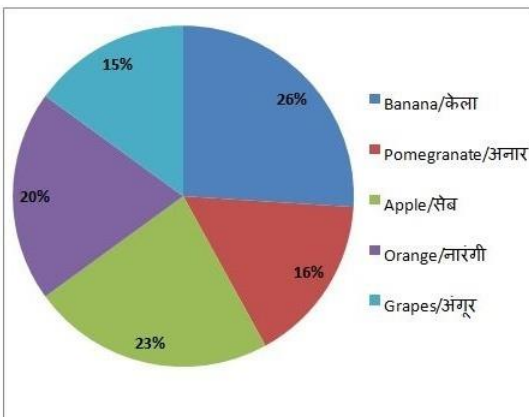
4) 9993

**Correct Answer:** 99981

**QID : 247** -

A household spend 20 per cent of their monthly food expenses on fruits. If the monthly food expense of the family is Rs 7500, answer the following questions on the basis of pie chart showing the share of expenses on different fruits in a particular month.

एक घर में भोजन पर हुए मासिक खर्च का 20% फलों पर व्यय होता है। अगर घर के भोजन पर मासिक खर्च 7500 रुपये है, तो निम्नलिखित प्रश्न का उत्तर पाई चार्ट में दर्शाए गए विभिन्न फलों पर व्यय के हिस्सों से संबंधित आंकड़ों के आधार पर दें।



What is the amount spent on apple in the particular month?

किसी माह विशेष में सेब पर कितना खर्च हुआ?

**Options:**

1) Rs 345

345 रु

2) Rs 360

360 रु

3) Rs 375

375 रु

4) Rs 355

355 रु

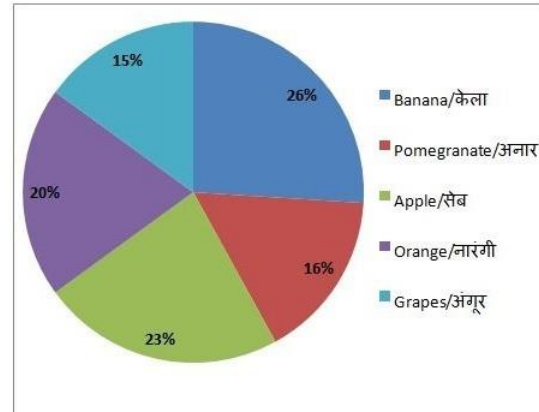
**Correct Answer:** Rs 345

345 रु

**QID : 248** -

A household spend 20 per cent of their monthly food expenses on fruits. If the monthly food expense of the family is Rs 7500, answer the following questions on the basis of pie chart showing the share of expenses on different fruits in a particular month.

एक घर में भोजन पर हुए मासिक खर्च का 20% फलों पर व्यय होता है। अगर घर के भोजन पर मासिक खर्च 7500 रुपये है, तो निम्नलिखित प्रश्न का उत्तर पाई चार्ट में दर्शाए गए विभिन्न फलों पर व्यय के हिस्सों से संबंधित आंकड़ों के आधार पर दें।



How much more amount is spent on Banana than Orange?

नारंगी की अपेक्षा केले पर कितना अधिक व्यय हुआ?

**Options:**

1) Rs 120

120 रु

2) Rs 90

90 रु

3) Rs 300

300 रु

4) Rs 900

900 रु

**Correct Answer:** Rs 90

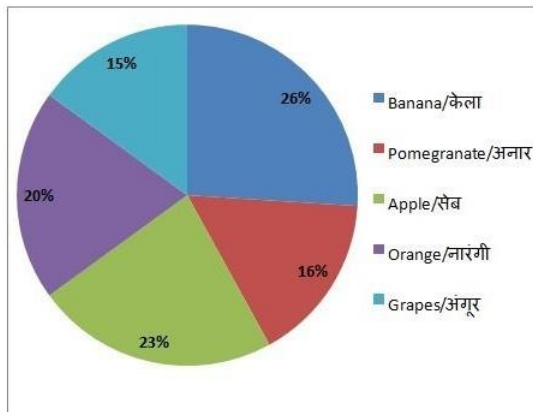
90 रु

**QID : 249** -



A household spend 20 per cent of their monthly food expenses on fruits. If the monthly food expense of the family is Rs 7500, answer the following questions on the basis of pie chart showing the share of expenses on different fruits in a particular month.

एक घर में भोजन पर हुए मासिक खर्च का 20% फलों पर व्यय होता है। अगर घर के भोजन पर मासिक खर्च 7500 रुपये है, तो निम्नलिखित प्रश्न का उत्तर पाई चार्ट में दर्शाए गए विभिन्न फलों पर व्यय के हिस्सों से संबंधित आंकड़ों के आधार पर दें।



What is the ratio of amount spent on Orange and Grapes?

नारंगी और अंगूर पर खर्च की गई राशि का अनुपात क्या है?

**Options:**

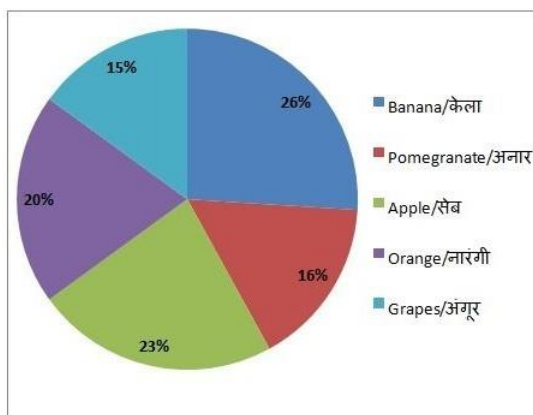
- 1) 4/3
- 2) 7/3
- 3) 15/4
- 4) 20/3

**Correct Answer:** 4/3

**QID : 250 -**

A household spend 20 per cent of their monthly food expenses on fruits. If the monthly food expense of the family is Rs 7500, answer the following questions on the basis of pie chart showing the share of expenses on different fruits in a particular month.

एक घर में भोजन पर हुए मासिक खर्च का 20% फलों पर व्यय होता है। अगर घर के भोजन पर मासिक खर्च 7500 रुपये है, तो निम्नलिखित प्रश्न का उत्तर पाई चार्ट में दर्शाए गए विभिन्न फलों पर व्यय के हिस्सों से संबंधित आंकड़ों के आधार पर दें।



The amount spent on Pomegranate is how much less than spent on Orange?

अनार पर खर्च की गई राशि नारंगी पर खर्च की गई राशि से कितनी कम है?

**Options:**

- 1) Rs 80

80 रु

2) Rs 75

75 रु

3) Rs 20

20 रु

4) Rs 60

60 रु

**Correct Answer:** Rs 60

60 रु

**QID : 251 -** In the following question, some part of the sentence may have errors. Find out which part of the sentence has an error and select the appropriate option. If a sentence is free from error, select 'No error'.

A petty dispute between a police constable (1)/ and a motorcycle-borne couple late last night lead (2)/ to clashes between the locals and the police (3)/ No Error (4)

**Options:**

1) 1

2) 2

3) 3

4) 4

**Correct Answer:** 2

**QID : 252 -** In the following question, some part of the sentence may have errors. Find out which part of the sentence has an error and select the appropriate option. If a sentence is free from error, select 'No Error'.

Residents from nearby areas came out to (1)/ protest against the police and a verbal spat turned into a (2)/ full-fledged clash amongst cops and the protesters (3)/ No Error (4)

**Options:**

1) 1

2) 2

3) 3

4) 4

**Correct Answer:** 3

**QID : 253 -** In the following question, the sentence given with blank to be filled in with an appropriate word. Select the correct alternative out of the four and indicate it by selecting the appropriate option.

Rohan stood \_\_\_\_\_ the crowd quite amazed.

**Options:**

1) in

2) from

3) for

4) into

**Correct Answer:** in

**QID : 254 -** In the following question, the sentence given with blank to be filled in with an appropriate word. Select the correct alternative out of the four and indicate it by selecting the appropriate option.

This is Ritika's lunchbox, \_\_\_\_\_ is the empty one.

<="" td="" style="user-select: auto !important;">

**Options:**

1) yours

- 2) your
- 3) you
- 4) yourselves

**Correct Answer:** yours

**QID : 255** - In the following question, out of the given four alternatives, select the one which best expresses the meaning of the given word.

**Allure**

<="" td="" style="user-select: auto !important;">

**Options:**

- 1) Attract
- 2) Prevent
- 3) Warn
- 4) Deter

**Correct Answer:** Attract

**QID : 256** - In the following question, out of the given four alternatives, select the one which best expresses the meaning of the given word.

**Colloquial**

<="" td="" style="user-select: auto !important;">

**Options:**

- 1) Correct
- 2) Formal
- 3) Familiar
- 4) Standard

**Correct Answer:** Familiar

**QID : 257** - In the following question, out of the given four alternatives, select the one which best expresses the meaning of the given word.

**Contemplate**

<="" td="" style="user-select: auto !important;">

**Options:**

- 1) Discard
- 2) Neglect
- 3) Design
- 4) Forget

**Correct Answer:** Design

**QID : 258** - In the following question, out of the given four alternatives, select the one which is opposite in meaning of the given word.

**Judicious**

<="" td="" style="user-select: auto !important;">

**Options:**

- 1) Acute
- 2) Rash
- 3) Careful
- 4) Wise

**Correct Answer:** Rash

**QID : 259** - In the following question, out of the given four alternatives, select the one which is opposite in meaning of the given word.

**Cite**

<="" td="" style="user-select: auto !important;">

**Options:**

- 1) Present
- 2) Offer
- 3) Forget
- 4) Allege

**Correct Answer:** Forget

**QID : 260** - In the following question, out of the given four alternatives, select the one which is opposite in meaning of the given word.

**Clash**

<="" td="" style="user-select: auto !important;">

**Options:**

- 1) Battle
- 2) Argument
- 3) Brush
- 4) Harmony

**Correct Answer:** Harmony

**QID : 261** - In the following question, out of the four given alternatives, select the alternative which best expresses the meaning of the Idiom/Phrase.

**Kick the bucket**

**Options:**

- 1) To abuse someone
- 2) To emphasise
- 3) To die
- 4) To turn pale

**Correct Answer:** To die

**QID : 262** - In the following question, out of the four given alternatives, select the alternative which best expresses the meaning of the Idiom/Phrase.

**Bear the palm**

<="" td="" style="user-select: auto !important;">

**Options:**

- 1) To win
- 2) Emotionless
- 3) In disgrace
- 4) With a heavy heart

**Correct Answer:** To win

**QID : 263** - Improve the bracketed part of the sentence.

As Ministers, their mandate (**was be to**) single-mindedly focus on results without having to worry about reporting to a career politician.

<="" td="" style="user-select: auto !important;">

**Options:**

- 1) will be to
- 2) willing be to
- 3) must to
- 4) No improvement

**Correct Answer:** will be to

**QID : 264** - Improve the bracketed part of the sentence.

But the choices (**is also an**) indication of the small talent pool before Mr. Modi.

<="" td="" style="user-select: auto !important;">

**Options:**

- 1) might also an
- 2) are also an
- 3) can also an
- 4) No improvement

**Correct Answer:** are also an

**QID : 265** - In the following question, out of the four given alternatives, select the alternative which is the best substitute of the phrase.

**Gold and silver before using for manufacturing ornaments**

**Options:**

- 1) Stones
- 2) Bullion
- 3) Currency
- 4) Money

**Correct Answer:** Bullion

**QID : 266** - In the following question, out of the four given alternatives, select the alternative which is the best substitute of the phrase.

**Anything tending to move away from center**

**Options:**

- 1) Centrifugal
- 2) Centripetal
- 3) Centripede
- 4) Circumcentre

**Correct Answer:** Centrifugal

**QID : 267** - In the following question, a word has been written in four different ways out of which only one is correctly spelt. Select the correctly spelt word.

**Options:**

- 1) Accorate
- 2) Accuerate
- 3) Acurrate
- 4) Accurate

**Correct Answer:** Accurate

**QID : 268** - In the following question, a word has been written in four different ways out of which only one is correctly spelt. Select the correctly spelt word.

**Options:**

- 1) Adequate
- 2) Adecute
- 3) Adequate
- 4) Edequate

**Correct Answer:** Adequate

**QID : 269** - Rearrange the parts of the sentence in correct order.

Activities in the

**P:** guided by the motive

**Q:** private sector are

**R:** to earn profits

**Options:**

- 1) QRP
- 2) RPQ
- 3) PQR
- 4) QPR

**Correct Answer:** QPR

**QID : 270** - Rearrange the parts of the sentence in correct order.

Rohan and Ranjan

**P:** about the terms

**Q:** had finished reading

**R:** of credit in class

**Options:**

- 1) PQR
- 2) QPR
- 3) RPQ
- 4) PRQ

**Correct Answer:** QPR

**QID : 271** - In the following passage some of the words have been left out. Read the passage carefully and select the correct answer for the given blank out of the four alternatives.

The history of the development of religion shows that as mankind moves from the \_\_\_\_\_ isolated village towards large, complex, \_\_\_\_\_, industrialised society the character of the influence of religion on a man and his life changes. In the earlier phases of religion the \_\_\_\_\_ needs of mankind, those concerned with the necessities of life, played a dominant part. As man's knowledge of natural forces \_\_\_\_\_, he learns to control them by natural methods, that is, by a detailed scrutiny of their causes and \_\_\_\_\_.

**mankind moves from the \_\_\_\_\_ isolated**

**Options:**

- 1) small
- 2) large
- 3) immense
- 4) big

**Correct Answer:** small

**QID : 272** - In the following passage some of the words have been left out. Read the passage carefully and select the correct answer for the given blank out of the four alternatives.

The history of the development of religion shows that as mankind moves from the \_\_\_\_\_ isolated village towards large, complex, \_\_\_\_\_, industrialised society the character of the influence of religion on a man and his life changes. In the earlier phases of religion the \_\_\_\_\_ needs of mankind, those concerned with the necessities of life, played a dominant part. As man's knowledge of natural forces \_\_\_\_\_, he learns to control them by natural methods, that is, by a detailed scrutiny of their causes and \_\_\_\_\_.

**, complex, \_\_\_\_\_, industrialised**

**Options:**

- 1) rural
- 2) urban
- 3) uncivilised
- 4) destitute

**Correct Answer:** urban

**QID : 273** - In the following passage some of the words have been left out. Read the passage carefully and select the correct answer for the given blank out of the four alternatives.

The history of the development of religion shows that as mankind moves from the \_\_\_\_\_ isolated village towards large, complex, \_\_\_\_\_, industrialised society the character of the influence of religion on a man and his

life changes. In the earlier phases of religion the \_\_\_\_\_ needs of mankind, those concerned with the necessities of life, played a dominant part. As man's knowledge of natural forces \_\_\_\_\_, he learns to control them by natural methods, that is, by a detailed scrutiny of their causes and \_\_\_\_\_.

**religion the \_\_\_\_\_ needs of mankind,**

**Options:**

- 1) secondary
- 2) collateral
- 3) primary
- 4) higher

**Correct Answer:** primary

**QID : 274** - In the following passage some of the words have been left out. Read the passage carefully and select the correct answer for the given blank out of the four alternatives.

The history of the development of religion shows that as mankind moves from the \_\_\_\_\_ isolated village towards large, complex, \_\_\_\_\_, industrialised society the character of the influence of religion on a man and his life changes. In the earlier phases of religion the \_\_\_\_\_ needs of mankind, those concerned with the necessities of life, played a dominant part. As man's knowledge of natural forces \_\_\_\_\_, he learns to control them by natural methods, that is, by a detailed scrutiny of their causes and \_\_\_\_\_.

**natural forces \_\_\_\_\_,**

**Options:**

- 1) shrinks
- 2) deteriorates
- 3) drops
- 4) grows

**Correct Answer:** grows

**QID : 275** - In the following passage some of the words have been left out. Read the passage carefully and select the correct answer for the given blank out of the four alternatives.

The history of the development of religion shows that as mankind moves from the \_\_\_\_\_ isolated village towards large, complex, \_\_\_\_\_, industrialised society the character of the influence of religion on a man and his life changes. In the earlier phases of religion the \_\_\_\_\_ needs of mankind, those concerned with the necessities of life, played a dominant part. As man's knowledge of natural forces \_\_\_\_\_, he learns to control them by natural methods, that is, by a detailed scrutiny of their causes and \_\_\_\_\_.

**scrutiny of their causes and \_\_\_\_\_.**

**Options:**

- 1) symposiums
- 2) origins
- 3) summons
- 4) destructions

**Correct Answer:** origins

**QID : 276** - To grow more than one crop on a piece of land during the year is known as \_\_\_\_\_.

वर्ष के दौरान भूमि के एक टुकड़े पर एक से अधिक फसल उगाने की प्रक्रिया को \_\_\_\_\_ के रूप में जाना जाता है।

**Options:**

- 1) inter cropping  
अंतर शस्यावर्तन
- 2) multiple cropping  
एकाधिक शस्यावर्तन
- 3) mixed cropping  
मिश्रित शस्यावर्तन

4) No option is correct  
कोई भी विकल्प सही नहीं है।

**Correct Answer:** multiple cropping  
एकाधिक शस्यावर्तन

**QID : 277** - In India, what is the accepted average calories requirement per person per day in rural areas? भारत के ग्रामीण इलाकों के लिए प्रति दिन प्रति व्यक्ति स्वीकृत औसत कैलोरी कितनी है?

**Options:**

- 1) 2100
- 2) 2200
- 3) 2300
- 4) 2400

**Correct Answer:** 2400

**QID : 278** - Who one of the following appoints the Judges of the Supreme Court of India? भारत के सर्वोच्च न्यायालय के न्यायाधीशों को कौन नियुक्त करते हैं?

**Options:**

- 1) Prime Minister  
प्रधानमंत्री
- 2) Chief Justice of Supreme Court  
उच्चतम न्यायालय के मुख्य न्यायाधीश
- 3) Vice President  
उप राष्ट्रपति
- 4) President  
राष्ट्रपति

**Correct Answer:** President  
राष्ट्रपति

**QID : 279** - For whom are the Fundamental Duties mentioned in the Indian Constitution? भारतीय संविधान में उल्लिखित मौलिक कर्तव्य किसके लिए हैं?

**Options:**

- 1) For Government employees  
सरकारी कर्मचारियों के लिए
- 2) For all citizens  
सभी नागरिकों के लिए
- 3) For all the senior citizens  
सभी वरिष्ठ नागरिकों के लिए
- 4) No option is correct

कोई भी विकल्प सही नहीं है।

**Correct Answer:** For all citizens  
सभी नागरिकों के लिए

**QID : 280** - Which one of the following places of Indus Valley Civilization was situated on the bank of Luni River?  
सिंधु घाटी सभ्यता के निम्नलिखित स्थानों में से कौन सा एक स्थान लूनी नदी के किनारे पर स्थित था?

**Options:**

- 1) Dholavira  
धौलावीरा
- 2) Mohenjodaro  
मोहनजोदड़ो
- 3) Chanhudaro  
चन्हूदड़ो
- 4) Harappa  
हड़प्पा

**Correct Answer:** Dholavira  
धौलावीरा

**QID : 281** - Who among the following has written 'Satyarth Prakash'?  
निम्नलिखित में से 'सत्यार्थ प्रकाश' किसने लिखा था?

**Options:**

- 1) Lala Lajpat Rai  
लाला लाजपत राय
- 2) Dayanand Saraswati  
दयानंद सरस्वती
- 3) Raja Ram Mohan Roy  
राजा राम मोहन रॉय
- 4) Lokmanya Tilak  
लोकमान्य तिलक

**Correct Answer:** Dayanand Saraswati  
दयानंद सरस्वती

**QID : 282** - Which one of the following landscapes is NOT formed by the sea-water?

निम्नलिखित में से कौन-सा एक भूदृश्य समुद्री जल से नहीं बनता है?

**Options:**

- 1) Lagoon  
खाड़ी
- 2) Kayal  
कयाल
- 3) Cirque  
सर्क
- 4) Beach  
बीच

**Correct Answer:** Cirque  
सर्क

**QID : 283** - To which of the following projects is the Narmada Bachao Andolan related?

नर्मदा बचाओ आंदोलन निम्नलिखित से किस परियोजना से संबंधित है?

**Options:**

- 1) Sardar Sarovar  
सरदार सरोवर
- 2) Bhakra Nangal  
भाखड़ा नांगल
- 3) Rihand  
रिहंद
- 4) Tehri  
टिहरी

**Correct Answer:** Sardar Sarovar  
सरदार सरोवर

**QID : 284** - What is fundamental function of Centriole in a cell?

किसी कोशिका में सेंट्रीओल का मौलिक कार्य क्या है?

**Options:**

- 1) Protein synthesis  
प्रोटीन संश्लेषण
- 2) nucleolus formation  
न्यूक्लियोलस का निर्माण
- 3) cell-wall formation  
कोशिका-भित्ति का निर्माण
- 4) cell division initiation  
कोशिका विभाजन में सहायता

**Correct Answer:** cell division initiation  
कोशिका विभाजन में सहायता

**QID : 285** - Bone in most of big animals is an example of which of the following tissues?

अधिकांश बड़े जानवरों की अस्थियों में कौन सा एक उतक पाया जाता है?

**Options:**

- 1) Muscular tissues  
पेशी ऊतक
- 2) Connective tissues  
संयोजी ऊतक
- 3) Epithelial tissues  
उपकला ऊतक
- 4) Nervous tissues  
तंत्रिका ऊतक

**Correct Answer:** Connective tissues  
संयोजी ऊतक

**QID : 286** - Ascaris, a kind of worm, lives in which part of the human body?

एस्केरिस, एक प्रकार की कृमि, मानव शरीर के किस हिस्से में रहती है?

**Options:**

- 1) Small intestine  
छोटी आंत
- 2) Large intestine  
बड़ी आंत

3) Kidneys

गुर्दे

4) Liver

जिगर

**Correct Answer:** Small intestine

छोटी आंत

**QID : 287** - What is the value of acceleration due to gravity of the surface of the Earth?

गुरुत्वकर्षण बल के कारण धरती के सतह पर त्वरण मान क्या है?

**Options:**

1)  $2 \text{ m/s}^2$

2 मी/वर्ग सेकेण्ड

2)  $4.9 \text{ m/s}^2$

4.9 मी/वर्ग सेकेण्ड

3)  $9.8 \text{ m/s}^2$

9.8 मी/वर्ग सेकेण्ड

4)  $8 \text{ m/s}^2$

8 मी/वर्ग सेकेण्ड

**Correct Answer:**  $9.8 \text{ m/s}^2$

9.8 मी/वर्ग सेकेण्ड

**QID : 288** - In which of the following mediums, speed of the sound will be maximum?

निम्नलिखित में से किस माध्यम में ध्वनि की गति सबसे

अधिक होगी?

**Options:**

1) Air

वायु

2) Water

जल

3) Steel

इस्पात

4) Kerosene

मिट्टी तेल

**Correct Answer:** Steel

इस्पात

इस्पात

**QID : 289** - One TB approximately comprises or occupies which of the following data or space size?

एक टीबी लगभग निम्नलिखित में से कितना डाटा या स्थान धारित करता है.

**Options:**

1) 1000 KB

1000 केबी

2) 1024 MB

1024 एमबी

3) 1024 GB

1024 जीबी

4) 1000 GB

1000 जीबी

**Correct Answer:** 1000 GB

1000 जीबी

1024 जीबी

**QID : 290** - Which of the following is a heterogeneous mixture?

निम्नलिखित में से कौन सा एक विषमांगी मिश्रण है?

**Options:**

1) Air

वायु

2) Brass

पीतल

3) Vinegar

सिरका

4) Lime water

चूना-मिश्रित पानी

**Correct Answer:** Lime water

चूना-मिश्रित पानी

चूना-मिश्रित पानी

**QID : 291** - Which one of the following metals is found in liquid state at room temperature?

नीचे दिए गए धातुओं में से कौन सी एक धातु कमरे के

सामान्य तापमान पर द्रव अवस्था में पायी जाती है?

**Options:**

1) Potassium

पोटेशियम

2) Sodium

सोडियम

3) Mercury

पारा

4) Aluminium

अल्युमीनियम

**Correct Answer:** Mercury

पारा

पारा

**QID : 292** - Where are the mangrove forests mainly found in India?

भारत में मैन्ग्रोव वन मुख्यतः कहाँ पाए जाते हैं?

**Options:**

1) Kaziranga National Park

काजीरंगा राष्ट्रीय उद्यान

2) Western Ghats

पश्चिमी घाट

3) Sunderban Delta

सुंदरबन डेल्टा

4) Bhakhra Nangal Dam

भाखड़ा नंगल बांध

**Correct Answer:** Sunderban Delta

सुंदरबन डेल्टा

**QID : 293** - In which of the following years "Vande Mataram Scheme" was launched?

"वंदे मातरम योजना" की शुरुआत निम्नलिखित में से किस वर्ष हुई थी?

**Options:**

- 1) 2002
- 2) 2004
- 3) 2006
- 4) 2008

**Correct Answer:** 2004

**QID : 294** - Who among the following scientist invented the Stainless Steel?

स्टेनलेस स्टील का आविष्कार निम्नलिखित में से किस वैज्ञानिक ने किया?

**Options:**

- 1) Alexander Graham Bell  
अलेक्जेंडर ग्राहम बेल
- 2) Mendeleev  
मेंडलीव
- 3) Max Plank  
मैक्स प्लैंक
- 4) Harry Brearley  
हैरी ब्रैली

**Correct Answer:** Harry Brearley  
हैरी ब्रैली

**QID : 295** - Which sport is Tour de France associated with?

कौन सा खेल टूर डी फ्रांस से जुड़ा है?

**Options:**

- 1) Football  
फुटबॉल
- 2) Golf  
गोल्फ
- 3) Tennis  
टेनिस
- 4) Bicycle Race  
साइकिल दौड़

**Correct Answer:** Bicycle Race  
साइकिल दौड़

**QID : 296** - Which of the following classical dance form relates to Tamil Nadu?

निम्नलिखित में से कौन सा शास्त्रीय नृत्य तमिलनाडु से संबंधित है?

**Options:**

- 1) Kathakali  
कथकली
- 2) Bharatanatyam  
भरतनाट्यम
- 3) Kuchipudi  
कुचिपुड़ी
- 4) No option is correct.  
कोई भी विकल्प सही नहीं है।

**Correct Answer:** Bharatanatyam  
भरतनाट्यम

**QID : 297** - Which of the following state confers "Mewar Award"?

"मेवार सम्मान" निम्नलिखित में से किस राज्य द्वारा प्रदान किया जाता है?

**Options:**

- 1) Haryana  
हरियाणा
- 2) Punjab  
पंजाब
- 3) Rajasthan  
राजस्थान
- 4) Delhi  
दिल्ली

**Correct Answer:** Rajasthan  
राजस्थान

**QID : 298** - Who wrote the famous book - "We the people"?

"हम लोग" नामक प्रसिद्ध पुस्तक किसने लिखी है?

**Options:**

- 1) Khushwant Singh  
खुशवंत सिंह
- 2) Nani A. Palkhivala  
ननी ए. पालकीवाला
- 3) T.N.Kaul  
टी.एन. कौल
- 4) J.R.D. Tata  
जे.आर.डी. टाटा

**Correct Answer:** Nani A. Palkhivala  
ननी ए. पालकीवाला

**QID : 299** - Which of one the following country is a permanent member of UN Security Council?

निम्नलिखित में से कौन सा देश संयुक्त राष्ट्र सुरक्षा परिषद का स्थायी सदस्य है?

**Options:**

- 1) Brazil  
ब्राजील
- 2) China  
चीन
- 3) Japan  
जापान
- 4) India  
भारत

**Correct Answer:** China  
चीन

**QID : 300** - What is the official language of Bhutan?

भूटान की आधिकारिक भाषा क्या है?

**Options:**

- 1) Dzongkha

जॉगखा

2) Gorkha

गोरखा

3) Bhutanese

भूटानी

4) Assamese

असमिया

**Correct Answer:** Dzongkha

जॉगखा